

## KARAGÖZ VE BİLMECE



Hacivat : Karagöz , sen bilmece bilir misin ?  
Karagöz : Elbette bilirim. Söyle bilmeceni al cevabını.  
Hacivat : Bir ufacak fıçıcık , içi dolu turşucuk.  
Karagöz : Bildim , turşu fıçası.  
Hacivat : Bilemedin Karagöz.  
Karagöz : Lahana turşusu , biber turşusu.  
Hacivat : Karagöz'üm bilmeceye cevap vereceğin zaman ,  
"Canlı mı cansız mı , yenir mi yenmez mi ?" diye sorulur.  
Karagöz : Canlı mı cansız mı , yenir mi yenmez mi ?  
Hacivat : Yenir ama canı yok. Dertlilere deva , hastalara şifa.

Karagöz : Verin şuna beş on para...

Hacivat : Ne diyorsun, Karagöz ?

Karagöz : Sen dilenci duası yapıyorsun. Ben de yardım ediyorum.

Hacivat : Aman Karagöz , şakayı bırak. Bilmecenin cevabını ver.

Çorbaya ne sıkılır ?

Karagöz : Bildim, kaşık sıkılır.

Hacivat : Kaşıkla çorba içilir.

Karagöz : O zaman tuz ya da biber sıkılır.

Hacivat : Bilemedin Karagöz. Ben vereyim bilmecenin cevabını.

Limonu cevap.

Karagöz : Aman Hacivat. Bunu kim bilmez ? Minik çocuklar bile bilir. Ben sana küçük bir şaka yaptım.



Cemal TÜRKMEN (Karagöz'ün Öğüdü)

❖ Aşağıdaki soruları metne göre cevaplayınız.

1- Hacivat'ın sorduğu bilmeceyi yazınız.

Bir ufacak fıçıcık , içi dolu turşucuk.

2- Karagöz bilmeceye doğru cevap veriyor mu ?

Hayır , doğru cevap vermiyor.

3- Karagöz, bilmecenin cevabını gerçekten bilmiyor mu ?

Cevabı biliyor . Ama söylemiyor.

4- Karagöz , neden bildiği halde bilmecenin cevabını vermiyor ?

Çünkü Hacivat'a şaka yapıyor.

### Araştıralım



Milli kültürümüzde gölge oyunu adında bir tür vardır. Karagöz ve Hacivat da en ünlü gölge oyunumuzdur. Gölge oyunun nasıl oynatıldığını yazınız.

Önceden hazırlanan kuklaları alan gölge oyunu sanatçısı , bir perdenin arkasına geçer. Perdeye ışık yansıtılır. Sanatçı çubuklar ile kuklaları oynatır ve seslendirir. Bu şekilde, perde arkasından bir canlandırma yapılır.

Kısaltmalar

❖ Aşağıdaki çocukların işaret ettikleri bölümleri inceleyiniz. İstedikleri bilgileri yazınız.

cm → santimetre

Cad. → Cadde

Apt. → Apartman

Sok. → Sokak

MÖ → Milattan Önce

TL → Türk Lirası

Verilen kısaltmaları , uzun şekilleri ile yazınız.



Gönderen → Gön.

Uzman Çavuş → Uz.Çvş.

Kuruş → Kr.

kilometre → km

Sayın → Sn.

Türkiye Cumhuriyeti → T.C.

Verilen kelimelerin kısaltmalarını yazınız.



❖ Kısaltmalara gelen ekleri inceleyiniz. Eklerin hatalı kullanıldığı cümleleri düzelterek alt taraflarındaki boşluklara yazınız. Doğru kullanılan cümlelerin atlarına ise "DOĞRU" yazınız.

Beş kg'den fazla mandalina alma.

Beş kg'dan fazla mandalina alma.

Bugün THY'nın uçşları başlıyor.

Bugün THY'nin uçşları başlıyor.

Akşam TRT'da konser var.

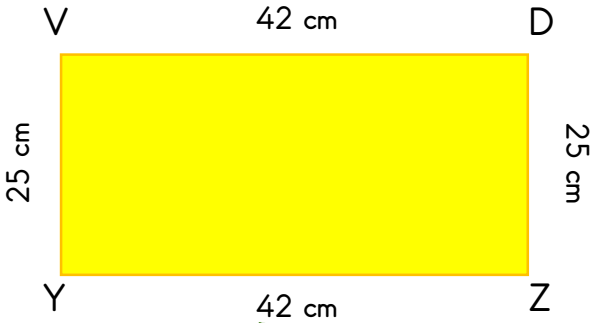
Akşam TRT'de konser var.

Bu binanın boyu 10 m'den fazladır.

DOĞRU

## Geometrik şekillerin kenar uzunlukları

❖ Geometrik şekillerin kenar uzunluklarını yazınız. Daha sonra ise sorulan soruları cevaplayınız.



$$|VY| = 25 \text{ cm}$$

$$|YZ| = 42 \text{ cm}$$

$$|ZD| = 25 \text{ cm}$$

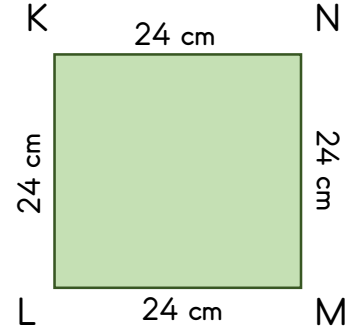



$$|VD| = 42 \text{ cm}$$

$$|VD| - |DZ| = 17 \text{ cm}$$

$$|YZ| + |VD| = 84 \text{ cm}$$

$$|VD| \times |YZ| = 1764 \text{ cm}$$

$$|VY| \times |DZ| = 625 \text{ cm}$$



$$|KN| = 24 \text{ cm}$$

$$|KL| = 24 \text{ cm}$$

$$|LM| = 24 \text{ cm}$$

$$|MN| = 24 \text{ cm}$$

$$|MN| - |KL| = 0 \text{ cm}$$

$$|KN| + |LM| = 48 \text{ cm}$$

$$|LK| \times |NM| = 576 \text{ cm}$$

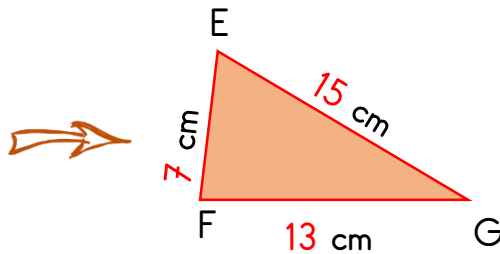
$$|ML| \times |NK| = 576 \text{ cm}$$

❖ Üçgenlerin kenar uzunluklarını şekillerin üzerine yazınız. Daha sonra sorulan soruları cevaplayınız.

$$|EG| = 15 \text{ cm}$$

$$|EF| = 7 \text{ cm}$$

$$|FG| = 13 \text{ cm}$$



$$|EG| + |EF| = 22 \text{ cm}$$

$$|EG| - |FG| = 2 \text{ cm}$$

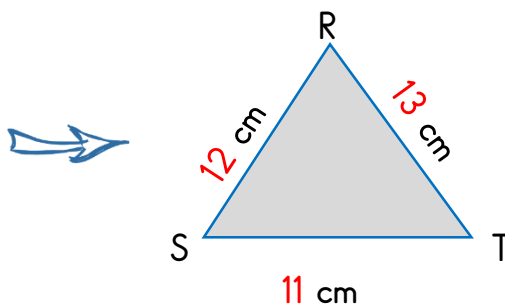
$$|EF| \times |FG| = 91 \text{ cm}$$

$$|FG| \times |EG| = 195 \text{ cm}$$

$$|RS| = 12 \text{ cm}$$

$$|RT| = 13 \text{ cm}$$

$$|ST| = 11 \text{ cm}$$



$$|RS| \times |RT| = 156 \text{ cm}$$

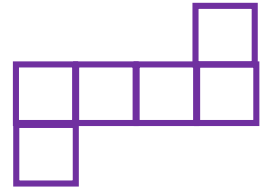
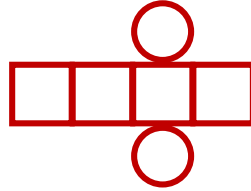
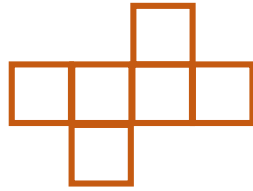
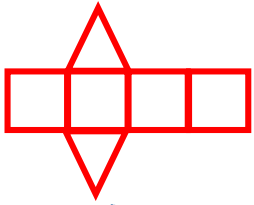

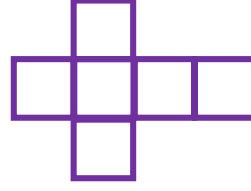

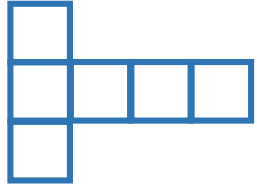
$$|RT| + |ST| = 24 \text{ cm}$$

$$|ST| \times |RT| = 143 \text{ cm}$$

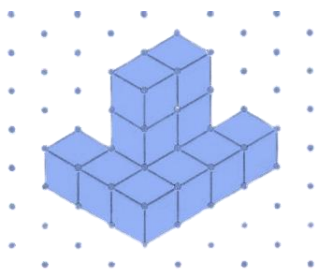
$$|RS| \times |ST| = 132 \text{ cm}$$

### KÜP ( Açılımı-Birim küpler )

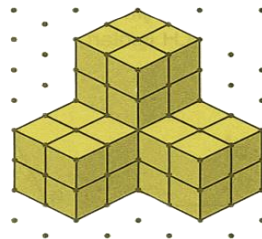
- ❖ Aşağıda geometrik cisimlerin açılımları verilmiştir. Bunlardan küp oluşturanların altına "küp oluşturur" yazınız. Oluşturmayanların altına ise "küp oluşturmaz" yazınız.



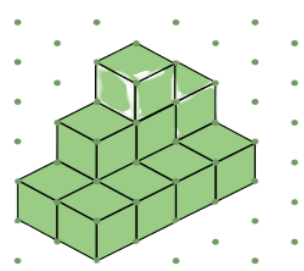
- ❖ İzometrik kağıtlar üzerine , birim küplerden oluşan yapılar çizilmiştir. Her yapının kaç birim küpten oluştuğunu bularak , altlarına yazınız.(Üç boyutlu düşününüz.Arka bölümde bulunan ve görünmeyen küpleri unutmayınız.)



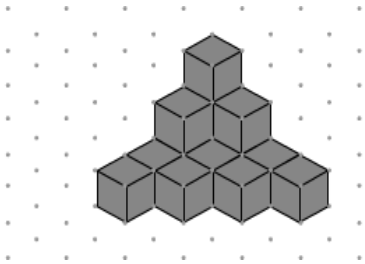
12 birim küp



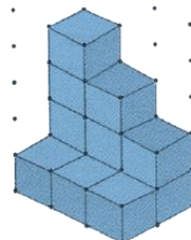
16 birim küp



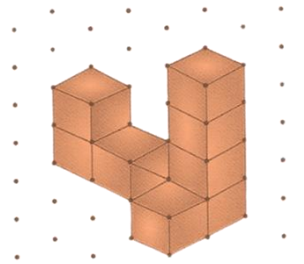
12 birim küp



14 birim küp



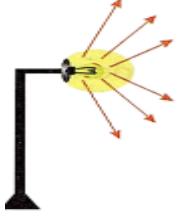
12 birim küp



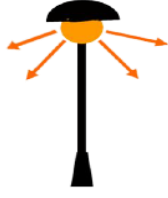
9 birim küp

## Doğru aydınlatma


❖ Aşağıdaki aydınlatma yöntemlerini inceleyiniz. Doğru aydınlatmaların altına "doğru", yanlış aydınlatmaların altına "yanlış" yazınız.




yanlış



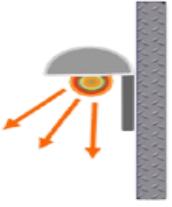
doğru



yanlış



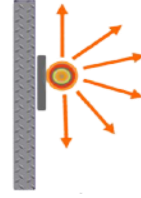
doğru




doğru



yanlış



yanlış



yanlış

❖ Bilgi ağacını inceleyiniz. Bilgi ağacında yer alan sözcükleri, gereken boşluklara yerleştiriniz.

Evimizde odalarımızı gereğinden fazla aydınlatmamız yanlıştır.

Gereğinden fazla veya gereğinden az ışık gözümüze zarar verir.

sol

Güneş

Sağ elle yazı yazan insanların, ışık sol tarafından gelmelidir.

Çıplak gözle Güneş'e bakmamalıyız.

karanlık

kirliliğine

gözümüze

Bilgisayarı karanlık ortamda kullanmamalıyız.

aydınlatmamız

gereksiz

Yanlış aydınlatma ışık kirliliğine yol açar.

Aydınlatmada gereksiz olan bölgeler aydınlatılmamalıdır.

## Bilinçli tüketici davranışları

❖ Aşağıdaki kelimeler ile boşlukları doldurunuz.

faturasını

Bozulacak

TSE

ihtiyaçları-  
mıza

reklamının

ambalajlı

kullanma

garanti

- ❖ Aldığımız ürünlerin belirli bir kalitede olmasını istiyorsak **TSE** belgeli ürünler almalıyız.
- ❖ Alışveriş listemizde ilk önce **ihtiyaçlarımıza** yer vermeliyiz.
- ❖ Yırtık ve yıpranmış **ambalajlı** ürünleri kesinlikle almamalıyız.
- ❖ Aldığımız ürünleri kullanmadan önce **kullanma** kılavuzunu okumalıyız.
- ❖ Teknolojik ürünler alırken **garanti** belgesini muhakkak almalıyız.
- ❖ Arızalı çıkan ürünleri değiştirebilmemiz için **faturasını** atmamalıyız.
- ❖ **Bozulacak** ürünleri alırken son kullanma tarihine bakmalıyız.
- ❖ Çok fazla **reklamının** yapılması , o ürünün kaliteli olduğunu göstermez.



❖ Aşağıda istenilen bilgileri , ilgili boşluklara yazınız. Örnek bölümüne üçer tane örnek yazınız.

Bilinçli tüketici



Nedir: Doğru satın alma yapabilen ve mantıklı alışveriş yapabilen tüketicidir.

Bilinçli tüketici davranışına 3 örnek veriniz.

- 1-TSE damgalı ürün almak.
- 2-İhtiyaçlara öncelik vermek.
- 3-Garantili ürün almak.

Bilinçli olmayan tüketici

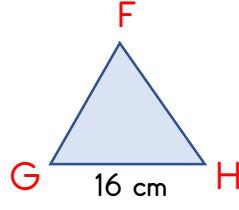
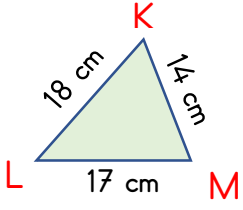


Nedir Doğru satın alma yapamayan ve mantıklı alışveriş yapamayan tüketicidir.

Bilinçsiz tüketici davranışına 3 örnek veriniz.

- 1-Amabalajlı yırtık ürün almak.
- 2-Faturayı atmamak.
- 3-Açıkta satılan yiyecekleri almak.

MİNİ TEST

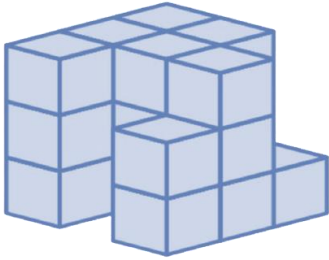


1- Yukarıda FGH üçgeni eşkenar bir üçgendir. İki üçgenin tüm kenarlarının toplam uzunluğu (iki üçgenin çevre uzunluklarının toplamı) kaç cm'dir ?

- A) 49 cm                      B) 48 cm  
 C) 97 cm                      D) 98 cm

2- Aşağıdakilerin hangisi küp oluşturur ?

- A)                       B)   
 C)                      D)



3- Yukarıdaki yapı kaç birim küpten oluşmuştur ?

- A) 21 tane                      B) 14 tane  
 C) 20 tane                      D) 22 tane

4- Aşağıdaki cümlelerin hangisinde kısaltma kullanılmamıştır ?

- A) Bugün Dr. Hasan Bey gelecek.  
 B) Ayşe'nin boyu 145 santimetre geldi.  
 C) Bursa ile Ankara'nın arası 390 km'dir.  
 D) Uz.Çvş. Ali Erbaş siz misiniz ?



5- Yukarıdaki kısaltmalarını yazarsak , sırasıyla hangi kısaltmaları yazmalıyız ?

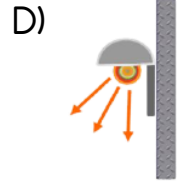
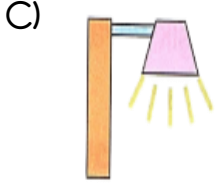
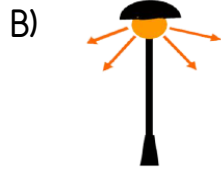
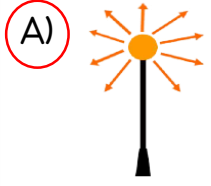
- A) Do. - Ap.                       B) Dr. - Apt.  
 C) Dr. - Apm.                      D) D. - A.

TCDD ' nın hızlı tren seferi başladı.

6- Yukarıdaki kısaltmaya ek getirilirken yanlışlık yapılmıştır. Bu yanlışlık nedir?

- A) Keme işaretinin konulması yanlıştır.  
 B) Ekin ayrı olarak yazılması yanlıştır.  
 C) nin eki gelmeliydi. nin ekinin getirilmesi yanlıştır.  
 D) Hiç ek gelmemeliydi. Ek getirilmesi yanlıştır.

7- Hangisi yanlış bir aydınlatmadır ?



Aydınlatma yapılırken ..... bölgeler aydınlatılmamalıdır.

8- Boş bırakılan yere hangisini yazabiliriz ?

- A) karanlık                      B) görünmeyen  
C) eski                              D) gereksiz

( ) Çıplak gözle Güneş'e bakmamalıyız.

( ) Sağ eliyle yazı yazan birinin çalışma masasındaki ışık sol taraftan gelmeli.

( ) Ne kadar çok ışık kullanırsak o kadar iyi aydınlanırız.

9- Yukarıdaki tümcelerın doğru olanlarının başına " D " ve yanlış olanlarının başına " Y " koyarsak, sonuç hangisi olur ?

- A) Y - D - D                      B) D - D - Y  
C) Y - D - Y                      D) D - D - D



10- Aşağıdakilerden hangisi TSE'nin açılımıdır ?


- A) Türk Sporı Sever  
B) Türk Sağlık Evi  
C) Türk Standardları Enstitüsü  
D) Türk Standartları Evi

11- Hangi ürünün son kullanma tarihi vardır ?


A)




B)



C)



D)



12- Bilinçli bir tüketici aşağıdakilerden hangisini yapmaz ?

- A) Elektronik ürünlerin garanti belgelerini alır.  
B) TSE damgalı ürünleri tercih eder.  
C) Bozulabilecek ürünlerin son kullanma tarihine bakar.  
D) Bir ürün alırken , en fazla reklamı yapılan ürünü alır.