

3. SINIF

2020/2021 EĞİTİM-ÖĞRETİM YILI
DENEME SINAVI

Ad Soyad:

Okul:

.....

Sınıf: No:



İLKOKULLUYUM

Deneme

Ad Soyad:.....
Sınıfı:.....
Numarası:.....



FİDAN DİKELİM

Orman haftasında okulda bir tören yaptık. Arkadaşlarımız ormanlarla ilgili bir gösteri hazırlamışlardı. Gösteriyi izlerken çok eğlendik. Ormanlarla ilgili yeni bilgiler öğrendik. Ormanları korumamız gerektiğini biliyorduk ama bunun yeterli olmadığını, yeni fidanlar dikerek ağaçları çoğaltmamız gerektiğini ve ağaçların faydalarını da öğrendik.

Sınıflara ayrıldık. Okulumuzun arkasındaki geniş alana fidan diktik. Onları suladık. Velilerin bizim için yaptıkları pastaları, börekleri yedik. Günümüzü çok eğlenceli ve dolu dolu geçirdik.

Doğaya yeni fidanlar kazandırmanın mutluluğunu yaşadık. Hep birlikte "tohumlar fidana" şarkısını söyleyerek evlere dağıldık.

(1, 2 ve 3. Soruları metne göre cevaplayınız.)

1. Veliler çocukların yemesi için hangi yiyecekleri hazırlamışlar?

- A. Sandviç ve ayran hazırlamışlar.
- B. Pasta ve börek hazırlamışlar.
- C. Köfte ekme ve ayran hazırlamışlar.

2. Günün sonunda hep birlikte hangi şarkıyı söylemişler?

- A. Doğayı sevelim.
- B. Tohum ve fidan ekelim.
- C. Tohumlar fidana.

3. Aşağıdakilerden hangisi bu metne uygun yeni bir başlık olamaz?

- A. Orman haftası
- B. Suyun önemi
- C. Ağaç dik mutlu ol



Öğretmenimiz sınıfa bir kutu ile geldi ve bu kutudaki gizli kelimeyi bulmamızı istedi.

Başladı ipuçlarını sıralamaya;

- Bu kutudaki kelime alfabemizin 24. harfiyle başlamaktadır.
- Bu kelimedeki ünlü ve ünsüz harf sayısı eşittir.
- Bu kelime sözlükte teneffüs kelimesinden sonra gelmektedir.

4. Sizce gizli kelime aşağıdakilerden hangisi olabilir?

- A. Tabaka
- B. Teneke
- C. Uçak



5. Aşağıdaki cümlelerin hangisinde noktalama işareti hatalı kullanılmıştır?

- A. En sevdiğim arkadaşlarım Atakan, Mert, ve Ufuk bize geldi.
 B. Heey! Sen bizimle gelmeyi düşünmüyor musun?
 C. Murat'ın kırmızı kalemini kim almış?



6. Yukarıdaki kelimelerin kaç tanesinde -tik hecesi vardır?

- A. 2 B. 3 C. 4

korumak - hepimizin - çevreyi - yaşadığımız - görevidir



7. Yukarıdaki kelimelerden anlamlı ve kurallı bir cümle oluşturduğumuzda aşağıdaki sıralamalardan hangisi oluşur?

- A. ● - ♥ - ▲ - ★ - ☆
 B. ● - ♥ - ☆ - ▲ - ★
 C. ● - ♥ - ▲ - ☆ - ★

Yazın sıcağın bunaldığımda yüz bardak dolusu su içesim gelir.

8. Yukarıdaki cümlede kaç tane sestesh kelime bulunmaktadır?

- A. 3 B. 4 C. 5

- I. Büyük çiftlikteki atları görmedin mi?
 II. Bu çöpleri yere omu atmış?
 III. Kitap okurken etrafını dinlemiyor musun?
 IV. En başarılı okul sizinki mi?

9. Yukarıdaki cümlelerin hangisinde " mi " soru eki hatalı kullanılmıştır?

- A. II B. III C. IV

- I. Kimi insanların dış görünüşü, kiminin de içi güzeldir.
 II. İhtiyar insanların yüzüne sen yaşlısın demek çok kaba bir davranıştır.
 III. Deneme sınavındaki bazı sorular çok uzun, bazıları da çok kısa olmuş.

10. Yukarıdaki cümlelerin hangilerinde zıt anlamlı kelimeler bir arada kullanılmamıştır?

- A. I B. II

C. III

11. Aşağıdaki cümlelerin hangisinde kesme işareti gereksiz kullanılmıştır?

- A. Abim Kadıköy'de iş yeri açacakmış.
- B. Hasan'ların nerede olduğunu bilen var mı?
- C. Murat'ın defterini yırtan sen misin?

Hafta sonu okulda açılan kursa katılmak için dilekçe verdim.

12. Yukarıdaki cümlede altı çizili kelime hangi sorunun cevabıdır?

- A. Ne?
- B. Nerede?
- C. Ne zaman?



13. Yukarıdaki görsel bize aşağıdaki kelimelerden hangisini çağrıştırmaz?

- A. Süt
- B. Yumurta
- C. Kanat

14. Aşağıdaki cümlelerin hangisinde çoğul ad sayısı daha fazladır?

- A. Ormanda yaşayan yılanlar, ayılar ve kaplanlar tehlikelidir.
- B. Kitaplar okunduktan sonra kitaplıktaki yerini alacaktır.
- C. Havalarda ısınınca kırlar piknikçilerle ve kuşlarla dolup taşıyor.

Dayım Ankara () İstanbul arasını üç saatte geldiğini söyledi () Annem () babam ve ben buna inanamadık ()

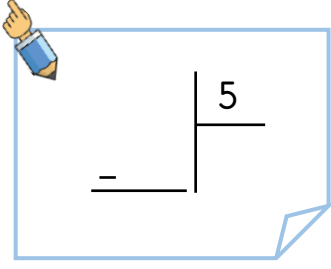
15. Yukarıda cümlede ayraçlarla gösterilen yerlere sırasıyla hangi noktalama işaretleri gelmelidir?

- A. (,) - (.) - (,) - (.)
- B. (-) - (,) - (,) - (.)
- C. (-) - (.) - (,) - (.)

Türkçe dersi sınavı bitti.

Matematik dersine geçiniz.



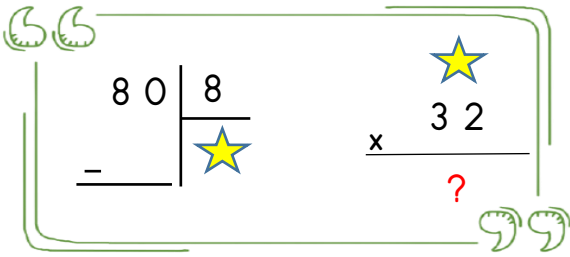


1. Yukarıdaki bölme işleminde kalan sayının alabileceği değerlerin toplamı kaçtır?

- A. 4 B. 8
C. 10

2. Murat hikâye kitabını günde 12 sayfa okuyarak bir haftada bitirdi. Murat'ın hikâye kitabının yarısı kaç sayfadır?

- A. 84 B. 42
C. 63



3. Yukarıdaki işlemlere göre ? yerine gelecek sayı kaçtır?

- A. 320 B. 188
C. 230

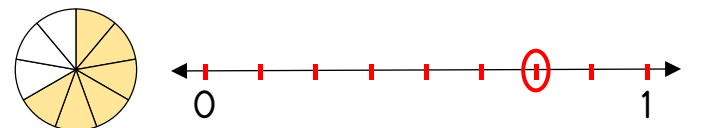
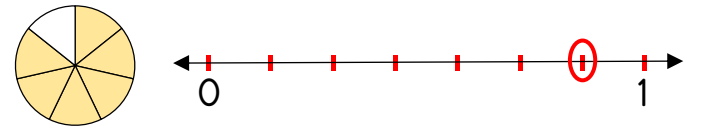
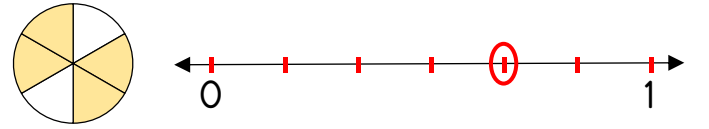
4. Salih'in yaşı babasının yaşının çeyreği kadardır. Babası 48 yaşında olduğuna göre Salih ve babasının yaşları toplamı kaçtır?

- A. 12 B. 60
C. 70



Nilay matematik sınavında aşağıdaki soruyu çözerken bir hata yapmış.


Soru: Aşağıda model üzerinde gösterilen kesirlerin karşılına sayı doğrusu ile gösterimlerini yapalım.



5. Nilay hangi kesrin sayı doğrusu ile gösteriminde hata yapmıştır?

- A. $\frac{6}{7}$ B. $\frac{6}{9}$
C. $\frac{4}{6}$





11. Yukarıda verilen işlem hangi bölme işleminin kontrolü olabilir?


A.
$$\begin{array}{r} 57 \overline{) 5} \\ \underline{} \\ \end{array}$$

B.
$$\begin{array}{r} 64 \overline{) 5} \\ \underline{} \\ \end{array}$$

C.
$$\begin{array}{r} 69 \overline{) 5} \\ \underline{} \\ \end{array}$$

12. 35 şekerin $\frac{1}{7}$ 'ini yiyen Zeynep geriye kalan şekerlerin yarısını da kardeşine verdi. Zeynep'in kaç tane şekeri kaldı?

- A. 30 B. 15 C. 45

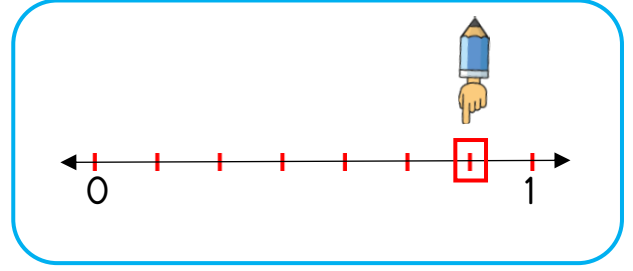


13. Yukarıdaki saatin dijital saatle gösterimi aşağıdakilerden hangisidir?

A. 01:35

B. 12:45

C. 12:35



14. Yukarıdaki sayı doğrusunda gösterilen kesir aşağıdakilerden hangisidir?

A. $\frac{6}{7}$

B. $\frac{5}{7}$

C. $\frac{5}{6}$

15. İstanbul - Ankara arası 443 kilometredir. Saatteki hızı 78 kilometre olan bir otomobil İstanbul'dan yola çıkarak 4 saat gitmiştir. Bu otomobilin Ankara'ya ulaşması için kaç kilometre daha gitmesi gerekir?

- A. 443 B. 312
C. 131

Matematik dersi sınavı bitti.

Fen Bilimleri dersine geçiniz.





I



II



III

1. Yukarıdaki görsellerin ifade ettiği hareket türleri hangi seçenekte doğru gösterilmiştir?

I.

II.

III.

- | | | | |
|----|----------|----------|----------|
| A. | Dönme | Sallanma | Sallanma |
| B. | Sallanma | Dönme | Dönme |
| C. | Dönme | Dönme | Sallanma |



Ali



Ayşe

2. Ali ambulansın sesinden rahatsız olurken Ayşe bu durumdan hiç etkilenmemiştir. Bunun nedeni aşağıdakilerden hangisidir?

- A. Sesin bir kaynaktan çıkıp her yönde yayılması.
 B. Ses kaynağından uzaklaştıkça sesin şiddetinin azalması.
 C. Ayşe'nin sesin kaynağına daha yakın olması.

- I. Bir ışık kaynağı cismi aydınlatır.
 II. Cisimden yansıyan ışık gözümüze ulaşır.

3. Yukarıda anlatılan olay aşağıdakilerden hangisidir?

- A. Görme olayı
 B. Sesin yayılması
 C. Işık kaynakları



Bitkiler nasıl doğurur?
 Koyun yumurtlayabilir mi?
 Tavuğun tohumu var mıdır?
 Bunların hepsi canlı değil miydi?



4. Zeynep'in canlıların çoğalması konusunda okudukları kafasını karıştırmıştı. Aşağıdaki bilgilerden hangisi Zeynep'in aklındaki soruların cevabı olabilir?

- A. Bazı canlılar çoğalma özelliğini göstermez.
 B. Bitkiler tohumla, bazı hayvanlar doğurarak, bazı hayvanlar da yumurtlayarak çoğalır.
 C. Tüm canlıların çoğalma şekli aynıdır.



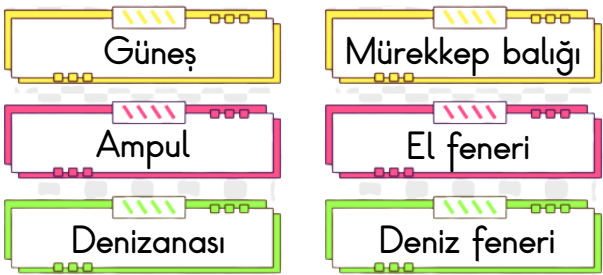
Teneffüs zilinın çaldığını okulun arkasındaki binada oturan Melek'te, okulun karşısındaki markette çalışan Mesut'ta duyabilmiştir.

5. Bu durum aşağıdakilerden hangisinin kanıtıdır?
 A. Bir kaynaktan çıkan sesin her yöne yayıldığını.
 B. Her sesin bir kaynağı olduğunu.
 C. Doğal ses kaynaklarının daha iyi duyulduğunu.

- I. Pürüzsüzdür,
 II. Kırılgandır,
 III. Renksizdir.

6. Yukarıda özellikleri verilen madde aşağıdakilerden hangisi olabilir?

- A. Mermer
 B. Cam
 C. Yazı tahtası



7. Yukarıdaki ışık kaynaklarından kaç tanesi yapay ışık kaynağına örnek olur?

- A. 2 tanesi
 B. 3 tanesi
 C. 4 tanesi



I Dondurma



II Süt



III Maden suyu



IV Çamaşır suyu

8. Yukarıdaki maddeler hallerine göre sınıflandırılırsa hangisi dışarıda kalır?

- A. I
 B. III
 C. IV

9. Aşağıdaki durumlardan hangisi bir varlığın canlı olduğunun kanıtı olabilir?

- A. Yüzebilmesi
 B. Uçabilmesi
 C. Solunum yapması

10. Aşağıdakilerden hangisi bir kuvvet türü değildir?


- A. Dönme
 B. Çekme
 C. İtme

Fen Bilimleri sınavı bitti.

Hayat Bilgisi dersine geçiniz.



1. Aşağıdakilerden hangisi kış mevsiminde daha bol bulabileceğimiz bir sebzedir?



2. Planlı ve düzenli olmanın faydası aşağıdakilerden hangisi olabilir?

- A. Planlı olursak işlerimizin büyük bir bölümünü arkadaşlarımıza yaptırabiliriz.
B. Planlı olursak düzenli ders çalışmamıza gerek kalmaz.
C. Planlı olursak daha düzenli ve çalışkan oluruz.



Okul tuvaletinde suyu açık bırakan arkadaşlarımı uyarırım.



Okuldaki en büyük eğlencemiz ışıkları açıp kapatma oyunudur.



Banyoda sabunlanırken musluğu açık bırakmam.

3. Yukarıdaki öğrencilerden hangisi evde ya da okuldaki kaynakları özenli kullanmamaktadır?




4. Aşağıdakilerden hangisi sağlıklı bir bireyin yapacağı davranış değildir?

- A. Dengeli ve düzenli beslenmek.
B. Düzenli spor yapmak.
C. Geç saatte uyuyup geç saatte uyanmak.



Bence bu yol tam bize göre.



Bence bu yola girmemeliyiz.



5. Ece ve Emir karşılarına çıkan yolun girişinde gördükleri trafik işareti sebebiyle kararsız kaldılar. Onların doğru karar vermesini sağlayacak cümle hangisi olabilir?

- A. Bu işaret bir tehlike uyarı işaretidir.
B. Bu işaret mecburi bisiklet yolunu ifade eder.
C. Bu işaret bisikletlerin bu yola giremeyeceğini ifade eder.



6. Bilinçli bir tüketici alışveriş yaparken aşağıdakilerden hangisine dikkat eder?

- A. Ürünlerin fiyatına bakmadan canının istediği ürünü alır.
- B. Alacağı ürünün bozuk olup olmadığına ve son kullanma tarihine bakar.
- C. Televizyonda görüp, reklamını beğendiği ürünleri almaya özen gösterir.



7. Yukarıdaki trafik işareti ile ilgili verilen bilgilerden hangisi hatalıdır?

- A. Kontrolsüz demir yolu geçidi işaretidir.
- B. Trafik tanzim işaretidir.
- C. Tehlike uyarı işaretidir.

8. Çevremizde meydana gelebilecek kazaları önlemenin en önemli yolu nedir?

- A. Dikkatli olmak ve tedbir almak.
- B. Hiçbir işe karışmamak.
- C. Evden dışarı çıkmamak.

9. Aşağıdaki mesleklerden hangisi ulaşım alanında hizmet vermektedir?

A.



B.




C.



10. Şakir hafta sonu gittiği köyünde bir hırsızlık olayı olduğunu duymuş. Şakir yardım istemek için hangi acil durum numarasını aramalıdır?

A.



B.



C.



Hayat Bilgisi sınavı bitti.

İngilizce dersine geçiniz.





1. Yukarıdaki görsel evimizin hangi bölümünü göstermektedir?

- A. Bathroom
- B. Kitchen
- C. Garage


2. Yandaki görsele göre hangisi yanlıştır?

- A. There is a purple balloon.
- B. There is a red balloon.
- C. There is a yellow balloon.



3. What are they playing?

- A. They are playing card games.
- B. They are playing volleyball.
- C. They are playing basketball.



4. Yukarıdaki görsellere göre hangi eşleştirme hatalıdır?

- A. I → happy
- B. II → surprised
- C. III → hungry

www.ilkokulluYum.com

Melis is my
and Burak is my



5. Yukarıda boş bırakılan yere hangisi gelmelidir?

- A. daughter / son
- B. daughter / aunt
- C. sister / son

Sınav bitti.

Cevaplarınızı kontrol ediniz.



ADI SOYAD:

OKUL:

SINIF: ŞUBE:



DENEME SINAVI CEVAP KAĞIDI

TÜRKÇE	MATEMATİK	FEN BİLİMLERİ	HAYAT BİLGİSİ	İNGİLİZCE	
1 A B C D	1 A B C D	1 A B C D	1 A B C D	1 A B C D	
2 A B C D	2 A B C D	2 A B C D	2 A B C D	2 A B C D	
3 A B C D	3 A B C D	3 A B C D	3 A B C D	3 A B C D	
4 A B C D	4 A B C D	4 A B C D	4 A B C D	4 A B C D	
5 A B C D	5 A B C D	5 A B C D	5 A B C D	5 A B C D	
6 A B C D	6 A B C D	6 A B C D	6 A B C D		
7 A B C D	7 A B C D	7 A B C D	7 A B C D		
8 A B C D	8 A B C D	8 A B C D	8 A B C D		
9 A B C D	9 A B C D	9 A B C D	9 A B C D		
10 A B C D	10 A B C D	10 A B C D	10 A B C D		
11 A B C D	11 A B C D	11 A B C D	11 A B C D		
12 A B C D	12 A B C D	12 A B C D	12 A B C D		
13 A B C D	13 A B C D	13 A B C D	13 A B C D		
14 A B C D	14 A B C D	14 A B C D	14 A B C D		
15 A B C D	15 A B C D	15 A B C D	15 A B C D		
16 A B C D	16 A B C D	16 A B C D	16 A B C D		

3.SINIFLAR TÜRKİYE GENELİ ONLINE DENEME SINAVI

TÜRKÇE		MATEMATİK		FEN BİLİMLERİ	HAYAT BİLGİSİ	İNGİLİZCE
1- B	11- B	1- C	11- C	1- C	1- A	1- B
2- C	12- A	2- B	12- B	2- B	2- C	2- B
3- B	13- A	3- A	13- C	3- A	3- A	3- C
4- B	14- C	4- B	14- A	4- B	4- C	4- C
5- A	15- C	5- B	15- C	5- A	5- B	5- A
6- B		6- B		6- B	6- B	
7- C		7- A		7- B	7- B	
8- B		8- C		8- A	8- A	
9- A		9- C		9- C	9- C	
10- B		10- A		10- A	10- C	

