



AKREP İLE KAPLUMBAĞA



Bir su kaplumbağası ile akrep arkadaş olmuşlar. Bir gün yolda giderlerken önlerine bir dere çıkmış. Akrep:

- Ben bu dereyi geçemem, demiş.

Kaplumbağa sormuş:

- Peki, ne olacak şimdi?

Akrep:

- Beni, senin karşıya geçirmen arkadaşlığımızın gereği değil midir?

Kaplumbağa:

-İyi ama arkadaş, senin huyun kötüdür. Sirtıma alırsam seni, suyun ortasına gelince bakarsın huyun tutar, sokuverirsin beni.

Akrep yemin etti:

-Vallahi de sokmam billahi de sokmam, dedi.

Kaplumbağa, peki o halde, dedi. Akrebi sırtına aldı. Tam suyun ortasına gelince akrep başladı kıvranmaya. Kaplumbağa sordu:

-Ne oldu? Huyun mu tuttu yoksa?

Akrep cevap verdi:

-Huyum tuttu. Ne yapacağımı şaşırırdım. Yemin ettim. Söz verdim ama dayanamayacağım.

Sokacağım seni kaplumbağa kardeş.

Kaplumbağa bu durumdan kurtuluş olmadığını anladı. Daha önceden bu tehlikeyi düşünmüştü. Kendi canını düşündü. Hemen suya dalıverdi. Akrep suya düştü. Kaplumbağa karşı kıyıya geçti.

Seyit KEMAL

❖ Aşağıdaki soruları metne göre cevaplayınız.

1- Akrep, kaplumbağadan ne istemiş?

.....

2- Kaplumbağa, akrebin ne yapmasından korkuyormuş?

.....

3- Akrep, suyun ortasına gelince, ne yapmaya karar vermiş?

.....

4- Kaplumbağa, akrebin kendisini sokacağını anlayınca, ne yapmış?

.....

❖ Aşağıda yay ayraç ile belirtilen yerlere uygun noktalama işaretlerini koyunuz.

➤ Çiftlikte dedemin yeni atlarını gördük ()

➤ Bursa()ya geziye gittiniz mi ()

➤ Kaan () Efe ve Uras parka gitti ()

➤ Hey () Çabuk buraya gelin ()

➤ Doktor:

() Bu ilaçları kullanman gerekiyor ()

➤ Cengiz hangi defteri unutmuş ()

➤ Babamın ne aldığını bilmiyorum ()

➤ Yaşasın () yarın tatile gidiyoruz ()

❖ Aşağıdaki sözcük dizilerinden cümle olanları işaretleyiniz.

Bu oyunu daha

Annem pazardan elma aldı.

Benim doğum günüm yarın.

Her sabah kahvaltı

Salih spor yaparken

Defne dün ödevlerini

Hüseyin parkta oyun oynuyor.

Saadet yemek yapmış.

Emre arabayı çok

İrem kedileri çok sever.

❖ Aşağıda verilen kelimelerle anlamlı ve kurallı cümleler oluşturunuz.

yaptı annem pasta kremalı

ilkbaharda açar ağaçlar çiçek

televizyonda haber babam izliyor

sevdiğim renk mavidir en

❖ Aşağıda verilen kuralsız (devrik) cümleleri, anlamlı ve kurallı hale getiriniz.

Köye gidince gördüm dedemi.

.....
.....

Yaşlı çiftçi sattı bütün koyunlarını.

.....
.....

Çok çabuk iyileştim doktorun verdiği ilaçları kullanınca.

.....
.....

Beden eğitimi dersinde yaptık futbol maçını.

.....
.....

SIVI ÖLÇME PROBLEMLERİ

1) Aslı 4 tane limondan 1 bardak limonata yapıyor. Aslı'nın 2 bardak limonata yapması için kaç tane limon gerekir?

2) Boş sürahi 5 bardak su ile doluyor. Aynı büyüklükteki 2 sürahi kaç bardak su ile dolar?

3) Kerem günde 7 bardak su içiyor. Kerem 3 günde kaç bardak su içer?

4) Bir kutu süttten 6 bardak süt çıkıyor. Aynı büyüklükteki 3 kutu süttün her birinden 3 bardak süt içilirse geriye kaç bardak süt kalır?

5) Bir tencere 3 sürahi su ile doluyor. Bir sürahi ise 5 bardak su ile doluyor. Buna göre bir tencere kaç bardak su ile dolar?

6) Bir küvet 8 kova su ile doluyor. Bir kova ise 3 sürahi su ile doluyor. Küvete 3 kova su koyuluyor. Küvetin tam dolması için kaç sürahi su gerekir?

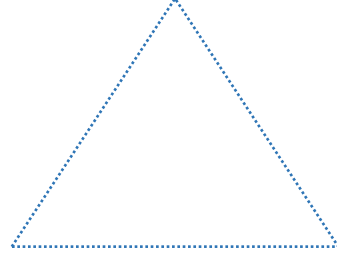


7) Bir havuza önce 13 kova sonra 28 kova su koyuluyor. Havuza kaç kova su koyulmuştur?

8) Bir kasa portakaldan 3 sürahi portakal suyu çıkıyor. Buna göre 12 sürahi portakal suyu için kaç kasa portakal gerekir?

9) Bir demlikten 9 bardak çay çıkıyor. Bu demlikten 2 tane hazırlayıp 6 bardak çay içiliyor. Geriye kaç bardak çay kalır?

10) Bozuk bir musluk 2 saatte 1 kova su akıtıyor. Bu musluk 8 saatte kaç kova su akıtır?

❖ Aşağıdaki noktaları birleştiriniz ve oluşan geometrik şekillerin adlarını altlarına yazınız.



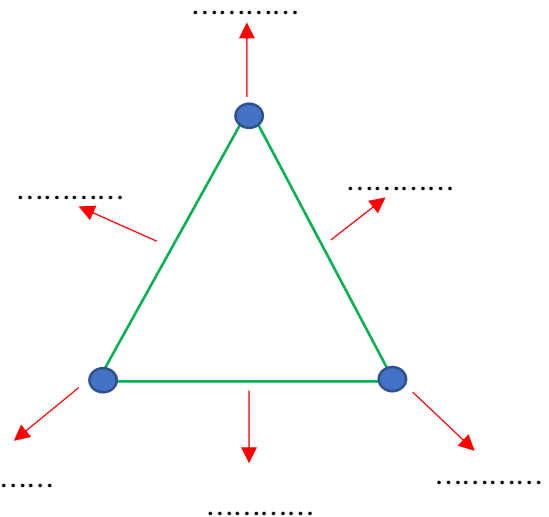
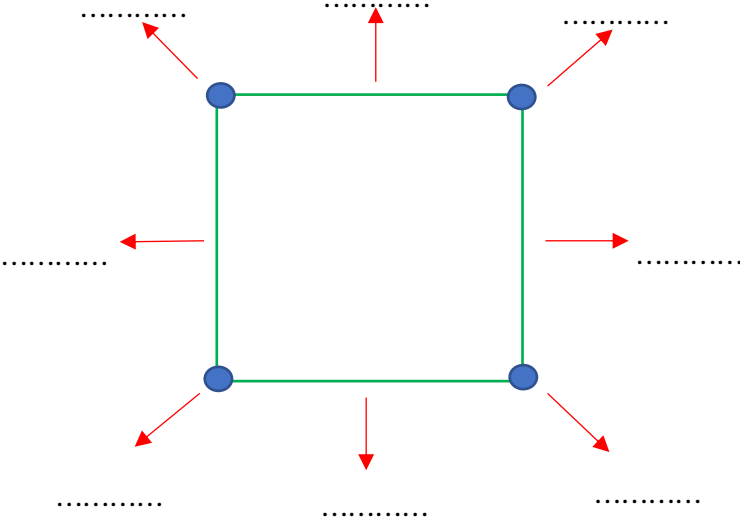
.....

.....



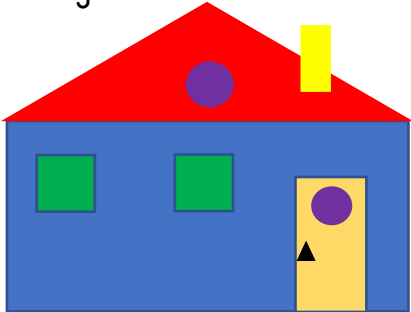
.....

.....

❖ Aşağıdaki geometrik şekillerin okla gösterilen bölümlerini noktalı yerlere yazınız.



❖ Aşağıdaki görselleri inceleyiniz. Görselleri oluşturan geometrik şekillerin sayılarını altlarına yazınız.



kare	
dikdörtgen	
daire	
üçgen	

kare	
dikdörtgen	
daire	
üçgen	

kare	
dikdörtgen	
daire	
üçgen	

❖ Aşağıda verilen cümleleri uygun kelimelerle tamamlayınız.

reçel

mevsiminde

ara

öğün

cips

- 1) Dengeli beslenmek için günde üç yemek yemeliyiz.
- 2) Ana öğünler dışında öğünler vardır.
- 3) kahvaltıda tüketmemiz gereken bir besindir.
- 4) Hamburger, kola gibi gıdalar sağlıklı gelişmemiz için uygun değildir.
- 5) Meyve ve sebzeler tüketilmelidir.


MINİ TEST

1) Ara öğünlerde aşağıdakilerden hangisini tüketmemiz sağlığımız için faydalı değildir?

- A) kola B) elma C) ceviz

2) Aşağıdaki ana öğünlerin hangisinden sonra ara öğün tüketmemeliyiz?

- A) Kahvaltı
B) Öğle yemeği
C) Akşam yemeği

3)  Sağlıklı olmak için dengeli ve düzenli besleniyorum.

Yukarıdaki öğrencinin hangi davranışı yapması beklenmez?

- A) Her sabah mutlaka kahvaltı yapar.
B) Öğle ile akşam yemeği arasında hamburger tüketir.
C) Sebze ve meyveleri mevsiminde tüketmeye özen gösterir.



4) Aşağıdaki öğünlerden hangisi sağlığımız için faydalı bir öğün değildir?

- A) reçel, peynir, yumurta
B) kola, cips, hamburger
C) et, pilav, ayran

5) Aşağıdakilerden hangisi dengeli beslenmenin açıklamasıdır?

- A) Her çeşit besinden yeteri kadar yemek.
B) Et ve süt ürünlerini çokça tüketmek.
C) Doysak bile yemeye devam etmek.

6) Sabah kahvaltısında aşağıdaki yiyeceklerden hangisini tüketmek uygun değildir?

- A)  B)  C) 