

Ad Soyad:.....
Sınıfı:.....
Numarası:.....



❖ Aşağıdaki çarpma işlemlerini sonuçlarını bularak işlemin başındaki harfi aşağıdaki sonuçların olduğu kutucuğa yazıp anahtar kelimeyi bulun.

L $9 \times 5 =$

L $7 \times 3 =$

U $6 \times 3 =$

K $7 \times 2 =$

O $8 \times 4 =$

Y $2 \times 6 =$

U $7 \times 4 =$

K $9 \times 3 =$

U $7 \times 5 =$

M $4 \times 9 =$

L $3 \times 3 =$

İ $8 \times 3 =$

24 45 27 32 14 35 9 21 28 12 18 36

❖ Aşağıdaki bölme işlemlerinin sonuçlarını bulalım.

$$\begin{array}{r} 9 \overline{) 3} \\ - \\ \hline \end{array}$$

$$\begin{array}{r} 12 \overline{) 4} \\ - \\ \hline \end{array}$$

$$\begin{array}{r} 16 \overline{) 4} \\ - \\ \hline \end{array}$$

$$\begin{array}{r} 8 \overline{) 2} \\ - \\ \hline \end{array}$$

$$\begin{array}{r} 35 \overline{) 5} \\ - \\ \hline \end{array}$$

$$\begin{array}{r} 18 \overline{) 2} \\ - \\ \hline \end{array}$$

$$\begin{array}{r} 27 \overline{) 3} \\ - \\ \hline \end{array}$$

$$\begin{array}{r} 45 \overline{) 5} \\ - \\ \hline \end{array}$$

$$\begin{array}{r} 16 \overline{) 2} \\ - \\ \hline \end{array}$$

$$\begin{array}{r} 12 \overline{) 3} \\ - \\ \hline \end{array}$$

$$\begin{array}{r} 10 \overline{) 5} \\ - \\ \hline \end{array}$$

$$\begin{array}{r} 24 \overline{) 4} \\ - \\ \hline \end{array}$$

❖ Aşağıdaki problemleri çözelim.

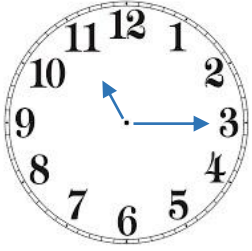
1. Ömer tanesi 5 TL olan kitaplardan 7 tane aldı. Kitapçıya 45 TL verdi. Kaç TL para üstü aldı?

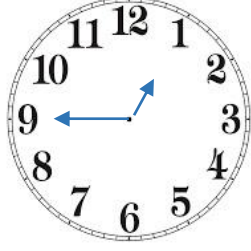
2. Manava 9 kasa kavun geldi. Kasaların her birinde 4 kavun vardı. Kavunların 18 tanesi satıldı. Manavda kaç kavun kaldı?

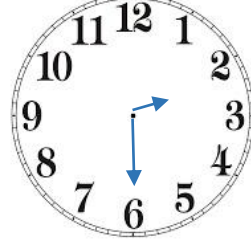
3. 32 top 4 çocuğa eşit şekilde paylaştırılırsa her bir çocuğun kaç kartı olur?

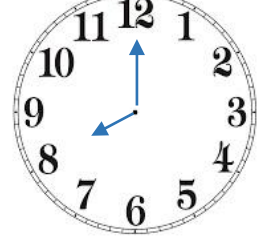
4. Teyzem yaptığı 33 kurabiyenin 5'ini eve ayırdı. Geriye kalanını 4 komşuya eşit sayıda pay etti. Her bir komşuya kaç poğaçaya verdi?

❖ Aşağıdaki saatlerin okunuşunu altına yazalım.









❖ Aşağıdaki paraların toplamını altına yazalım.







❖ Aşağıdaki bilgilerden doğru olana (D) , yanlış olana (Y) koyalım.

(.....) Bütün pasta 2 yarım pastaya eşittir.

(.....) 4 çeyrek pasta yarım pastaya eşittir.

(.....) 4 yarım pasta bütün pastaya eşittir.

(.....) Bütün pasta 4 çeyrek pastaya eşittir.

(.....) 2 çeyrek pasta yarım pastaya eşittir.

(.....) 2 yarım pasta bütün pastaya eşittir.

(.....) 4 çeyrek pasta bütün pastadan büyüktür.



Bütün




Yarım




Çeyrek


❖ Aşağıdaki saatleri uygun şekilde çizelim.




19.30




21.15




17.00




11.45




10.30



08.00



18.15



00.15

❖ Tabloyu tamamlayıp soruları cevaplayalım.

PAZARTESİ	SALI	ÇARŞAMBA	PERŞEMBE	CUMA	CUMARTESİ	PAZAR
1	2	...	4	...	6	7
...	...	10	...	12	13	...
15	18	19	20	21
...	23	24	...	26	...	28
29	30					

1. Takvimde belirtilen ay hangisidir?

2. Haziran ayı kaç gündür?


3. Ayın 7. günü hangi gündür?

4. Haziran ayında kaç cuma vardır?

5. Haziran ayının son günü hangi gündür?

6. Haziran ayının ikinci haftasının Salı günü, ayın kaçınıcı günüdür?

❖ Aşağıdaki problemleri çözelim.



1. Tanesi 8 TL olan oyuncaklardan 4 tane alırsam satıcıya kaç TL vermeliyim?



2. Yukarıdaki paraların toplamıyla aşağıdakilerden hangisini alamam?

- A. 25 TL'lik defter.
- B. 36 TL'lik kitap.
- C. 28 TL'lik suluk.



3. Ali'nin yukarıdaki kadar parası vardır. Ali parasının 46 TL sini harcarsa geriye kaç TL si kalır?

4. Tanesi 50 kuruş olan çikolatalardan 3 tane alırsak aşağıdakilerden hangisini öderiz?

- A. 1 TL 25 kuruş
- B. 1 TL 50 kuruş
- C. 1 TL 75 kuruş

www.ilkokulluyum.com

❖ Aşağıdaki bilgilerden doğru olana (D) , yanlış olana (Y) koyalım.

- (.....) 3 tane 50 kuruş 1 TL'ye eşittir.
- (.....) 1 TL 10 tane 10 kuruşa eşittir.
- (.....) 4 tane 5TL, 20 TL ye eşittir.
- (.....) 1 TL'nin içinde 4 tane 25 kuruş vardır.
- (.....) 2 tane 25 kuruş 2TL'ye eşittir.
- (.....) 5 tane 1 TL, 5 TL'ye eşittir.
- (.....) 4 tane 10 TL, 50 TL'ye eşittir.



❖ Aşağıdaki soruları tabloya göre cevaplayalım.

KIRTASIYE FİYAT LİSTESİ

Kitap : 17 TL	Suluk : 15 TL
Silgi : 3 TL	Pastel Boya : 18 TL
Defter : 8 TL	Çanta : 33 TL
Kalemtraş : 2 TL	Resim Defteri : 9 TL
Kalemlik : 12 TL	Oyun Hamuru : 10 TL

1. Aslı kırtasiyeden suluk, pastel boya ve silgi aldı. Aslı kırtasiyeye kaç TL para vermelidir?

- A. 25 TL
- B. 36 TL
- C. 28 TL

2. 50 TL parası olan Hakan hangi 2 eşyayı alamaz?

- A. Çanta ve Oyun Hamuru
- B. Çanta ve Kalemlik
- C. Çanta ve Pastel Boya

3. En pahalı eşya hangisidir?

- A. Kalemlik
- B. Çanta
- C. Suluk

4. 2 Defter ve 1 kalemlik alan Mutlu kırtasiyeye 40 TL verdi. Mutlu kaç TL para üstü alır?

- A. 12 TL
- B. 14 TL
- C. 18 TL

❖ Aşağıdaki soruları tabloya göre cevaplayalım.

TAKIMLAR	SEVEN ÖĞRENCİ SAYISI
GALATASARAY	+++ +++ +++ III
BEŞİKTAŞ	+++ +++ +++ II
FENERBAHÇE	+++ +++ +++
TRABZONSPOR	+++ +++ +++ +++ +++

1. Öğrencilerin en çok sevdiği takım hangisidir?

- A. Galatasaray
- B. Trabzonspor
- C. Beşiktaş

2. Bu grupta toplam kaç öğrenci vardır?

- A. 75
- B. 73
- C. 76

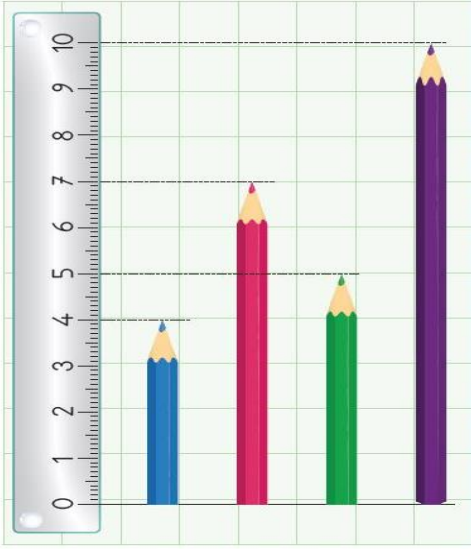
3. Galatasaray'ı sevenler Trabzonspor'u sevenlerden kaç eksiktir?

- A. 11
- B. 9
- C. 7

4. Beşiktaş ve Fenerbahçe'yi seven öğrencilerin toplamı kaçtır?

- A. 35
- B. 32
- C. 46

❖ Aşağıdaki problemleri çözelim.



1. En uzun kalem en kısa kalemden kaç santimetre uzundur?

2. Kalemleri kısından uzuna doğru renklerine göre sıralayalım?

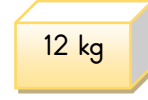
-
-
-
-

3. Yeşil kalem mavi kalemden kaç santimetre uzundur?

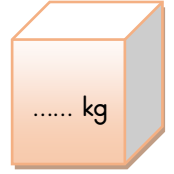
4. Tüm kalemlerin uzunlukları toplamı kaç santimetredir?



25 kg



12 kg



..... kg

4. Yukarıdaki kutuların ağırlıkları toplamı 80 kilogram olduğuna göre en büyük kutu kaç kilogramdır?



18 kg



18 kg



18 kg

5. Tanesi 18 kilogram gelen elma küfesinden 3 tane alan bir manav bu elmaların 50 kilogramını sattı. Manavın elinde kaç kilogram elma kaldı?

6. Ablam, benden 7 kilogram fazladır. Ablam 23 kilogram olduğuna göre ben kaç kilogramım?