



**GENEL YAYIN
YÖNETMENİ**

---• Burak DEMİR



EDITÖR

---• Dilan KOÇER



YAZAR

---• Mustafa TUNÇ
Emre SALTA
Hüseyin DEMİR



DIZGİ & GRAFİK

---• İLKOKULLUYUM YAYINLARI



ADRES

---• İLKOKULLUYUM YAYINLARI
İvedikköy Mah. 1491 Sk. No: 1 F
Yenimahalle / ANKARA
Tel: (0312) 342 42 11
• www.ilkokulluyumyayinlari.com
• e-mail: iletisim@ilkokulluyum.com



BASKI

---• Özgün Matbaacılık San. ve Tic. A.Ş.
Tel: (0312) 645 19 10
Matbaa Sertifika No: 44327

2. KİTAP

ISBN-978-605-270-288-8

© İlkokulluyum Yayınları

Bu kitabın her türlü hakkı İlkokulluyum Yayınlarına aittir. Yayınevinin izni olmadan, eğitim ve tanıtım amaçları kısmi alıntılar hariç olmak üzere hiçbir şekilde kitabın tümü veya bir kısmı yayımlanamaz ve çoğaltılamaz.



“ Küçük hanımlar, küçük beyler!
Sizler hepiniz geleceğin bir gülü, yıldızı ve ikbal ışığısınız.
Memleketi asıl ışığa boğacak olan sizsiniz. ”

M. Atatürk



İSTİKLAL MARŞI

Korkma, sönmez bu şafaklarda yüzen al sancak;
Sönmeden yurdumun üstünde tüten en son ocak.
O benim milletimin yıldızıdır, parlayacak;
O benimdir, o benim milletimindir ancak.

Çatma, kurban olayım, çehreni ey nazlı hilal!
Kahraman ırkıma bir gül! Ne bu şiddet, bu celal?
Sana olmaz dökülen kanlarımız sonra helal.
Hakkıdır Hakk'a tapan milletimin istiklal.

Mehmet Âkif Ersoy

İÇİNDEKİLER

TÜRKÇE

2. TEMA

Sözcüklerin Anlamı	5
Okuma Anlama	7
Zıt Anlamlı Sözcükler	9
2. Süreç Değerlendirme Çalışmaları	15
Eğlenceli Etkinlikler	19

3. TEMA

Okuma - Anlama	21
Noktalama İşaretleri / Nokta (.)	23
Cümle Bilgisi	25
Anlamli ve Kurallı Cümleler Yazma	27
Okuma - Anlama	31
Şiir Bilgisi	33
Neden - Sonuç Cümleleri	35
Olayların Oluş Sırası	39

MATEMATİK

2. TEMA SAYILAR VE NİCELİKLER - 1

Sıra Bildiren Sayılar	43
Sayı Doğrusu	45

En Yakın Onluğa Yuvarlama	47
İleriye Doğru İkişer Ritmik Sayma	51
Geriye Doğru İkişer Ritmik Sayma	53
İleriye Doğru Üçer Ritmik Sayma	55
Geriye Doğru Üçer Ritmik Sayma	57
İleriye Doğru Dörder Ritmik Sayma	59
Geriye Doğru Dörder Ritmik Sayma	61
İleriye Doğru Beşer Ritmik Sayma	63
Geriye Doğru Beşer Ritmik Sayma	64
İleriye Doğru Onar Ritmik Sayma	65
Geriye Doğru Onar Ritmik Sayma	66
Örüntü	67
Tahmin Etme	71
2. Süreç Değerlendirme Çalışmaları	75

HAYAT BİLGİSİ

2. ÖĞRENME ALANI

SAĞLIĞIM VE GÜVENLİĞİM

Sağlıklı Alışkanlıklar	79
Sınırlarımı Koruyorum	83
Dikkat, Levha Çıkabilir!	87
Acilse Ne Yaparım?	91
2. Süreç Değerlendirme Çalışmaları	93



SÖZCÜKLERİN ANLAMI

2.

TEMA

İlk Bilgim



Bir sözcüğün anlamını bulmak için sözlükten yararlarız.

Tekrar Et!



Numaralanmış sözcükleri, anlamları ile örnekteki gibi eşleştirelim.



- 3 Cümlenin sonuna konulan noktalama işaretinin adı.
- Can ve mal kaybına sebep olan kötü olay.
- Başka bir yere dikilmek için bulunduğu yerden çıkarılan taze ağaç.
- Bugünden sonra gelecek ilk gün.
- Toprak altına gömülerek saklanmış para veya değerli şeyler.
- Sebze bahçesi.
- Süt, şeker ve pirinçten yapılan bir tatlı türü.
- Hamur açmakta kullanılan, silindir biçiminde, uzunca, ince değnek.



2.

TEMA

Pekiştir



Sözcüklerin kutucuğunu anlamları ile aynı renge boyayalım.

Futbol maçlarında oyuncuların giydikleri özel ayakkabı.

hurda

İşe yarayamayacak derecede bozulmuş, zarar görmüş.

seyirci

Bir olayı gören, izleyen kimse.

krampon

Uygula



Sözcüklerin anlamlarını önce tahmin edelim, sonra sözlük anlamını yazarak tahminimizle karşılaştıralım.

çarşaf

Tahminim:

Sözlük Anlamı:

kemençe

Tahminim:

Sözlük Anlamı:

tasarruf

Tahminim:

Sözlük Anlamı:



KENDİMİ DEĞERLENDİRİYORUM

Sözcüklerin anlamını bilirim.





Etkinlik



Şiiri vurgu ve tonlamalara dikkat ederek okuyalım.

BAYRAĞIM

Atalarım gökten yere

İndirmişler ay yıldızı,

Bir buluta sarmışlar ki

Rengi şafaktan kırmızı.

Onun ateş kırmızısı,

Ne gelincik ne de gülden,

Türk oğlunun öz kanıdır,

Ona bu al rengi veren.

Ay yıldızı, gökyüzünün

Ayla, yıldızından yüksek,

Türk'ün alın yazısıdır,

Türk'tür onu yükseltecek.

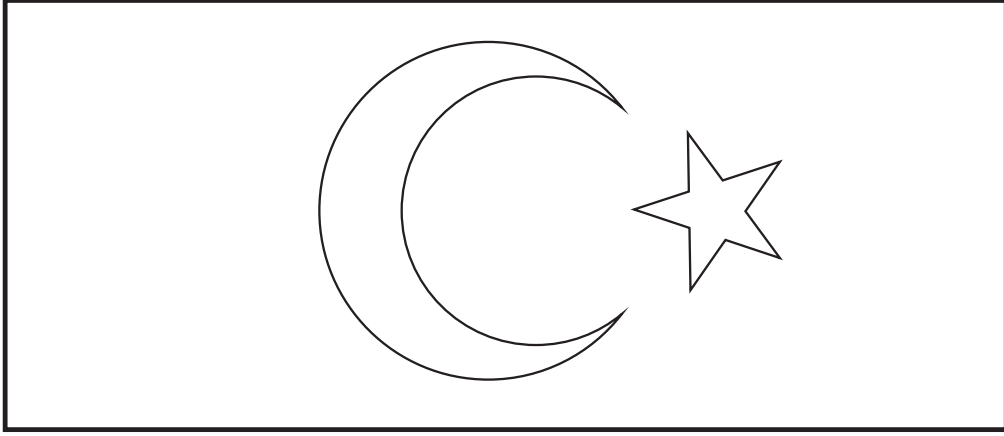
Hasan Âli YÜCEL





Etkinlik

Türk bayrağını boyayalım.



Etkinlik

Sözcüğün anlamını sözlükten bulup cümle içinde kullanalım.

Anlamı:

gelincik

Cümle:

Etkinlik

Şiirle ilgili sorulara cevap verelim.



Şiirde Türk bayrağının rengi hangi renktir?

.....



Şiire göre ay yıldız neyi simgeliyor?

.....



Bayrağımızın kırmızı rengi neye benzetilmiş?

.....



ZIT ANLAMLI SÖZCÜKLER

2.

TEMA

İlk Bilgim



Anlamları birbirinin karşısı olan sözcüklere **zit anlamlı sözcükler** denir. Bir sözcüğün olumsuz, zit anlamlısı değildir.

Örnek:



Büyük



Küçük

Tekrar Et!



Numaralanmış sözcükleri zit anlamlıları ile eşleştirelim.

1. eski

çok

2. yaşlı

hızlı

3. uzun

çirkin

4. güzel

yeni

5. boş

üst

6. az

genç

7. alt

dolu

8. yavaş

kısa



2.

TEMA

Tekrar Et!

Sözcüklerin zıt anlamlılarını yazalım.

ağır



aç



üzgün



gece



kapalı



geniş



sıcak



sonra



zor



ekşi



Pekiştir

Cümlelerdeki altı çizili sözcüklerin zıt anlamlılarını noktalı yerlere yazalım.

Kerem sınıfta en arka sıraya oturdu.



Babam manavdaki en büyük karpuzu seçti.



Hakan bütün sorulara doğru cevap vermiş.



Dün akşam lapa lapa kar yağdı.



Aşağı mahalledeki çocuklarla maç yaptık.



Yarışmada birinci olunca ödül aldı.



Kirli tabakları yıkadın mı?





Pekiştir

Cümlelerdeki renkli yazılan sözcüklerin zıt anlamlılarını bulmacada bulup boyayalım.

Kasadaki **çürük** domatesleri ayırdım.

Kış gelince **kalin** elbiseler giyerim.

Arabayı çok **pahalı** almamış.

Sınıfın en **çalışkan** öğrencisi kim?

Çiğ köfte o kadar **acı** olmuştu ki çok yiyemedim.

Evin bütün duvarlarını **beyaz** renge boyayalım mı?

Bu **savaş** bir an önce bitmeli.



S	S	A	T	E	M	B	E	L	M
İ	İ	N	K	L	D	S	Y	Z	V
Y	N	H	J	G	T	A	T	L	İ
A	C	A	T	Y	N	U	U	O	Ç
H	E	P	S	A	Ğ	L	A	M	B
M	H	N	S	A	B	A	R	İ	Ş
U	C	U	Z	T	R	Y	U	O	N



SIRA BİLDİREN SAYILAR

2.

TEMA

İlk Bilgim



- Art arda dizilmiş varlıkların birbirine göre göre konumunu bildiren sayılara **sıra bildiren sayılar** denir. Sıra bildiren sayılar, sayıların sağına nokta (.) konularak oluşturulur.


Örnek: 75. Yetmiş beşinci

16. On altıncı


Tekrar Et!



Aşağıdaki görseli inceleyelim. Soruların cevaplarını işaretleyelim.



→ Yarışmada hangi hayvan kaplandan daha geridedir?



→ Yarışmada 4. sırada bulunan hayvan hangisidir?





2.

TEMA

Uygula

Aşağıdaki görseli inceleyelim. Boş bırakılan yerleri uygun sözcüklerle tamamlayalım.



- * Piste iniş yapmak için 3. sırada renkli uçak beklemektedir.
- * Sarı uçağın hemen arkasında renkli uçak beklemektedir.
- * Sıra bekleyen uçaklar arasında sarı renkli uçak sıradadır.
- * Piste iniş yapmak için 4. sırada renkli uçak beklemektedir.

Uygula

Okunuşu verilen sıra bildiren sayıları örnekteki gibi rakamla yazalım.

Kırk beşinci

Elli üçüncü

Yetmiş ikinci

On yedinci

45

.....

.....

.....

.....

Uygula

Sıra bildiren sayıların okunuşlarını örnekteki gibi yazalım.

40.

47.

54.

96.

88.

Kırkinci

.....

.....

.....

.....

.....



SAYI DOĞRUSU

2.

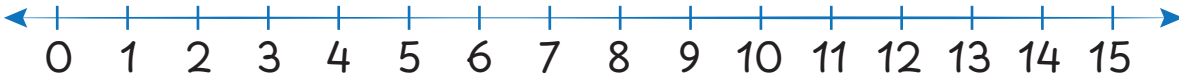
TEMA

İlk Bilgim



- Cetvel üzerindeki sayılar sıfırdan başlar ve birer birer artarak ilerler.
- Cetvelde sıfır (0) başlangıç noktasıdır.

Sayı Doğrusu

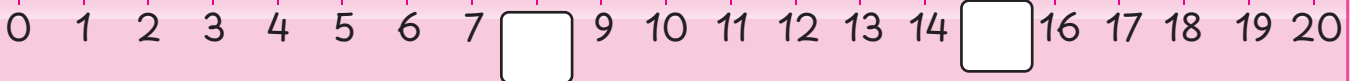

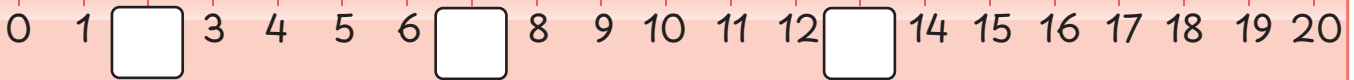


- Sayı doğrusu cetvel ile benzer özelliklere sahiptir. Sayı doğrusunda sayılar sıfırdan başlar ve ritmik artarak ilerler.
- Sayı doğrusunda da (0) başlangıç noktasıdır.

Tekrar Et!



Aşağıdaki cetvellerde boş bırakılan yerlere uygun sayıları yazalım.





Pekiştir

Sayı doğrusunu inceleyerek sorulara cevap verelim.

0 1 2 3 4 5 6 7 8 9 10 11 12 13 14 15

5 ile 9 arasında yer alan sayıları sırasıyla yazalım.



10 ile 12 arasında bulunan sayı hangisidir?



13'ten sonra gelen sayı kaçtır?




Uygula


Sayı doğrusunu inceleyelim. Soruları cevaplayalım.




6 ile 8 arasında hangi sayı vardır?



3'ten önce gelen sayı kaçtır?



10 ile 12 arasında hangi sayı vardır?



5'ten sonra 7'den önce gelen sayı kaçtır?





EN YAKIN ONLUĞA YUVARLAMA

2.

TEMA

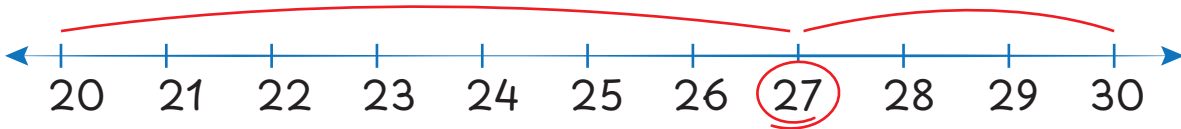
İlk Bilgim



- Sayıları en yakın oldukları onluğa yuvarlarken sayı doğrularından yararlanırız.
- En yakın onluğa yuvarlanacak sayıdan önce ve sonra gelen onluklar belirlenir.
- En yakın onluğa yuvarlanacak sayı, sayı doğrusu üzerinde işaretlenerek hangi onluğa daha yakın olduğu bulunur.

Örnek: 27 sayısının hangi onluğa daha yakın olduğunu bulalım.

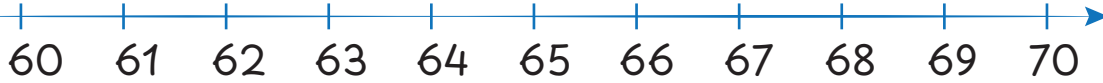
27 sayısı 20 ile 30 onlukları arasındadır.



27, 30'a daha yakındır.

Tekrar Et!

Sayıların yerini sayı doğrusunda işaretleyelim. Yakın oldukları onluğa boş bırakılan yere yazalım.



63, daha yakındır.



54, daha yakındır.




48, daha yakındır.


Tekrar Et!


Sayıların yerini sayı doğrusunda işaretleyelim. Cümlelerde boş bırakılan yerleri "daha yakındır", "daha uzaktır", "eşit mesafededir" ifadelerinden uygun olanla tamamlayalım.



65 sayısı, 60 ile 70'e



78 sayısı, 80'e



36 sayısı, 30 sayısına 40'a göre



55 sayısı, 50 ile 60'a



Pekiştir

Verilen sayıların en yakın olduğu onluğu yuvarlak içine alalım. Sayı iki onluğa da eşit mesafede ise boş bırakılan yere "eşit mesafede" yazalım.














Uygula

TEMA

Sayıları en yakın oldukları onlukla örnekteki gibi eşleştirelim.


46		19
68		87
53		63
42		12
73		23
27		84
		
		
		



KENDİMİ DEĞERLENDİRİYORUM

Sayıların sayı doğrusundaki yerini bulabildim.

Sayıların en yakın olduğu onluğu bulabildim.





İLERİYE DOĞRU İKİŞER RİTMİK SAYMA

2.

TEMA

İlk Bilgim



- İleriye doğru ikişer ritmik sayma yaparken 2'den başlarız ve sayıların üzerine 2 ekleyerek devam ederiz.

Örnek: $2 - 4 - 6 - 8 - 10 - 12 - 14 - 16 - 18 - 20$

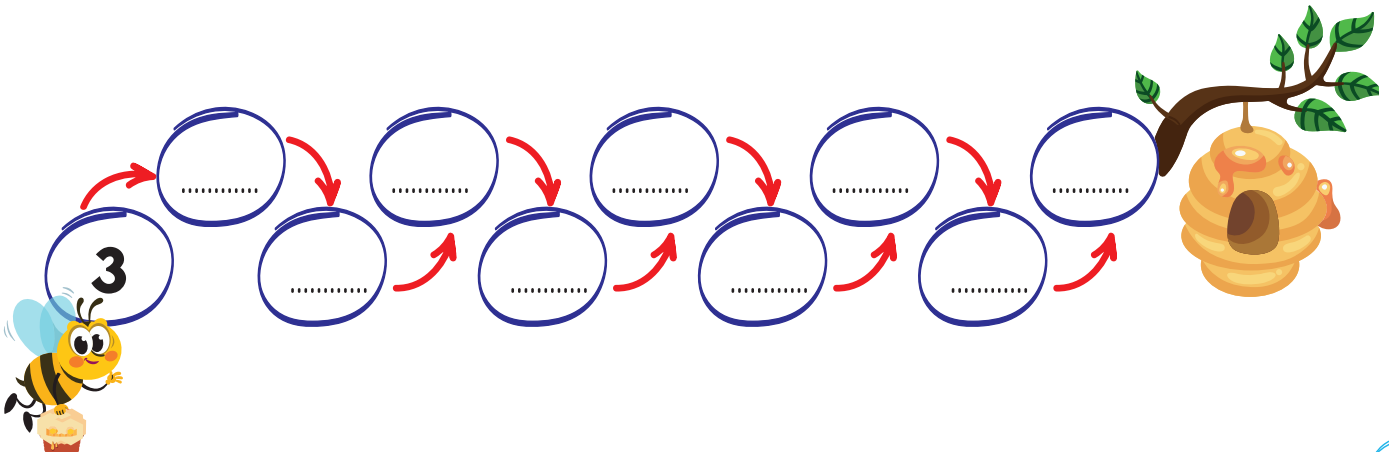
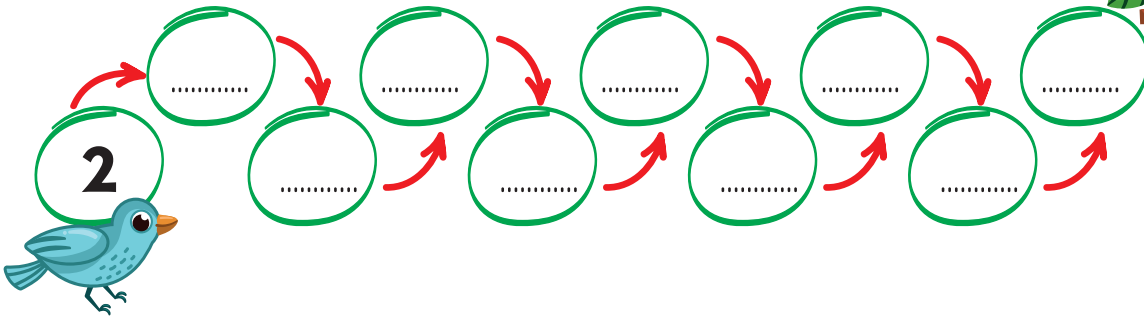
- İleriye doğru ikişer ritmik sayma yapmak için, istediğimiz bir sayıdan da başlayabiliriz. Seçtiğimiz sayının üzerine 2 ekleyerek devam ederiz.

Örnek: $7 - 9 - 11 - 13 - 15 - 17 - 19$

Tekrar Et!



Hayvanları yuvalarına ulaştırmak için ikişer ritmik saymayı tamamlayalım.



2. SÜREÇ DEĞERLENDİRME ÇALIŞMALARI

2.

TEMA

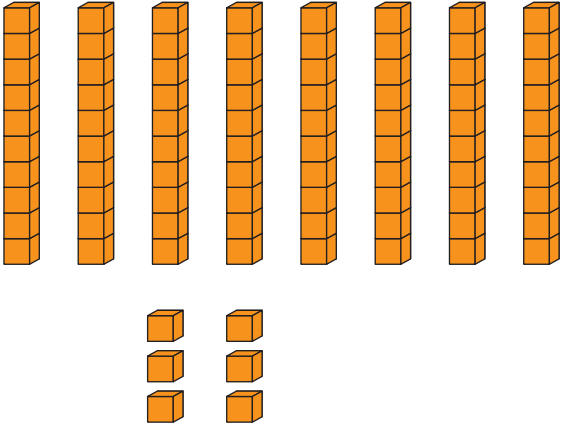
Etkinlik

Aşağıdaki soruları cevaplayalım, doğru cevaplara "✓" işareti koyalım.



Kaç tane kek vardır?
(1 puan)

- Otuz iki Otuz üç
 Otuz dört



Onluk ve birlik bloklarla
gösterilen sayı hangisidir?
(1 puan)

- 86 88
 76

Aşağıdaki eşleştirmelerden hangisi **yanlıştır**? (1 puan)

63
↓

6 onluk 3 birlik

80
↓

8 onluk 0 birlik

71
↓

1 onluk 7 birlik



Konu
Anlatım
Videosu

SAĞLIKLI ALIŞKANLIKLAR

İlk Bilgim



- Sağlıklı bir yaşam için sağlıklı alışkanlıklarımızın olması gerekir. Dengeli beslenmek çok önemlidir. Et, yumurta, sebze, meyve gibi **sağlıklı gıdaları tüketmeliyiz**. Cips, gazlı içecekler, paketli gıdalar, çikolata gibi sağlıksız gıdalardan uzak durmalıyız. **Düzenli spor** yapmak vücudumuzun gelişimini destekler. **Düzenli uyku**, vücudumuzun gelişmesi ve dinlenmesi için çok önemlidir. Erken yatıp erken kalkmaya özen göstermeliyiz. **Kişisel bakımımıza** da dikkat etmeliyiz. Haftada en az iki defa banyo yapmalıyız. Tırnaklarımızı uzadıkça kesmeliyiz. Dişlerimizi fırçalamalıyız. **Yaşadığımız çevreyi** temiz tutmalıyız.
- Tüm bu davranışları sürekli yaparak **sağlıklı alışkanlıklar** edinmiş oluruz.

Tekrar Et!



İfadeleri anlamlı bir cümle oluşturacak şekilde eşleştirelim.

Paketli gıdalar tüketmek

kas gelişimimizi destekler.

Haftada iki defa

sağlığımıza zarar verebilir.

Düzenli uyku

banyo yapmalıyız.

Odamızı temiz

vücudumuzun dinlenmesini sağlar.

Düzenli spor yapmak

tutmak sağlıklı bir ortam sağlar.

dişlerimizi fırçalamalıyız.





2.

ÖĞRENME ALANI

Pekiştir

Sağlıklı olan besinleri alışveriş sepeti ile eşleştirelim.



Pekiştir

Verilen davranışlardan sağlığımız için faydalı olanlarının yanına 😊, zararlı olanların yanına ☹️ çizelim.

Dişlerimi her gün sabah ve akşam fırçalarım.

Spor yaparım.

Geç saatlere kadar tablet veya telefon kullanırım.

Gazlı ve şekerli içecekler içerim.




Erken yatarım.

Yemek yemeden önce ellerimi yıkamam.



Pekiştir

Hangi davranışın sağlık için yararlı olduğunu işaretleyelim.



Pekiştir

Verilen alışkanlıklara göre kendimizi değerlendirelim.

Davranışlar

Her Zaman

Bazen

Hiç

Dişlerimi günde iki kez fırçalarım.

Yemekten önce ellerimi yıkarım.

Sağlıklı besinler tüketirim.

Erken yatıp erken kalkarım.

Temiz ve düzenli olmaya özen gösteririm.

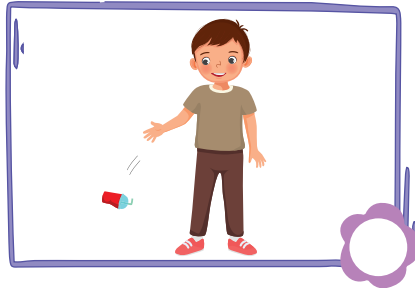


2.

ÖĞRENME ALANI

Pekiştir

Doğru davranışların olduğu görselleri işaretleyelim.



Uygula

Aşağıdaki bulmacayı ipuçlarından yararlanarak dolduralım.

1	Y					2	D				
6	1.	İçinde sarı ve beyaz kısmı olan, kabuklu ve sağlıklı bir besindir.									3
Ş	2.	Kırmızı renkli bir sebzedir.									
	3.	Yoğurttan yapılan sağlıklı bir içecektir.									
	4.	Turuncu renkli bir sebzedir. Gözleri güçlendirir.									
F	5.	İçi insan beynine benzeyen kabuklu bir yemiştir.									
	6.	Tüylü kabuğu olan sulu bir yaz meyvesidir.									
		5	C		V		4			Ç	N

?

KENDİMİ DEĞERLENDİRİYORUM

Sağlıklı bir yaşam için yapmam gerekenleri öğrendim.





SINIRLARIMI KORUYORUM

2.

ÖĞRENME ALANI

İlk Bilgim



- **Fiziksel Sınırlar:** Bedenimiz ile ilgili sınırlarımız fiziksel sınırlarımızı oluşturur. Kimseyi izinsiz olarak fiziksel sınırlarımızın içerisine almamalıyız.
- **Kişisel Bilgilerle İlgili Sınırlar:** Adresimiz, fotoğrafımız, şifremiz gibi kişisel bilgilerimiz ile ilgili sınırlarımızdır. Kişisel bilgilerimizi paylaşmamalıyız. Genel ağda kullanmamalıyız.
- **Duygusal Sınırlar:** Duygularımız ile ilgili sınırlarımızdır. Kimsenin bizi duygularımızı paylaşmamız için zorlamasına izin vermemeliyiz. Biz de hiçbir arkadaşımızı duygularını açıklaması için zorlamamalıyız.
- **Düşüncelerle İlgili Sınırlar:** Düşüncelerimiz ile ilgili sınırlarımızdır. Düşüncelerimizi, istediğimiz zaman ve istediğimiz kişiler ile paylaşırız. Arkadaşlarımızın fikirlerine katılmadığımız zaman, bu durumu kibarca ifade edebiliriz.

Tekrar Et!



Doğru ifadelerin başına "D", yanlış ifadelerin başına "Y" yazalım.

Arkadaşıma, duygularını ifade etmesi için baskı yaparım.

Düşüncelerimi sadece istediğim kişilerle paylaşırım.

Olumlu ya da olumsuz duygularımı kibarca ifade ederim.

Arkadaşıma kırmamak için istemediğim davranışları yaparım.

Çevrim içi ortamda şifremi paylaşmamda bir sakınca yoktur.

Bedenime izinsiz olarak kimsenin dokunmasına izin vermem.



2.

Pekiştir



Cümlelerin numaralarını ilgili oldukları bölümlere yazalım.

1

Genel ağda adresimi paylaşmam.

2

Duygularımı, istediğim zaman uygun bir dille ifade ederim.

3

Fiziksel sınırlarım içerisine girecek kişileri ben belirlerim.

4

Arkadaşım ile aynı duyguları hissetmek zorunda değilim. Arkadaşım, aynı duyguları hissetmem için beni zorlamamalıdır.

5

Düşüncelerim bana aittir. Düşüncelerimi, istediğim zaman ifade ederim.

6

Tanımadığım insanlarla ev adresimi paylaşmam.

7

Arkadaşım bana sarılmadan önce izin istemelidir.

8

Arkadaşımın ne düşündüğünü öğrenmek için baskı yapmam. Arkadaşım isterse düşüncelerini anlatır.

Fiziksel sınırlarım

.....

Duygusal sınırlarım

.....

Kişisel bilgilerim
ile ilgili sınırlarım

.....

Düşüncelerim ile ilgili
sınırlarım

.....



Pekiştir



Çevrim içi ortamda paylaşmamamız gereken bilgileri işaretleyelim.

Sevdiğimiz
çizgi film

Telefon
numaramız

Ev
adresimiz

Kimliğimiz

Şifrelerimiz

Sevdiğimiz
renk

Fotoğrafımız

Oynadığımız
oyunlar

Pekiştir



Metinleri okuyalım, soruların doğru cevaplarını işaretleyelim.

Anıl, Azra'nın üzgün olduğunu fark etti. "Neden üzgünsün Azra?" diye sordu. Azra neden üzgün olduğunu anlatmak istemedi. Anıl, "Tamam, istersen sonra anlatırsın Azra." dedi. Bu olayda Azra, kişisel sınırlarından hangisini korumuştur?

Fiziksel
sınırını

Kişisel bilgiler ile
ilgili sınırını

Duygusal
sınırını

Emir, bilgisayar oyunu oynarken bir mesaj geldi. Mesajda, "Adresini yazarsan, sana bu oyun ile ilgili ipuçları vereceğim." denilmişti. Emir, bu kişiyi tanımadığı için hiçbir şey yazmadı. Hemen durumu ailesine bildirdi. Bu olayda Emir, kişisel sınırlarından hangisini korumuştur?

Kişisel bilgiler ile
ilgili sınırını

Fiziksel
sınırını

Duygusal
sınırını




2.

ÖĞRENME ALANI

Uygula

Cümlelerin içindeki rakamların yerine yazılacak sözcükleri bulalım, bulmacaya yazalım.

Bedenimizle ilgili sınırlarımız **1** sınırlarımızdır. **2** başkalarının zorlamasıyla değil, kendi isteğimizle ifade etmeliyiz. Kimliğimiz ve şifremiz gibi kişisel **3**genel ağda paylaşılmamalıdır. Fikirlerimizi ne zaman ve kiminle paylaşacağımıza biz karar veririz. **4** ile ilgili sınırlarımızı korumalıyız. Kişisel alanımızın ihlal edildiğini düşündüğümüz durumlarda **5** isteyebiliriz.



?

KENDİMİ DEĞERLENDİRİYORUM

Sınırlarımı korumam gerektiğini öğrendim.



Kişisel alanımı korumanın beni güvende hissettirdiğini fark ettim.





DİKKAT, LEVHA ÇIKABİLİR!

2.

ÖĞRENME ALANI

İlk Bilgi



Trafik işaret levhaları: Yollarda sıkça karşımıza çıkan trafik işaret levhaları, trafiği düzenler. Sürücüleri uyarır ve yayaları bilgilendirir.

- Kare şeklinde olan mavi renkli trafik işaret levhaları yayalara bilgi verir. **Örneğin:**



Okul Geçidi



Yaya Geçidi



Alt Geçit



Üst Geçit

- Kırmızı üçgen çerçeveli trafik işaret levhaları sürücüleri uyarır.

Örneğin:



Okul Geçidi



Yaya Geçidi



Işıklı İşaret Cihazı

- Yuvarlak trafik işaret levhaları **trafiği düzenler**. Bunlardan **kırmızı** yuvarlak çerçeveli olanlar ise yasaklayıcı trafik işaret levhalarıdır.

Örneğin:



Yaya Giremez



Bisiklet Giremez



Mecburi Bisiklet Yolu



Mecburi Yaya Yolu

Tekrar Et!



Doğru ifadelerin başına "D", yanlış ifadelerin başına "Y" yazalım.

- Trafik işaret levhaları hem yayaları hem de sürücüleri uyarır ve bilgilendirir.
- Kare şeklindeki mavi renkli trafik işaret levhaları yayalara bilgi verir.
- Trafik işaret levhaları, sadece yayaları uyarır.
- Kırmızı üçgen çerçeveli trafik işaret levhaları, yayaları uyarır.