



ARKADAŞLARINA HABER VER.
GERÇEK SIRALAMANI ÖĞREN!

1,2,3 ve 4. SINIFLARA
TÜRKİYE GENELİ
ONLINE DENEME SINAVI

ÜCRETSİZ

ÖDÜL: 3 Öğrenciye Tablet Bilgisayar

Başlangıç Tarihi : 7 Mayıs 10.00

Bitiş Tarihi :10 Mayıs 22.00

Not : Deneme Sınavımız, sınav bitiş tarihinden itibaren PDF olarak indirilebilecektir.
Sınav sonuçları Kazanım Analizli Karne olarak açıklanacaktır.

www.ilkokulluyum.com



DOĞURAN KAZAN

Nasrettin Hoca'nın kendini çok akıllı zanneden bir komşusu varmış. Hoca bu komşusuna bir ders vermeye karar vermiş. Komşusunun evine gidip kapısını tıkladmış:

- Komşu, kazanla bir işin yoksa birkaç günlüğüne ödünç verebilir misin? demiş.

- Tabi Hocam, ne demek, diyerek kazanı Hoca'ya vermiş komşusu. Hoca, teşekkür edip kazanı alıp evine gelmiş. Kazanı beş on gün

bilerek geri götürmemiş. Komşusu dayanamamış ve Hoca'nın kapısını çalmış.

- Hocam, kazanın işi bittiyse alabilir miyim?

- Elbette komşu diyerek, kazanı komşusuna vermiş. Kazanın içinde bir de tencere varmış. Komşusu sormuş:

- Hocam kazanın içindeki tencere neyin nesidir?

- Komşu gözün aydın! Senin kazan doğurdu! Komşu bu duruma çok sevinmiş. Kazanı ve tencereyi alarak evine dönmüş. Birkaç gün sonra Hoca kazanı yine istemeye gitmiş.

- Komşu, kazan yine lazım oldu verebilir misin? Deyince.

- Ne demek Hocam, kazanın lafımı olur, diyerek kazanı Hoca'ya vermiş. Kazanı eve götüren Hoca, yine geri vermeyi geciktirmiş. Komşusu tekrar Hoca'nın evine gelmiş.

- Şey Hocam! Kazanın işi bittiyse verebilir misin?

Hoca üzgün bir şekilde:

- Vermesine vereyim ama maalesef senin kazan öldü! Başınız sağ olsun!

- Yahu Hocam ne diyorsunuz? Kazan hiç ölür mü?

- Eee uyanık komşum, kazanın doğurduğuna inandın da öldüğüne niçin inanmıyorsun!

❖ *Aşağıdaki soruları metne göre cevaplayalım.*

1. Hoca komşusuna neden ders vermek istemiş?

.....
.....

2. Hoca komşusuna neden "gözün aydın" demiş?

.....
.....

3. Hoca'nın komşusu neye inanmamış?

.....
.....

❖ *Aşağıdaki kelimelerin anlamlarını bulup cümle içinde kullanalım.*

ödünç

Anlamı:

Cümle:

uyanık

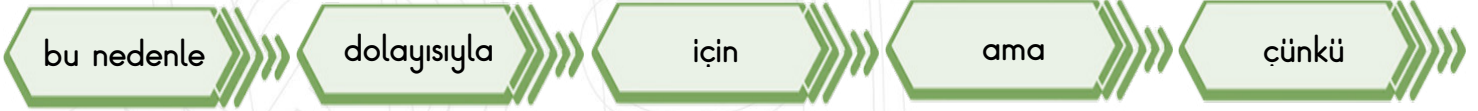
Anlamı:

Cümle:

❖ Aşağıdaki tabloyu örnekteki gibi dolduralım.

| Yalın Durumu | Belirtme Durumu (- i hali) | Yönelme Durumu (- e hali) | Bulunma Durumu (- de hali) | Ayrılma Durumu (- den hali) |
|--------------|---------------------------------|--------------------------------|---------------------------------|----------------------------------|
| Araba | Arabayı | Arabaya | Arabada | Arabadan |
| Çanta | | | | |
| Bilgisayar | | | | |
| Sinema | | | | |
| Salıncak | | | | |
| Süpürge | | | | |
| Anne | | | | |

❖ Aşağıdaki cümleleri uygun ifadelerle tamamlayalım.



- ✎ Ben çok şeyin sebebini bilirim gerekmedikçe kimseye birşey söylemem.
- ✎ Okumayı çok ama çok seviyordu kendine onlarca kitap aldı.
- ✎ İşlerinin hiçbirini istediği zamanda bitiremedi plansızca hareket etti.
- ✎ Havalar günden güne ısınmaya başladı bizde yazlık kıyafetlerimizi hazır ettik.
- ✎ Arkadaşım Defne'nin kalbini çok kırdığım ondan özür diledim.

❖ Aşağıdaki cümlelerdeki altı çizili kelimelerin eş anlamlılarını kullanarak cümleleri tekrar yazalım.

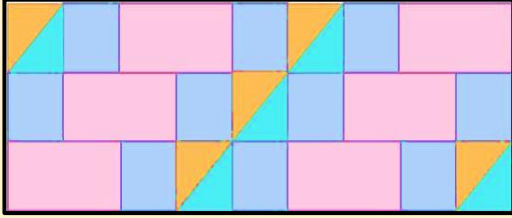
➤ Ona karşı olan hislerimi bir türlü söyleyemedim.

➤ Şu mübarek ayda ellerimizi semaya açarız.

➤ Babam çocukken validesi onu çok severmiş.

➤ Acaba bu ayakkabının ederi ne kadar?

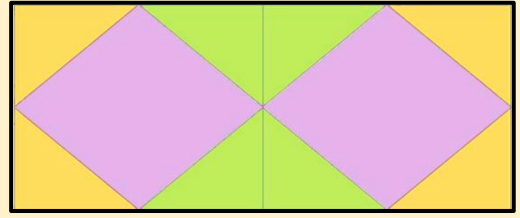
❖ Aşağıdaki geometrik örüntülerde kullanılan kare, üçgen ve dikdörtgen sayılarını yazalım.



Üçgen:

Kare:


Dikdörtgen:



Üçgen:

Kare:

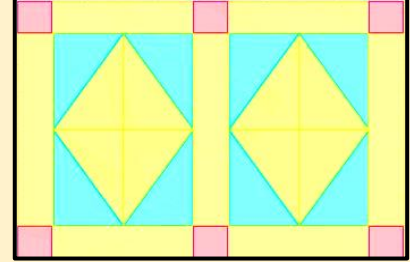
Dikdörtgen:



Üçgen:

Kare:

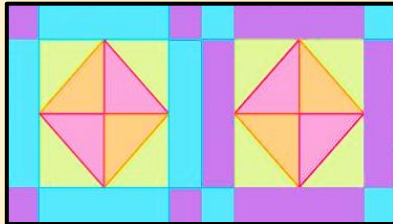
Dikdörtgen:



Üçgen:

Kare:


Dikdörtgen:



Üçgen:

Kare:

Dikdörtgen:

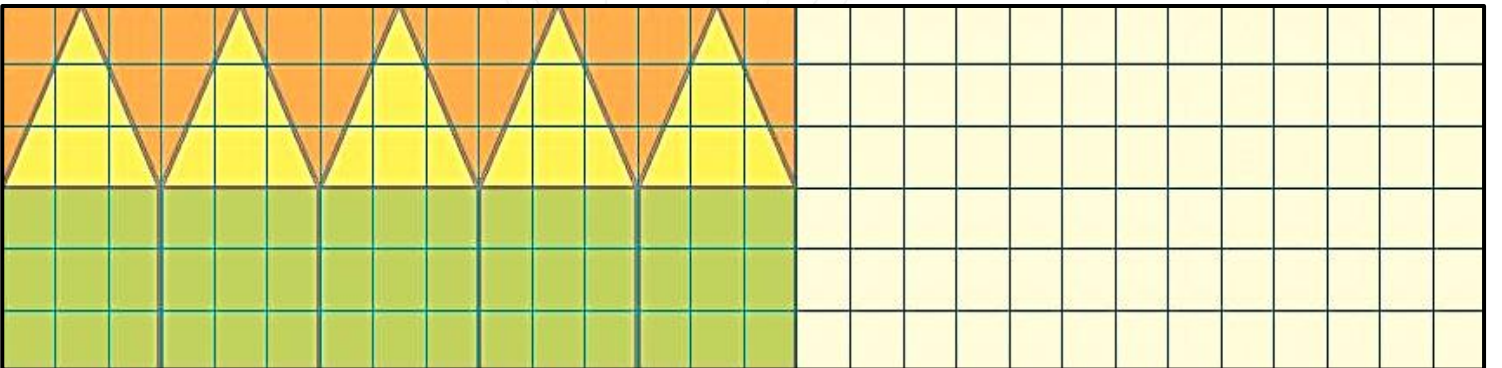
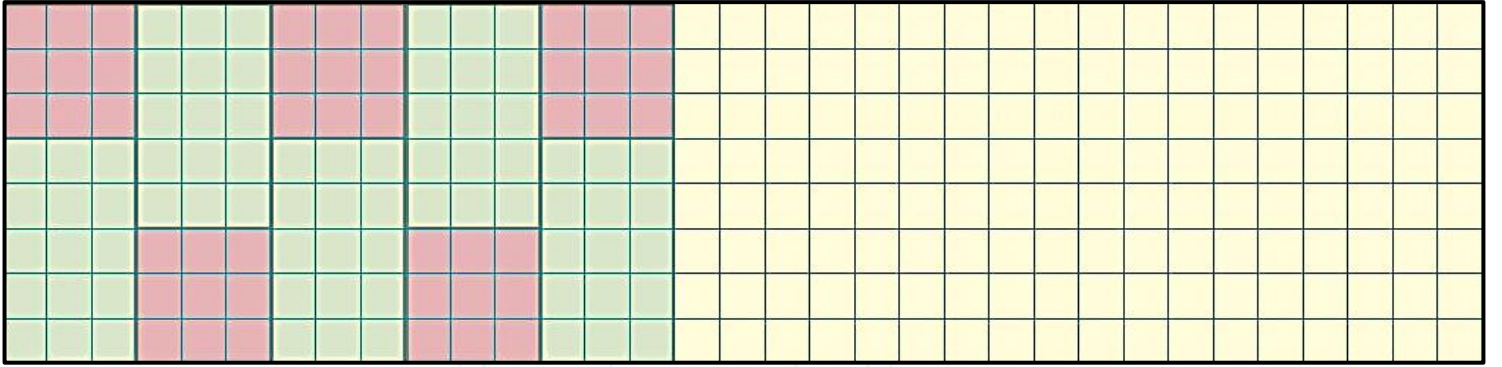
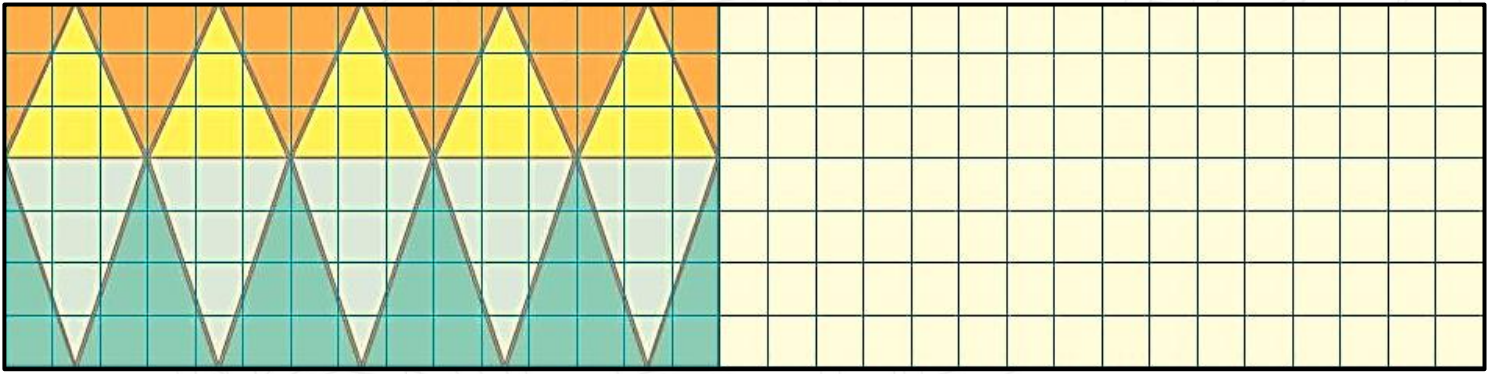
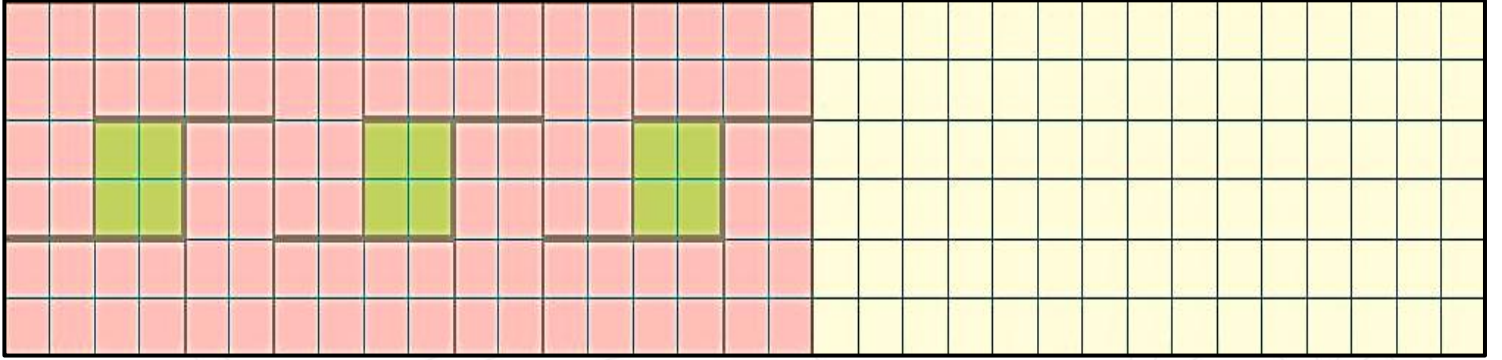


Üçgen:

Kare:

Dikdörtgen:

❖ Aşağıdaki geometrik kaplamaları devam ettirelim.



YAŞADIĞIMIZ ÇEVRE

Doğal çevre, canlı ve cansız varlıkların ortak yaşam alanıdır."

1. Aşağıdakilerden hangisi doğal çevrenin kirlenmesine en çok neden olur?

- A. İnsanlar
B. Hayvanlar
C. Bitkiler

- I. Meyve kabukları
II. Cam şişeler
III. Tahta parçaları

2. Yukarıdaki atıkların doğada yok olma süreleri uzundan kısaya doğru sıralandığında hangisi doğru olur?

- A. III - I - II
B. II - III - I
C. II - I - III

| Doğal Çevre | Yapay Çevre |
|---------------|----------------|
| 1. Göller | 5. Nehirler |
| 2. Okyanuslar | 6. Havuzlar |
| 3. Dağlar | 7. Lunaparklar |
| 4. Barajlar | 8. Stadyumlar |

3. Yukarıdaki tablodaki yanlışlığı düzeltmek için hangi ikisi yer değiştirmelidir?

- A. 1 ve 6
B. 4 ve 5
C. 3 ve 7



4. Aşağıdakilerden hangisi yukarıdaki görseli en iyi açıklar?




- A. Dünyamız dönmeye devam ettikçe yeşil kalacaktır.
B. Geri dönüşüme önem verirsek dünyamız yeşil ve yaşanabilir olacaktır.
C. Dünyamızın merkezinde çiçekler açacaktır.

- I. Piknik alanlarında kontrolsüz ateş yakılması.
II. Ağaç dikme kampanyaları başlatılarak yeni ormanlar yaratılması.
III. Deniz, göl ve okyanuslara fabrika atıklarının boşaltılması.

5. Yukarıdakilerden hangileri doğal çevreye zarar verir?

- A. I ve II
B. II ve III
C. I ve III

6. Aşağıdakilerden hangisi doğal anıt olarak nitelendirilebilir?

- A.  Ağrı Dağı
B.  Atatürk Barajı
C.  Pamukkale Travertenleri

❖ *Aşağıdaki boşlukları uygun kelimelerle dolduralım.*



dayatmak



saygı



empati



dil



kültür



misafirperver



kardeşliği

- Farklı kültürden insanların bir arada yaşaması ülkemizdeki geliştirir.
- Ülkemizde yaşamını devam ettiren yabancı kişilere karşıolmalıyız.
- Farklı kültürlerin bir arada özgürce yaşamasının temelinde vardır.
- Ülkemizde geçici ya da kalıcı olarak ikamet eden yabancılara karşı kurmalıyız.
- Kendi kültür ve düşüncemizin en doğrusu olduğunu insanlara yanlış bir tutumdur.
- Ülkemizdeki yabancılara yaşadığı en büyük problemler ve problemidir.

❖ *Aşağıdaki bilgilerden doğru olanlara (D), yanlış olanlara (Y) yazalım.*

- (...) Bizim yaşadığımız ülke ya da şehre gelen insanlar bizim kültürümüze göre hareket etmeli.
- (...) Biz başkalarının düşünce ve inançlarına saygı duymazsak onlar da bize saygı duymaz.
- (...) Farklı kültürlerin bir arada yaşaması insanları daha anlayışlı ve hoşgörülü yapar.
- (...) Her insanın kendi kültür ve geleneğini yaşatma hakkı vardır.

❖ *Aşağıdaki soruları cevaplayalım.*

1. Aşağıdakilerden hangisi farklı kültürler arasında değişiklik göstermez?

- A. Yöresel yemekler
- B. Dinlenen müzikler
- C. Çocuk hakları

2. Kültürüne yabancı olduğumuz bir toplumda yaşarken en çok hangisinde zorlanırsınız?

- A. Uyum sağlamakta.
- B. Uyumakta
- C. Nefes almakta.



Meksika Peru Rusya Fransa

3. Yukarıdaki görsel ile ilgili yapılan yorumlardan hangisi doğrudur?

- A. İnsanlar kendi kültür ve geleneklerine göre giyinirler.
- B. Ülkemizde yaşayan farklı kültürden insanlar kıyafet seçmeyi bilmemektedir.
- C. Herkes bizim ülkemizde kullanılan kıyafetlerden satın alarak giymelidir.