

İNCE İŞLER TAM BİZE GÖRE

Desenlere dikkat ederek boyayalım. Kediye bir isim koyacak olsanız bu isim ne olurdu?.....

Funda Menekşe




ÖYKÜYÜ TAMAMLAYALIM

Giriş kısmı verilen öyküyü tamamlayalım.
Öyküye başlık yazalım.



Can'ın öğretmeni onlara çok farklı bir ödev vermişti. Kendilerine bir konu belirlemelerini ve o konuyla ilgili kısa bir video çekmelerini istemişti. Bu ödev Can'ı çok heyecanlandırmıştı. Ödevini yapmak için bir hafta zamanı vardı. Ancak iki gün geçmesine rağmen hâlâ hangi konuda video hazırlayacağını bulamamıştı. Annesi ile konuşurken aklına şahane bir fikir geldi. Artık hangi konuda film çekeceğini biliyordu.

Sayıların en yakın onluğa yuvarlanışlarını altlarına yazalım.






TEST ZAMANI- Türkçe

1- "Gamze ipten kısa parçalar kesti." cümlesinde altı çizili sözcüğün zıt anlamlısı hangi cümlede yer almaktadır?

- a) Küçük kardeşim uzak bir şehirde yaşıyor.
b) Boyum daha uzun olsaydı basketbol oynamak isterdim.
c) Elbisem ufak geldiği için giyemedim.

2- Aşağıdakilerden hangisinin isminde diğerlerinden daha fazla sayıda hece vardır?

- a)  b)  c) 

3- Aşağıdaki kelimelerden hangisi sözlükte diğerlerinden sonra gelir?

- a) şemsiye b) kemer c) atkı

4- "Eyvah() Saati fark etmedim () Acaba süt ocağa taştı mı ()" cümlesinde yer alan boşluklara gelmesi gereken noktalama işaretlerinin sırası hangisinde doğru verilmiştir?

- a) ! . ? b) ! ? ? c) , ? .

5- "Her sabah mutlaka

Fırçalarım dişlerimi

Saçlarımı tararım

Temiz tutarım elbisemi"

Yukarıda bir şiirin ilk kıtası verilmiştir. Bu şiir aşağıdakilerden hangisiyle ilgili olabilir?

- a) orman sevgisi b) kişisel bakım c) temel ihtiyaçlar


6- "Atatürk çok büyük bir liderdir." cümlesinde kaç tane kelime vardır?

- a) 5 b) 10 c) 11

TOPLAMA YAPALIM

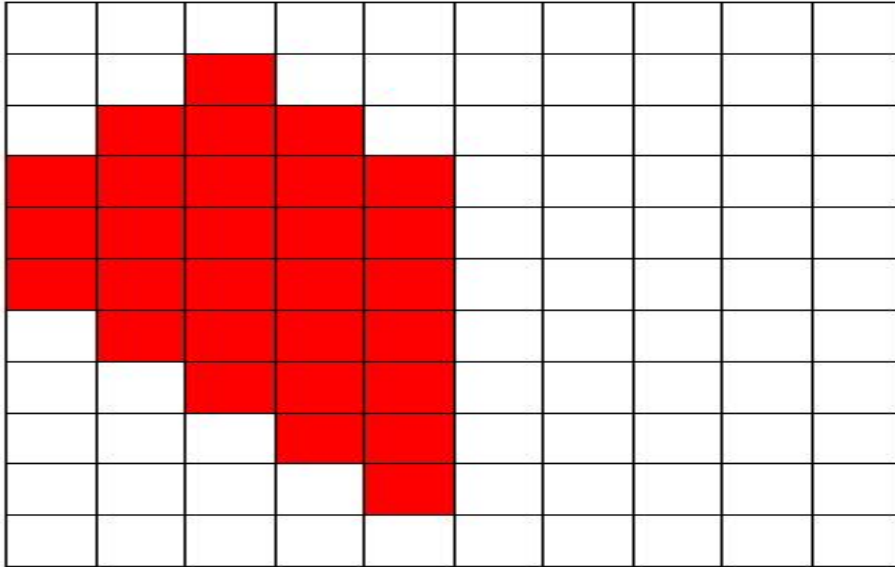

Aşağıdaki işlemleri yapalım, görseli yönergeye göre boyayalım.

94- SARI 62- SİYAH 77-PEMBE 54- TURUNCU
49- KIRMIZI 81- YEŞİL 85- KAHVERENGİ Kalan boşluklar
açık mavi boyanmalıdır.



KODLAMA YAPALIM

Simetrik kodlama çalışmalarını verilen tarafa bakarak tamamlayalım.



ŞİİR ÇALIŞMASI


Şiiri okuyalım ve soruları şiire göre cevaplayalım. Görseli boyayalım.

KUŞLAR

Sıcak yuvamızda,
Yatağıma yatınca,
Aklıma gelir kuşlar,
Onlar hep sokaktalar.

Hava soğuk olunca,
Kar lapa lapa yağınca,
Nasıl yemek bulur kuşlar?
Soğukta üşümez mi hayvanlar?

Bazen yalnız kalınca,
İzlerim onları usulca,
Ne güzel kanatları var,
Keşke uçabilseydi çocuklar.



Funda Menekşe

1- Şairin aklına kuşlar ne zaman geliyormuş?

.....

2- Şair kuşlarla ilgili neleri merak ediyor?

.....

3- Şairin çocuklarla ilgili dileği nedir?

.....

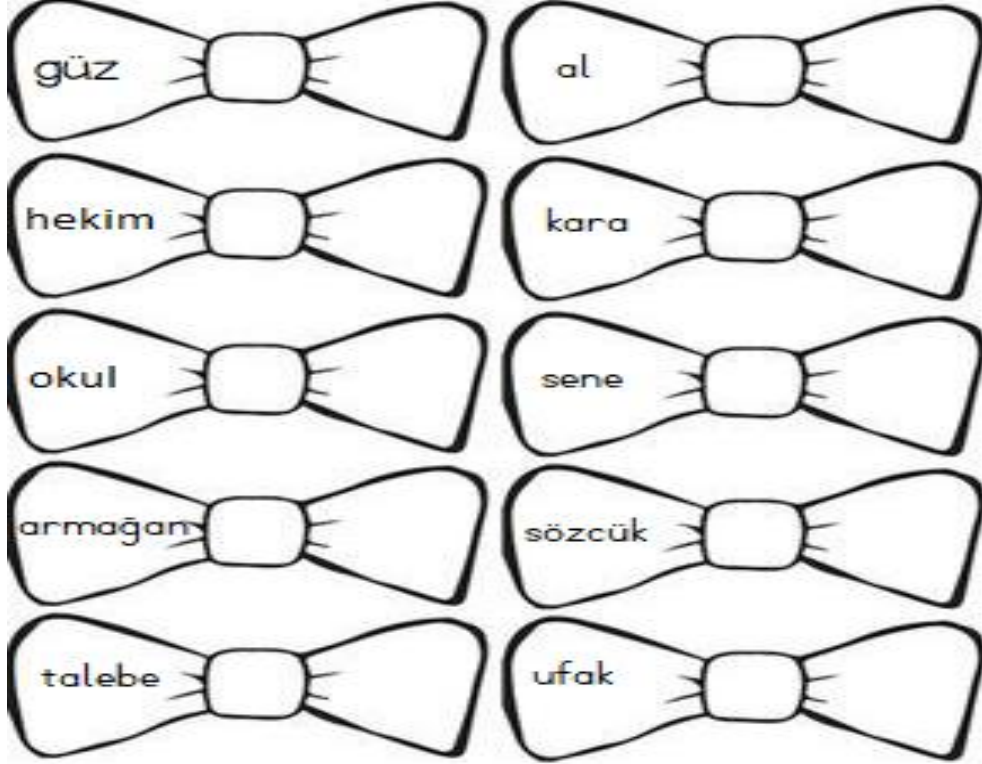
4- Şiirde yer alan altı çizili sözcüğün anlamını öğrenip yazalım.

.....

.....

EŞ ANLAMLI KELİMELER

Kurdelelerde verilen kelimelerin eş anlamlılarını yanlarına yazalım.




Verilen kelimelerin eş anlamlılarını kullanarak birer cümle yazalım.

- 1-
- 2-
- 3-
- 4-
- 5-
- 6-
- 7-
- 8-
- 9-
- 10-

PROBLEMLİ MAĞAZA

Ahmet Bey'in mağazasında fiyatlar şu şekildedir:



İşlemleri yapalım, boşlukları dolduralım.

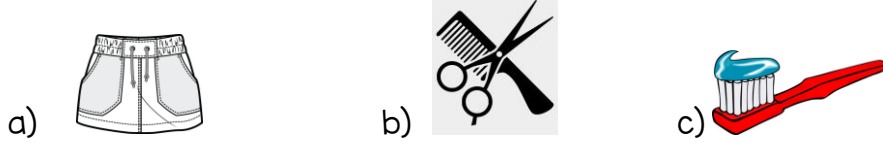
- 1- Cem bir mont ve bir pantolon alınca TL öder.
- 2- Bir elbise, bir ayakkabı alan Nalan TL öder.
- 3- Bir gömlek ve bir şort alan Ali 50 TL verince..... TL para üzeri almalıdır.
- 4- Mont ile şapkanın fiyat farkı TL'dir.
- 5- 50 lirası olan Elif etek ve çanta almak istiyor. TL daha biriktirmelidir.
- 6- Mağazadaki en pahalı ürün ile en ucuz ürünün fiyatları toplamı ile eteğin fiyatının farkı TL'dir.
- 7- Pantolon, şapka ve kazak alınca TL ödeyen birinin 100 liralık alışveriş yapmış olması için..... TL gerekir.

TEST ZAMANI- Hayat Bilgisi

1- Aşağıdakilerden hangisinde okulların açıldığı ay ve mevsim doğru verilmiştir?

- a) Haziran- yaz b) Eylül- kış c) Nisan- ilkbahar

2- Aşağıdakilerden hangisi kişisel bakım için kullanılmaz?



3- Begüm kişisel farklılıklara saygılı bir çocuktur. Aşağıdakilerden hangisi Begüm'ün davranışı olamaz?

- a) Arkadaşıyla kısa boyu sebebiyle alay etmek
b) Resimde yetenekli olan arkadaşının başarısını tebrik etmek
c) Görme engelli arkadaşının merdivenleri çıkmasına yardım etmek

4- Menekşe Mahallesi, en kalabalık olan sokak, Çınar ağacının yanındaki apartman, Ayşe Hanım'ın alt katı



Ayla arkadaşına adresini veriyordu. Verdiği adres tarifinde en güvenilir bilgi aşağıdakilerden hangisidir?

- a) sokak adresi b) apartman adresi c) mahalle adresi

5- Aşağıdakilerden hangisi sağlıklı beslenen Fulya'nın yemek tercihlerinden biri değildir?



TEKRAR ZAMANI


- Verilen sayıların okunuşunu yazalım.

54:

60:

18:

92:



- Sayıları büyükten küçüğe doğru sıralayalım.

45, 31, 90, 48 :

27, 87, 77, 37 :

- Verilen sayılardan bir önce ve bir sonra gelen sayıları yazalım.

..... 78 52..... 60..... 19.....

- Sayıları onluk ve birliklerine ayırarak yazalım.

67: birlik +onluk 84: +

92: onluk +birlik 30: +

- Sayılar tek ise başına T, çift ise başına Ç harfini yazalım.

(.....) 63 (.....) 27 (.....) 56 (.....) 20 (.....) 15

(.....) 38 (.....) 11 (.....) 59 (.....) 72 (.....) 34

- Örüntülerde verilmeyen sayıyı bulalım.

8-10-12-.....-16-.....-20-.....-24-26-.....-30

5-8-11-.....-14-17-.....-23-.....-29-.....

.....-60-50-.....-30-.....-10

16- 20-24-.....-32-.....- 40- 44-.....

KELİME AVI

Soruların yanıtlarını bulmacada bularak boyayalım. Kalan harflerin oluşturduğu şifreyi yazalım.

İ	T	F	A	İ	Y	E	S
A	M	A	S	A	L	K	O
T	I	V	A	T	A	N	N
A	T	A	T	Ü	R	K	B
K	B	B	A	Y	A	T	A
A	O	A	M	C	A	Ş	H
R	T	S	E	Y	İ	T	A
E	O	T	O	B	Ü	S	R

- 1- Ülkemizin kurucusunun adı
- 2- Yaz mevsiminden sonra gelen mevsim
- 3- Dört kenarı ve dört köşesi bulunan ve tüm kenar uzunlukları eşit olan geometrik şekil
- 4- Yangın söndürmek işini üstlenen meslek
- 5- Kahramanları gerçek olmayan, hayali yerlerde geçen olayların anlatıldığı metin türü
- 6- Bir toplu ulaşım aracı
- 7- Yelesi ve kuyruğu olan, insanlarla iyi geçinen bir hayvan
- 8- Yurt kelimesinin eş anlamlısı
- 9- Kışın ayaklarımıza giydiğimiz bir tür ayakkabı
- 10- Babamızın erkek kardeşi
- 11- Çanakkale Savaşında kahramanlık göstermiş bir onbaşının adı
- 12- Taze sözcüğünün zıt anlamlısı

Şifre:

OKU, ANLA, BOYA

Metni okuyalım ve görseli metne göre boyayalım.



Metin, Ece ve Selen aynı apartmanda oturuyorlardı. Birbirlerini çok seven bu üç arkadaş neredeyse her gün buluşurlardı.

Ece bir sabah erkenden uyandı. Gece boyu yağan kar her tarafı beyaza boyamıştı. Hemen arkadaşlarıyla buluşma planı yaptı. Sarı saçlarına kocaman kırmızı kurdeleler taktı. Mor beresini taktı. Pembe kabanını üzerine geçirdi. En sevdiği rengarenk atkısını sardı. Bahçeye indi.

Selen ve Metin çoktan inmiş kardan adam yapmaya başlamışlardı bile. Selen yine turuncu tulumunu giymişti. Ellerinde yeşil eldivenler vardı. Metin'in kabanı kahverengiydi. Sarı tüyleri olan kabanının şapkasını takmayı unutmuştu, üzütecekti. Ece, Metin'i bu konuda uyardı. İşin ilginç yanı hepsi de siyah botlar giyorlardı.

Ece, büyüdüğünde modacı olmak istiyordu. Bu sebeple kıyafetlere çok dikkat ediyordu. Ama şimdi bunları düşünmeyi bırakıp oyuna başlamalıydı. Yoksa tüm eğlenceyi kaçırıncaktı.

SAKLANAN SAYIYI BUL

Toplama işlemlerinde verilmeyen toplananı bulalım.

$$\begin{array}{r} \square \\ +23 \\ \hline 55 \end{array}$$
$$\begin{array}{r} 56 \\ +\square \\ \hline 87 \end{array}$$
$$\begin{array}{r} \square \\ +22 \\ \hline 45 \end{array}$$
$$\begin{array}{r} 56 \\ +\square \\ \hline 63 \end{array}$$
$$\begin{array}{r} \square \\ +18 \\ \hline 51 \end{array}$$
$$\begin{array}{r} 32 \\ +\square \\ \hline 65 \end{array}$$

$$\begin{array}{r} 14 \\ +\square \\ \hline 46 \end{array}$$
$$\begin{array}{r} \square \\ +17 \\ \hline 39 \end{array}$$
$$\begin{array}{r} 23 \\ +\square \\ \hline 74 \end{array}$$
$$\begin{array}{r} \square \\ +41 \\ \hline 52 \end{array}$$
$$\begin{array}{r} 11 \\ +\square \\ \hline 42 \end{array}$$
$$\begin{array}{r} \square \\ +11 \\ \hline 35 \end{array}$$

$$\begin{array}{r} \square \\ +14 \\ \hline 23 \end{array}$$
$$\begin{array}{r} 10 \\ +\square \\ \hline 30 \end{array}$$
$$\begin{array}{r} \square \\ +15 \\ \hline 85 \end{array}$$
$$\begin{array}{r} 25 \\ +\square \\ \hline 77 \end{array}$$
$$\begin{array}{r} \square \\ +36 \\ \hline 56 \end{array}$$
$$\begin{array}{r} 22 \\ +\square \\ \hline 23 \end{array}$$

$$\begin{array}{r} 18 \\ +\square \\ \hline 79 \end{array}$$
$$\begin{array}{r} \square \\ +34 \\ \hline 44 \end{array}$$
$$\begin{array}{r} 14 \\ +\square \\ \hline 24 \end{array}$$
$$\begin{array}{r} \square \\ +30 \\ \hline 35 \end{array}$$
$$\begin{array}{r} 37 \\ +\square \\ \hline 88 \end{array}$$
$$\begin{array}{r} \square \\ +41 \\ \hline 98 \end{array}$$

$$\begin{array}{r} \square \\ +33 \\ \hline 76 \end{array}$$
$$\begin{array}{r} 24 \\ +\square \\ \hline 85 \end{array}$$
$$\begin{array}{r} 36 \\ +\square \\ \hline 57 \end{array}$$
$$\begin{array}{r} 13 \\ +\square \\ \hline 64 \end{array}$$
$$\begin{array}{r} 22 \\ +\square \\ \hline 88 \end{array}$$
$$\begin{array}{r} \square \\ +12 \\ \hline 66 \end{array}$$

ÇIKARMALI MI TOPLAMALI MI? (TaÇ)

Çıkarma işlemlerinde verilmeyeni bulalım.

$$\begin{array}{r} 86 \\ \square \\ \hline 55 \end{array}$$
$$\begin{array}{r} 49 \\ \square \\ \hline 35 \end{array}$$
$$\begin{array}{r} 68 \\ \square \\ \hline 45 \end{array}$$
$$\begin{array}{r} 96 \\ \square \\ \hline 63 \end{array}$$
$$\begin{array}{r} 75 \\ \square \\ \hline 51 \end{array}$$
$$\begin{array}{r} 45 \\ \square \\ \hline 23 \end{array}$$

$$\begin{array}{r} 66 \\ \square \\ \hline 46 \end{array}$$
$$\begin{array}{r} 52 \\ \square \\ \hline 32 \end{array}$$
$$\begin{array}{r} 99 \\ \square \\ \hline 74 \end{array}$$
$$\begin{array}{r} 78 \\ \square \\ \hline 52 \end{array}$$
$$\begin{array}{r} 55 \\ \square \\ \hline 42 \end{array}$$
$$\begin{array}{r} 66 \\ \square \\ \hline 35 \end{array}$$

$$\begin{array}{r} 38 \\ \square \\ \hline 23 \end{array}$$
$$\begin{array}{r} 50 \\ \square \\ \hline 30 \end{array}$$
$$\begin{array}{r} 29 \\ \square \\ \hline 13 \end{array}$$
$$\begin{array}{r} 44 \\ \square \\ \hline 12 \end{array}$$
$$\begin{array}{r} 81 \\ \square \\ \hline 21 \end{array}$$
$$\begin{array}{r} 24 \\ \square \\ \hline 23 \end{array}$$

$$\begin{array}{r} \square \\ -23 \\ \hline 55 \end{array}$$
$$\begin{array}{r} \square \\ -12 \\ \hline 35 \end{array}$$
$$\begin{array}{r} \square \\ -22 \\ \hline 45 \end{array}$$
$$\begin{array}{r} \square \\ -30 \\ \hline 63 \end{array}$$
$$\begin{array}{r} \square \\ -18 \\ \hline 51 \end{array}$$
$$\begin{array}{r} \square \\ -14 \\ \hline 23 \end{array}$$

$$\begin{array}{r} \square \\ -21 \\ \hline 46 \end{array}$$
$$\begin{array}{r} \square \\ -17 \\ \hline 32 \end{array}$$
$$\begin{array}{r} \square \\ -20 \\ \hline 74 \end{array}$$
$$\begin{array}{r} \square \\ -41 \\ \hline 52 \end{array}$$
$$\begin{array}{r} \square \\ -33 \\ \hline 42 \end{array}$$
$$\begin{array}{r} \square \\ -11 \\ \hline 35 \end{array}$$

İLGİNÇ SORULAR

1- Anne ve baban senin çocuğun olsaydı onlara ne söylemek isterdin?

.....

.....

.....

.....

2- Denizaltında yaşıyor olsaydın hangi hayvanla arkadaş olmak isterdin? Neden?

.....

.....

.....

.....

3- Bir süper kahraman olsan nasıl bir süper gücün olmasını isterdin? Neden?

.....

.....

.....

.....

TEKRAR ZAMANI

- Verilen kelimeleri hecelerine ayıralım.

tekerlekli	kalpsiz
tutumlu	oyuncuların

- Kelimeleri numaralandırarak sözlük sırasına göre sıralayalım.

kaplumbağa	yelek	çam
tırtıl	pantolon	söğüt
balina	elbise	kavak

- Verilen kavramlarla ilgili aklımıza gelen üç kelimeyi yazalım.

doğa	Atatürk	Türkiye

HAYATIN İÇİNDEN BİLGİLER

Verilen görsellerde yer alan besinleri yararlarına göre gruplandıralım, isimlerini uygun yerlere yazalım.



Hastalıklardan
korur

Enerji verir

Kemiklerimizi
güçlendirir,
büyümemizi
sağlar

Aşağıdaki çocuklar yemek yerken hangi görgü kurallarına uymamışlar, altlarına yazalım.



BİZ DOĞRUSUNU YAZABİLİRİZ

Verilen cümlelerde bazı hatalar yapılmıştır. Hataları düzelterek cümleyi yeniden yazalım.

- 1- Köpeğim boncuk sürekli uyuyor.
.....
- 2- Okulumuz menekşe caddesi üzerindedir.
.....
- 3- Babam her sabah milliyet gazetesi okur.
.....
- 4- Yeni bitirdiğim kitap olan Havanın yazarı hüseyin toy'dur.
.....
- 5- Sabah neden geç kaldın.
.....
- 6- Her işimde atatürkü örnek alıyorum.
.....
- 7- Bu yıl ingilizce öğrenirsem, seneye amerikaya gideceğim.
.....
- 8- Ülkemizin en yüksek dağı ağırı dağı'dır.
.....
- 9- Annem yada baba bana yardım eder.
.....
- 10- Bu kurabiyeleri selin pastanesi satıyor.
.....
- 11- Ben mustafa öner ilkokulu öğrencisiyim.
.....
- 12- Şairin, sözümüz var adlı şiirini okudunmu.
.....

PROBLEM CANAVARI İŞ BAŞINDA

4 ve 2'yi birer kez kullanarak yazabileceğimiz en büyük ve en küçük sayının toplamı kaçtır?



Ayşe 12 yaşındadır. Annesi ondan 27 yaş büyüktür. Babası ise annesinden 3 yaş büyüktür. Ayşe'nin babası kaç yaşındadır?

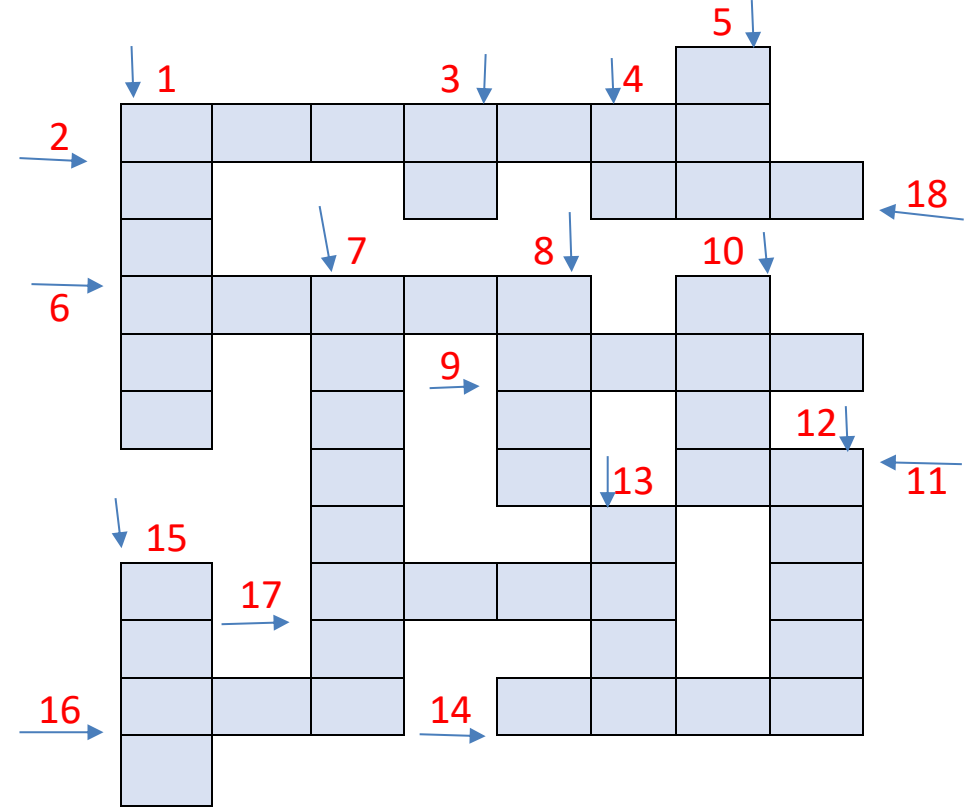
Onlar basamağındaki sayının sayı değeri 4 olan en büyük sayısının 21 eksiği kaçtır?

İki düzine kalemim vardı. 3 deste daha kalem aldım. Kaç kalemim oldu?

Bir sürahi meyve suyuyla beş bardak meyve suyu ikram eden İpek Hanım, 15 kişi için kaç sürahi meyve suyu hazırlamalıdır?

BULMACA ZAMANI

Verilen kelimelerin eş anlamlılarını kullanarak bulmacayı çözelim



- | | |
|------------|-----------|
| 1- uslu | 10- yapı |
| 2- hediye | 11- isim |
| 3- beyaz | 12- derya |
| 4- kırmızı | 13- küçük |
| 5- Anne | 14- uyarı |
| 6- dil | 15- düşün |
| 7- güz | 16- mekân |
| 8- sevinç | 17- ses |
| 9- tutsak | 18- söz |

