

ÖDÜLLÜ

ÜCRETSİZ

2,3 ve 4. Sınıflara
TÜRKİYE GENELİ
ONLINE DENEME SINAVI

Başlangıç Tarihi ve Saati:
2 Nisan 2021 10.00

Bitiş Tarihi ve Saati:
4 Nisan 2021 22.00



1 Öğrenciye Tablet

5 Öğrenciye Akıllı Bileklik

En Başarılı İlk 3 Sınıfa Hikaye Seti



Kayıt Ol

Deneme Sınavı, sınav bitiş tarihinden sonra pdf olarak indirilebilecektir.
Deneme bitiş tarihinden itibaren Kazanım Analizli Sonuç Karnesi verilecektir.

Ad Soyad:.....
Sınıfı:.....
Numarası:.....



AT İLE KURT

Atın biri çayırdaki otlarken, uzaktan bir kurdun geldiğini görmüş.

Kurdun kendisini yiyeceğini anlayınca yalancıkta topallamaya başlamış. Kurt iyice yaklaşmış:

-Ne oldu sana böyle, niçin topallıyorsun? diye sormuş.

At:

-Bir tarladan geçiyordum, ayağıma diken

battı. Beni nasıl olsa yiyeceksin. Bari şu dikenin çıkar da ağzını acıtmasın, demiş.

Kurt, dikenin çıkarmak için atın ayağını kaldırmış. Dikenin aramaya başlamış. Tam o sırada at, kurdun ağzına bir çifte vurmuş. Kurdun dişlerini döküvermiş. At arkasına bakmadan oradan uzaklaşmış.

Ağzı burnu kan içinde atın gidişini seyreden kurt:

-Oh olsun bana. Kasaplık dururken, doktorluk benim neyime, demiş.



❖ Aşağıdaki soruları metne göre cevaplayınız.

1) Hikâyede hangi hayvanlar geçmektedir?

.....
.....

2) At çayırdaki ne yapıyormuş?

.....
.....

3) At niçin topallamış?

.....
.....

4) At, kurdun neresine vurmuş?

.....
.....

5) Atın kaçışını seyreden kurt ne demiş?

.....
.....

❖ Aşağıdaki kelimelerin zıt anlamlarını karşılıklarına yazınız.

sıcak		
gündüz		
yakın		
koyu		
tok		
yoksul		
barış		
geri		


❖ Aşağıdaki ön adları (sıfat) birer cümle içinde kullanınız.

kırmızı kalem	→	
iki kitap	→	
üçgen çadır	→	
kırık cam	→	
yeni mont	→	
yaş pasta	→	
yaramaz çocuk	→	
minik kedi	→	
acı biber	→	
yarım ekmek	→	

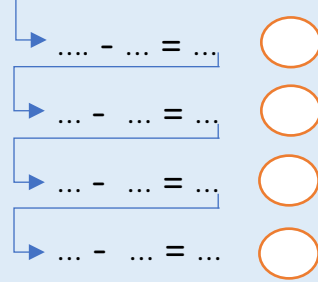
❖ Aşağıdaki sıfatların, isimlerin hangi özelliklerini belirttiğini işaretleyiniz.

	RENK	SAYI	BİÇİM	DURUM
üç kalem				
mavi balon				
çalışkan çocuk				
üçgen peynir				
hızlı araba				

❖ 10 kuşu 2 yuvaya eşit paylaşalım.



$$10 - 2 = 8$$




..... gruba ayrıldı

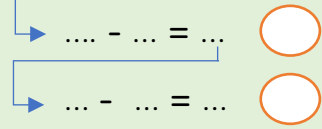
$$\begin{array}{r} 10 \\ - 2 \\ \hline \dots \\ \dots \end{array}$$

$$10 \div 2 = \dots$$

❖ 9 havucu 3 tavşana eşit paylaşalım.



$$\dots - \dots = \dots$$




..... gruba ayrıldı

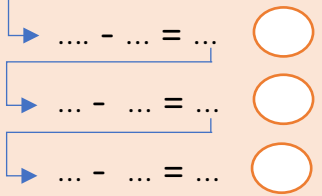
$$\begin{array}{r} \dots \\ - \dots \\ \hline \dots \\ \dots \end{array}$$

$$\dots \div \dots = \dots$$

❖ 12 elmayı 3 tabağa eşit paylaşalım.



$$\dots - \dots = \dots$$



..... gruba ayrıldı

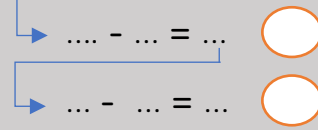
$$\begin{array}{r} \dots \\ - \dots \\ \hline \dots \\ \dots \end{array}$$

$$\dots \div \dots = \dots$$

❖ 15 topu 5 çocuğa eşit paylaşalım.



$$\dots - \dots = \dots$$



..... gruba ayrıldı

$$\begin{array}{r} \dots \\ - \dots \\ \hline \dots \\ \dots \end{array}$$

$$\dots \div \dots = \dots$$

❖ Aşağıdaki bölme işlemlerini yapınız.

$$\begin{array}{r} 16 \\ \hline 4 \end{array} \quad \begin{array}{r} 25 \\ \hline 5 \end{array} \quad \begin{array}{r} 42 \\ \hline 6 \end{array} \quad \begin{array}{r} 36 \\ \hline 6 \end{array} \quad \begin{array}{r} 32 \\ \hline 4 \end{array} \quad \begin{array}{r} 18 \\ \hline 3 \end{array}$$

$$\begin{array}{r} 20 \\ \hline 4 \end{array} \quad \begin{array}{r} 49 \\ \hline 7 \end{array} \quad \begin{array}{r} 72 \\ \hline 9 \end{array} \quad \begin{array}{r} 48 \\ \hline 8 \end{array} \quad \begin{array}{r} 36 \\ \hline 4 \end{array} \quad \begin{array}{r} 21 \\ \hline 3 \end{array}$$

$$\begin{array}{r} 28 \\ \hline 4 \end{array} \quad \begin{array}{r} 16 \\ \hline 2 \end{array} \quad \begin{array}{r} 20 \\ \hline 5 \end{array} \quad \begin{array}{r} 54 \\ \hline 6 \end{array} \quad \begin{array}{r} 12 \\ \hline 3 \end{array} \quad \begin{array}{r} 18 \\ \hline 2 \end{array}$$

❖ Aşağıdaki bölme işlemlerini yapınız.

$9 \div 3 = \dots\dots$

$10 \div 5 = \dots\dots$

$20 \div 5 = \dots\dots$

$35 \div 5 = \dots\dots$

$12 \div 2 = \dots\dots$

$12 \div 3 = \dots\dots$

$28 \div 4 = \dots\dots$

$36 \div 4 = \dots\dots$

$24 \div 3 = \dots\dots$

$30 \div 5 = \dots\dots$

$24 \div 4 = \dots\dots$

$10 \div 2 = \dots\dots$

$15 \div 3 = \dots\dots$

$45 \div 5 = \dots\dots$

$40 \div 5 = \dots\dots$

$50 \div 5 = \dots\dots$

$14 \div 2 = \dots\dots$

$18 \div 3 = \dots\dots$

$20 \div 4 = \dots\dots$

$24 \div 3 = \dots\dots$

$8 \div 2 = \dots\dots$

$16 \div 4 = \dots\dots$

$36 \div 6 = \dots\dots$

$16 \div 4 = \dots\dots$

TÜRKİYE İLLER HARTASI



❖ Haritada numaralandırılmış denizleri isimleri ile eşleştiriniz.

KARADENİZ

AKDENİZ

EGE DENİZİ

❖ Ülkemizin komşularını aşağıdaki boşluklara yazınız.

❖ Aşağıdaki soruların cevaplarını bulmacada gösterilen yerlere yazınız.

1) Ülkemizin adı nedir?

2) Başkentimizin adı nedir?

3) Ülkemizin topraklarının çoğu hangi kıtada bulunur?

4) Ülkemizin sınırları içinde bulunan denizin adı nedir?

