

TARLA KUŞU İLE YAVRULARI

Tarla kuşunun biri , bir mısır tarlasına yuva yapmış. Yavruları ile birlikte orada yaşıyormuş. Yanlarından hiç ayrılmıyor , onları tehlikelerden koruyormuş. Yalnızca , sabah saatlerinde yuvasını terk edip , yavrularını yalnız bırakmak zorunda kalıyormuş. Çünkü her sabah onları doyurması gerekiyormuş. Giderken "Aman! " diyormuş." Çevrenizde ne konuşulursa dikkatlice dinleyin. " diye tembihliyormuş yavrularını.



Bir gün yine yem aramaya gitmiş tarla kuşu. Tam o sırada tarlanın sahibi, ürününü kontrol etmek için tarlasına çıkagelmiş :

-Komşuları çağırıp , mısırları toplamanın zamanı geldi artık , demiş.

Yavru kuşlar bu söylenenleri sessizce dinlemişler. Anneleri geldiğinde ise hemen olanları anlatmışlar. " Başka bir yere taşınalım. " diye yalvar yakar

olmuşlar. " Acele etmeyin. " demiş anneleri. " Komşularına güveniyorsa , daha zaman var. Komşularının mısırları hala toplanmadı. " demiş.

Ertesi gün tarla sahibi tarlasına tekrar gelmiş. " Zamanımız daralıyor. Komşularımın işi varmış. Akrabalarımı çağırayım. " demiş. Yavrular , o akşam olanları daha büyük bir heyecanla annelerine anlatmışlar. " Merak etmeyin. Akrabalarının ürünleri de hala tarlada. Akrabaları da kendi ürünlerini toplamadan buraya gelemezler. Siz yine gözünüzü dört açın. " demiş.

Aradan günler geçmiş. Tarladaki ürünler çürümeye yüz tutmuş. Tarla sahibi bir kez daha tarlasına gelmiş. " Artık ne komşularıma ne akrabalarımın güvenebilirim. Mısırları kendimiz toplamalıyız. " demiş. O akşam yavrular bu duyduklarını da annelerine anlatınca , tarla kuşu :

-Toparlanın. Yarından tezi yok buradan gidiyoruz. İnsan, başkalarına güvenmeyip kendi işini yapmaya karar verirse , ozaman korkun.



❖ Aşağıdaki soruları metne göre cevaplayınız.

❖ Tümcelerin, nedenini ve sonucunu yazınız.

1- Tarla kuşu yavrularını nasıl tembihlemiş ?

Kulaklarını dört açmalarını ve etrafta konuşulanları iyi dinlemelerini tembihlemiş.

2- Yavru kuşlar neden yalvar yakar olmuşlar ?

Çiftçinin ürünleri toplamasından korktukları için yalvar yakar olmuşlar.

3- Çiftçi , kimlerden yardım istemiş ?

Akrabalarında ve komşularından yardım istemiş.

4- Çiftçi, ne zaman ürünlerini kendisinin toplaması gerektiğini düşünmüş ? Kimseden yardım alamayacağını görünce düşünmüş.

5- Anne kuş , taşınmaya ne zaman karar vermiş ?

Çiftçi kendi işini yapmaya karar verdiği zaman.

Çok yorulduğum için gidemedim.

Neden
Çok yorulmam

Sonuç
Gidememem

Çalışmadığı için kötü not aldı.

Neden
Çalışmaması

Sonuç
Kötü not alması

Neden sonuç

❖ Aşağıdaki tümceleri, neden sonuç tümcesi haline getiriniz. Tümcenin kalan kısmını altlarındaki boşluklara yazınız.

Montumu giymeyi unuttum, bu yüzden

↓

hasta oldum.



Eda'nın sözleri beni üzdü, bu yüzden

↓

çok kırıldım.

Filmi izlerken heyecanlandım çünkü

↓

film çok heyecanlıydı.

❖ Aşağıdaki neden sonuç tümcelerini okuyunuz. Nedenini ve sonucunu boşluklara yazınız.

Sabah uyanamadın çünkü gece geç yattın.

Sude'nin sağlığı bozulduğundan hastaneye gitti.

Neden

Gece geç yattın

Sonuç

Sabah uyanamadın

Neden

Sağlığı bozulduğundan

Sonuç

Hastaneye gitti.

❖ Aşağıdaki tümceler yarım bırakılmış. Bu tümceler neden sonuç tümceleri olmaları için, yan taraftaki parçaları ile eşleştiriniz. İlgili yerlere numaralarını yazınız.

Tatlıyı çok sevdiğinden 3

Hasta olduğundan 4

Çok konuştuğu için 1

Hayvanları çok sevdiğinden dolayı 2

1 tahtaya ismi yazıldı.

2 evine kuş almış.

3 dayanamadı yedi.

4 okula gidemedi.

Bölme işlemi gerektiren problemler

1- Kamil Bey'in 632 TL parası vardır .
40 TL parası daha olsaydı her torununa
ayrı ayrı 32 TL verebilecekti. Kamil
Bey'in kaç torunu vardır ?

Çözüm :

$$632 + 40 = 672$$

$$672 / 32 = 21$$

A) 15

B) 20

C) 21

D) 25

2- Kalansız bir bölme işleminde bölünen
sayı 208 'dir. Bölüm 52 olduğuna göre ,
bölen sayının 2 katı kaçtır ?

Çözüm :

$$208 / 52 = 4$$

$$4 \times 2 = 8$$

A) 4

B) 8

C) 16

D) 18

3- Cevizin kilogramını 21 TL'den alıp ,
35 TL'ye satıyorum. 742 TL kar
ettiğime göre, kaç kilogram ceviz sattım ?

Çözüm :

$$35 - 21 = 14$$

$$742 / 14 = 53$$

A) 14

B) 34

C) 53

D) 63

4- Bir çiftlikteki kuzu ve civcivlerin
ayaklarının toplamı 272' dir. Bu
çiftlikte 78 civciv olduğuna göre kaç tane
kuzu vardır ?

Çözüm :

$$78 \times 2 = 156$$

$$272 - 156 = 116$$

$$116 / 4 = 29$$

A) 29

B) 156

C) 116

D) 194

5- 12 tanesi 240 TL olan toplardan ,
33 tane aldım. Topların tümüne kaç TL
vermiş olurum ?

Çözüm :

$$240 / 12 = 20$$

$$33 \times 20 = 660$$

A) 20

B) 66

C) 660

D) 880

6- Haftada 147 litre süt üreten çiftlikte ,
sütün litresi 4 TL'den satılıyor. Bu çiftlikte
süt satışından , bir günde kaç TL
kazanılıyor ?

Çözüm :

$$147 / 7 = 21$$

$$21 \times 4 = 84$$

A) 500

B) 588

C) 84

D) 96

Bölme ve çarpma ilişkisi

❖ Aşağıdaki bölme işlemlerini yapınız. Bölme ve çarpma arasındaki ilişkiyi kullanarak, doğruluklarını kontrol ediniz.

❖ Aşağıdaki çarpma işlemlerini yapınız. Çarpma ve bölme arasındaki ilişkiyi kullanarak, doğruluklarını kontrol ediniz.

<u>İşlem</u>	<u>Kontrol</u>
$\begin{array}{r} 525 \overline{) 25} \\ \underline{50} \\ 025 \\ \underline{25} \\ 000 \end{array}$	$\begin{array}{r} 25 \\ \times 21 \\ \hline 25 \\ 50 \\ \hline 525 \end{array}$

<u>İşlem</u>	<u>Kontrol</u>
$\begin{array}{r} 24 \\ \times 23 \\ \hline 72 \\ 48 \\ \hline 552 \end{array}$	$\begin{array}{r} 552 \overline{) 24} \\ \underline{48} \\ 072 \\ \underline{72} \\ 000 \end{array}$

<u>İşlem</u>	<u>Kontrol</u>
$\begin{array}{r} 768 \overline{) 32} \\ \underline{64} \\ 128 \\ \underline{128} \\ 000 \end{array}$	$\begin{array}{r} 32 \\ \times 24 \\ \hline 128 \\ 64 \\ \hline 768 \end{array}$

<u>İşlem</u>	<u>Kontrol</u>
$\begin{array}{r} 32 \\ \times 25 \\ \hline 160 \\ 64 \\ \hline 800 \end{array}$	$\begin{array}{r} 800 \overline{) 32} \\ \underline{64} \\ 160 \\ \underline{160} \\ 000 \end{array}$

Eşitlikte verilmeyeni bulma

❖ Aşağıdaki eşitliklerde verilmeyen sayıyı bulunuz.

$$16 + 24 = 60 - 20$$

$$72 \div 8 = 42 - 33$$

$$69 - 24 = 5 \times 9$$

$$16 + 24 = 60 - 20$$

$$6 \times 4 = 44 - 20$$

$$82 - 9 = 52 + 21$$

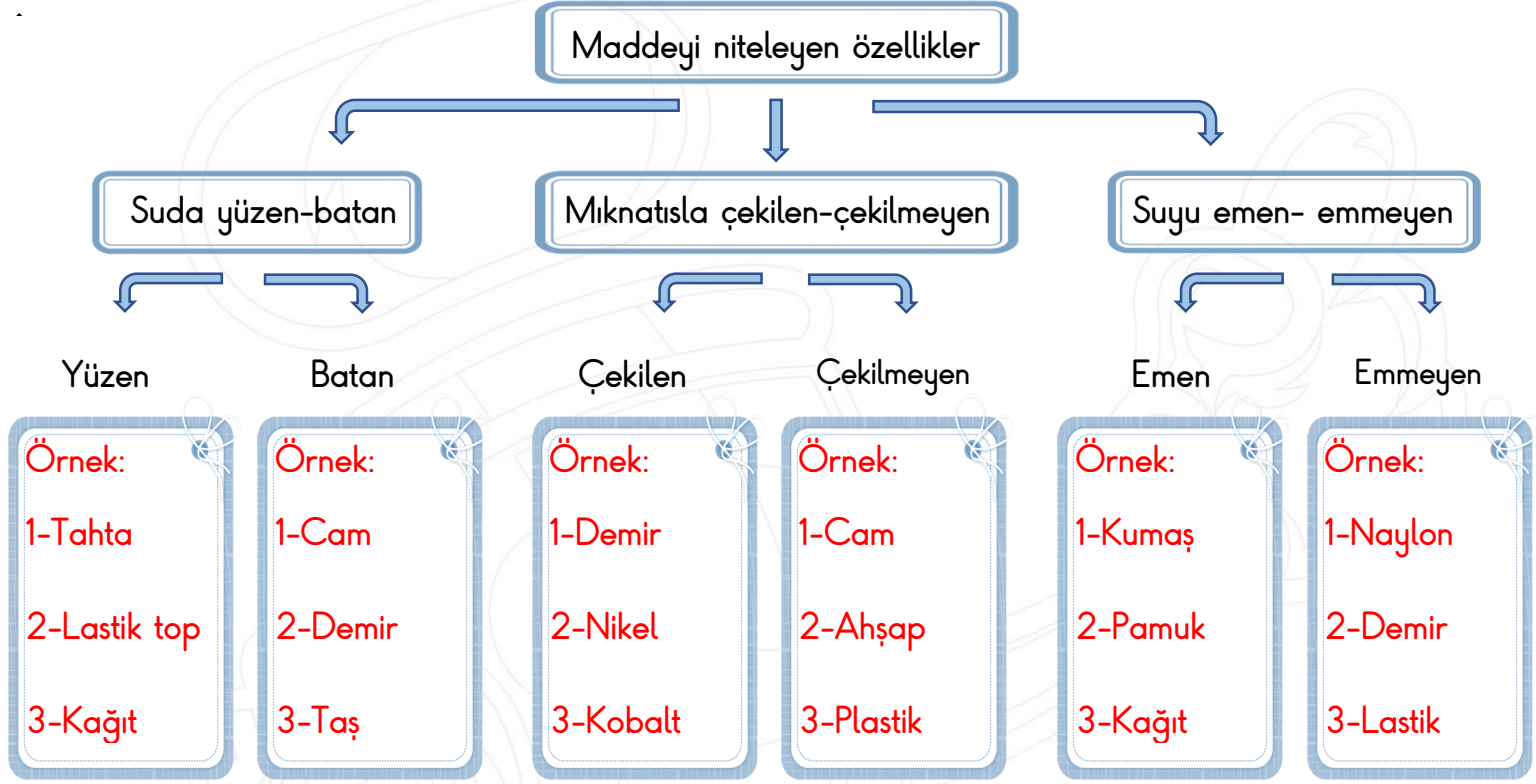
$$84 \div 4 = 33 - 12$$

$$32 + 48 = 1600 \div 20$$

$$20 \times 2 = 80 \div 2$$

Maddeyi niteleyen özellikler

- ❖ Aşağıda, maddeyi niteleyen özellikler konusunun şeması vardır. Bu şemayı inceleyiniz. Daha sonra boş bırakılan yerlere, uygun olan örneklerden üçer tane yazınız.



- ❖ Aşağıda maddeyi niteleyen özellikler ile ilgili tümceler kurulmuştur. Tümcelerdeki boşlukları uygun ifadeler ile doldurunuz.

naylon	mıknatıs	suda batan	maddeyi niteleyen
suyu emen	suda yüzen	kalem-silgi	demir- nikel

- ✚ Su yüzeyinde kalabilen ve batmayan maddelere **suda yüzen** maddeler denir.
- ✚ **Demir** ve **nikel** mıknatıs tarafından çekilen maddelerdir.
- ✚ Suyu emmeyen maddelere **naylon** örnek verilebilir.
- ✚ Cam , demir , taş gibi maddeler ne kadar küçük olurlar ise olsunlar **suda batan** maddelerdir.
- ✚ Demir , nikel ve kobalt **mıknatıs** tarafından çekilen maddelerdir.
- ✚ Mıknatıs **kalem** ve **silgiyi** çekmez.
- ✚ Suda batma ya da yüzmeye **maddeyi niteleyen** özelliklerdendir.
- ✚ Kumaş , peçete , gibi maddeler **suyu emen** maddelerdir.

Doğal afetler

❖ Doğru olan tümcelerın başına "D" , yanlış olanların başına ise "Y" koyunuz.

(D) Büyük kar kütlelerinin , titreşim sonucu kaymasıyla oluşan doğal afete çığ denir.

(Y) Okyanus tabanında oluşan depremlerin sonucunda oluşan su baskınlarına sel denir.

(Y) Deprem sırasında , deprem çantasını hazırlamalıyız.

(D) Toprak kaymasının önüne geçebilmek için , ağaçlandırma yapmalıyız.

(D) Yıldırım düşmesine alınabilecek en büyük önlem , paratoner takmaktır.

(D) Can ve mal kaybına yol açan doğa olaylarına doğal afet denir.

❖ Doğru olan tümcelerın başına "D" , yanlış olanların başına ise "Y" koyunuz.

dere yatağına

merdiven

heyelandır

çabuk bozulan

tsunami

fırtına

✚ Tsunami okyanus depremleri sonucunda oluşan büyük su baskınlarıdır.

✚ Deprem çantasına çabuk bozulan malzemeleri koymamalıyız.

✚ Deprem sırasında merdiven kullanmamalıyız.

✚ Saatte 100 - 110 km hızı bulan şiddetli rüzgarlara fırtına denir.

✚ Toprak kaymasının diğer adı heyelandır.

✚ Selden korunmak için dere yatağına ev yapmamalıyız.

❖ Aşağıdaki boşluklara , uygun olan bilgileri yazınız.

Öncesinde yapabileceklerimiz:

- 1- Sağalam evler yapmak
- 2- Deprem çantası hazırlamak



Deprem

Deprem sırasında yapabileceklerimiz:

- 1- Pencereden uzak durmak
- 2- Sağlam bir eşyanın altına girme



Sorasında yapabileceklerimiz:

- 1- Ses çıkarma ve düdük çalma
- 2- Dışardaysak enkaza dikkat etme

MİNİ TEST

1- Günde 152 kg elma toplayan bir çiftçi 5 gün boyunca topladığı elmaları 8 kg'lık poşetlere koyuyor. Kaç tane poşet kullanır?

- A) 760 kg B) 660 kg
 C) 95 kg D) 88 kg

$$\begin{array}{r} 23 \\ \times 14 \\ \hline \square\square \\ + \square\square \\ \hline \square\square\square \end{array}$$

$$\begin{array}{r} 322 \overline{) 14} \\ \underline{} \\ \square \\ \underline{} \\ \square \\ \underline{} \\ \square \end{array}$$

2- Yukarıda bir çarpma işlemi yapılmış. Daha sonra yan tarafındaki bölme işlemi ile kontrolü yapılmış. Bu bölme işlemindeki yerine hangi sayı gelmelidir ?

- A) 62 B) 52
 C) 23 D) 42

$3 \times 15 = 90$ $98 - \text{boy} = 62 + 10$

3- Yukarıdaki eşitliklerdeki bilinmeyenleri bulursak

+ = işleminin sonucu kaç olur?

- A) 26 B) 28
 C) 32 D) 2

Sevimli kedinin tüyleri bir anda diken diken olmuştu karşıdan gelen köpeği görmüştü.

4- Yukarıdaki cümlenin sebep sonuç cümlesi olması için boş bırakılan yere aşağıdakilerden hangisi gelebilir?

- A) bu yüzden B) bu nedenle
 C) çünkü D) olduğundan

5- Aşağıdaki seçeneklerden hangisinde sebep sonuç cümlesi vardır?

- A) Çok bunaldım artık bu işten.
 B) O yaramaz çocuk gitti, uslu bir çocuk geldi.
 C) Hemen eve gitmen gerekli mi?
 D) İki işi bir arada yapmaya çalıştığı için başarısız oldu.

Telefonlarını açmadığım için bana darılmış.

6- Yukarıdaki neden sonuç cümlesinin, sonuç bölümü aşağıdakilerden hangisidir?

- A) Telefonlarını açmadığım için
 B) Bana darılmış
 C) Açmadığım için
 D) Telefonlarını

Heyelan tehlikesine karşı en etkili yöntemtir.

7- Yukarıdaki tümceyi tamamlamak istersek , boş bırakılan yere aşağıdakilerden hangisini yazmalıyız ?

- A) Dere yataklarına ev yapmamak.
- B) Sağlam binalar yapmak.
- C) Ağaç dikmek.
- D) Eşyalarımızı duvara sabitlemek.



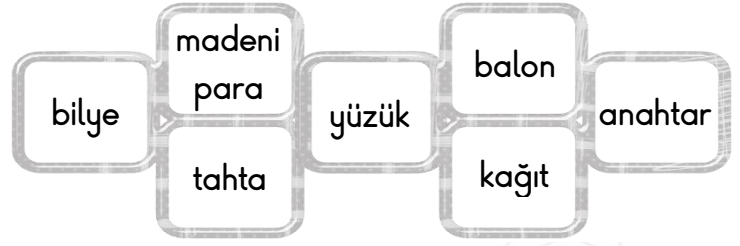
Benim ülkem Japonya. Ülkemde , okyanustan gelen büyük dalgaların yol açtığı tsunami felaketi yaşandı.

8- Bu çocuğun bahsettiği doğal afet olan tsunami nasıl oluşur ?

- A) Derelerin taşması sonucunda oluşur.
- B) Fırtına ile oluşan dev dalgalar sonucunda oluşur.
- C) Aşırı yağmurlar sonucunda oluşur.
- D) Okyanus tabanında , depremler ile oluşan hareketler sonucunda oluşur.

9- Uludağ'a kayak yapmaya giden bir ailenin , hangi doğal afete maruz kalma şansı daha yüksektir ?

- A) Sel
- B) Çığ
- C) Deprem
- D) Toprak kayması



10- Yukarıdaki cisimlerden kaç tanesi suda batar ?

- A) İki tanesi batar.
- B) Üç tanesi batar.
- C) Dört tanesi batar.
- D) Beş tanesi batar.




Suyu geçirmeyen maddeleri , kıyafet yapımında da kullanırız. Böylece kışın yağmurdan ve kardan korunuruz.

11 - Aşağıdaki seçeneklerden hangisi , yukarıda bahsedilen kıyafetlere örnek olabilir ?

- A) Kazak ve hırka
- B) Pantolon ve terlik
- C) Gömlek ve şapka
- D) Yağmurluk ve çizme

12- Aşağıdakilerden hangisi mıknatıs tarafından çekilir ?

A)



B)



C)



D)

