




FİLİN OBURLUĞU

Deve, zürafa, timsah, fil gibi iri hayvanlar arasında bir oburluk yarışması yapıldı. Hayvanat bahçesi o gün seyircilerle dolmuştu. Yarışmayı hangi hayvan kazandı, biliyor musunuz? Fil.



Yarışmayı nasıl kazandığını anlattı:

- Yetmiş avuç fıstık, altmış parça şekerleme, yirmi tane elma yedim. Bazı çocuklar yemeyeceğimi sanarak bana mendil, şapka gibi şeyler uzattılar. Ben de inadına onları da yedim.

İ. Hakkı SUNAT

(Kısaltılmıştır.)

1. Ne yarışması yapılmış?

2. Yarışmaya hangi hayvanlar katılmış?

3. Yarışmayı hangi hayvan kazanmış?

4. Fil kaç tane elma yemiş?

Alfabemizdeki 29 harfin 8 tanesi sesli harftir. Bunlar a, e, ı, i, o, ö, u, ü harfleridir. Sesli harfler, ağızımızın bir hareketiyle söylenir.

Etkinlik: Aşağıdaki varlıkların adlarını yazın. Bu varlıkların adındaki sesli harf sayısını işaretleyin.



arı

2

3

4



5

2

4



6

4

3



5

3

6



4

9

5



8

4

3

Etkinlik: Kelimelerdeki sesli harfleri yazalım.

Kelimeler	Sesli H.	Sayısı
Kitaplık	i - a - ı	3
Telefon		
Kapı		
Sinema		

Kelimeler	Sesli H.	Sayısı
Günaydın		
Saat		
Çamaşır		
Bilgisayar		

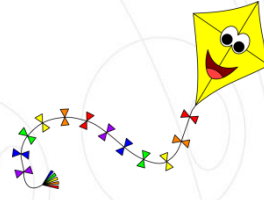
Alfabemizdeki 29 harfin 21 tanesi sessiz harftir. Bunlar b, c, ç, d, f, g, ğ, h, j, k, l, m, n, p, r, s, ş, t, v, y, z harfleridir. Sessiz harfler, "e" harfinin yardımıyla söylenir.

Etkinlik: Aşağıdaki varlıkların adlarını yazın. Bu varlıkların adındaki sessiz harf sayısını işaretleyin.



merdiven

5 8 4



5 3 4



6 4 3



5 3 4



4 7 5



7 4 5

Etkinlik: Kelimelerdeki sessiz harfleri yazalım.

Kelimeler	Sessiz Harfler	Sayısı
Bardak	b-r-d-k	4
Kamyon		
Yol		
Fırın		

Kelimeler	Sessiz Harfler	Sayısı
Market		
Duvar		
Elbise		
Buzdolabı		

Zihinden toplama işlemi yaparken büyük sayıyı 10'a tamamlarız. Sonra diğer sayıdan kalanı 10'a ekleriz.

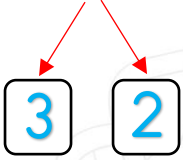
Örnek: $8 + 6 = ?$

8 sayısını 10'a tamamlarız. $8 + 2 = 10$

6'dan kalan 4 sayısını 10 sayısına ekleriz. $10 + 4 = 14$

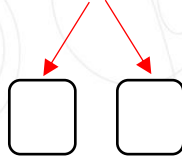
Etkinlik: Aşağıdaki toplama işlemlerini zihinden yapalım.

$$7 + 5 =$$



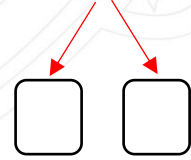
$$10 + 2 = 12$$

$$9 + 4 =$$



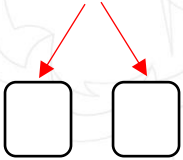
$$\dots + \dots = \dots$$

$$8 + 3 =$$



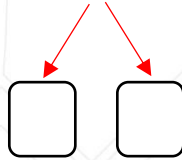
$$\dots + \dots = \dots$$

$$6 + 5 =$$



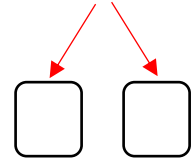
$$\dots + \dots = \dots$$

$$8 + 7 =$$



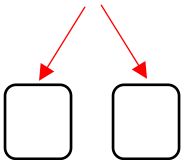
$$\dots + \dots = \dots$$

$$9 + 2 =$$



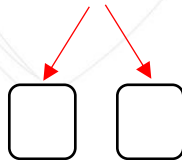
$$\dots + \dots = \dots$$

$$7 + 6 =$$



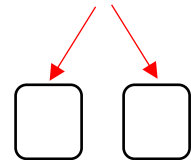
$$\dots + \dots = \dots$$

$$9 + 5 =$$



$$\dots + \dots = \dots$$

$$8 + 6 =$$



$$\dots + \dots = \dots$$

Her gün sabah, öğle ve akşam olmak üzere üç öğün yemek yeriz. Besinleri öğünlere göre tüketmemiz gerekir.

Kahvaltıda; peynir, zeytin, bal, yumurta gibi ürünler tercih ederiz. Öğle ve akşam yemeklerinde ise; et, sebze, pilav, çorba, salata gibi yemekler tercih ederiz.

Etkinlik: Sabah kahvaltıda yediklerimizi işaretleyelim.

















Etkinlik: Aşağıya bir gün içinde yemek istediğiniz besinleri, öğünlerine göre yazalım.

Sabah

Öğle

Akşam

1.
2.
3.

1.
2.
3.

1.
2.
3.