

KİM DAHA İYİ GÖRÜYOR?

Adamın biri, ilk defa gittiği küçük bir kasabada şaşkın şaşkın gezindikten sonra yol kenarında duran bir arabanın yanına sokulmuş ve arka koltukta tek başına oturan çocuğa:

-Buraların yabancıyım, demiş. Parkın hemen yanı başındaki fırını arıyorum, çok yakın olduğunu söylediler.

Çocuk, arabanın penceresini iyice açtıktan sonra:

-Ben de buraya ilk defa geliyorum. Ama sağ tarafa gitmeniz gerekiyor herhalde.

Adam çocuğun da yabancı olmasına rağmen bunu nasıl anladığını sormuş ister istemez. Çocuk:

-İhlamur çiçeklerinin kokusunu duyuyor musunuz? Kuş civıltıları da oradan geliyor zaten, diye gülümsemiş.

-İyi ama, bunların parktan değil de tek bir ağaçtan gelmediği ne malum?

-Tek bir ağaçtan bu kadar yoğun koku gelmez. Üstelik, manolyalar da katılıyor onlara.

Hem biraz derin nefes alırsanız, fırından yeni çıkmış ekmeklerin kokusunu duyacaksınız.

Adam, gözlerini hafifçe kısarak denileni yaptıktan sonra, cebinden bir kâğıt para çıkartıp teşekkür ederken fark etmiş çocuğun kör olduğunu. Çocuk ise, konuşurken bir anda sözlerini yarıda kesmesinden anlamış, adamın kendisini fark ettiğini.

-Üç yıl önce bir kaza geçirmiştım, görmeyi o kadar çok özledim ki sizinkiler sağlam öyle değil mi?

Adam çocuğun tarif ettiği yerde bulunan fırına yönelirken:

-Artık emin değilim, demiş. Emin olduğum tek şey, benden iyi gördüğündür.



❖ Aşağıdaki soruları metne göre cevaplayınız.

1) Adam neden şaşkın şaşkın geziyormuş?
Kasabaya ilk defa geldiği için şaşkın şaşkın
geziyormuş.

2) Adam kimden yardım istemiş?
Arabının arka koltuğunda tek başına
oturan çocuktan yardım istemiş.

3) Çocuk fırının yerini nasıl anlamış?
Parktaki ağaçların ve çiçeklerin kokusundan
ve taze ekmeğin kokusundan anlamış.

4) Çocuk adamın sözünü yarıda bırakmasından ne anlamış?
Adamın, kendisinin kör olduğunu öğrendiğini
anlamış.

5) Çocuk neden göremiyormuş?
Üç yıl önce kaza geçirdiği için
göremiyormuş.

6) Adamın artık emin olduğu şey nedir?
Emin olduğu şey, çocuğun kendisinden daha
iyi gördüğüyümüş.

MINİ TEST

1- Aşağıdaki sözcük gruplarını karşılaştığımızda hangisi dışarıda kalır?

- A) kır - yol B) yukarı - aşağı
C) usta - acemi

2- "Bu sabah güneş pırıl pırıldı, gökyüzü de" cümlesinde noktalı yere aşağıdakilerden hangisi gelmelidir?

- A) karanlıktı B) masmaviydi
C) yağmurluydu

3- "Can'ın çok gözleri vardı." cümlesinde noktalı yere aşağıdakilerden hangisi gelemez?

- A) parlak B) güzel C) beyaz

4- "Meral Hanım süslü, bakımlı ve oldukça genç bir" cümlesinde noktalı yere aşağıdakilerden hangisi gelmelidir?

- A) kadındı B) çocuktu
C) beyefendi

5- "Yuvarlak bir çevresine oturup toplantıya başladılar." cümlesinde noktalı yere aşağıdakilerden hangisi gelmelidir?

- A) odanın B) masanın C) pastanın

6- Aşağıdakilerden hangisi cümledir?

- A) Yeni evimizin bahçesi
B) Dün okula giderken
 C) Yarın okula gideceğim

7- Hangi seçenekteki kelimelerle anlamlı bir cümle yapabiliriz?

- A) Tatilden - biz - dün
B) Öğretmenimiz - bir - yeni - bekliyoruz
 C) Yeni -dün -aldım -bir -saat

8- Aşağıdaki kelimelerden anlamlı bir cümle oluşturulduğunda baştan üçüncü kelime hangisi olur?

- gibidir - ikinci - okul - bizim - evimiz
A) bizim B) ikinci C) gibidir

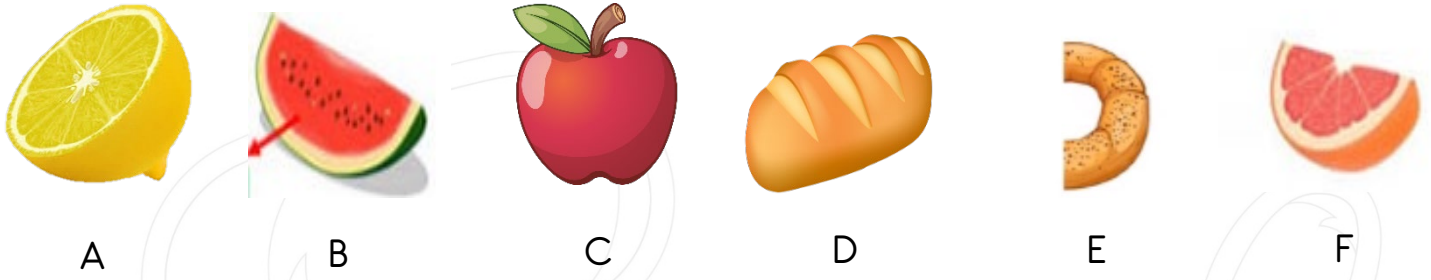
9- Soru işareti hangi cümlede yanlış kullanılmıştır?

- A) Berna geldi mi?
B) Ellerini yıkadın mı?
 C) Ödevlerimi yaptım?

10- "Sabahleyin erken kalkarım. Yüzümü yıkarım. Kahvaltımı yaparım." sözünde kaç cümle vardır?

- A) 1 B) 2 C) 3

❖ Aşağıdaki görselleri uygun sözcüklerle eşleştiriniz.



B - F



A - E



C - D

❖ Aşağıdaki noktalı yerlere uygun sayıları yazınız.

1 bütün²..... yarım eder.

1 bütün⁴..... çeyrek eder.

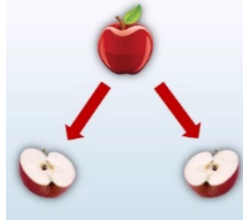
1 yarım²..... çeyrek eder.

8 çeyrek²..... bütün eder.

4 bütün⁸..... yarım eder.

2 yarım⁴..... çeyrek eder.

10 çeyrek⁵..... yarım eder.



3 bütün¹²..... çeyrek eder.

6 yarım¹²..... çeyrek eder.

4 çeyrek²..... yarım eder.

8 yarım⁴..... bütün eder.

5 bütün²⁰..... çeyrek eder.

10 yarım⁵..... bütün eder.

3 yarım⁶..... çeyrek eder.

❖ Aşağıdaki ifadelerden doğru olanların başına 'D', yanlış olanların başına 'Y' yazınız.

(**D**...) Bir bütünün iki eşit parçaya bölünmesi ile yarım oluşur.

(**Y**...) Çeyrek, bir bütünün üç eşit parçasından her birinin adıdır.

(**Y**...) 5 yarım içinde 8 tane çeyrek vardır.

(**D**...) 12 yarım dan 6 bütün oluşturulur.

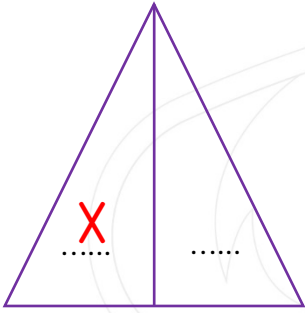
(**D**...) 8 çeyrek ve 6 yarım dan 5 bütün oluşturulur.

(**Y**...) 6 çeyrek ve 5 yarım 3 bütün oluşturur.

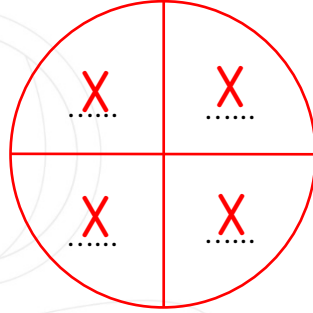
(**Y**...) Çeyrek, yarım dan daha büyük parçadır.



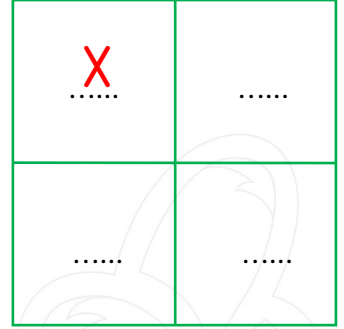
- ❖ Aşağıda verilen şekillerin istenilen kadarını boyayınız. (Etkinliği etkileşimli olarak yapan öğrenciler şekillerin istenilen kadar kısmına X işareti koyarak yapabilirler.)



Yarım



Bütün




Çeyrek

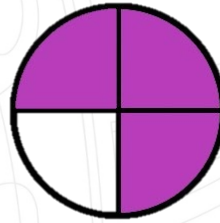
- ❖ Aşağıdaki şekillerden yarısı boyalı olanları işaretleyiniz.



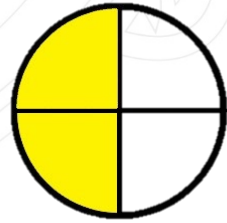
.....



X

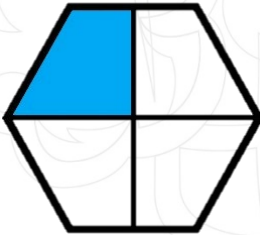


.....

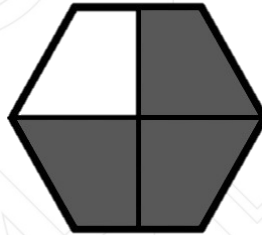


X

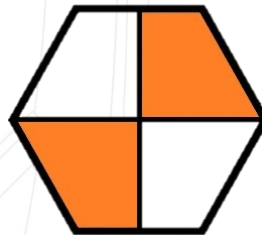
- ❖ Aşağıdaki şekillerden çeyreği boyalı olanları işaretleyiniz.



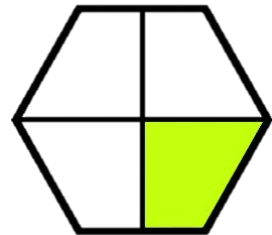
X



.....

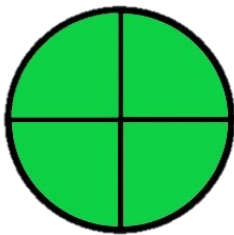


.....




X

- ❖ Aşağıda verilenlerden yanlış olanları işaretleyiniz.



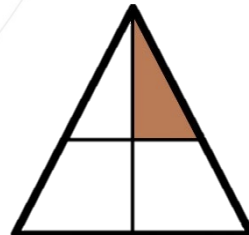
Bütün

.....



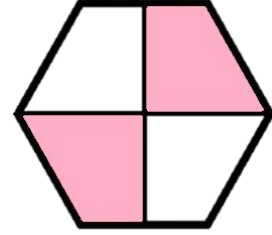
Çeyrek

X



Çeyrek

X



Yarım

.....

- ❖ Aşağıda verilen cümlelerde boş bırakılan yerleri uygun ifadelerle tamamlayınız.



Ulusça kutladığımız bayramlara **Milli**
Bayramlar denir. Bizim**beş**... tane Milli Bayramımız vardır. Milli Bayramlarda, sınıflar, okullar, caddeler ve sokaklar **bayraklarla** donatılır. Törenlerde **Atatürk** büstüne çelenk konur. Saygı duruşu yapılır. **İstiklal** **Marsı**..... söylenir. Şiirler okunur. Milli oyunlar oynanır. Dini bayramlar, dinimiz açısından **önemli** ve kutsal sayılan günlerde kutladığımız sevinçli günlerimizdir.

MINİ TEST

3- "Milletçe kutladığımız birlik ve beraberliğimizi sağlayan önemli günlerdir"

Yukarıdaki cümle aşağıdakilerden hangisinden bahsetmektedir?

- A) Dini Bayramlar
 B) Birlik bayramları
 C) Milli bayramlar

4- Cumhuriyet ne zaman ilan edildi?

- A) 24 Kasım
 B) 28 Eylül
 C) 29 Ekim

5- 19 Mayıs gününü Atatürk kimlere bayram olarak armağan etmiştir?

- A) Çocuklara
 B) Yaşlılara
 C) Gençlere

1- "19 Mayıs Atatürk'ü Anma Bayramı" noktalı yere ne gelmelidir?

- A) Gençlik ve Atletizm
 B) Atletizm ve Spor
 C) Gençlik ve Spor

2- Büyük Millet Meclisi ne zaman açıldı?

- A) 19 Mayıs
 B) 23 Nisan
 C) 30 Ağustos

6- "23 Nisan ve Çocuk Bayramı" noktalı yere ne gelmelidir?

- A) Ulusal Bayram
 B) Bayram Egemenlik
 C) Ulusal Egemenlik