



### KAYIP KANGURU

Ormanın birinde mutlu bir kanguru ailesi yaşıyordu. Baba kanguru, anne kanguru ve abla kanguru ailelerine yavru kangurunun katılmasını bekliyorlardı. Bu ailenin mutluluğu yavru kangurunun doğmasıyla bir kat daha arttı. Hele abla kanguru kardeşinin doğmasına o kadar çok sevinmişti ki, minik kardeşiyle oynayacağı günlerin hayalini kurmaya başlamıştı bile. Günler günleri kovaladı. Minik kanguru her gün biraz daha büyüdü. Artık kesenin dışına çıkabiliyordu.



Bir gün abla kanguru annesinden izin almadan, Kardeşini kesesine koyup dışarıya çıktı. Dışarıda hava çok güzeldi. Bütün arkadaşları da dışarıda oyun oynuyor olmalıydı. Onların yanına gitmeye karar verdi. Kardeşini arkadaşları da görsün istiyordu. Arkadaşları minik kanguruyu görünce çok sevindiler. Herkes hoplayıp zıplamaya başladı. Minik kanguru da onlar ne yapıyorsa aynılarını yapmaya çalıştı. Çok eğlendi. Ancak yavru kanguru çok yorulduğunu hissetti. İlk defa dışarıda oyun oynuyordu. Temiz hava minik kangurunun uykusunu getirmişti. Hemen ablasının kesesine zıpladı ve orada uykuya daldı. Abla kanguru kendisini o kadar oyuna kaptırmıştı ki, bunu fark edemedi. Bir ara abla kanguru etrafına bakındı. Kardeşi ortalıkta görünmüyordu. Bir kaç kez kardeşine seslendi ama cevap alamadı. Arkadaşlarına sordu. "Biz de görmedik." dediler. Abla kanguru çok endişelendi. Ne yapacağını bilemedi. Arkadaşları ile kardeşini aramaya başladılar. Ama yavru kanguruyu bulamadılar. Abla Kanguru, eve gidip olanı biteni anne ve babasına anlattı. "Ne yapacağız şimdi? Ya başına bir şey gelirse." diye düşünmeye başladılar ailecek. Hava kararmıştı. Tüm mahalle halkı yavru kanguruyu aramaya başladı. Ama yavru kanguru ortada yoktu. Herkes ne yapalım diye düşünüp karar vermek için yavru kangurunun evinde toplandı. Tam o sırada yavru kanguru ablasının kesesinden fırlayıverdi. Hem de uykusunu almış, neşeli bir şekilde etrafına gülücükler saçıyordu. "Anne çok açtım." diyerek ortalıkta zıplamaya başladı. Kanguru ailesi ve mahalle halkı sevinçten ne yapacaklarını şaşırılmışlardı. Minik kanguruyu ablasının kesesinde aramak akıllarına gelmemişti.

Anne kanguru, abla kanguruya yaklaşıp, "Benden izin almadan bu gibi şeyler yaptığında çok üzülüyorum. Bir daha bizden habersiz kardeşini dışarıya çıkarma. O daha çok küçük" dedi. Zaten çok korkan abla, "Bundan sonra daha dikkatli olmalıyım." diye düşünerek. Neşe içinde zıplayan kardeşinin arkasından sevinçle bakakaldı.

❖ *Aşağıdaki soruları metne göre cevaplayalım.*

1. Kanguru ailesinin mutluluğunu artıran şey nedir?

.....

2. Uykudan uyanan minik kangurunun ilk sözleri ne olmuş?

.....

3. Yorulan minik kanguru nerede uykuya dalmış?

.....

❖ *Aşağıdaki kelimelerin anlamlarını bulup cümle içinde kullanalım.*

kese

Anlamı: .....

Cümle: .....

endişe

Anlamı: .....

Cümle: .....

❖ Aşağıdaki adlardan özel ad olanlara ( Ö ), tür adı olanlara ( T ) yazalım.

Ayakkabı

Kızılırmak

Güleç Sokak

Karabaş

İnsan

Araba

Dünya

Şekerlik

İngiltere

Galatasaray

Çiçek

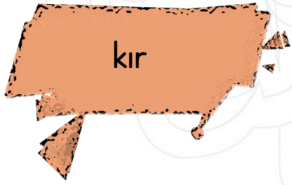
Köpek

❖ Aşağıdaki sestek kelimeyi iki farklı anlamıyla cümle içinde kullanalım.



1. Anlamı: .....

2. Anlamı: .....



1. Anlamı: .....

2. Anlamı: .....

❖ Aşağıdaki cümlelerdeki altı çizili kelimelerin zıt anlamlılarını kullanarak yeni cümleler yazalım.

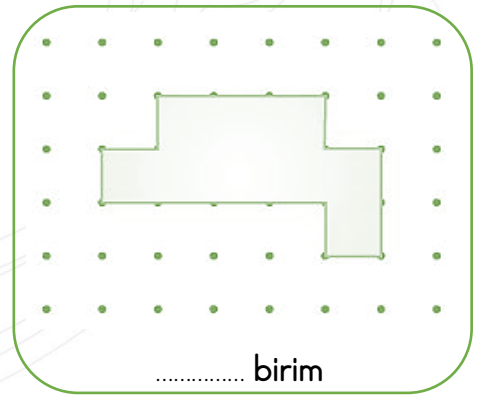
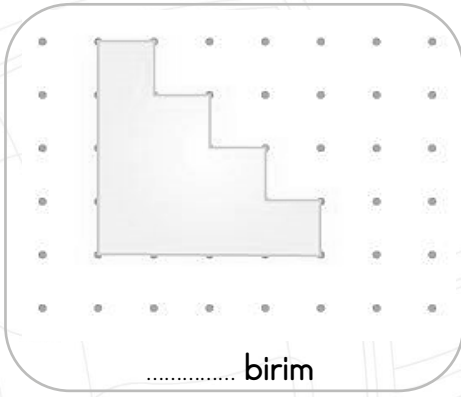
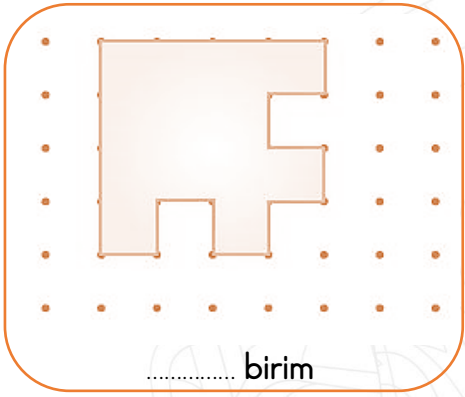
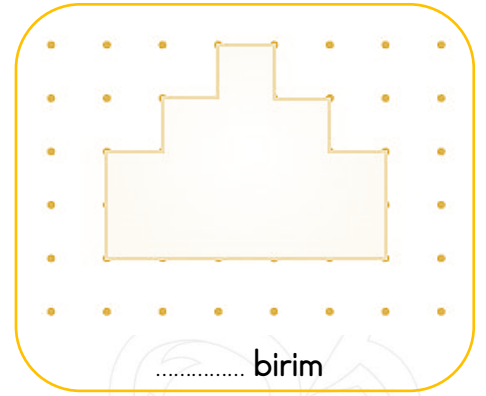
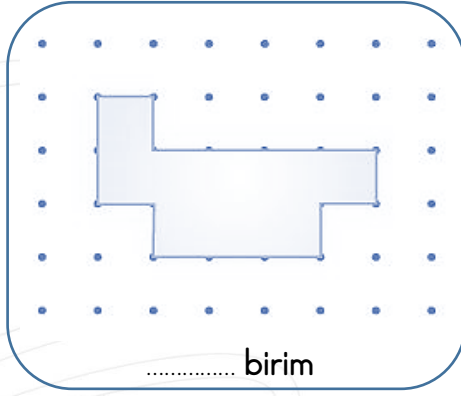
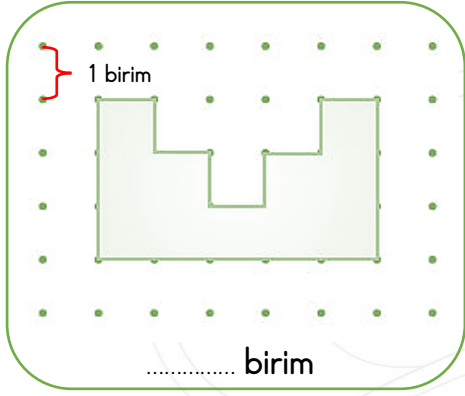
➤ Markete yeni gelen ürünlere indirim yapılmış.

➤ Arkadaşımın girdiği su çok derin değilmiş.

➤ Murat'ın üvey kardeşi de bizimle gelecekti.

➤ Komşumuzun kızı çok yaramaz bir çocuk.

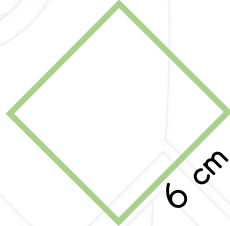
❖ Aşağıdaki şekillerin çevre uzunluklarını birim cinsinden yazalım.



❖ Aşağıdaki geometrik şekillerin çevre uzunluklarını hesaplayalım.



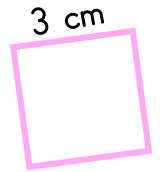
Çevre: ..... cm



Çevre: ..... cm



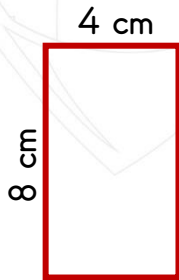
Çevre: ..... cm



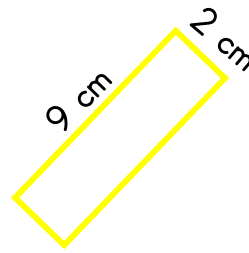
Çevre: ..... cm



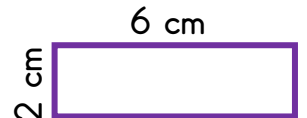
Çevre: ..... cm



Çevre: ..... cm



Çevre: ..... cm



Çevre: ..... cm



❖ *Aşağıdaki boşlukları uygun kelimelerle dolduralım.*



- Evimizdeki ..... elektrik kablolarını yenileriyle değiştirmemiz gerekir.
- Elektrikli aletleri kullanmaya başlamadan önce mutlaka .....na bakmalıyız.
- Elektrikli aletler amacına ve kuralına uygun kullanılmadığında ..... yol açabilir.
- Elektrikli aletlerin tamiri ..... kişiler tarafından yapılmalıdır.
- Elektrik çarpan birini gördüğümüzde kesinlikle ona çıplak elle ..... etmemeliyiz.
- Pil ile çalışan elektronik aletleri ..... takmak tehlikeli bir davranıştır.

❖ *Aşağıdaki bilgilerden doğru olanlara ( D ), yanlış olanlara ( Y ) yazalım.*

- ( ... ) Sokaktaki elektrik direklerinden kopmuş kabloları tutup kenara çekmeliyiz.
- ( ... ) Evlerimizdeki elektrikli aletler arızalandığında kendimiz tamir etmeyi denemeliyiz.
- ( ... ) Evlerimizdeki prizlere koruma kapağı takarak güvenlik önlemi alabiliriz.
- ( ... ) Ellerimiz ıslakken ve ayaklarımız çıplakken elektrikli aletlerle temas etmemeliyiz.
- ( ... ) Elektrikli eşyaları evlerde küçük çocukların kullanmasına bazen izin verebiliriz.

❖ *Aşağıdaki soruları cevaplandıralım.*

1. Elektrik akımının insan vücudundan geçerek devreyi tamamlamasına ne denir?

- A. Elektrik devresi                      B. Elektrik çarpması
- C. Kaçak elektrik

2. Aşağıdakilerden hangisinin yapılması doğru değildir?

- A. Prizleri çocukların ulaşamayacağı yüksekliğe yapmak.
- B. Elektrik kablolarını açıkta bırakmamak.
- C. İhtiyacımız olduğunda prize birden fazla fiş takmak.



3. Elektrik akımına kapılan birini gördüğümüzde yapacağımız en doğru davranış hangisi olur?

- A. Kaçarak hemen oradan uzaklaşmalıyız.
- B. Şalteri indirerek elektrik akımını kesmeliyiz.
- C. Elimize sert bir cisim alarak akıma kapılan bölgesine vurmeliyiz.

❖ *Aşağıdaki boşlukları uygun kelimelerle tamamlayalım.*

Rize

altında

don

Karadeniz

- Portakal, mandalina ve greylort ..... olayı yaşanan bölgelerde yetişmez.
- Ülkemizde fındık üretiminin büyük bir bölümü ..... bölgesinde yapılmaktadır.
- Turp, havuç ve patates gibi sebzeler toprağın ..... yetişirler.
- Çay ülkemizde bol yağış alan ve nemli toprakları bulunan ..... şehrinde yetişmektedir.

❖ *Aşağıdaki meyve ve sebzelerin yetişme koşullarını yanlarına yazalım.*



❖ *Aşağıdaki soruları cevaplayalım.*

1. Meyve ve sebzelerin yaşamak için en önemli ihtiyaçları aşağıdakilerden hangisidir?

- A. Gübre  
B. Rüzgâr  
C. Su

2. Aşağıdakilerden hangisi meyve ve sebzelerin yaşam şartlarını en iyi anlatır?

- A. Tüm bitkiler sıcak ortamları severler.  
B. Soğuk yerlerde hiçbir bitki yetişmez.  
C. Bitkilerin yaşamak için ihtiyaç duydukları ortam birbirinden farklı olabilir.

3. Aşağıdaki eşleştirmelerden hangisi doğrudur?

- A. Turp → Bitkinin yaprağıdır  
B. Fasulye → Bitkinin köküdür.  
C. Ayva → Bitkinin meyvesidir.

*Kırmızı rengim var. Yazları çok severim. Kulaklara küpe olurum.*

4. Yukarıda kendisini tanıtan meyve aşağıdakilerden hangisidir?

- A. Çilek  
B. Kiraz  
C. Elma

5. Aşağıdaki meyvelerden hangisi kışın sıcak havaya ihtiyaç duyar?

