



ÇOBAN HASAN

Hasan İzmir'in Şirince Köyü'nde yaşayan küçük bir çobandı. Her gün koyunlarını otlatmaya götürürdü. Ailesi onu zararlı hayvanlara karşı dikkatli olması konusunda sürekli uyarırdı. Özellikle yılanlar hakkında olumsuz düşünceler dile getirirlerdi.

Bir gün Çoban Hasan koyunlarını otlatmak için yine yaylaya çıktı. Koyunlar otlarken o da etrafı seyretmeye koyuldu. Birden uzakta bir kartal ile bir yılanın kavga ettiğini gördü. "Şu kötü yılan da zavallı kuştan ne istiyor?" diye içinden geçirdi. Eline bir taş alıp yılanı fırlatacakken aslında kuşun istese uçup gidebileceğini fark etti. Düşündü ki saldırıya uğrayan kartal değil, yılanı.

Hasan taşı yılanı atmaktan vazgeçip kartalın dikkatini başka yöne çekmek için çalılıklara attı. Kartal çalılıklara doğru uçunca yılan da kurtulmuş oldu.

Yılanın kurtulmasına sevinen Çoban Hasan o rahatlıkla ağacın gölgesine oturdu ve anladı ki insan duyduğu bilgileri araştırmadan, sorgulamadan hareket etmemelidir.

❖ Aşağıdaki soruları metne göre cevaplayın.

1. Okuduğunuz metnin konusu nedir?

2. Çoban Hasan hangi konuda yanlış düşünceye kapılmıştı?

3. Ailesi Çoban Hasan'ı hangi konuda sürekli uyarırdı?

4. Okuduğunuz metnin ana düşüncesi (ana fikri) nedir?

❖ Aşağıdaki satır sonuna sığmayan kelimelerden hangileri doğru ayrılmış ise altındaki kutuya (✓) işareti koyalım.

bilgisa - yar	a - raba	ayak - kabı	kit - aplık	kurus - oğan	kırta - siye
<input type="radio"/>	<input type="radio"/>	<input type="radio"/>	<input type="radio"/>	<input type="radio"/>	<input type="radio"/>

baş - öğretmen	yumur - ta	konser - ve	karnı - yarık	Kocat - epe	An - kara
<input type="radio"/>	<input type="radio"/>	<input type="radio"/>	<input type="radio"/>	<input type="radio"/>	<input type="radio"/>

❖ Aşağıdaki kelimeleri sözlük sırasına göre sıralayalım.

<input type="radio"/> telefon	<input type="radio"/> yumurta	<input type="radio"/> tenefüs	<input type="radio"/> balon	<input type="radio"/> buz
<input type="radio"/> teleferik	<input type="radio"/> yurt	<input type="radio"/> tekerlek	<input type="radio"/> bal	<input type="radio"/> buzağı
<input type="radio"/> terlik	<input type="radio"/> yumuşak	<input type="radio"/> kelek	<input type="radio"/> balkon	<input type="radio"/> buzluk
<input type="radio"/> telsiz	<input type="radio"/> yumruk	<input type="radio"/> kepek	<input type="radio"/> banyo	<input type="radio"/> tuzluk

❖ Aşağıdaki tabloyu uygun şekilde dolduralım.

KELİMELER	ÜNSÜZLER	İNCE ÜNLÜLER	KALIN ÜNLÜLER
salatalık
kelebek
yoğurtçu
kirtasiye
kömürlük
matematik
sandalye
centilmen

❖ Aşağıdaki kurbağacık 1. Kutudan başlayarak altında yazan bilgiye göre zıplayacak. Boş kalan kutuları tamamlayarak ona yardımcı olalım.



24	36	60
----	-------	----	-------	-------	-------	----	-------	-------	-------	-------

6'şar



21	28	49	91
----	----	-------	-------	----	-------	-------	-------	-------	-------	----

7'şer



8	32	48	8
---	-------	-------	----	-------	----	-------	-------	-------	-------	---

8'er



9	27	72
---	-------	----	-------	-------	-------	-------	----	-------	-------	-------

9'ar

❖ Aşağıdaki sayı örüntüsünün kuralını örnekteki gibi bulalım. Örüntüyü 4 kutu da biz ilerletelim.

64'ten başlayıp 4'er azalıyor.

64	60	56	52	48	44	40	36	32	28
----	----	----	----	----	----	----	----	----	----

.....

27	36	45	54	63	72				
----	----	----	----	----	----	--	--	--	--

.....

88	80	72	64	56	48				
----	----	----	----	----	----	--	--	--	--

.....

21	28	35	42	49	56				
----	----	----	----	----	----	--	--	--	--

❖ Aşağıdaki soruları cevaplayalım.

1. İleri doğru 7'şer sayarken 70'den önce söylediğimiz sayı hangisidir?

- A. 67
- B. 73
- C. 63

2. 24 ten başlayarak 6'şar ritmik sayma yaparken 3. ve 5. söylediğimiz sayıların toplamı kaçtır?

- A. 84
- B. 96
- C. 72



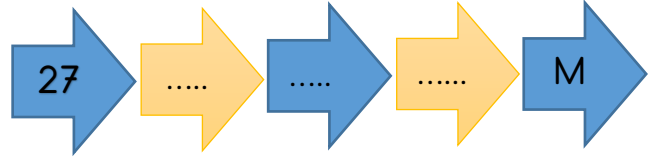
3. Yukarıdaki ritmik sayma geriye doğru 8'er saymadır. Boşluklara gelecek sayıların farkı kaçtır?

- A. 6
- B. 8
- C. 7



4. Yukarıdaki örüntünün kuralı aşağıdakilerden hangisidir?

- A. Geriye doğru 9'ar sayma.
- B. Geriye doğru 8'er sayma
- C. Geriye doğru 7'şer sayma



5. Yukarıdaki tabloyu ileriye doğru 9'ar doldurduğumda (M) yerine hangi sayı gelir?

- A. 54
- B. 72
- C. 63

6. 14 ten başlayarak 7'şer ritmik sayma yaparken 4. ve 6. söylediğimiz sayıların toplamı kaçtır?

- A. 84
- B. 91
- C. 98



7. Yukarıdaki ritmik sayma 6'şar saymadır. Boşluklara gelecek sayıların toplamı kaçtır?


- A. 94
- B. 78
- C. 72

8. Aşağıdakilerden hangisi bir örüntü değildir?

- A. 16 - 24 - 32 - 40 - 48 - 56
- B. 45 - 36 - 26 - 18 - 9 - 0
- C. 49 - 42 - 35 - 28 - 21 - 14


❖ Aşağıdaki bilgilerden doğru olanlara (D), yanlış olanlara (Y) yazalım.

- (...) Ventilator çalıştığında yüzümüzde hissettiğimiz esinti havanın varlığı gösterir.
- (...) Havanın varlığını yalnız insanlar anlayabilir.
- (...) Toprağın içinde canlıların yaşaması havanın her yerde olduğunu gösterir.
- (...) Suda yaşayan balıkların solunum yapması havanın her yerde olduğunu gösterir.
- (...) Uçakların uçmasında hava değil uçağın kanatları etkilidir.
- (...) Bulutların yer değiştirmesinde etkili olan rüzgâr bir havanın varlığını gösterir.
- (...) Paraşütçülerin güvenli bir şekilde inişini sağlayan paraşütün içine dolan havadır.
- (...) Canlılar hava olmasa da yaşamını sürdürebilir.
- (...) Kartalların uçması ve kolaylıkla konabilmeleri hava sayesinde.
- (...) Uçurtmanın yükseklere çıkması ve orada kalması hava sayesinde.
- (...) Yelkenli gemilerin hareketini sağlayan havadır.

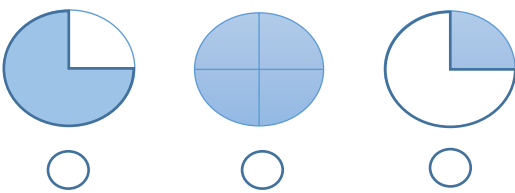


❖ Aşağıdaki soruları cevaplayalım.

1. Dünya üzerinde karaların oranı hangi seçenekte doğru olarak gösterilmiştir. Doğru şeklin altına ✓ işareti koyalım.



2. Dünya üzerinde suların oranı hangi seçenekte doğru olarak gösterilmiştir. Doğru şeklin altına ✓ işareti koyalım.



❖ Aşağıdaki bilgilerin hangi katmana ait olduğunu aşağıdaki boşluklara yazalım.

- A. Balıkların doğal yaşam alanıdır.
- B. Dağlar, ovalar benim bir parçamdır.
- C. Gözle göremesiniz de etkilerimi hissedersiniz.
- D. Dünya'nın etrafını saran gaz tabakasıdır.
- E. Hava olayları benim katmanımda gerçekleşir.
- F. Canlıları zararlı Güneş ışınlarına karşı korurum.
- G. Yeryüzünde karalardan daha fazla yer kaplar.
- H. İnsanlar üzerimde köyler, şehirler kurmuşlardır.

KARA KAT.

HAVA KAT.

SU KAT.

.....

.....


.....

.....

.....

.....

❖ Aşağıda verilen özelliklerden arkadaşlarınızda bulunmasını istediklerinize işareti koyalım.




❖ Yukarıdaki özelliklerden hangilerinin sizde bulunduğunu yazalım.

.....

.....

.....

❖ Aşağıdaki cümleleri uygun kelimelerle tamamlayalım.



- Bize ihtiyacı olduğunda arkadaşımızın olmalıyız.
- Arkadaşlarımızın sırrını paylaşmamalıyız.
- Arkadaşımızı eşyalarını almamalıyız.
- Arkadaşlarımızla iletişim kurarken olmalıyız.
- Arkadaşlarımızla iyi , onları ihmal etmemeliyiz.
- Arkadaşların birbiriyle..... etmesi çok üzücüdür.
- Çevremizdeki insanlarla sorunlarımızı çözmeliyiz.
- Zor durumda da olsak kesinlikle arkadaşımıza söylememeliyiz.