

12
Günlük
Plan

KESİF TAKIMI

TATILDE

MÜFREDATA
TAM UYUMLU

2 ADET 1. DÖNEM
DEĞERLENDİRME
TESTİ

ÇÖZÜMLER İÇİN
KAREKOD DESTEKLİ

YENİ NESİL

SÜREÇ
DEĞERLENDİRME
TESTİ

2
SINIF

 LKOKULLUYUM
YAYINLARI



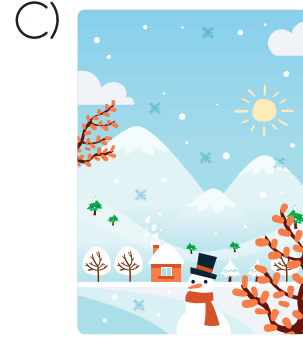


1. HAFTA DEĞERLENDİRME TESTİ



Bugünlerde hava ne çok soğuk ne çok sıcak. Ağaçların yaprakları sapsarı olmuş. Annem her gittiğimiz yere şemsiye götürüyor. Sabahları hava güneşli diye ince giyiniyorum. Öğleden sonra birden yağmur yağıyor ve üşüyorum. Çizme mi spor ayakkabı mı giyeceğime karar veremiyorum. Yine yağmur başladı. Kedim Mirnav sırlıklam oldu ama yine de çok mutluyuz.

→ 1, 2 ve 3. soruları metne göre cevaplayınız.

1. Bu metinde anlatılan mevsim aşağıdakilerden hangisidir?



2. Metnin başlığı aşağıdakilerden hangisi olabilir ?

A) Kedim Mirnav

B) Annemle Geziyoruz

C) Hoş Geldin Sonbahar

3. Bu metinde aşağıdakilerin hangisinden söz edilmemiştir?

A) Kedinin yediği yemekten

B) Ağaçların yapraklarının sarardığından

C) Yağmur yağınca havanın soğumasından



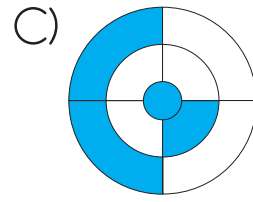
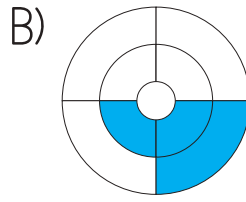
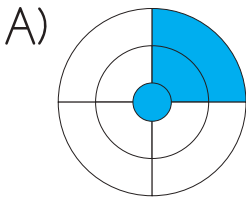
1. HAFTA DEĞERLENDİRME TESTİ

4.

Ediz, dart oyununda sesli harflerin olduğu bölümlere isabet ettirmiştir.



Buna göre Ediz'in dart tahtasında isabet ettirdiği alanları boyadığımızda aşağıdakilerden hangisi oluşur?



5. Aşağıda satır sonuna sığmayan sözcükler kısa çizgi ile bölünmüştür.

1
ce-
ket

2
teles-
kop

3
u-
zaylı

4
kır-
mızı

5
sa-
lincak

6
a-
raba

7
tel-
efon

8
pa-
ntolon

Buna göre sözcük numaraları aşağıdakilerin hangisinde doğru gruplanmıştır?

A) Doğru Yanlış
1364 2578

B) Doğru Yanlış
1568 2347

C) Doğru Yanlış
1245 3678






6.

Gece	Tatlı
Acı	Soğuk
Sıcak	Gündüz

 Yandaki tabloda zıt anlamlı sözcükler aynı renkte boyanacaktır.

Buna göre tablonun boyanmış hâli aşağıdakilerden hangisidir?



7.

-kop	-ku	-e	-mek
-an	-ten	-ma	-te
-li	-ek	-o	-la

Tahtadaki hecelerle aşağıdaki sözcüklerden hangisini oluşturulmaz?

A) Emekli

B) Ekmek

C) Yemek

8. Aşağıdaki sözcükleri, sözlük sırasına göre dizdiğimizde sıralamada 1. olan sözcüğün 3. harfi ile başlayan bir sözcük yazılmıştır.

Kemal

Keçi

Kesik

Bu sözcük aşağıdakilerden hangisidir?

A) Çivi

B) Matkap

C) Sepet



1. HAFTA DEĞERLENDİRME TESTİ

9.



Yarın yağmur yağacakmış.

Bu cümlenin sırasıyla sözcük, hece ve harf sayısı aşağıdakilerden hangisidir ?

A)

Sözcük
4

Hece
9

Harf
21

B)

Sözcük
3

Hece
8

Harf
21

C)

Sözcük
3

Hece
9

Harf
12

10. Aşağıdaki sözcükler zıt anlamlıları ile eşleştirilecektir.

acı

büyük

sert

dost

tatlı

ufak

yumuşak

düşman

Buna göre zıt anlamlısı olmayan sözcükler aşağıdakilerden hangileridir?

A) Acı – tatlı

B) Büyük – ufak

C) Sert – yumuşak

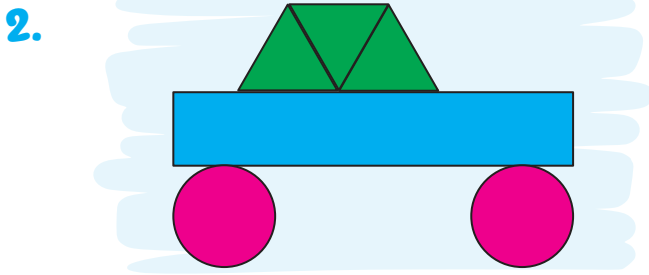
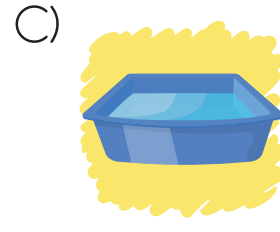

1. HAFTA DEĞERLENDİRME TESTİ



1.

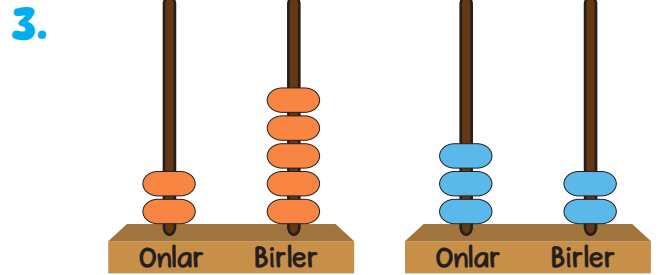
Kap	Aldığı su miktarı

Verilen bilgilere göre şişe kullanarak en hızlı şekilde doldurabileceğimiz kap aşağıdakilerden hangisidir?



Bu görsel oluşturulurken aşağıdaki geometrik şekillerden hangisi kullanılmamıştır?

- A) Üçgen B) Daire C) Kare



Aşağıdakilerden hangisi abaküslerde verilen sayılardan biri değildir?

- A) 16 B) 25 C) 32



1. HAFTA DEĞERLENDİRME TESTİ

4. Ali, aklından bir sayı tutmuştur. Aklından tuttuğu sayı ile ilgili bilgiler aşağıda vermiştir.



Aklımda bir sayı var. Birler basamağındaki rakam 7, onlar basamağındaki rakamın basamak değeri 30'dur.

Buna göre Ali'nin aklından tuttuğu sayı aşağıdakilerden hangisidir?

- A) 43 B) 73 C) 37

5. Gökçe, annesinin sordugu soruya cevabın en yakın olduğu onluğu söylemiştir.



Kızım, bugün kaç sayfa kitap okudun?

Yaklaşık 30 sayfa okudum anne.



Buna göre aşağıdakilerden hangisi Gökçe'nin okuduğu sayfa sayısı ola-
maz?

- A) 27 B) 25 C) 36

6. **Cemil:** Benim dedem yetmiş sekiz yaşında.

Sema: Benim babam da kırk altı yaşında.

Cemil ve Sema'nın söylediği sayılar aşağıdakilerden hangisidir?

- A) **Cemil** → 46 B) **Cemil** → 78 C) **Cemil** → 87
Sema → 78 **Sema** → 46 **Sema** → 64

7.



Annem, aşağıdakilerden hangisini kullanarak kaseleri daha kısa sürede doldurur?

A)




B)



C)



8.



Bu görselle ilgili aşağıdakilerden hangisi yanlıştır?

A) Pembe olan geometrik cisimler silindirdir.

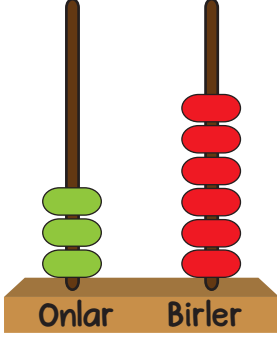
B) Mavi ve mor olan geometrik cisim küptür.

C) Sarı olan geometrik cisim dikdörtgen prizmadır.



1. HAFTA DEĞERLENDİRME TESTİ

9.



Boncuklarla iki basamaklı bir doğal sayı oluşturmak isteyen Ahmet, abaküste onluk ve birliklerin yerini karıştırmış ve boncukları görseldeki şekilde onluk ve birliklerine ayırmıştır. Hata yaptığını gören Ahmet, onluk ve birliklerin yerini değiştirmiş ve yeni bir sayı oluşturmuştur.


Buna göre Ahmet'in yeni oluşturduğu sayının onlar basamağındaki rakamın basamak değeri kaçtır?

A) 30

B) 3

C) 60

10. Serhat'ın dolabındaki eşyalarla ilgili aşağıdaki bilgiler verilmiştir.



1. 2 kitap daha alırsa 1 düzine kitabı olacak.
2. 4 kalem daha alırsa 1 deste kalemi olacak.
3. 1 düzineden 1 fazla silgisi vardır.

Buna göre verilen bilgilerden hangileri doğrudur?

A) 1 ve 2

B) 2 ve 3

C) 1, 2 ve 3

1.



Arkadaşım Ömer, yarışmaya katılmak için bir resim yaptı. Bana resimle ilgili fikirlerimi sordu. Aslında resmini çok beğenmemiştim ama Ömer'e bunu söyleyemedim çünkü üzülebilirdi. Ayrıca Ömer, bu resme çok emek harcamıştı. Kibarca resimle ilgili birkaç öneride bulundum. Yarışma için arkadaşımı cesaretlendirdim.

Metinde anlatılan olaylar hangi kişisel alan sınırlarımızla ilgilidir?

- A) Fiziksel sınırlar
- B) Duygusal sınırlar
- C) Kişisel bilgilerle ilgili sınırlar

2.

Futbol oynamayı seviyorum, şehrimin futbol kulübünde oynuyorum.



Selim

Piyano çalmayı çok seviyorum ama bazı parçaları çalamıyorum. Bu yüzden kursa gitmeyi düşünüyorum.



Ceyhun

Çok güzel voleybol oynarım, bu yüzden okulun voleybol takımına seçildim.



Seda

Yukarıdaki öğrencilerden hangisi gelişime açık yönünün olduğunun farkındadır?

- A) Seda
- B) Selim
- C) Ceyhun

1. HAFTA DEĞERLENDİRME TESTİ

3.



Uyku



Temizlik



Kişisel
bakım



Abur
cubur
tüketmek



Kola
içmek

Yukarıdakilerden kaç tanesi sağlıklı büyümek ve gelişmek için gereklidir?

A) 2

B) 3

C) 4

4.



İletişim kurarken karşımızdaki kişiye
..... davranmalıyız.

Yukarıdaki boşluğa aşağıdakilerden hangisi gelmelidir?

A) nazik

B) kaba

C) öfkeli

5.



Görselde yaşanan durumda aranacak acil durum numarası aşağıdaki-
lerden hangisidir?

A) 1 - 1 - 2

B) 1 - 5 - 5

C) 1 - 8 - 0



2. HAFTA DEĞERLENDİRME TESTİ



Hayvanları koruyalım.
Hepsi bizim dostlarımız.
Dünya onlarla güzel,
Bir kap mama ve su ver.

Aç bırakma dostunu.
Koru, kolla ve besle.
Hem sevimli hem gerekli,
Dostluk, şefkat, sevgi göster.

Tanca GÜLTEKİN



→ 1, 2 ve 3. soruları şiire göre cevaplandıralım.

1. Şiir kaç dizeden oluşmuştur?

A) 6

B) 7

C) 8

2. Şiir kaç kıtadan oluşmuştur?

A) 2

B) 3

C) 8

3. Şiirde aşağıdaki bilgilerden hangisine ulaşamaz?

A) Dörtlük sayısına

B) Şiirin başlığına

C) Şairine

4.

koşarken

okulda

dün

düştüm

Verilen sözcüklerle oluşturulabilecek anlamlı ve kurallı cümle aşağıdakilerden hangisidir?

- A) Dün okulda koşarken düştüm.
- B) Okulda dün düştüm koşarken.
- C) Dün düştüm okulda koşarken.

5. Aşağıdaki görselde olumlu bir davranış verilmiştir.



Bu davranışla ilgili kurabileceğimiz cümlenin olumsuz hâli aşağıdakilerden hangisidir?

- A) Kurallara uymalıyız.
- B) Çöpleri çöp kutusuna atmamalıyız.
- C) Yerde gördüğümüz çöpleri toplamamalıyız.

6.



Yanda verilen görsel bir kitabın kapağında yer almaktadır.

Buna göre kitabın konusu aşağıdakilerden hangisi olabilir?

- A) Kitap okumak B) Fidan dikmek C) Hayvanları sevmek

7. Aşağıdaki cümlelerin hangisinde yapılan iş, sebebiyle birlikte verilmiştir?

- A) Bugün kardeşimle parka gittim.
B) Yağmur yağmadığı için çiçekleri suladım.
C) Annemle birlikte pazar alışverişi yaptık.

8. Aşağıdaki cümleler soru cümlesi hâline getirilecektir.

Yarın tiyatroya
gideceğiz.

Babam yeni bir
araba aldı.

Dün erken
uyandım.

Buna göre aşağıdakilerin hangisinde hata yapılmıştır?

- A) Yarın tiyatroya mı gideceğiz
B) Babam yeni bir araba mı aldı
C) Dün erken uyanmadım

9. Aşağıdaki cümlelerin hangisinde hem nokta hem de virgül kullanılır?

- A) Dr Semih bey odasına geldi
- B) Bugün 10 30'da sınava gireceğim
- C) Yarışmada 1 olduğum için bisiklet kalem ve kitap hediyesi aldım

10.



Bu hafta değerlerimiz konusunda çok önemli bir değer işledik. Bu değerın önemini öğrendikten sonra artık mahallemizdeki yaşlıların yardımına hemen koşuyorum. Bunu yapınca çok mutlu oluyorum.


Bu metnin ana fikri aşağıdakilerden hangisi olabilir?

- A) Yardımlaşmak insanı mutlu eden bir duygudur.
- B) Konukseverlik gösterdiğimiz kişi mutlu olur.
- C) Ailemizle her konuda dayanışma içinde olmalıyız.

2. HAFTA DEĞERLENDİRME TESTİ




1. 23 Nisan Ulusal Egemenlik ve Çocuk Bayramı için ülkemize gelen çocukların programdaki gösteri sıraları ellerindeki kartlarda yazmaktadır. Bu kartlar küçükten büyüğe doğru sıralandığında bir örüntü oluşturmaktadır.



Bu bilgilere göre aşağıdakilerden hangisi yanlıştır?

- A) Bu örüntü, dörder dörder artarak devam etmektedir.
B) Örüntünün 3. sayısı 28'dir.
C) Örüntünün 5. sayısı 34'tür.
2. Annesi, Şeyda'ya görseldeki kurabiyelerin sayısını sormuştur.



Şeyda, annesine hangi sayıyı söylerse doğru cevabı vermiş olur?

- A) 40 B) 43 C) 45



2. HAFTA DEĞERLENDİRME TESTİ

3. Elif, ev adreslerinin kapı numarasını söylerken şu bilgileri vermiştir:

- Kapı numaramız 30 ile 40 arasında bir sayıdır.
- 40'a daha yakındır.
- 36'dan büyük, 39'dan küçüktür.

Elif'in kapı numarası aşağıdakilerden hangisi olamaz?

A) 38

B) 37

C) 35

4. Yaramaz elma kurtları, görseldeki bazı elmaların içine girmiş ve elmaları çürütmüştür.



Buna göre çürük olmayan elmaların sayısını bulmak için yapacağımız işlem ve işlem sonucu aşağıdakilerden hangisidir?

A) Toplama işlemi $\rightarrow 23 + 4 = 31$

B) Çıkarma işlemi $\rightarrow 24 - 8 = 15$

C) Çıkarma işlemi $\rightarrow 24 - 15 = 8$

5.



Sude

Kitaplığımdaki masal ve hikâye kitaplarını topladım.
Kitaplarımın sayısı tahminen 30'dur.

Buna göre Sude'nin masal ve hikâye kitaplarının sayısını bulmak için yaptığı gerçek işlem aşağıdakilerden hangisi olabilir?

A) $15 + 12 =$

B) $25 + 15 =$

C) $24 + 20 =$



6.



Burak

Dedemin bahçesinden 11 tane erik, 26 tane şeftali topladım.

Burak'ın toplam kaç tane meyve topladığını bulmak için yapacağımız işlem ve işlemin sonucu aşağıdakilerden hangisidir?

- A) Toplama işlemi $\rightarrow 26 + 11 = 37$
 B) Çıkarma işlemi $\rightarrow 26 - 11 = 15$
 C) Toplama işlemi $\rightarrow 26 + 10 = 36$

7.

56	
Onlar Basamağı	
	6

Tablodaki bilgilere göre ve yerine aşağıdakilerden hangisi gelmelidir?

- A) 5 Birler Basamağı
 B) 50 Onlar Basamağı
 C) 50 Birler Basamağı

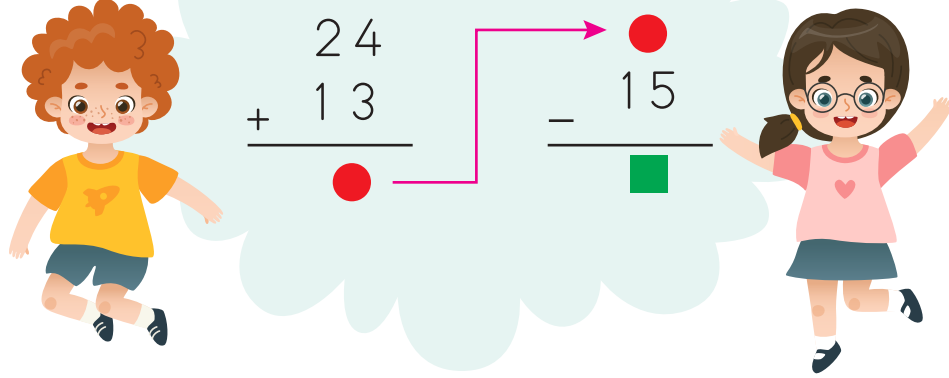
8. 22'den başlayıp ileriye doğru dörder ritmik sayma yaparken söylediğimiz 5. sayı kaçtır?

- A) 36 B) 38 C) 26



2. HAFTA DEĞERLENDİRME TESTİ

9.



Yukarıdaki işlemde “●” ve “■” yerine gelecek sayılar aşağıdakilerden hangisidir?



A) ● 37
■ 22

B) ● 36
■ 24

C) ● 35
■ 21

10.

Üçer üçer ileriye
doğru ilerle →



İkişer ikişer geriye
doğru ilerle ←

Yukarıdaki kuralları verilen sayı örüntüsünde ♥ ve 😊 yerine hangi sayılar gelmelidir?

A) ♥ 24
😊 20

B) ♥ 21
😊 21

C) ♥ 18
😊 21

1.

Beril

Bizim ailemizde yemeği annem yapar, tabakları sofraya ben koyarım. Babam sofrayı toplar. Herkes kendi meyvesini doğrayıp yer. Ben bıçak kullanmadığım için bana da yardımcı olurlar.



Ali

Bizim ailemizde yemekleri annem yapar, sofrayı annem kaldırır. Babam gazete okur, ben oyun oynarım. Annem bize meyve doğrar.

Yukarıdaki verilen bilgilere göre aşağıdakilerden hangisi yanlıştır?

- A) Ali'nin ailesinde sorumluluklar paylaşılmamaktadır.
- B) Beril'in ailesinde sorumluluklar paylaşılmaktadır.
- C) Beril'in ailesi, Beril'in sorumluluk almasına engel olmuştur.


2.



Görselde yaşanan durumda kullanılacak nezaket ifadesi aşağıdakilerden hangisidir?

- A) Özür dilerim.
- B) Teşekkür ederim.
- C) Eline sağlık.

3.



Görseldeki sınıfı temiz bırakmak, yerdeki çöpleri çöp kutusuna atmak aşağıdakilerden hangisinin görevidir?

- A) Öğretmen
- B) Müdür
- C) Öğretmen / Öğrenci

4.

Arkadaşım Ali'yi teneffüste arı soktu. Ali'nin arı sokmasına karşı bir alerjisi vardı. Öğretmenimize söyledik. Öğretmenimiz acil durum numarasını aradı ve geldi.

Yukarıdaki cümlelerde boş bırakılan yerleri hangi görseldeki bilgiler ile tamamlayabiliriz?

A)

1-1-2



B)

1-1-2



C)

1-5-5



5.

Trafik polisi, okulumuzun karşısındaki levhanın önünde duruyordu ve yayalara "geç" işareti yapıyordu.



Buna göre trafik polisinin elindeki levha aşağıdakilerden hangisi olabilir?

A)



B)



C)





1. HAFTA DEĞERLENDİRME TESTİ

TÜRKÇE

1. B	2. C	3. A	4. C	5. C	6. A	7. C	8. A	9. B	10. B
------	------	------	------	------	------	------	------	------	-------

MATEMATİK

1. B	2. C	3. A	4. C	5. C	6. B	7. B	8. C	9. C	10. C
------	------	------	------	------	------	------	------	------	-------

HAYAT BİLGİSİ

1. B	2. C	3. B	4. A	5. A					
------	------	------	------	------	--	--	--	--	--

2. HAFTA DEĞERLENDİRME TESTİ

TÜRKÇE

1. C	2. A	3. B	4. A	5. C	6. B	7. B	8. C	9. C	10. A
------	------	------	------	------	------	------	------	------	-------

MATEMATİK

1. A	2. A	3. C	4. B	5. A	6. A	7. C	8. B	9. A	10. C
------	------	------	------	------	------	------	------	------	-------

HAYAT BİLGİSİ

1. C	2. B	3. C	4. A	5. C					
------	------	------	------	------	--	--	--	--	--



İlkokulluyum'un Dijital Dünyasını Keşfetmeye Hazır Mısınız?

Kitaplarımızın zenginleştirilmiş dijital içeriklerine, konu anlatım videolarına, oyunlarına ve akıllı tahta uygulamalarına www.ilkokulluyum.com adresinden ulaşabilirsiniz.



📍 Ostim Osb Mah. 1220. Cad.
No: 51-35 Yenimahalle/ANKARA
✉ iletisim@ilkokulluyum.com
🌐 www.ilkokulluyumyayinlari.com
📷 @ilkokulluyum
📺 @ilkokulluyum

www.ilkokulluyum.com



(312) 342 42 43