




KELEBEKLER



Birçok insan kelebekleri çok sever. Çünkü onlar renkli ve güzeldir. Peki, kelebeklerin nasıl olduğunu biliyor musunuz? Kelebekler tırtıldan olur. Tırtıllar yaprak yemeyi çok sever. Tırtıllar kozanın içinde belli bir süre bekledikten sonra kelebeğe dönüşürler. Sonra kanatlanırlar. Kelebek olur ve kırlarda uçarlar. Kelebekler çiçekten çiçeğe konarlar. Kelebeklerin ömrü türüne göre bir hafta ile bir yıl arasında değişir.

Aşağıdaki soruları metne göre cevaplayınız.

1. Birçok insan neden kelebekleri sever?

Renkli ve güzel oldukları için sever.

2. Tırtıl ne yemeyi çok sever?

Yaprak yemeyi çok sever.

3. Kelebekler neye konarlar?

Çiçekten çiçeğe konarlar.

4. Kelebeklerin ömrü ne kadardır?







Türüne göre bir hafta ile bir yıl arasında değişir.

Metin veya cümle yazarken kelimeler satıra sığmayabilir. Satıra sığmayan kelimeler hecelerinden bölünür.

Bu kelimeler bölünürken satır sonuna **kısa çizgi (-)** konur.

Satır sonunda ve satır başında tek harf bırakılmaz.

Etkinlik: Aşağıda satıra sonuna sığmayan kelimelerden doğru olanların kutucuğunu sarıya, yanlış ayrılanların kutucuğunu kırmızıya boyayalım.

kap- lumbağa.....	oyun- cak.....	tur- uncu.....
kalem- lik.....	ö- rümcek.....	man- dalına.....

Etkinlik: Aşağıdaki kelimeleri satır sonuna sığmadığında nasıl ayrılacağını yazalım.



.....doma-
tes.....



.....ara-
ba.....



.....gök-
yüzü.....



.....tele-
vizyon.....

Çıkarma işlemi ile ilgili problemleri aşağıdaki aşamalara göre çözelim.

1. Problemi anlayalım.
2. Plan yapalım.
3. Planımızı uygulayalım.
4. Çözümü kontrol edelim.

1. Otobüste 18 yolcu vardı. Durakta 5 kişi indi. Otobüste kaç yolcu kaldı?

Verilenler	İstenen	Çözüm
Otobüsteki yolcular: 18	Kalan yolcu sayısı?	$18 - 5 = 13$
Durakta inen yolcular: 5		yolcu kaldı.

2. Aziz'in 12 lirası vardı. 4 lirası ile top aldı. Aziz'in kaç lirası kaldı?

Çözüm:	$12 - 4 = 8$ lirası kaldı.
--------	----------------------------

3. Ben 14 yaşındayım. Kardeşim benden 6 yaş küçüktür. Kardeşim kaç yaşındadır?

Çözüm:	$14 - 6 = 6$ kardeşimin yaşı
--------	------------------------------

4. Annem marketten 12 yumurta aldı. Gelirken 3 tanesini kırdı. Geriye kaç yumurta kaldı?

Çözüm: $12 - 3 = 9$ yumurta kaldı.

5. Evde 8 tane limon vardı. 5 tanesi ile limonata yaptık. Geriye kaç limon kaldı?

Çözüm: $8 - 5 = 3$ limon kaldı.

6. Salih'in 6 elması vardı. Hepsini arkadaşlarına dağıttı. Salih'in kaç elması kaldı?


Çözüm: $6 - 6 = 0$

7. Ağaçta 15 kuş vardı. 7 tanesi uçtu. Ağaçta kaç kuş kaldı?


Çözüm: $15 - 7 = 8$ kuş kaldı.

Hayatımızda birçok tehlikeli durum ile karşılaşabiliriz. Bu nedenle okulda ve evde uymamız gereken güvenlik kuralları vardır. Bu güvenlik kurallarına uymak can ve mal güvenliğimiz için çok önemlidir.


Etkinlik: Aşağıdaki ifadelerden doğru olanların balonlarını boyayalım.




Merdivenden inerken sağ tarafı kullanmalıyız.




Pencere ve balkonlardan sarkmamalıyız.




Islak zeminde koşabiliriz.



Kibrit ve çakmakla oynamak çok tehlikelidir.



Elektrik kabloları ve prizle oynamamalıyız.



Bilmediğimiz temizlik maddelerini kullanabiliriz.