



CANIM ANNEM



Anneler Günü için küçük bir sürpriz hazırlamak istiyordum. Anneme olan sevgimi anlatan bir resim yapmak istedim. Bu resmi annemden gizlemeliydim. Annem temizlik ya da yemek yaparken odamda resmimi çizmeye başladım. Boyama kısmına geçince dikkatli çalışmaya özen gösterdim. Her şeyin kusursuz olmasını istiyordum. Sonunda resmim bitmişti. Odama giren ablama gösterdim. "Çok güzel bir çalışma olmuş, tebrik ederim." dedi. Ardından: "İstersen bu resmi yapboza dönüştürebiliriz." diye ekledi. Bu fikir benim aklıma gelmemiştir. Abla harikasin, diyerek ona sarıldım. Peki bunu nasıl yapabiliriz, diye sordum. Ablam da: "Haydi gel, birlikte yapalım." dedi. Önce bir karton aldık. Resmimi kartona kabarcık kalmayacak şekilde yapıştırdık. Sonra da resmimin üstüne vernik sürdük. Kuruduktan sonra karton tarafına yapboz parçalarını siyah bir kalem yardımıyla çizdik. Son kısmı ben yapmalıyım. Parçaların çizili olduğu yerleri dikkatlice kestim. Sonunda başarmıştık. Önceden sakladığım küçük bir oyuncak kutum vardı. Yapboz parçalarını kutuya koyup paketledik. Ablam ertesi gün annemin gözlerini bağlayıp odama getirdi. Avucuna bir hediye paketi bıraktım. Gözlerini çözdükten sonra büyük bir sabırsızlıkla kutuyu açtı. Gözlerime inanamıyorum; benim için neler yapmışsınız, dedi. Sevinç gözyaşlarını tutamamıştı. Ablam ve benim için de özel bir gün oldu.

Mehmet SARIASLAN

Aşağıdaki soruları metne göre cevaplayınız.



1. Çocuk annesine neden sürpriz hazırlamak istemiş?

Anneler günü olduğu için sürpriz hazırlamak istemiş.



2. Sürpriz hazırlarken çocuğa kim yardım etmiş?

Çocuğa ablası yardım etmiş.



3. Çocuk annesine ne hazırlamış?

Çizdiği resmi ablası ile birlikte yapboz yapmışlar.



4. Anne çocuklarının yaptığını görünce ne yapmış?

Sevinçten göz yaşlarını tutamamış.



Aşağıda verilen kelimeleri zıt anlamlıları ile eşleştiriniz.

1 acı

2 alt

3 pahalı

4 zengin

5 ıslak

4 fakir

5 kuru

2 üst

1 tatlı

3 ucuz

1 nazik

2 sıcak

3 beyaz

4 ince

5 gece

1 kaba

4 kalın

5 gündüz

2 soğuk

3 siyah

1 yaşlı

2 şişman

3 sağ

4 dolu

5 yukarı

3 sol

2 zayıf

4 boş

1 genç

5 aşağı

1 erken

2 az

3 önce

4 alçak

5 barış

2 çok

4 yüksek

1 geç

5 savaş

3 sonra

1 neşeli

2 aç

3 ağır

4 ödül

5 ileri

3 hafif

1 üzgün

4 ceza

2 tok

5 geri



Karışık halde verilen kelimelerden anlamlı cümleler oluşturalım.

koşarken

Arzu

düştü

yere

bahçede



Arzu bahçede koşarken yere düştü.

taktık

baston

adamin

Kardan

koluna



Kardan adamin koluna baston taktık.

bahçesine

yapıldı

Okul

havuzu

kum



Okul bahçesine kum havuzu yapıldı.

Hikmet'le

futbol

tanıştık

tatilde

oynarken



Hikmet'le tatilde futbol oynarken tanıştık.

sonu

Hafta

tuttum

balık

dedemle



Hafta sonu dedemle balık tuttum.

olsun

anneler

kutlu

günün

Anneciğim



Anneciğim anneler günün kutlu olsun.



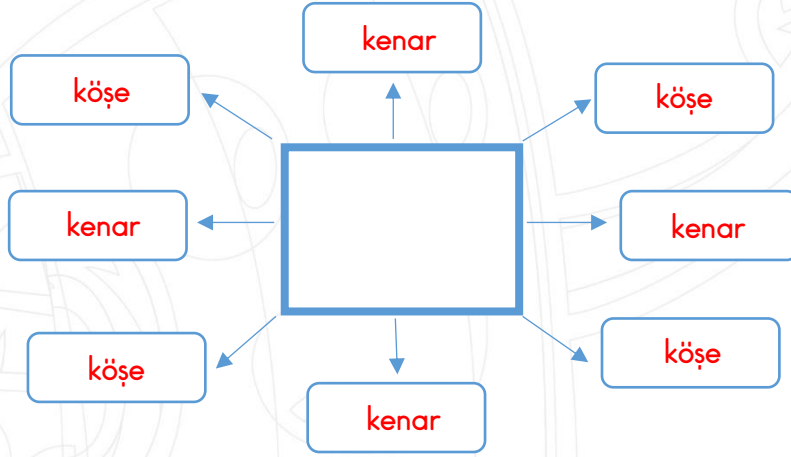
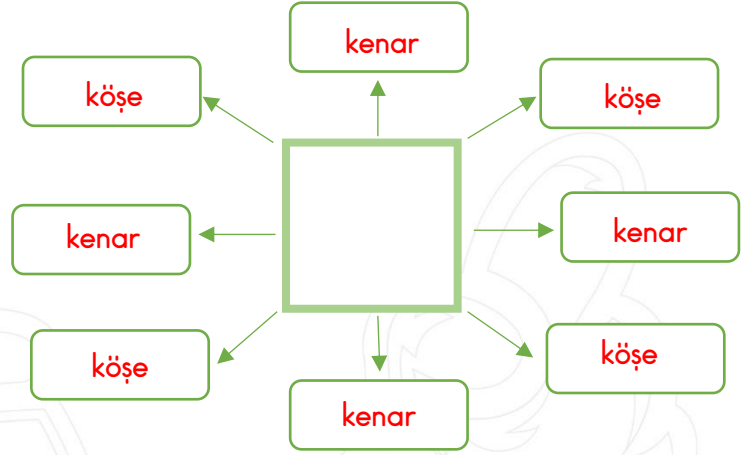
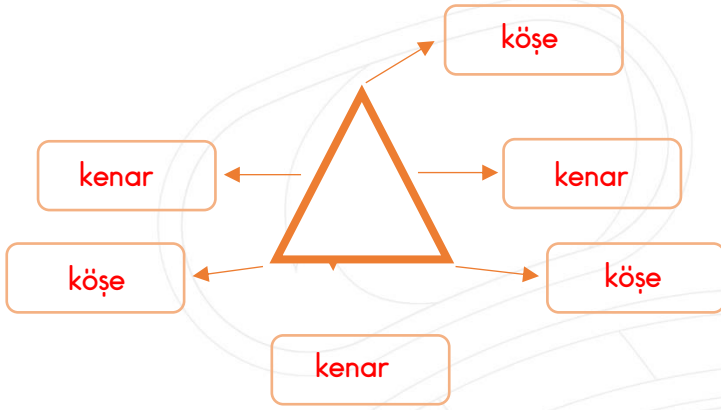
Aşağıda verilen kelimeleri sözlük sırasına göre numaralandırınız.

1. A
2. B
3. C
4. Ç
5. D
6. E
7. F
8. G
9. Ğ
10. H
11. I
12. İ
13. J
14. K
15. L
16. M
17. N
18. O
19. Ö
20. P
21. R
22. S
23. S
24. T
25. U
26. Ü
27. V
28. Y
29. Z

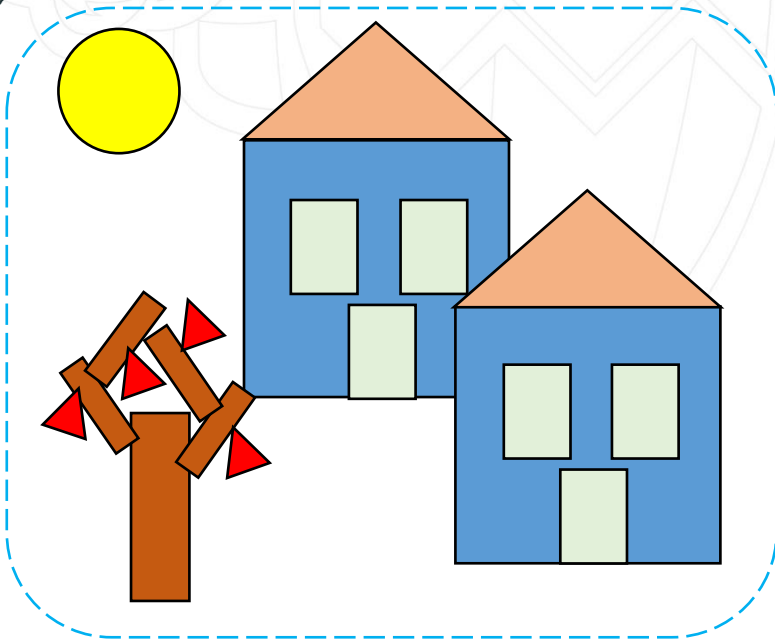
- | | | | | | |
|----|------------|----|----------|----|---------|
| 2 | masa | 2 | kalem | 2 | elma |
| 3 | sandalye | 3 | silgi | 1. | armut |
| 1. | koltuk | 1. | boya | 3 | muz |
| 1. | çilek | 2 | domates | 3 | kitap |
| 3 | portakal | 1. | biber | 2 | defter |
| 2 | kivi | 3 | patlıcan | 1. | çanta |
| 1. | bilgisayar | 3 | yastık | 1. | araba |
| 3 | telefon | 1. | halı | 3 | otobüs |
| 2 | kablo | 2 | kilim | 2 | minibüs |
| 3 | uçak | 1. | deniz | 1. | dağ |
| 2 | tren | 2 | güneş | 2 | ova |
| 1. | gemi | 3 | kum | 3 | yayla |
| 3 | yol | 1. | baraj | 3 | yaprak |
| 2 | su | 2 | park | 2 | çiçek |
| 1. | elektrik | 3 | salon | 1. | ağaç |



Aşağıda verilen geometrik şekilleri ile ilgili istenilenleri yazınız.



Boyanmış şekilde verilen geometrik şekillerin kaç tane olduğunu yazınız.



KARE: 2

DİKDÖRTGEN: 11

ÜÇGEN: 6

ÇEMBER: 1



Aşağıda verilen saatlerde yazan saatlere göre akrep ve yelkovan çiziniz.



SAAT: 07.00

YEDİ



SAAT: 10.00

ON



SAAT: 04.30

DÖRT BUÇUK



SAAT: 03.00

ÜÇ



SAAT: 05.30

BEŞ BUÇUK



SAAT: 06.00

ALTI



SAAT: 12.00

ON İKİ



SAAT: 03.30

ÜÇ BUÇUK



SAAT: 08.00

SEKİZ



SAAT: 09.00

DOKUZ



Aşağıda verilen saatlerin kaçı gösterdiğini yazınız.



Dört buçuk



dört



On bir buçuk



yedi



Sekiz buçuk



altı



Beş buçuk



beş



On iki buçuk

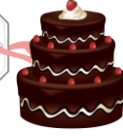


bir



Aşağıdaki problemleri görsellerden yararlanarak çözünüz.

2 TL



1. Dondurmanın fiyatı ekmeğin fiyatından 3TL fazladır. 3 ekmek, 1 dondurma alan Burak satıcıya kaç TL öder?

Çözüm: Dondurma: $2+3=5\text{TL}$

$$2+2+2=6\text{TL} \quad 6+5=11$$

Burak satıcıya 11 TL öder.

2. Pasta, dondurmadan 1TL pahalıdır. 1 ekmek, 1 pasta alan Tuba satıcıya kaç TL öder?

Çözüm: Pasta: $5+1=6\text{TL}$

$$6+2=8$$

Tuba satıcıya 8 TL öder.

3. Top, pastadan 4TL pahalıdır. 2 dondurma ve 1 top alan Kamil kaç TL öder?

Çözüm: Top: $6+4=10\text{TL}$

$$5+5+10=20$$

Kamil satıcıya 20 TL öder.

4. Ayıcığın fiyatı topun fiyatından 3TL fazla olduğuna göre 1 tane ayıcık ve 1 pasta toplam kaç TL'dir?

Çözüm: Ayıcık: $10+3=13\text{TL}$

$$13+6=19$$

Toplam 19 TL.

5. 20 TL'si olan Hasan 1 ekmek, 1 dondurma ve 1 top alırsa kaç TL'si kalır?

Çözüm: $2+5+10=17$

$$20-17=3$$

Hasan'ın 3 TL'si kalır

6. 20 TL'si olan Ceyda 1 pasta ve 1 ayıcık alırsa kaç TL'si kalır?

Çözüm: $6+13=19$

$$20-19=1$$

Ceyda'nın 1 TL'si kalır