

MEVLANA İLKOKULU 1-A SINIFI MATEMATİK TEST

Soru 1 Kuş sayısı hangisinde en fazladır?



A



B



C

Soru 2



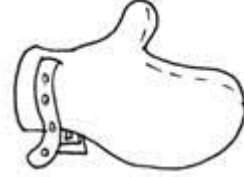
Yandaki eldivenin eşi hangisidir?



A



B



C

Soru 3



Yukarıdaki sayı dizisinde yerlerine hangi sayılar yazılmalıdır?

A. 7 - 9 - 6

B. 10 - 11 - 15

C. 8 - 11 - 14

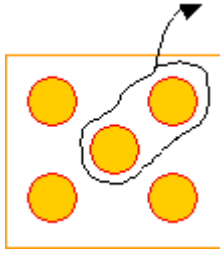
Soru 4 Hangi toplama işleminin sonucu en büyüktür?

$$\begin{array}{r} A. \ 7 \\ \ 5 \\ + \ 2 \\ \hline \end{array}$$

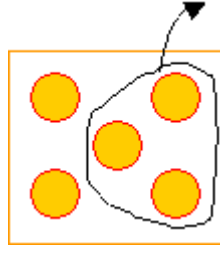
$$\begin{array}{r} B. \ 6 \\ \ 4 \\ + \ 1 \\ \hline \end{array}$$

$$\begin{array}{r} C. \ 5 \\ \ 3 \\ + \ 2 \\ \hline \end{array}$$

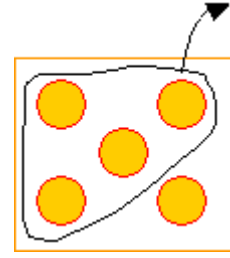
Soru:5 $5-3 = 2$ işlemini ifade eden şema hangisidir?



A



B



C

Soru :6 Ayşe cebindeki 18 liranın 6 lirasıyla kitap, 2 lirasıyla defter aldı. Ayşe'nin kaç lirası kalır?"

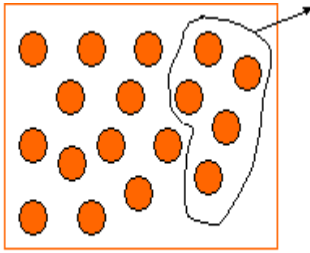
Yukarıdaki problemin çözümünde kullanılan işlemler hangi seçenekte verilmiştir?

A $18 + 2 = 20$
 $20 + 6 = 26$

B $18 - 6 = 12$
 $12 + 2 = 14$

C $18 - 6 = 12$
 $12 - 2 = 10$

Soru:7



Şemada gösterilen işlem hangisidir?

A $18 - 5 = 13$

B $17 - 5 = 12$

C $17 - 4 = 11$

Soru :8 $9 - \square = 6$ işleminde "çıkan" hangisidir?

A. 3

B.4

C.6

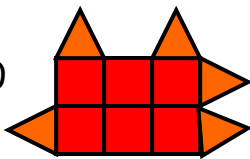
Soru.9 $15 - 5 = 10$ işleminde "eksilen" hangisidir?

A.15

B.5

C.10

Soru .10



yandaki şekilde kaç  kaç  vardır?

A. 6  5 

B. 4  5 

C. 5  6 