



CANIM ANNEM



Anneler Günü için küçük bir sürpriz hazırlamak istiyordum. Anneme olan sevgimi anlatan bir resim yapmak istedim. Bu resmi annemden gizlemeliydim. Annem temizlik ya da yemek yaparken odamda resmimi çizmeye başladım. Boyama kısmına geçince dikkatli çalışmaya özen gösterdim. Her şeyin kusursuz olmasını istiyordum. Sonunda resmim bitmişti. Odama giren ablama gösterdim. "Çok güzel bir çalışma olmuş, tebrik ederim." dedi. Ardından: "İstersen bu resmi yapboza dönüştürebiliriz." diye ekledi. Bu fikir benim aklıma gelmemiştir. Abla harikasin, diyerek ona sarıldım. Peki bunu nasıl yapabiliriz, diye sordum. Ablam da: "Haydi gel, birlikte yapalım." dedi. Önce bir karton aldık. Resmimi kartona kabarcık kalmayacak şekilde yapıştırdık. Sonra da resmimin üstüne vernik sürdük. Kuruduktan sonra karton tarafına yapboz parçalarını siyah bir kalem yardımıyla çizdik. Son kısmı ben yapmalıyım. Parçaların çizili olduğu yerleri dikkatlice kestim. Sonunda başarmıştık. Önceden sakladığım küçük bir oyuncak kutum vardı. Yapboz parçalarını kutuya koyup paketledik. Ablam ertesi gün annemin gözlerini bağlayıp odama getirdi. Avucuna bir hediye paketi bıraktım. Gözlerini çözdükten sonra büyük bir sabırsızlıkla kutuyu açtı. Gözlerime inanamıyorum; benim için neler yapmışsınız, dedi. Sevinç gözyaşlarını tutamamıştı. Ablam ve benim için de özel bir gün oldu.

Mehmet SARIASLAN

Aşağıdaki soruları metne göre cevaplayınız.



1. Çocuk annesine neden sürpriz hazırlamak istemiş?



2. Sürpriz hazırlarken çocuğa kim yardım etmiş?



3. Çocuk annesine ne hazırlamış?



4. Anne çocuklarının yaptığına görünce ne yapmış?



Aşağıda verilen şiiri yazalım.

ANNEM

Annelerin en güzeli,
Sensin, benim güzel annem.
Ilık esen bahar yeli,
Sensin, benim güzel annem.

Güneş yüzlü, altın kalpli,
Ağır başlı, tatlı dilli,
Meleklerin eşi sanki
Sensin, benim güzel annem.

Açan çiçek, çağlayan su,
Gülümseyen engin duygu,
Evimizin mutluluğu
Sensin, benim güzel annem.

H. Latif SARIYÜCE

ANNELER
GÜNÜNÜZ
KUTLU
OLSUN!





Aşağıda verilen kelimeleri zıt anlamlıları ile eşleştiriniz.

1 acı	2 alt	3 pahalı	4 zengin	5 ıslak
fakir	kuru	üst	tatlı	ucuz
1 nazik	2 sıcak	3 beyaz	4 ince	5 gece
kaba	kalın	gündüz	soğuk	siyah
1 yaşlı	2 şişman	3 sağ	4 dolu	5 yukarı
sol	zayıf	boş	genç	aşağı
1 erken	2 az	3 önce	4 alçak	5 barış
çok	yüksek	geç	savaş	sonra
1 neşeli	2 aç	3 ağır	4 ödül	5 ileri
hafif	üzgün	ceza	tok	geri



Karışık halde verilen kelimelerden anlamlı cümleler oluşturalım.

koşarken

Arzu

düştü

yere

bahçede



taktık

baston

adamin

Kardan

koluna



bahçesine

yapıldı

Okul

havuzu

kum



Hikmet'le

futbol

tanıştık

tatilde

oynarken



sonu

Hafta

tuttum

balık

dedemle



olsun

anneler

kutlu

günün

Anneciğim





Aşağıda verilen kelimeleri sözlük sırasına göre numaralandırınız.

1. A
2. B
3. C
4. Ç
5. D
6. E
7. F
8. G
9. Ğ
10. H
11. I
12. İ
13. J
14. K
15. L
16. M
17. N
18. O
19. Ö
20. P
21. R
22. S
23. S
24. T
25. U
26. Ü
27. V
28. Y
29. Z

 masa

 sandalye

 koltuk

 çilek

 portakal

 kivi

 bilgisayar

 telefon

 kablo

 uçak

 tren

 gemi

 yol

 su

 elektrik

 kalem

 silgi

 boya

 domates

 biber

 patlıcan

 yastık

 halı

 kilim

 deniz

 güneş

 kum

 baraj

 park

 salon

 elma

 armut

 muz

 kitap

 defter

 çanta

 araba

 otobüs

 minibüs

 dağ

 ova

 yayla

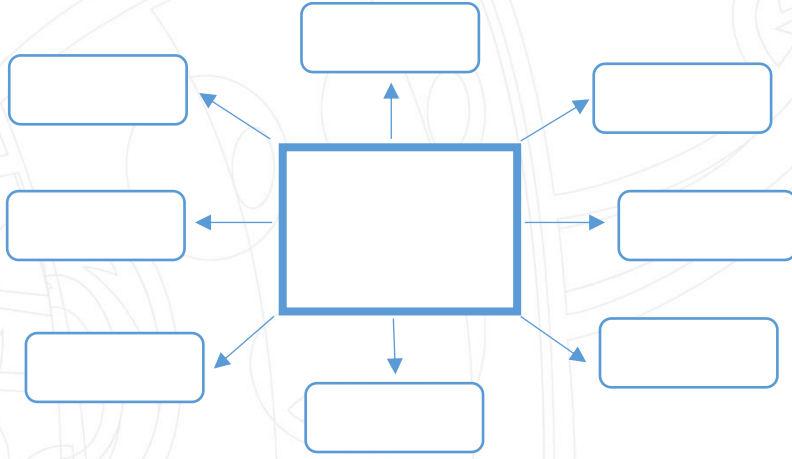
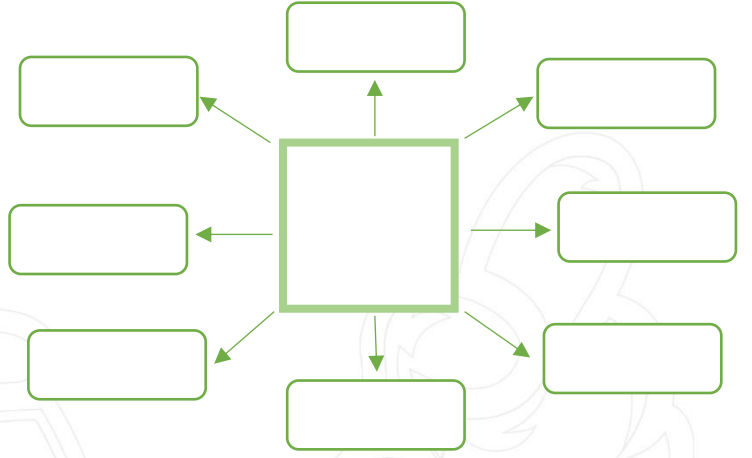
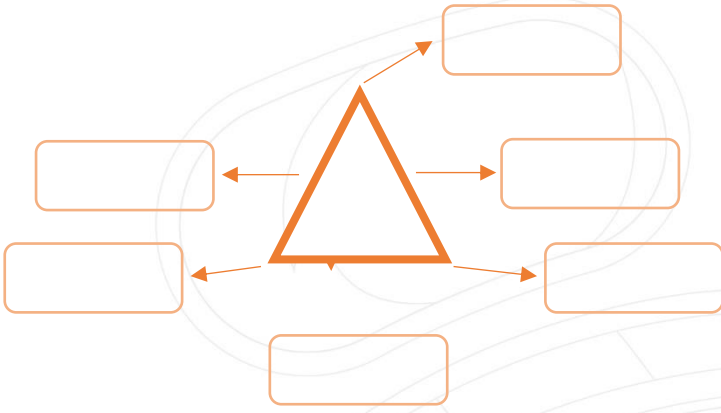
 yaprak

 çiçek

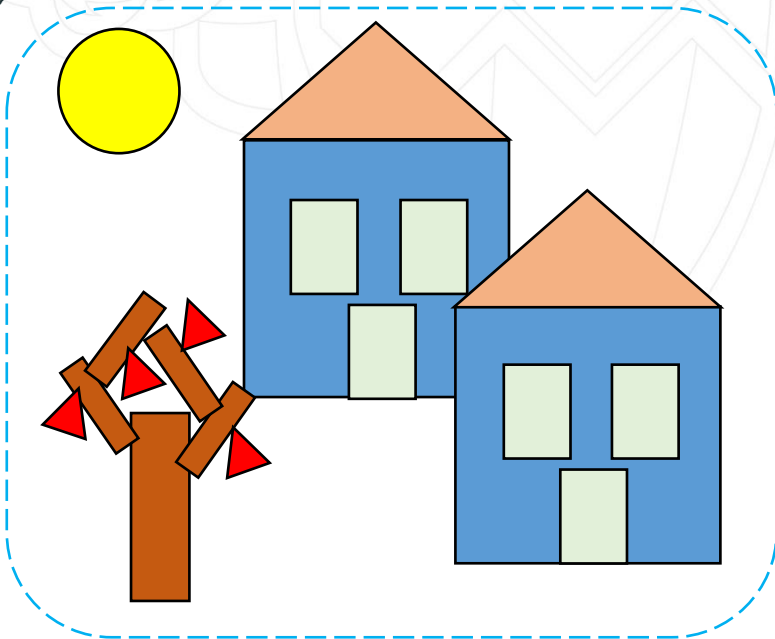
 ağaç



Aşağıda verilen geometrik şekilleri ile ilgili istenilenleri yazınız.



Boyanmış şekilde verilen geometrik şekillerin kaç tane olduğunu yazınız.



KARE:

DİKDÖRTGEN:

ÜÇGEN:

ÇEMBER:



Aşağıda verilen saatlerde yazan saatlere göre akrep ve yelkovan çiziniz.



SAAT: 07.00

YEDİ



SAAT: 10.00

ON



SAAT: 04.30

DÖRT BUÇUK



SAAT: 03.00

ÜÇ



SAAT: 05.30

BEŞ BUÇUK



SAAT: 07.00

YEDİ



SAAT: 10.00

ON



SAAT: 04.30

DÖRT BUÇUK



SAAT: 03.00

ÜÇ



SAAT: 05.30

BEŞ BUÇUK



Aşağıda verilen saatlerin kaçı gösterdiğini yazınız.



.....



.....



.....



.....



.....



.....



.....



.....



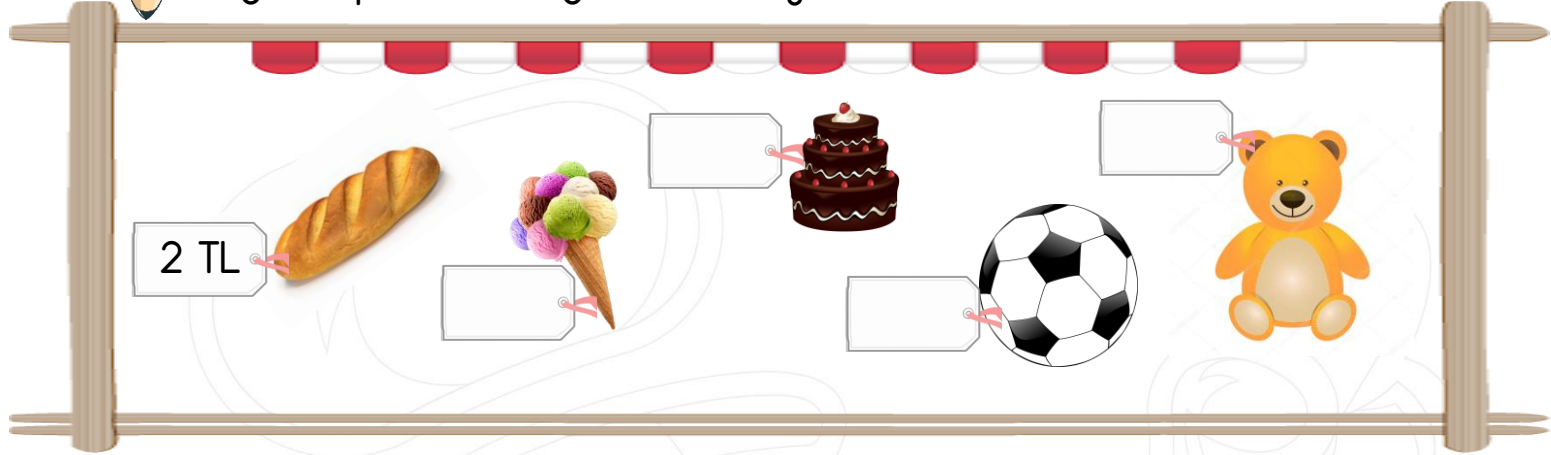
.....



.....



Aşağıdaki problemleri görsellerden yararlanarak çözünüz.



1. Dondurmanın fiyatı ekmeğin fiyatından 3TL fazladır. 3 ekmek, 1 dondurma alan Burak satıcıya kaç TL öder?

2. Pasta, dondurmadan 1TL pahalıdır. 1 ekmek, 1 pasta alan Tuba satıcıya kaç TL öder?

3. Top, pastadan 4TL pahalıdır. 2 dondurma ve 1 top alan Kamil kaç TL öder?

4. Ayıcığın fiyatı topun fiyatından 3TL fazla olduğuna göre 1 tane ayıcık ve 1 pasta toplam kaç TL'dir?

5. 20 TL'si olan Hasan 1 ekmek, 1 dondurma ve 1 top alırsa kaç TL'si kalır?

6. 20 TL'si olan Ceyda 1 pasta ve 1 ayıcık alırsa kaç TL'si kalır?