

# 4. SINIF

2020/2021 EĞİTİM-ÖĞRETİM YILI

## 3. DENEME SINAVI

Ad Soyad: .....

Okul: .....

.....

Sınıf: ..... No: .....

 İlkokulluYum

Ad Soyad:.....  
Sınıfı:.....  
Numarası:.....



## BİRAZ DA BİZ ÖLELİM

Komşusu Nasrettin Hoca'yı evine davet eder:

-Öğle yemeğine bize buyurun. Bir dostumuz daha gelecek. Yemeği beraber yiyelim, der.

Nasrettin Hoca öğle vakti eve gider. Diğer misafir de gelir. Ev sahibinin ve diğer misafirin önünde kepçe vardır. Nasrettin Hoca'nın önünde ise kaşık...

Herkes yemeğe başlar. Ortadaki çorbadan içmeye başlarlar. Kepçe ile içenler, her içtiklerinde, keyiften ağızlarını şapırdatarak:

-Ooh öldüm, derler.

Hoca ise küçük kaşıkla çırpınıp durur. Bu şekilde bir süre yemek devam ettikten sonra Nasrettin Hoca sinirlenir ve şöyle der:

-Ver şu kepçeyi de, biraz da biz ölelim.

❖ İlk iki soruyu fıkraya göre cevaplayınız.

1- Nasrettin Hoca'nın katıldığı yemekte kimler varmış?

- A) Ev sahibi, diğer misafir ve Nasrettin Hoca
- B) Nasrettin Hoca ve köyün ileri gelenleri
- C) Nasrettin Hoca, ev sahibi ve Nasrettin Hoca'nın eşi
- D) Ev sahibi ve tüm mahalle

2- Nasrettin Hoca, çorbayı içerken neden çırpınıp durmuş?

- A) Çünkü yemeği yerken üzerine dökmüş.
- B) Çünkü yemekleri beğenmemiş.
- C) Çünkü kepçeyle rahat çorba içememiş.
- D) Çünkü herkes kepçeyle çorba içerken, Nasrettin Hoca'ya küçük kaşık verilmiş.



Düşündüren Soru



Uyanma vaktii !  
Canlı ders başlıyor.

Offf anne! Çok erken.  
Derse girmek istemiyorum.



Olmaz Efe, canlı derse katılman ve derslerine çalışman gerekli. Unutma:  
"Emeksiz yemek olmaz."

www.ilkokulluyum.com

3-

Annemin, kardeşim Efe'ye söylediği atasözü aklıma geldi. Bu atasözüne anlam olarak benzeyen bir atasözü bulmaya çalışıyorum. Aşağıdaki atasözlerinden hangisi olabilir? Bana yardımcı olur musunuz?



- A) Sakla samanı gelir zamanı.
- B) Dost kötü günde belli olur.
- C) Yazın başı pişenin, kışın aşı pişer.
- D) Gittiğin yer kör ise, gözünü yum da gez.





4- Görselleri inceleyiniz. Yukarıdaki görsellerin arasındaki anlam ilişkisi , aşağıda verilen seçeneklerin hangisinde vardır ?

- A) Uzak ve ırak
- B) Barış ve sulh
- C) Sınıf ve derslik
- D) Tutsak ve özgür



Konuşmalısinki Ahmet'te ne istediğini anlāsın.



5- Yukarıdaki tümcede "de" ve "ki" ekinin yazımıyla ilgili hatalar yapılmıştır. Bu tümcenin doğrusu aşağıdakilerden hangisidir ?

- A) Konuşmalısın ki Ahmet'de ne istediğini anlāsın.
- B) Konuşmalısinki Ahmet te ne istediğini anlāsın.
- C) Konuşmalısın ki Ahmet te ne istediğini anlāsın.
- D) Konuşmalısın ki Ahmet de ne istediğini anlāsın.

Elif , Mert ile yarın hastaneye gidecekmış.

6- Yukarıdaki tümcedeki altı çizili sözcük , hangi sorunun cevabıdır ?

- A) Ne zaman ?
- B) Nereye ?
- C) Kiminle ?
- D) Nasıl ?



Aaa ev tertemiz olmuş.



En sevimli hayvanlar kirpilerdir.



Çamaşırlar kupkuru olmuş.



Zavallı kedi , yapayalnız kalmış !

7- Hangi çocuğun tümcesinde , pekiştirme olan bir sözcük yoktur ?

A)



B)



C)

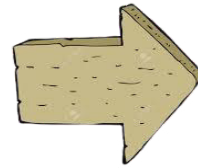


D)



www.ilkokulluYum.com

- Cümle
- Sır
- Söz
- Dil
- Rüzgar
- Prensip



- Giz
- Lisan
- Yel
- İlke
- Tümce
- Duyu
- Laf

8- Eş anlamlı kelimeler karşılıklı olarak iki tabloya yazılmıştır. Her iki tablodaki eş anlamlı kelimeleri eşleştirirsek , hangi kelime açıkta kalır ?

- A) Duyu
- B) Lisan
- C) Giz
- D) İlke

9- Aşağıdaki tümcelerin hangisinde " boş yere uğraşmak " anlamında bir deyim kullanılmıştır ?

- A) Fatma olanları duyunca, ağzı açık kaldı.  
 B) Murat , oğlunu el üstünde tutar.  
 C) Bu yaptıkların havanda su dövmekten başka bir şey değil.  
 D) Bu çocuğun gözü yükseklerde.

Hey sen ! Nereden geldin buraya ?

Ayşe'siz şuradan şuraya gitmem.

Telefonda video izlerken Ahmet'ler geldi.

Dün akşam " Pinokyo " adlı masalı okudum.

Sen Bursa'da mı oturuyorsun.

10- Yukarıdaki tümcelerin kaç tanesinde noktalama yanlışı yapılmıştır?

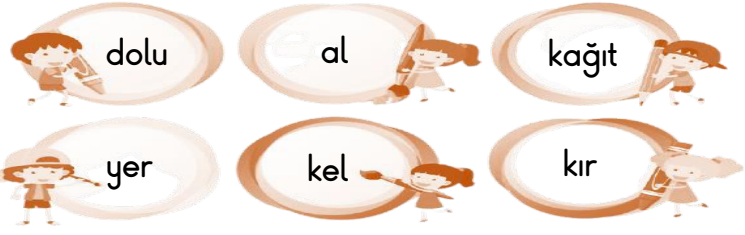
- A) Bir B) İki C) Üç D) Dört

11- Hangi atasözünün , sadece gerçek anlamı vardır ?

- A) Keskin sirke küpüne zarar.  
 B) İğneyi kendine , çuvaldızı başkasına batır.  
 C) Bugünün işini yarına bırakma.  
 D) Ağaç yaşken eğilir .

12- Hangisi terim anlamlı bir kelime değildir ?

- A) Penaltı B) Madde C) Rakam D) Elma



13- Yukarıdaki kelimelerin kaç tanesi eş sesli kelimedir ?

- A) Üç B) Dört C) Beş D) Altı

14- Seçeneklerde verilen tümcelerin hangisinde mecaz anlamlı bir sözcük kullanılmamıştır ?

- A) Bu ağır sözleri işitmek için ne yaptım ?  
 B) Hemen evden çıkmalıyım. Son vasıta birazdan geçecek.  
 C) Babam bu haberi duyunca sevinçten havalara uçtu.  
 D) O lafı söylemeyecektin. Adam çok bozuldu.

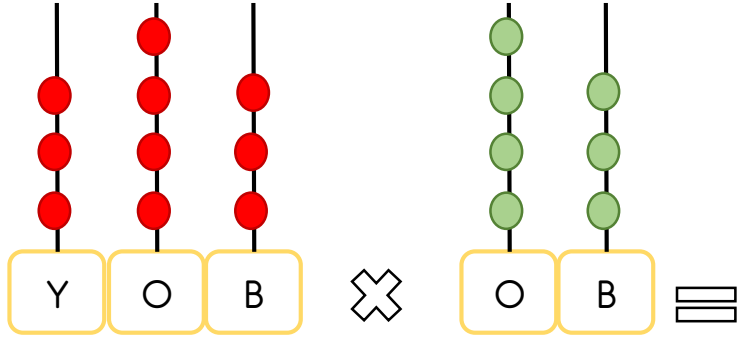
- I. Atatürk " Yurtta sulh , cihanda sulh. " demiştir.  
 II. Ömer Seyfettin'in en beğendiğim eseri , " Perili Köşk " adlı eseridir.  
 III. Yunus Emre " İlim kendini bilmektir. " demiştir.  
 IV. Annem " bütün gün " seni aramış.

15- Tırnak işaretinin doğru kullanıldığı tümceler hangileridir?

- A) I - II - IV  
 B) II - III - IV - V  
 C) III - IV - V  
 D) I - II - III

Türkçe dersi sınavı bitti.

Matematiğe geçiniz.



1- Yukarıda sayı boncukları ile verilen çarpma işleminin sonucunu bulunuz. Çıkan sonucun binler bölümü aşağıdakilerden hangisidir ?

- A) 14 729
- B) 729
- C) 14
- D) 147



2- Bu rakamlar ile yazılabilecek dört basamaklı en küçük çift sayıyı bulunuz. Bulduğunuz sayıyı 18'e bölerseniz , sonuç kaç olur ?

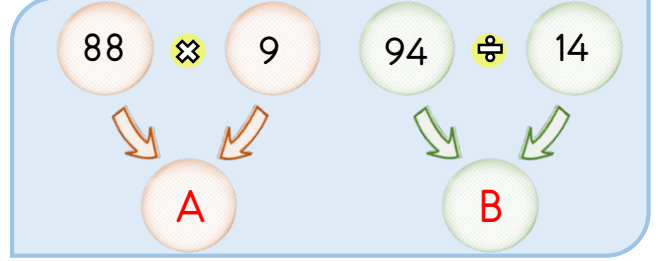
- A) 105
- B) 60
- C) 61
- D) 100

3- Bir sayıyı 25 ile kısa yoldan çarpmak istersek, nasıl bir yöntem kullanmalıyız ?

- A) Sayıyı önce 4 ile çarparız. Daha sonra çıkan sonucu 100'e böleriz.
- B) Sayıyı önce 4'e böleriz. Daha sonra çıkan sonucu 100 ile çarparız.
- C) Sayıyı önce 2'ye böleriz. Daha sonra çıkan sonucu 100 ile çarparız.
- D) Sayıyı önce 2'ye böleriz. Daha sonra çıkan sonucu 10 ile çarparız.



Düşündüren Soru



İlk önce yukarıdaki çarpma ve bölme işlemlerini tahmini olarak yaptım. Böylece A ve B sayılarını tahmini olarak buldum.



Daha sonra bulduğum tahmini sonuçlar ile yeni bir sayı oluşturdum. Bu sayıda :

- A sayısını : Binler bölümü
- B sayısını : Birler basamağı


Olarak kullandım. Boşta kalan basamaklara da sıfır yazdım.



4-

Yeni sayımın on bin on iki fazlası kaçtır ?

- A) 815 014
- B) 810 009
- C) 811 021
- D) 820 021



$24 \times 100 = 2400$	$441 \times 20 = 4410$
$15 \times 300 = 4500$	$1000 \times 20 = 2000$

5- Çarpma işlemlerinin kaç tanesi doğru yapılmıştır ?

- A) 1      B) 2      C) 3      D) 4

9999	90981	90909	9089
------	-------	-------	------

6- Yukarıdaki sayıları büyükten küçüğe sıralarsak sıralama nasıl olur ?

- A)  $90981 < 90909 < 9999 < 9089$   
 B)  $90909 < 90981 < 9999 < 9089$   
 C)  $90981 > 90909 > 9999 > 9089$   
 D)  $90909 > 90981 > 9999 > 9089$

$$\begin{array}{r} 9 \ 5 \ 8 \ 4 \\ - \ 5 \ \blacksquare \ 4 \ 7 \\ \hline 3 \ 6 \ \blacksquare \ 7 \end{array}$$

7- Çıkarma işlemindeki verilmeyenleri bulursak , aşağıdaki seçeneklerden hangisi doğru olur ?

- |                |                |
|----------------|----------------|
| $\blacksquare$ | $\blacksquare$ |
| $\downarrow$   | $\downarrow$   |
| A) 8           | 3              |
| B) 9           | 4              |
| C) 6           | 5              |
| D) 9           | 3              |

8- Aşağıdaki ifadelerden hangisinde eşitlik yoktur ve yanlışlık yapılmıştır ?

- A)  $16 \times 3 = 96 \div 2$   
 B)  $35 \times 4 = 88 + 52$   
 C)  $125 - 75 = 22 + 28$   
 D)  $12 \times 4 = 42 \div 7$

I

$$\begin{array}{r} 355 \\ \times \ 5 \\ \hline \end{array}$$

II

$$\begin{array}{r} 4755 \ | \ 5 \\ \hline \end{array}$$

III

$$\begin{array}{r} 2186 \ | \ 2 \\ \hline \end{array}$$

IV

$$\begin{array}{r} 87 \\ \times \ 8 \\ \hline \end{array}$$

9- Yukarıdaki işlemleri yapınız. Çıkan sonuçları küçükten büyüğe sıraladığınızda , sıralama nasıl olur ?

- A) IV - II - III - I      B) II - III - I - IV  
 C) IV - III - II - I      D) I - III - II - IV

$$12 + \blacksquare = 6 \times 12$$

10- Yukarıdaki eşitlikte  $\blacksquare$  yerine hangi sayı gelmelidir ?

- A) 60      B) 50      C) 40      D) 30

11- Tarladan toplanan patatesler 40 kilogramlık çuvallara konuluyor. Manav Mustafa Amca kamyonuna 40 çuval patates yüklüyor ve manavına götürüyor. Dükkanında bu çuvalların hepsini boşaltıp , patatesleri 10 kilogramlık poşetlere koyuyor. Her poşet 10 kilogram olduğuna göre , manav Mustafa Amca kaç tane poşet kullanmıştır ?

- A) 16 tane
- B) 80 tane
- C) 160 tane
- D) 1600 tane

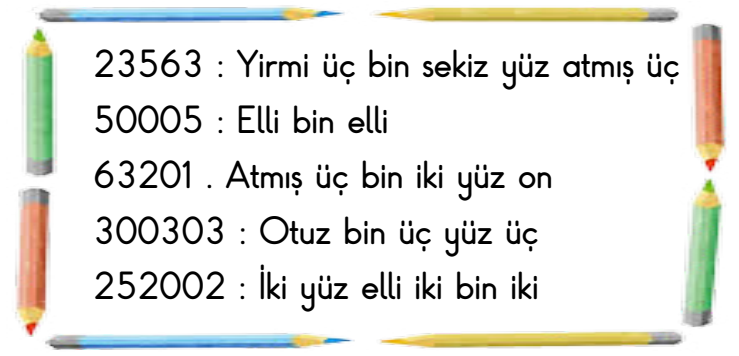
$$\begin{array}{r} 8 \text{ S } 4 \text{ 6} \\ + \text{ R } 4 \text{ 5 } \text{ P} \\ \hline 1 \text{ 3 } 9 \text{ 0 } 5 \end{array}$$

12-Yukarıdaki toplama işlemindeki bilinmeyenleri bulursak P , R ve S sayıları kaç olur ?

- A) P = 9 , R = 5 , S = 4
- B) P = 9 , R = 5 , S = 5
- C) P = 8 , R = 3 , S = 5
- D) P = 7 , R = 8 , S = 7

13-Aşağıdaki çıkarma işlemlerinden hangisinin sonucu , 75 x 20 işleminin sonucuyla aynıdır ?

- A) 7036 - 5436 =
- B) 4253 - 2853 =
- C) 5689 - 4189 =
- D) 6321 - 2121 =



14- Yukarıda sayılar okunuşları ile birlikte verilmiştir. Kaç tane sayının okunuşu yanlıştır ?

- A) Bir tanesinin
- B) İki tanesinin
- C) Üç tanesinin
- D) Dört tanesinin

www.ilkokulluyum.com



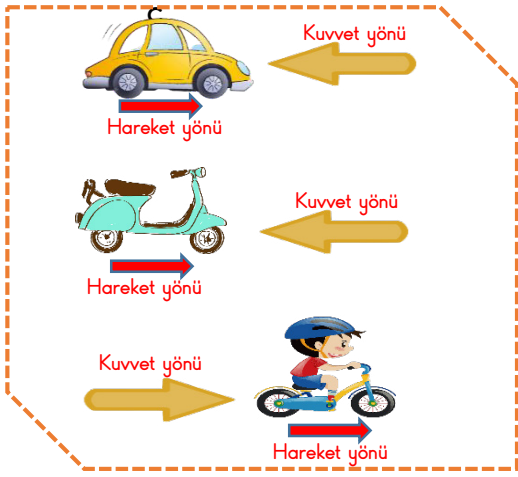
15- Bu sayı örüntüsünde , soru işareti yerine gelecek sayı kaçtır ?

- A) 303
- B) 294
- C) 285
- D) 295



Matematik dersi sınavı bitti.

Fen Bilimlerine geçiniz.



1- Yukarıdaki varlıkların tümü aynı yönde hareket ediyorlar. Bu varlıklara ok yönünde kuvvet uygulanmıştır. Varlıkların hareketleri ne şekilde değişir ?



- |             |          |          |
|-------------|----------|----------|
| A) hızlanır | hızlanır | hızlanır |
| B) yavaşlar | yavaşlar | hızlanır |
| C) yavaşlar | yavaşlar | yavaşlar |
| D) hızlanır | hızlanır | yavaşlar |

Benimle aynı besin içeriğine sahip olan besinler , yapıcı ve onarıcıdır. Yaraları iyileştiririz. Kasları güçlendiririz.



2- Aşağıdaki besinlerden hangisi , yukarıdaki besinle aynı besin içeriğine sahip değildir ?


- |    |    |
|----|----|
| A) | B) |
| C) | D) |

3- Aşağıdakilerden hangisi , kuvvetin etkilerinden birisidir ?


- A) Varlıkları aydınlatabilir.  
B) Varlıkları hızlandırabilir.  
C) Varlıkları ısıtabilir.  
D) Varlıkların erimesine yol açabilir.



Düşündüren Soru



Ayşe Zümra , mıknatısı masanın üzerindeki cisimlere tutuyor.



Mıknatısın bazı cisimleri çektiğini görüyor. Bazı cisimler ise masada kalıyor.

4- Bu durumda , mıknatıs tarafından çekilen ve çekilmeyen bu cisimler hangi maddelerden yapılmış olabilirler ?

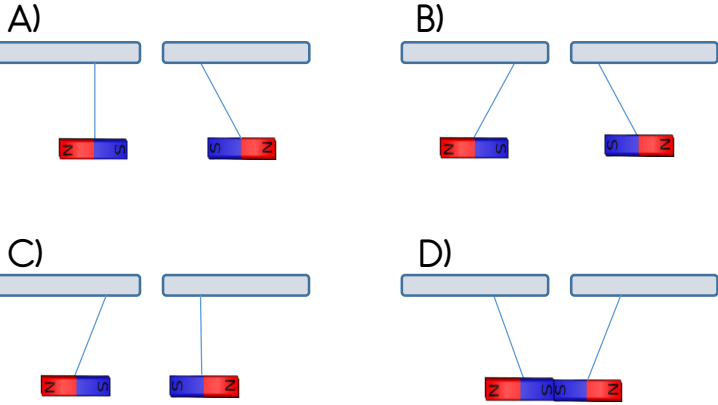


- |            |       |         |       |         |
|------------|-------|---------|-------|---------|
| A) gümüş   | bakır | plastik | demir | cam     |
| B) altın   | cam   | plastik | tahta | nikel   |
| C) plastik | demir | tahta   | nikel | cam     |
| D) tahta   | nikel | cam     | gümüş | plastik |





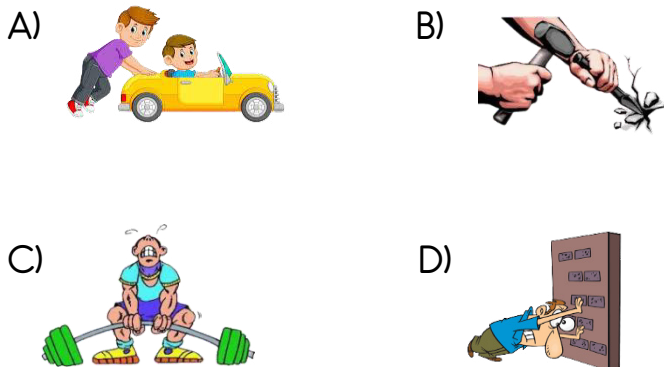
5- Yukarıdaki düzenekte , mıknatıslar iple bir çubuğa bağlanmış ve sarkıtılmıştır. Mıknatısları , ok yönünde birbirlerine yaklaştırırsak, hareketleri aşağıdaki seçeneklerden hangisindeki gibi olur?



6- Dengeli beslenme nedir ?

- A) Dengede durarak yemek yemektir.
- B) Günün belirli vakitlerinde beslenmektir.
- C) Besin içeriklerinin tümünden , yeteri kadar tüketmektir.
- D) Karnımızı doyurmaktır.

7- Aşağıda verilen görselleri inceleyiniz. Varlıklara uygulanan kuvvetlerden hangisi diğerlerinden farklıdır ?



Mıknatısları , günlük yaşamımızda birçok alette kullanırız. Teknolojik aletlerden yön bulmaya kadar pek çok alanda bize yardımcı olurlar.

8- Bu bilgiye göre , hangisi mıknatısın kullanıldığı teknolojik aletlerden değildir ?

- A) Kapı zili
- B) Hastanelerdeki manyetik rezonans ( MR ) cihazları
- C) Elektrikli cihazlardaki , elektrikli motorlar
- D) Ocaklar



9- Alkol tüm vücudumuza zarar verir. Fakat bazı organlarımıza daha fazla zarar verir. Aşağıdakilerden hangisi alkolün zararlarından biridir ?

- A) Göz sağlığına zarar verir.
- B) Duyma kaybına yol açar.
- C) Virüs kapmamızı sağlar.
- D) Karaciğerimize zarar verir ve siroz hastalığına yol açar.

10- Aşağıdakilerden hangisi Dünya'nın dönme hareketinin bir sonucudur ?

- A) Mevsimlerin oluşumu
- B) Gece - gündüz oluşumu
- C) Magmanın yeryüzüne çıkması
- D) Atmosferdeki hava olayları

Fen Bilimleri sınavı bitti.

Sosyal Bilgiler dersine geçiniz.



1- Doğal çevremizi kullanarak yönümüzü bulabiliriz. Aşağıdakilerden hangisi kuzey yönünü göstermez ?

- A) Geceleri Kutup Yıldızı'nın bulunduğu yön
- B) Ağaçların yosun tutan bölümü
- C) Güneşin battığı yön
- D) Karınca yuvalarının ağzında bulunan toprak yığılı kısım



2- Yukarıda verilen görsellerdeki unsurlardan kaç tanesi beşeri unsurdur ?

- A) İki tanesi
- B) Üç tanesi
- C) Dört tanesi
- D) Beş tanesi

Depreme karşı almamız gereken önlemler vardır. Deprem öncesinde ve deprem sırasında yapmamız gerekenler ise farklıdır.

3- Aşağıdakilerden hangisi deprem sırasında yapmamız gerekenlerden biridir ?

- A) Deprem çantası hazırlamalıyız.
- B) Sağlam ve depreme dayanıklı binalar yapmalıyız.
- C) Evdeki eşyaları sabitlemeliyiz.
- D) Merdivenlerden uzak durmalıyız.

4- Aşağıdakilerden hangisi doğal afet değildir ?

- A) Tsunami
- B) Sel
- C) Çığ
- D) Rüzgar



Düşündüren Soru



Deniz kenarında olan yerleşim yerlerinin yükseltisi azdır. Bu nedenle , deniz kenarındaki şehirler genellikle , fiziki haritalarda yeşil renkle gösterilir. Fakat benim yaşadığım şehir olan Trabzon , deniz kenarında olmasına rağmen , fiziki haritada kahverengi renkle gösteriliyor.



Bulduğum yerdeki turistik yerlerden birisi Sümela Manastırı.

Bulduğum yerdeki diğer bir turistik yer ise Uzungöl.

5- Yukarıdaki çocuk , bulunduğu şehir olan Trabzon hakkında çeşitli bilgiler vermiştir. Verilen bilgilere göre, hangi seçenek yanlıştır ?

- A) Bulduğu yerdeki beşeri bir unsur hakkında bilgi vermiştir.
- B) Bulduğu yerin nüfusu hakkında bilgi vermiştir.
- C) Bulduğu yerdeki doğal bir unsur hakkında bilgi vermiştir.
- D) Bulduğu yerin yeryüzü şekilleri hakkında bilgi vermiştir.



I. Güneş'in doğduğu yöne sağ kolumu dönersem , arka tarafım güneyi gösterir.

II. Pusulanın renkli ucu kuzeyi gösterir.





III. Camilerin kapıları batıyı gösterir.

IV. Güneş'in battığı yön batıdır.





6- Yukarıda verilen ifadelerden hangileri doğrudur ?


- A) I - II ve III  
B) I - II ve IV  
C) II - III ve IV  
D) I ve III

7- Aşağıdaki sembollerden hangisi havanın sisli olduğunu gösterir ?

- A)  B)   
C)  D) 

8- Aşağıda görselleri verilen tatlılardan hangisi milli kültürümüzü yansıtmaz ?

- A)  B)   
C)  D) 



9- Krokiye göre aşağıdaki seçeneklerden hangisi doğrudur ?

- A) Krokinin doğusunda lokanta ve okul vardır.  
B) İş merkezi krokinin kuzeybatısındadır.  
C) Can'ın evi krokinin güneydoğusundadır.  
D) Park krokinin güneyindedir.

Nene Hatun , İzmir'in düşman işgalinden kurtulması için mücadele vermiştir.

TBMM 23 Nisan 1920 tarihinde Sivas'ta açılmıştır.

Milli Mücadele öncesi işgaller , Mondoros Ateşkes Antlaşması ile başladı.


Şerife Bacı , Gaziantep'in düşman işgalinden kurtulması için mücadele vermiştir.

10- Kutularda Milli Mücadele ile ilgili bazı bilgiler verilmiştir. Bilgilerden kaç tanesi yanlıştır?

- A) Bir B) İki C) Üç D) Dört

Sosyal Bilgiler sınavı bitti.  
İngilizce dersine geçiniz.





1- Yukarıdaki bayraklar hangi ülkelere aittir ?

- A) Germany - Brazil
- B) Japan - Russia
- C) China - South Korea
- D) Japan - South Korea

2- Aşağıdaki seçeneklerden hangisi " Her akşam ödev yaparım. " anlamına gelir ?


- A) I wake up every morning.
- B) I watch TV in the morning.
- C) I do homework every evening.
- D) I don't like cake.

..... every morning.



3- Yukarıdaki görseli inceleyiniz. Bu görsele göre , çocuğun tümcesini tamamlayınız ?

- A) I wash my face
- B) I brush my teeth
- C) I have breakfast
- D) I take a walk



4- Yukarıdaki adamın söylediği tümce , aşağıdakilerden hangisi olabilir ?

- A) I don't like hamburgers.
- B) Do you like eating melon?
- C) I like eating chicken.
- D) I like eating sandwich.



I go .....every morning.

5- Yukarıdaki görseli inceleyiniz. Bu görsele göre , cümledeki boşluğa , aşağıdaki seçeneklerden hangisini yazabiliriz ?

- A) to play football
- B) to school
- C) to the playground
- D) to work



İngilizce sınavı bitmiştir.

Din Kültürü dersine

geçiniz.

**Âmentü Duası**

أَمَنْتُ بِاللَّهِ وَمَلَائِكَتِهِ وَكُتُبِهِ وَرُسُلِهِ وَالْيَوْمِ الْآخِرِ  
وَبِالْقَدَرِ خَيْرِهِ وَشَرِّهِ مِنَ اللَّهِ تَعَالَى وَالْبَعْثِ بَعْدَ الْمَوْتِ حَقًّا  
أَشْهَدُ أَنْ لَا إِلَهَ إِلَّا اللَّهُ \* وَأَشْهَدُ أَنَّ مُحَمَّدًا عَبْدُهُ وَرَسُولُهُ \*

1- Aşağıda verilen seçeneklerden hangisi Amentü Duasının içerisinde yoktur ?

- A) Allah'ın varlığına ve birliğine inanmak.
- B) Allah'ın meleklerine inanmak.
- C) Ahiret gününe inanmak.
- D) Zekat vermenin gerekliliğine inanmak.

( ... ) Kuran-ı Kerim Cebrail adlı melek aracılığı ile indirilmiştir.  
( ... ) Kuran-ı Kerim , Allah tarafından korunmaktadır.  
( ... ) Kuran-ı Kerim, Allah tarafından indirilen ilk kutsal kitaptır.  
( ... ) Kuran-ı Kerim insanları uyaran , doğru yolu gösteren bir kitaptır.

2- Bu bilgilerin doğru olanlarına "D" , yanlış olanlarına ise "Y" koyarsak , cevap aşağıdaki seçeneklerden hangisi olur?

A)	D	B)	D	C)	Y	D)	D
	D		Y		D		D
	Y		Y		Y		Y
	D		D		D		Y

3- Aşağıda verilen bilgilerden hangisi doğrudur ?

- A) Kuran-ı Kerim'in en uzun suresi Yasin Suresi'dir.
- B) Kuran-ı Kerim'in en küçük parçasına cüz denilir.
- C) Kuran-ı Kerim'in en kısa suresi Nisa Suresi'dir.
- D) Kuran-ı Kerim'in ilk suresi Fatıha Suresi'dir.

Namaz kılmak

Hacca gitmek

Zekat vermek

Oruç tutmak

.....

4- İslam'ın şartlarından bir tanesi yazılmamıştır. Boş bırakılan yere , seçeneklerden hangisini yazmalıyız ?

- A) Meleklerle inanmak.
- B) Kadere ve kazaya inanmak.
- C) Kelime-i şehadet getirmek.
- D) Allah'ın kitaplarına inanmak.

5- Hangisi , güzel ahlaklı insanın bir özelliği olamaz ?

- A) Kibirli olmak
- B) Yardımsever olmak
- C) Kusurları örtmek
- D) Yalan söylememek

SINAV BİTMİŞTİR



Cevaplarınızı kontrol ediniz.

ADI SOYAD: .....

OKUL: .....

SINIF: ..... ŞUBE: .....



## DENEME SINAVI CEVAP KAĞIDI

TÜRKÇE	MATEMATİK	FEN BİLİMLERİ	SOSYAL BİL. HAYAT BİL.	İNGİLİZCE	DİN KÜL. VE AHL.BİL.
1 A B C D	1 A B C D	1 A B C D	1 A B C D	1 A B C D	1 A B C D
2 A B C D	2 A B C D	2 A B C D	2 A B C D	2 A B C D	2 A B C D
3 A B C D	3 A B C D	3 A B C D	3 A B C D	3 A B C D	3 A B C D
4 A B C D	4 A B C D	4 A B C D	4 A B C D	4 A B C D	4 A B C D
5 A B C D	5 A B C D	5 A B C D	5 A B C D	5 A B C D	5 A B C D
6 A B C D	6 A B C D	6 A B C D	6 A B C D		
7 A B C D	7 A B C D	7 A B C D	7 A B C D		
8 A B C D	8 A B C D	8 A B C D	8 A B C D		
9 A B C D	9 A B C D	9 A B C D	9 A B C D		
10 A B C D	10 A B C D	10 A B C D	10 A B C D		
11 A B C D	11 A B C D	11 A B C D	11 A B C D		
12 A B C D	12 A B C D	12 A B C D	12 A B C D		
13 A B C D	13 A B C D	13 A B C D	13 A B C D		
14 A B C D	14 A B C D	14 A B C D	14 A B C D		
15 A B C D	15 A B C D	15 A B C D	15 A B C D		
16 A B C D	16 A B C D	16 A B C D	16 A B C D		