

1.GÜN



Aslan yan gelmiş yatmış, hor hor uykuya dalmış. Farenin biri deliğinden çıkmış. Başlamış aslanın üzerinde oynayıp cirit atmaya. Aslan uyanmış, tedirgin tedirgin bakınmış; -Ne oluyor üstümde diye aranıyorken kapı önünden geçen bir tilki aslanın bu durumunu görünce, hemen lafı yapştırmış, aslanı alaya almış: "Ne o aslan kardeş, sen de minicik bir fareden mi korktun? Ne ayıp ne ayıp? Aslanlığa bu yaraşır mı hiç? " demiş.

Aslan burnundan solumuş: Fareden falan korktuğum yok... Benimkisi sadece merak! Uyuyan koca aslanın üstünde kim, hangi kabadayı dolaşmayı göze almış? Ben asıl onu merak ettim, demiş.



SORULAR:

1) Aslan, neden uyanmış?

2) Aslanla kim alay etmiş?

3) Aslan etrafa nasıl bakmış?

4) Metnin başlığı ne olabilir?

Aşağıda verilen soruları çözelim.

1) Sepette 3 yumurta vardır. Bir düzine olması için kaç yumurta daha koymak gerekir?

2) Dolapta 3 adet kitap vardır.1 deste kitap olması için kaç kitaba daha ihtiyaç vardır?

$2 \text{ deste} + 5 =$

$3 \text{ düzine} + 4 =$

$1 \text{ deste} + 1 \text{ düzine} =$

$2 \text{ düzine} + 0 =$

$4 \text{ deste} + 1 \text{ onluk} =$

$2 \text{ deste} + 3 \text{ Deste} =$



Aşağıda verilen sayıların basamak adı ve değerleri ve okunuşlarını yazalım.

SAYI	85	
BASAMAK ADI		
BASAMAK DEĞERİ		
OKUNUŞU		

SAYI	62	
BASAMAK ADI		
BASAMAK DEĞERİ		
OKUNUŞU		

SAYI	31	
BASAMAK ADI		
BASAMAK DEĞERİ		
OKUNUŞU		

SAYI	23	
BASAMAK ADI		
BASAMAK DEĞERİ		
OKUNUŞU		

Fiziksel Özellikler: Kişilere baktığımızda gördüğümüz özellikleridir. Yani dış görünüşleridir. Gözümüzle bu özellikleri görebiliriz. Örneğin bir insana baktığımız saç rengini, göz rengini, boyunu ve kilosunu görebiliriz.

Kişisel Özellikler: Bakınca göremeyeceğimiz özelliklerdir. Tanımadığımız birinin akıllı mı, cesur mu, korkak mı, alıngan mı, duygusal mı olduğunu göremeyiz.



Aşağıda verilen özelliklerin hangisi kişisel özellik, hangisi fiziksel özelliktir?

ÖZELLİKLER	FİZİKSEL	KİŞİSEL	ÖZELLİKLER	FİZİKSEL	KİŞİSEL
kadın olmak			erkek olmak		
çalışkan olmak			kıvırcık saçlı olmak		
Korkak olmak			kilolu olmak		
Yaşlı olmak			esmer olmak		
Beyaz tenli olmak			kıvırcık saçlı olmak		
Kıvırcık saçlı olmak			çekişgen olmak		
Zayıf olmak			hayvanları çok sevmek		
Ela gözlü olmak			kısa boylu olmak		
hoşgörölü olmak			Bitkileri sevmek		
çalışkan olmak			beyaz tenli olmak		
Terbiyeli olmak			kumral saçlı olmak		
Sorumluluk sahibi olmak			Adil olmak		
Sarı saçlı olmak			tembel olmak		
Kaba olmak			Efendi olmak		

2.GÜN

İKİ EŞEK

Köylünün biri sahip olduğu iki eşekten birisine tuz, diğerine de sünger yükleyip pazarın yolunu tutmuş. Tuz yüklü eşek yükünün ağırlığı ile zor yürüyor, nerede ise yere düşecekmiş gibi oluyormuş. Oysa sünger yüklü eşek çok rahatmış. Üzerinde efendisi olduğu halde zorluk çekmeden yürüyebiliyormuş.

Dağlar tepeler aşmış sonunda bir nehre varmışlar. Tuz yüklü eşek yorgun olmasına rağmen nehri kolayca geçmiş. Çünkü suya girince üzerindeki tuzlar eriyip yok olmuş. Karşıya geçtiğinde ise keyfine diyecek yokmuş. Bunu gören sünger yüklü eşek de girmiş suya. Ama oda ne? Sırtındaki süngerler suyu çektikçe eşeğin yükü ağırlaşıyormuş.

Eşek giderek batmaya başlayınca üzerindeki efendisi "İmdaaaat!" diye bağırmaya başlamış. O sırada yoldan geçen birisinin yardımıyla eşek de, efendisi de zor kurtulmuşlar. Yolculuğun geri kalan bölümünde ise, tuz yüklü eşek rahat rahat yürürken sünger yüklü eşek sıkıntı çekmiş.

SORULAR :



1) Yola çıktıklarında sünger yüklü eşek nasıl yürüyormuş?

.....

2) Adam eşeğin birine tuz yüklemiş. Diğerine ne yüklemiş?

.....

3) Tuz yüklü eşek nehri neden kolayca geçmiş?

.....

4) Sünger yüklü eşek nehirden geçememesinin nedeni nedir?

.....

5) Hikayenin sonunda, tuz yüklü eşek mi yoksa sünger yüklü eşek mi rahatmış?

.....

Örnekten yola çıkarak diğer kelimeleri örnekteki gibi yapalım

KELİME	Harf sayısı	Ünlü harf	Ünsüz harf	Hecele	Hece Sayısı
Pencere	7	e	P-n-c-r	Pen-ce-re	3
Kırtasiye					
Bigisayar					
Kalemlik					
Kamyonet					
Sandalye					
Çaydanlık					



Kelimelerin eş anlam ve zıt anlamlarını yazalım.



EŞ ANLAMLI KELİMLER

Hane = **Ev, Konut** Doktor =
 Kırmızı = Yoksul =
 Armağan = Cevap =
 Siyah = İmkân =
 İhtiyar = Savaş =
 Kelime = Millet =
 Sınav = Tabiat =
 Okul = Büyük =
 Soru = Minik =
 Öğretmen = Konuk =

ZIT ANLAMLI KELİMLER

Aşağı **X** Yukarı Az **X**
 Açık **X** Doğu **X**
 Artı **X** Beyaz **X**
 Alıcı **X** Savaş **X**
 Ağır **X** Bolluk **X**
 Alt **X** Alacak **X**
 Acemi **X** Cimri **X**
 Atılgan **X** Cevap **X**



Aşağıda verilen toplama işlemlerini yapalım.

2' şer ritmik saymada eksik rakamları tamamlayalım

2									
---	--	--	--	--	--	--	--	--	--

Aşağıdaki boşluklara 3'er ritmik sayıp yazalım

3									
---	--	--	--	--	--	--	--	--	--

Aşağıdaki boşluklara 4'er ritmik sayıp yazalım

4									
---	--	--	--	--	--	--	--	--	--

Aşağıdaki boşluklara 5'er ritmik sayıp yazalım.

5									
---	--	--	--	--	--	--	--	--	--

Aşağıda verilen sayıları en yakın onluğa yuvarlayalım.

24	→	
16	→	
35	→	
66	→	
47	→	
53	→	
79	→	
44	→	

22	→	
94	→	
99	→	
53	→	
29	→	
32	→	
61	→	
24	→	

23	→	
27	→	
85	→	
77	→	
15	→	
41	→	
18	→	
72	→	

Aşağıda verilen soruları cevaplayalım.

1) Aşağıdaki ifadelerden hangisi arkadaşlarımızla doğru iletişim kurmamızı sağlar?

- A) Benim söylediklerimi yap!
- B) Her fikir değerlidir.
- C) Sana görev vermiyorum.

2) Okulda ve sınıfta kararları nasıl alırsınız ?

- A) Bütün kararları sınıf başkanı alır.
- B) Herkes kendi başına karar alır.
- C) Öğretmenimiz ve arkadaşlarımızla

3) Aşağıdaki bilgilerden hangisi yanlıştır?

- A) Her birey aynı özelliklere ve yeteneklere sahiptir.
- B) Bireysel farklılıklara karşı doğal davranmalıyız.
- C) Her türlü farklılığa karşı anlayışlı olmalıyız.

4) Aşağıdaki öğrencilerden hangisi sadece fiziksel özelliklerini söylemiştir?

- A) Uzun boylu ve kıvrıkcık saçlıyım.
- B) Mavi gözlüyüm, resim yapmayı severim.
- C) Uzun boyluyum, iyi basketbol oynarım.

5) Aşağıdaki etkinliklerden hangisi kişilerin yetenekleri ile ilgili değildir?

- A) Resim yapmak
- B) Gitar çalmak
- C) Film izlemek

.....özelliklerimiz dış görünüşümüzü anlatan gözle görülebilen özelliklerimizdir.

6) Yukarıdaki boşluğa hangi kelime gelmelidir?

- A) Kişisel
- B) Fiziksel
- C) Duygusal





TİLKİNİN PLANI

Sonbahar mevsiminin ilk günleriydi. Hava oldukça güzeldi. Tavuk ile horoz dolaşmaya çıktılar. Birlikte sohbet ederek yürüyorlardı. Çalılarının arasında kendilerine bakan bir çift göz vardı. Bu uzun kuyruklu bir tilkiydi. Tavukla horozun çiftlikten iyice uzaklaşmasını bekliyordu. Sonra ikisini de midesine indirecekti. Karnını doyuracaktı. Ama tilki dikkatsiz davrandı. Bir çalıya bastı. Çalı kırılırken ses çıkardı. Sesin geldiği yere bakan horoz tilkiyi gördü. Olanca sesiyle bağırarak üürüüü! üürüüü! diye öttü. Çiftlikten sesi duyan Karabaş bir tehlike olduğunu anladı. Havlayarak horozun öttüğü yere koştu. Köpeği gören tilki hemen oradan kaçtı. Böylece tavuk ile horoz tilkiye yem olmaktan kurtuldular.



SORULAR :

1) 1) Hikayedeki olay ne zaman geçiyor?

2) Kimler dolaşmaya çıkmış?

3) Çalılarının arasından bakan gözler hangi hayvana aitmiş?

4) Tilki, tavuk ile horoza ne yapmayı düşünüyormuş?

5) Tilkinin planı niçin gerçekleşmemiş?

Aşağıda verilen cümlelerde kurallı cümle olanların sonundaki kutucuğa K yazınız.

Yarın ben de sinemaya

Gelmedin okula bugün.

Sokakta insanlar bağışıyorlardı.

Gizem giydi pembe pantolon.

Mira uzun boylu bir çocuktur.

Ali de bugün bizimle geldi.

Şanlıurfa sıcaktır çok.

Laleler aldım çiçek pazarından.

Bugün çok su içtim.

Kardeşim gelecek bugün.

Aşağıda karışık olarak verilen kelimeleri kurallı cümleler haline getirelim

Çok-annem-yılandan-korkuyormuş

Mehmet-gecek-bizimle-yarın

Aşağıda verilen kelimeleri alfabetik sıraya koyalım.

Mart -Nisan Mayıs → Mart-Mayıs-Nisan

Bebek-Beşik -Bardak →

Bezelye-Bamya-Barbunya →

Kalem-Kağıt-Defter →

Elma- Erik -Üzüm →

Ayna -Tarak-Tava →

Makas-Matkap-İğne →

Pazar-Pazartesi-Salı →

Kumaş-Kumsal-Kurdele →



Aşağıda verilen toplama işlemlerini yapalım.

19	29	38	47	56	65
+ 25	+ 77	+ 45	+ 34	+ 47	+ 29
-----	-----	-----	-----	-----	-----

17	18	23	28	33	38
13	14	15	16	17	18
+ 35	+ 24	+ 33	+ 22	+ 45	+ 32
-----	-----	-----	-----	-----	-----

Yanda verilen örüntülerin kuralını yanına yazınız.

Örüntü kuralı

2-4-6-8-10-12 →

21-18-15-12-9- →

4-8-12-16-20- →

25-20-15-10- →

3-6-9-12-15- →

Aşağıda verilen örüntülerde kuralı bozan kutucuğu işaretleyelim.

30 → 27 → 25 → 21 → 18 → 15 →

5 → 10 → 15 → 16 → 25 → 30 →

4 → 8 → 9 → 16 → 20 → 24 →

45 → 44 → 35 → 30 → 25 → 20 →

1 → 2 → 3 → 4 → 5 → 7 →

Aşağıda verilen soruları cevaplayalım.

1) Sinem kıvrıkcık saçlı uzun boyludur yukarıda bahsettiği nedir?

- A) Fiziksel özellik
- B) Bireysel fark
- C) Yetenek

Salı günü dersleri:

Türkçe, Müzik, Matematik

2) Ece Salı günü çantasını ders programına göre hazırlayacak. Hangisini çantasına koymasına gerek yoktur?

- A) Türkçe kitabı
- B) flüt
- C) Spor ayakkabı

3) Aşağıda verilenlerden hangisi yanlıştır?

- A) Sınıf kurallarını öğretmen ve öğrenciler birlikte belirlemelidir.
- B) Kurallar sınıfta düzeni sağlar.
- C) Sınıf kuralları olmasaydı sınıf eğlenceli bir ortam olurdu.

4) Adem bilinçli bir tüketicidir. Adem'in aşağıda verilen davranışlardan hangisini yapması beklenir?

- A) Önce ihtiyaçlarını kalan parasını biriktirir.
- B) Önce isteklerini alır.
- C) İsteddiği ürünün en pahalı olanını seçer.

5) Aşağıda verilenlerden hangisi doğrudur?

- A) Grup çalışmalarında arkadaşlarımızın görüş ve isteklerine saygı duymalıyız.
- B) Grup çalışmalarında istemediğimiz görev gelirse gruptan ayrılmalıyız.
- C) Çalışmayı istediğimiz zaman bitirebiliriz.

6) Hangisi kişisel özelliğinden bahsetmiştir?

- A) Saçlarım kıvrıkcıktır.
- B) Yüzmeyi çok severim.
- C) Uzun boyluyum.



4.GÜN

KRAL VE KIZI

Çok güzel bir gündü. Küçük Prenses öğleden sonra bahçedeki çimenlerin üzerinde oynuyordu. Bir borazan sesi işitince sevinçle ayağa kalktı. Bu ses, babasının kendisini görmeye geldiğini duyuruyordu. Az sonra yolun dönemecinde atlılar görüldü. Beyaz bir ata binen kral, yanındakinden daha uzundu...

SORULAR:

1) Küçük Prenses ne yapıyordu?

- A) Uyuyordu
- B) Oturuyordu
- C) Oynuyordu

2) Küçük Prenses niçin ayağa kalktı?

- A) Korktuğu için
- B) Borazan sesini işittiği için
- C) Kaçırılacağından korktuğu için

3) Yolun dönemecinde kimler görüldü?

- A) Atlılar
- B) Askerler
- C) Koşanlar

4) Borazan sesi neyi haber vermektedir?

- A) Soygunu
- B) Babasının geldiğini
- C) Annesinin geldiğini



İşlemleri yapalım, şifreyi bulalım.

							33
19	29	38	47	56	65		17
+ 25	+ 67	+ 45	+ 34	+ 37	+ 29	+ 45	
.....
T	A	A	T	R	K	Ü	

96	81	83	44	95	93	94
<input type="text"/>	<input type="text"/>	<input type="text"/>	<input type="text"/>	<input type="text"/>	<input type="text"/>	<input type="text"/>

Aşağıda verilen örneklerdeki verilmeyen toplananları bulalım.

65	85
<input type="text"/>	65
+	-
85	20

35	<input type="text"/>
<input type="text"/>	<input type="text"/>
+	-
74	<input type="text"/>

35	<input type="text"/>
<input type="text"/>	<input type="text"/>
+	-
86	<input type="text"/>

47	<input type="text"/>
<input type="text"/>	<input type="text"/>
+	-
66	<input type="text"/>

37	<input type="text"/>
<input type="text"/>	<input type="text"/>
+	-
79	<input type="text"/>

41	<input type="text"/>
<input type="text"/>	<input type="text"/>
+	-
53	<input type="text"/>

17	<input type="text"/>
<input type="text"/>	<input type="text"/>
+	-
49	<input type="text"/>

27	<input type="text"/>
<input type="text"/>	<input type="text"/>
+	-
79	<input type="text"/>

55	<input type="text"/>
<input type="text"/>	<input type="text"/>
+	-
79	<input type="text"/>



Aşağıda verilen soruları cevaplayarak ritmik saymayı kavrayalım.

1) 20'den başlayıp ileriye doğru dörder ritmik saydığımızda söylediğimiz 5.sayı kaçtır?(20 dahil)	2) 35'den başlayıp geriye doğru beşer ritmik saydığımızda söylediğimiz 7.sayı kaçtır? (35 dahil)
3) 27 den başlayıp geriye doğru üçer ritmik saydığımızda söylediğimiz 4.sayı kaçtır?(27 dahil)	4) 32'den başlayıp geriye doğru dörder ritmik saydığımızda söylediğimiz 6.sayı kaçtır?(32 dahil)
5) 18 den başlayıp ileriye doğru ikişer ritmik saydığımızda söylediğimiz 4.sayı kaçtır?(18 dahil)	6) 40 dan başlayıp geriye doğru dörder ritmik saydığımızda söylediğimiz 3.sayı kaçtır?(40 dahil)

Aşağıda verilen basamak ile ilgili soruları cevaplayalım.

1.54 sayısının onluk ve birliklerine ayrılmış şekli aşağıdakilerden hangisidir?

- A. 5 birlik + 4 birlik B. 4 onluk + 5 birlik C. 4 birlik + 5 onluk

2.İki basamaklı en büyük doğal sayı kaçtır?

- A. 49 B. 99 C. 94

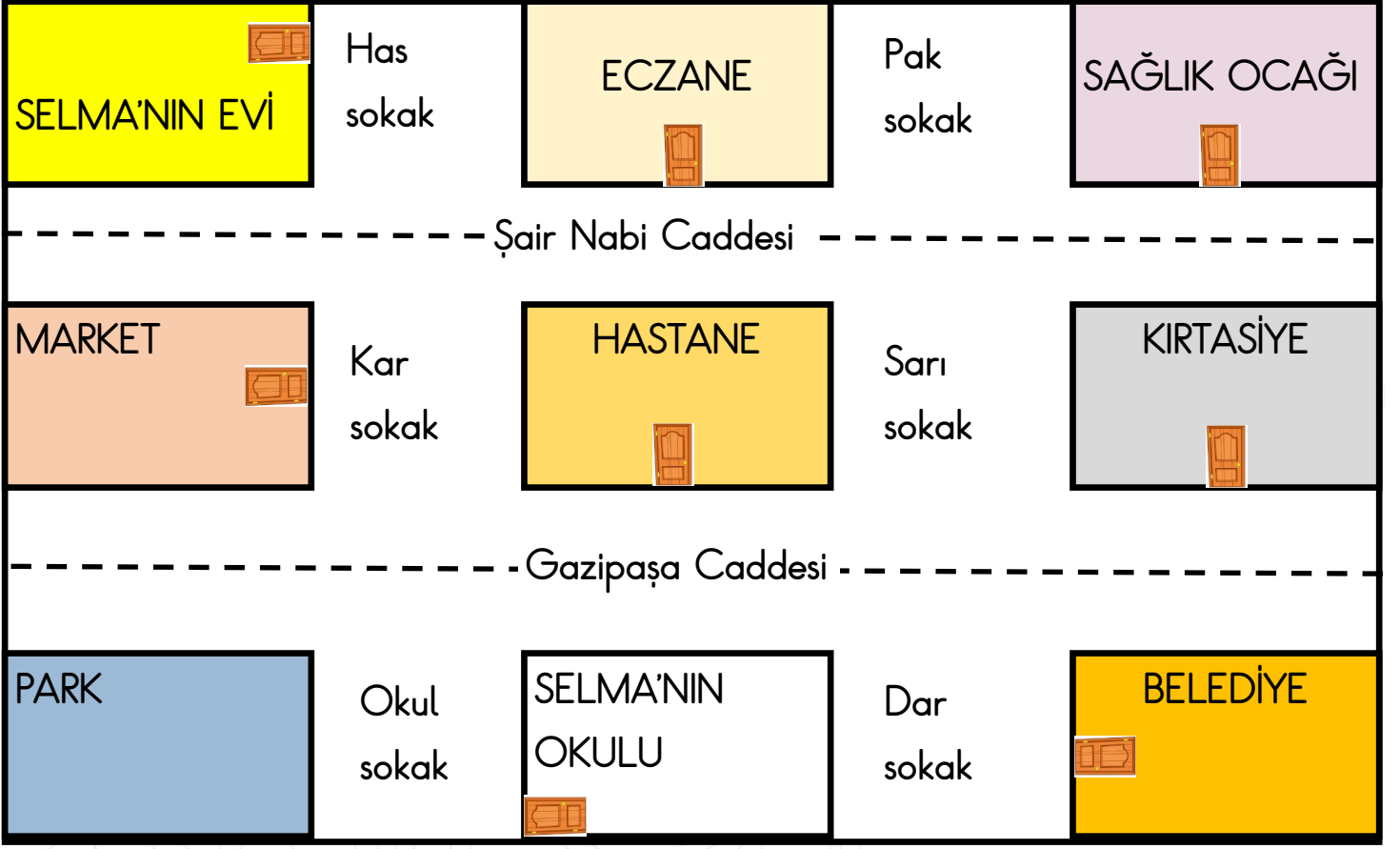
3.Onlar basamağı 5 olan iki basamaklı en büyük doğal sayı kaçtır?

- A. 59 B. 15 C. 45

4. 3 birlik + 4 onluktan oluşan doğal sayı aşağıdakilerden hangisidir?

- A. 43 B. 34 C. 33

Aşağıda verilen krokiyi inceleyelim, kroki ile ilgili verilen soruları cevaplayalım



Selma'nın okulu hangi cadde üzerinde bulunmaktadır?

Hastane hangi cadde üzerinde bulunmaktadır?

Selma okula gitmek için hangi sokak ve caddeleri kullanmalıdır?

Selma'nın okulunun sağ tarafında ne vardır?

Hastane'nin sağ tarafında ne bulunmaktadır?

Selma'nın okulu hangi cadde üzerinde bulunmaktadır.



5.GÜN

BEDAVACI SİNCAP

Kuşlar cevizi çok severlermiş. Cevizleri kırmak için özel yöntemleri varmış. Önce dallardan birer ceviz koparıp gökyüzüne uçarlarmış. İyice yükseldikten sonra, gagalarındaki cevizi aşağı bırakırlarmış. Cevizler yere düşünce kırılır, onlar da iner, içini yerlermiş. Fakat bir gün, ortaya bir sincap çıkmış. Bu sincap, çalışmayı sevmezmiş. Kuşların yüksekten bıraktığı cevizleri, onlardan önce yermiş.

Çalışkan kuşlar, bedavacı sincaptan kurtulmanın yolunu bulmuşlar. Gagalarına acı bir meyve alıp havalanmışlar ve yere bırakmışlar. Bu meyveyi ceviz sanan sincap, hemen ağzına almış ve oracıkta bayılmış. Bir zaman sonra akli başına gelmiş. Bir daha başkalarının hakkına el uzatmamaya yemin etmiş.

SORULAR :



1) Kuşlar, hangi meyveyi seviyormuş?

2) Kuşların kıldığı cevizi hangi hayvan kapıyormuş?

3) Kuşlar, ceviz kırma işini nasıl yapıyorlar?

4) Kuşlar, sincaba nasıl bir ceza vermişler?

5) Bir daha başkalarının hakkına el uzatmamaya yemin eden kimdir?

Aşağıdaki cümlelerde yazım hatalarını düzeltelim ve cümlenin sonuna gelmesi gerek uygun noktalama işaretini koyalım.

- 1- pazarda elma sattım()
- 2- Ahmet ve hasan alışverişe çıktı()
- 3- Mehmet fatih ilkokulunda okuyor()
- 4- 19 mayıs gençlik ve spor bayramı geldi()
- 5- Bu hafta pinokyo adlı kitabı okuyorum()
- 6- Kuşumun adını maviş koydum()
- 7- Bugün 15 kasım 2022 günü()
- 8- Tatilde ankaraya gideceğiz ()
- 9- Ablan, van gölüne gitti mi ()
- 10- Teyzemle eskişehire gittik()
- 11- Belediye karanfil caddesindeymiş ()
- 12- Türkiye'nin başkenti Ankara'dır ()
- 13- Canım öğretmenim, bize gelir misin ()
- 14- Türkiye'nin en yüksek dağı, ağırı dağdır ()
- 15- Bu yaz yozgat çamlığını gezdim ()
- 16- Dedemle Ramazan Bayramı'nda görüşeceğiz ()
- 17- Güneş sistemindeki üçüncü gezegen dünyadır ()
- 18- oyunu salih ve grubu kaybetti mi ()
- 19- Kütüphaneden "Nasrettin hoca"adlı kitabı aldım()
- 20- Köpeğim karabaş çok hareketlidir ()

Aşağıda verilen soruları çözelim.

1) Aşağıdaki cümlelerin hangisinde büyük harflerin yazımı ile ilgili bir hata yapılmıştır?

- A) Ali İngilizce bilmiyor.
- B) Ömer italyanca konuşuyor.
- C) Ayhan Türkçe bilmez.

2) Aşağıdaki cümlelerin hangisinde büyük harflerin yazımı ile ilgili bir hata yapılmıştır?

- A) Aslı, fatih mahallesinde oturuyor.
- B) Cem, Sakarya İlkokulu'na gidiyor.
- C) Elif Ankara'da oturuyor.

3) Aşağıdaki cümlelerde altı çizili kelimelerden hangisi büyük harfle başlamalıdır?

- A) Kendime pamuklu tişört aldım.
- B) Marketten pamuk aldım.
- C) Kedim pamuk, koltukta uyuyor

4) Aşağıdaki cümlelerin hangisinde büyük harflerin yazımı ile ilgili bir hata yapılmamıştır?

- A) ismail ve ailesi bize gelecekler.
- B) Köpeği pulsar bu sabah kaçtı.
- C) Gizem Çamlıca Sokak'ta oturuyor.



Aşağıdaki boşluklara büyüktür , küçüktür , eşittir ifadelerinden uygun olanı yazınız.

11		2	2		4	8		91
21		3	3		2	7		7
10		13	8		2	8		9
2		13	7		9	5		4
3		3	9		4	1		0

Aşağıdaki boşluklara "önce, sonra, arasında" ifadelerinden uygun olanı yazınız.

- 3. yarışmacıdan 4. yarışmacı gelir.
- 5. yarışmacı ile 7. yarışmacı 6. yarışmacı vardır.
- 1. yarışmacıdan 2. yarışmacı gelir.
- 2. yarışmacı, 1. yarışmacı ile 3. yarışmacının dir.
- 9. yarışmacı, 8. yarışmacıdangelir.

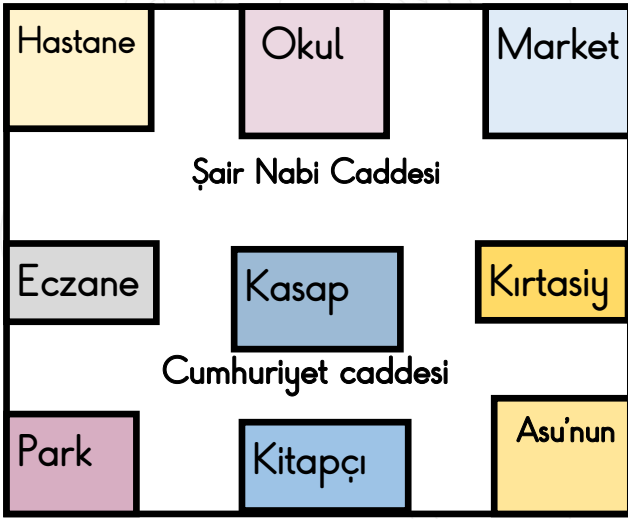


Aşağıda verilen soruları cevaplayalım

İnsanlar arasındaki ve farklılıklar doğaldır.
Bireysel farklılıklaraduymalıyız.

1) Yukarıdaki noktalı yerler aşağıda verilen kelimelerle doldurulduğunda hangi kelime boşta kalır?

- A) Saygı B) Benzerlikler C) Yetenek



2) Asu'nun okulu hangi cadde üzerinde yer almaktadır?

- A) Laleli sokak
B) Şair Nabi Caddesi
C) Cumhuriyet Caddesi

3) Okula gitmek için çantasını hazırlayan Helin, aşağıdakilerden hangisini göz önünde bulundurmalıdır?

- A) Annesinin uyarılarını
B) Ders programını
C) Sınıf kurallarını

4) Sınıf kuralları belirlenirken aşağıdakilerden hangisinin yapılması doğru bir davranıştır?

- A) Bütün herkesin düşüncesine önem verilmelidir
B) Sınıf kurallarını öğretmen belirlemelidir.
C) Sınıf kurallarını sınıf başkanı belirlemelidir.

1. Adil

2. Nazik

3. Saygılı

5) Grup çalışması yaparken grup arkadaşlarımızın yukarıdaki davranışlardan hangisine sahip olmasını isteriz?

- A) Yalnız 1.
B) 1.ve 2.
C) 1.2.ve3.



6.GÜN

KELOĞLAN VE SEVGİ İKSİRİ

Kara vezir ve yaşlı cadı, kavga iksiri yapmışlar ve içme suyuna dökmüşler. Suyu içen herkes kavgacı olmuş. Keloğlan, su içecekken Bilge Can Dede onu engellemiş. Yaşlı cadının yaptıklarını anlatmış. Bunu düzeltmek için de sevgi iksirine gerek varmış. Keloğlan iksiri yapmak için gereken otları taş makas ile keserek getirmiş. Bilge Can dede sevgi iksirini yapmış. Keloğlan sevgi iksirini içme suyunun içine dökmüş ve herkes o sudan içince kimse artık kavga etmemiş.

SORULAR :

1) Kavga iksirini kim yapmış?

2) Su içmek isteyen Keloğlan'ı kim engellemiş?

3) Kavga iksirinin etkisinden kurtulmak için ne gerekiyormuş?

4) Keloğlan otları ne ile kesmiş?

5) Sevgi iksirini Keloğlan neyin içine dökmüş?



Aşağıda verilen kelimeleri özelliklerine göre işaretleyelim.

İSİM	ÖZEL İSİM	CİNS(TÜR) İSİM	TEKİL İSİM	ÇOĞUL İSİM
Mira				
Arkadaşlar				
Uçaklar				
Mehmet				
İtalya				
Almanca				
Pencereler				
Samsun				
Kayisılar				
Karabaş				
Köpek				
İnsanlar				

Aşağıda kısa çizginin doğru kullanıldığı kutuları yeşil renge, yanlış kullanıldığı kutular kırmızı renge boyayınız.

Kit-
aplık

Kahr-
aman

Pen-
cere

Küt-
üphane



Aşağıda verilen toplama işlemlerini yapalım.

$\begin{array}{r} 19 \\ + 25 \\ \hline \end{array}$	$\begin{array}{r} 29 \\ + 77 \\ \hline \end{array}$	$\begin{array}{r} 38 \\ + 45 \\ \hline \end{array}$	$\begin{array}{r} 47 \\ + 34 \\ \hline \end{array}$	$\begin{array}{r} 56 \\ + 47 \\ \hline \end{array}$	$\begin{array}{r} 65 \\ + 21 \\ \hline \end{array}$
.....
$\begin{array}{r} 17 \\ + 30 \\ \hline \end{array}$	$\begin{array}{r} 18 \\ + 24 \\ \hline \end{array}$	$\begin{array}{r} 23 \\ + 33 \\ \hline \end{array}$	$\begin{array}{r} 28 \\ + 22 \\ \hline \end{array}$	$\begin{array}{r} 33 \\ + 45 \\ \hline \end{array}$	$\begin{array}{r} 38 \\ + 18 \\ + 32 \\ \hline \end{array}$
.....

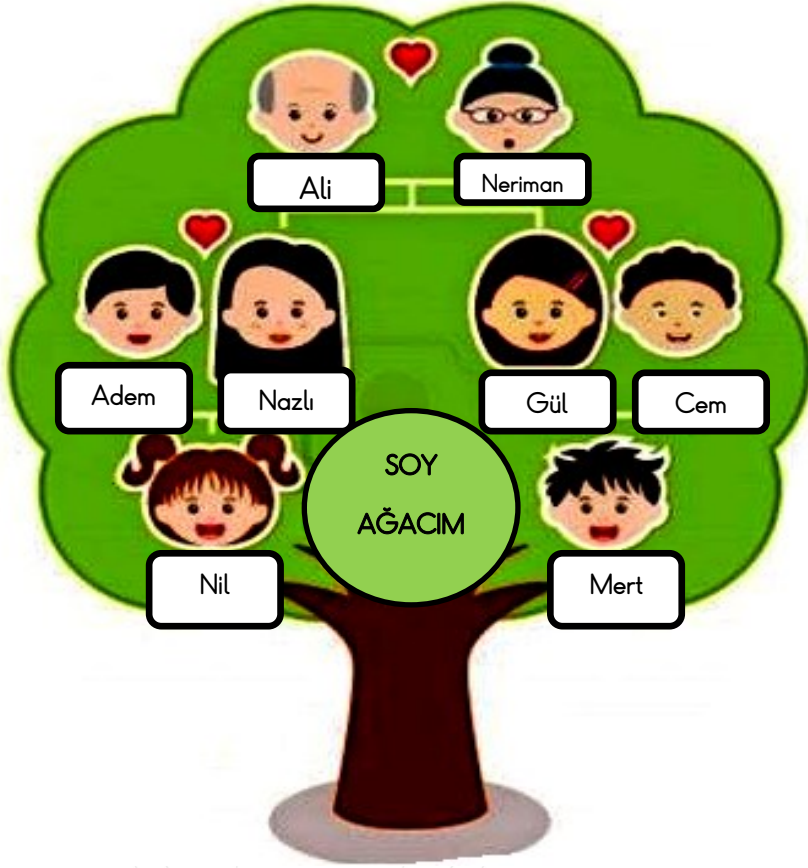
Aşağıda verilen çıkarma işlemlerini yapalım.

$\begin{array}{r} 43 \\ - 24 \\ \hline \end{array}$	$\begin{array}{r} 54 \\ - 32 \\ \hline \end{array}$	$\begin{array}{r} 65 \\ - 46 \\ \hline \end{array}$	$\begin{array}{r} 76 \\ - 48 \\ \hline \end{array}$	$\begin{array}{r} 85 \\ - 63 \\ \hline \end{array}$	$\begin{array}{r} 96 \\ - 77 \\ \hline \end{array}$	$\begin{array}{r} 33 \\ - 14 \\ \hline \end{array}$
$\begin{array}{r} 44 \\ - 27 \\ \hline \end{array}$	$\begin{array}{r} 55 \\ - 34 \\ \hline \end{array}$	$\begin{array}{r} 67 \\ - 38 \\ \hline \end{array}$	$\begin{array}{r} 70 \\ - 59 \\ \hline \end{array}$	$\begin{array}{r} 81 \\ - 52 \\ \hline \end{array}$	$\begin{array}{r} 92 \\ - 65 \\ \hline \end{array}$	$\begin{array}{r} 54 \\ - 31 \\ \hline \end{array}$
$\begin{array}{r} 65 \\ - 48 \\ \hline \end{array}$	$\begin{array}{r} 76 \\ - 44 \\ \hline \end{array}$	$\begin{array}{r} 87 \\ - 58 \\ \hline \end{array}$	$\begin{array}{r} 98 \\ - 67 \\ \hline \end{array}$	$\begin{array}{r} 64 \\ - 36 \\ \hline \end{array}$	$\begin{array}{r} 75 \\ - 38 \\ \hline \end{array}$	$\begin{array}{r} 86 \\ - 69 \\ \hline \end{array}$

Aşağıda verilen noktalı yerleri uygun ifadelerle dolduralım.

- | | |
|--|-------------------------|
| ⇒ Babamızın erkek kardeşi:..... | ⇒ Teyzemizin eşi :..... |
| ⇒ Annemizin erkek kardeşi:..... | ⇒ Halamızın eşi:..... |
| ⇒ Babamızın kız kardeşi:..... | ⇒ Dayımızın eşi:..... |
| ⇒ Dayı-Amca-Teyze-Hala çocukları:..... | ⇒ Amcamızın eşi:..... |
| ⇒ Annemizin kız kardeşi:..... | |

Noktalı yerleri soy ağacından yararlanarak dolduralım.



Adem, Mert'in.....

Gül, Nil'in.....

Nazlı ile Gül.....

Nazlı, Mert'in.....

Nil ile Mert.....

Ali, Mert'in.....

Neriman, Nil'in.....

Cem, Nil'in.....