



# 1. HAFTA DEĞERLENDİRME TESTİ




1.



Görsellerdeki sözcüklerin verilmeyen harfleriyle yazılabilecek sözcük aşağıdakilerden hangisidir?

- A) HALE B) HİLE  
C) HARE

2. Aşağıdakilerden hangisinin adı sesli harfle başlayıp sesli harfle biter?



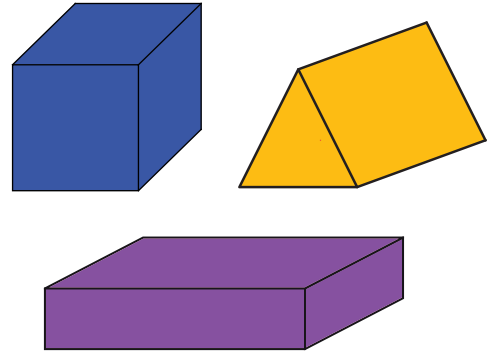
3.



Yukarıdaki görsellerden hangisinin adı ünlü harfle başlayıp ünsüz harfle bitmiştir?

- A) 1 B) 2 C) 3

4.






Bu geometrik cisimlerin ortak özelliği aşağıdakilerden hangisidir?

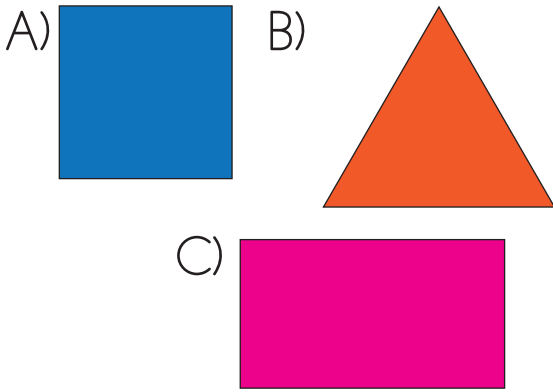
- A) Küp şekere benzemeleri  
B) Köşeli cisim olmaları  
C) Yuvarlak cisim olmaları




## 1. HAFTA DEĞERLENDİRME TESTİ

5.  4 tane kenarı vardır.  
 4 tane köşesi vardır.  
 Tüm kenarları eşit uzunlukta-  
dır.

Özellikleri verilen geometrik  
şekil aşağıdakilerden hangisidir?



6. Kovanın içindeki su sürahilere  
boşaltılıyor.



Sürahilerin hepsi dolduğunda  
kovanın içinde 2 sürahilik su  
kaldığına göre 3 kova kaç sü-  
rahi doldurur?

- A) 6      B) 12      C) 18

7. Aşağıdakilerden hangisi ar-  
kadaşlık ilişkilerimizi geliştiren  
olumlu duygulardan biridir?
- A) Bencillik  
B) Kıskançlık  
C) Sevgi

8.



Görseldeki sporcumuzun güç-  
lü olduğu alan aşağıdakilerden  
hangisidir?

- A) Basketbol  
B) Halter  
C) Güreş





## 2. HAFTA DEĞERLENDİRME TESTİ



1.

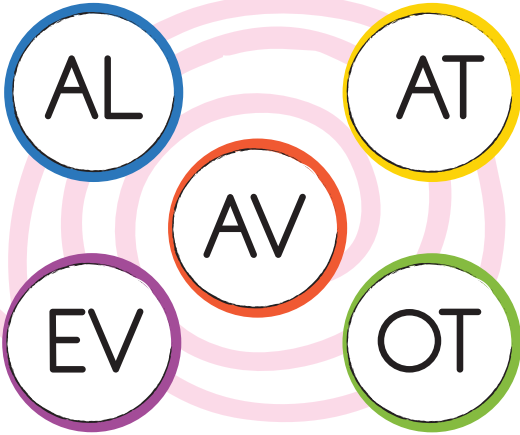
RESİM 1

GEMİ 2

Numaralanmış sözcüklerden 1. sözcüğün son hecesi ile 2. sözcüğün ilk hecesi birleştirildiğinde oluşacak yeni sözcük aşağıdakilerden hangisidir?

- A) SİMA      B) GERİ  
C) SİMGE

2.




Aşağıdakilerden hangisi verilen kelimelerin ortak özelliklerinden biri değildir?

- A) Hem hece hem sözcük olmaları  
B) Aynı sesli harfle başlamaları  
C) Bir sesli bir sessiz harften oluşan sözcük olmaları

3. Aşağıdakilerden hangisinin adında -ba hecesi bulunmaz?

A)



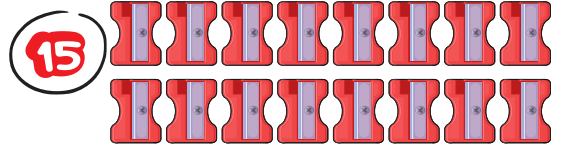
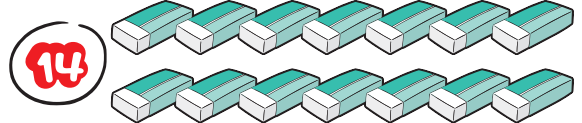
B)



C)



4.



Yukarıdaki nesnelere hangisinin sayısı hatalı verilmiştir?

- A) silgi      B) kalem  
C) kalemıraş



## 2. HAFTA DEĞERLENDİRME TESTİ

5. Kaan, Kurban Bayramı'nda apartmanındaki komşulardan 3 onluk, 8 birlik kadar şeker toplamıştır.

Ablası, Kaan'dan bir tane fazla şeker topladığına göre Kaan'ın ablası kaç şeker toplamıştır?

A)



B)



C)





6. Onlar basamağının basamak değeri 50 olan en büyük ve en küçük sayı hangi seçenekte verilmiştir?

A) 95 - 59


B) 59 - 50

C) 55 - 54

7.  Arkadaşım "Kalemimi alabilir miyim?" dedi.

 Gösterideki dansçıları tüm okul alkışladı.

 Ablam sürprizi görünce gülmüsedü.

 Öğretmenimiz dersi yüksek sesle anlatıyor.

Yukarıdaki cümlelerden hangileri sözsüz iletişime örnek olabilir?

A)  ve 

B)  ve 

C)  ve 

8. Aşağıdakilerden hangisi sınıfça ortak karar aldığımız durumlardan biridir?

A) Sınıfça pikniğe gideceğimiz yerin belirlenmesi.

B) Anneler gününde annemize alacağımız hediyein belirlenmesi.

C) Okuyacağımız yeni hikâyenin seçilmesi.





### 3. HAFTA DEĞERLENDİRME TESTİ



1. " Görme bozukluğu olan gözlerin daha iyi görmesine veya gözleri korumaya yarayan araç. "

Tanımı verilen nesne aşağıdakilerden hangisidir?

A)



B)



C)



3.

Ata, yaz tatilinde  
- - - - gitmiş.

Cümlede boş bırakılan yere aşağıdaki kelimelerden hangisi yazılamaz?

A) köye

B) denize

C) çiçeğe

2. Cümlelerden hangisi dört kelimeden oluşmuştur?

A) Abimin bisikleti kayboldu.

B) Annem dün akşam komşuya gitti.

C) Babam fırından ekmek aldı.

4.



Tarık, alışveriş sırasında baştan dördüncü, sondan altıncı sıradaysa sırada toplam kaç kişi vardır?

A) 9

B) 10

C) 11



### 3. HAFTA DEĞERLENDİRME TESTİ

5. 40 41 42 43 44 45 46 47 49 48 50

Sayı doğrusunda işaretlenen sayı ile ilgili bilgilerden hangisi hatalıdır?

- A) Sayının yakın olduğu onluk 50'dir.
- B) Sayı 4 onluk 6 birlikten oluşmaktadır.
- C) Sayı 40 ve 50'ye eşit mesafededir.

6.

32	35
36	39

40'a yuvarlanan sayıların olduğu kutuları boyadığımızda hangi görünüş ortaya çıkar?

- A)
- B)
- C)

7. Sağlıklı büyümek ve gelişmek için hangisini yapmamız doğru olmaz?

A)



B)



C)



8. Çevrimiçi ortamda ailesinin bilgisi olmadan kimlik numarasını söyleyen Ece, kişisel alan sınırlarından hangisini ihlal etmiştir?

- A) Duygusal Sınırlar
- B) Düşüncelerle İlgili Sınırlar
- C) Kişisel Bilgilerle İlgili Sınırlar



## 4. HAFTA DEĞERLENDİRME TESTİ



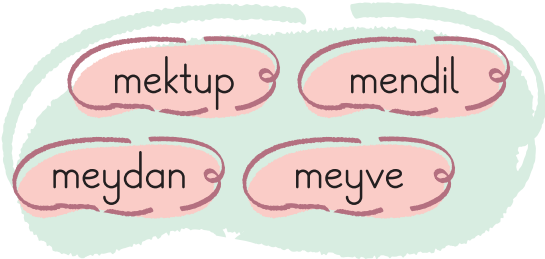
1.



Aşağıdakilerden hangisi verilen görsellerin çağrıştırdığı kelimelerden biri değildir?

- A) Alışveriş      B) Temizlik  
C) Spor

2.



Yukarıdaki sözcükleri sözlük sırasına göre sıralayan Büşra, en son sıraya koyduğu sözcük ile hangi cümleyi kurmuştur?

- A) Defne, oyalı mendil aldı.  
B) Tarık ile babası meyve al-  
dılar.  
C) Duru, teyzesine mektup  
yazdı.

3.



Görseldeki meyve adlarını al-  
fabetik olarak sıraladığımızda  
ilk sırada yer alan sözcüğün  
hece sayısı kadar sözcüğe sa-  
hip olan cümle aşağıdakilerden  
hangisidir?

- A) Yıkadık.  
B) Arabayı yıkadık.  
C) Arabayı babamla yıkadık.

4.



82'den geriye doğru beşer  
beşer sayan Umut'un yukarı-  
daki görselde A ve B yaprak-  
larına yazması gereken sayılar  
nelerdir?

	A	B
A)	6 onluk, 7 birlik	4 onluk, 7 birlik
B)	5 onluk, 4 birlik	4 onluk, 2 birlik
C)	7 birlik, 5 onluk	2 birlik, 5 onluk



## 4. HAFTA DEĞERLENDİRME TESTİ

5. Okudukları kitap sayılarını tahmin etme yarışması yapan Metehan, Doruk ve Yaman'ın tahminleri şu şekildedir:

**Metehan**: 2 düzine + 1 onluk

**Doruk**: 3 deste + 4 birlik

**Yaman**: 4 onluk + 3 birlik

Bu tahminlere göre hangi iki öğrencinin tahminleri aynıdır?

- A) Metehan – Yaman
- B) Doruk – Metehan
- C) Yaman – Doruk


6.

3 desteden geriye doğru  
ikişer azalan  
örüntü

Verilen örüntü kuralına göre aşağıdaki sayılardan hangisi söylenmez?

- A) 27
- B) 18
- C) 12

7. Aşağıdaki tabelalardan hangisi yaya giremez anlamındadır?



8. Acil durum yetkilisiyle konuşurken aşağıdakilerden hangisini yapmamalıyız?

- A) Sorulan sorulara uzun cevaplar veririz.
- B) Yaralıya ilk yardım uygulaması yapılmışsa bilgi veririz.
- C) Acil durumun tanımını yaparız.



KODU  
OKUT

## 5. HAFTA DEĞERLENDİRME TESTİ



1. Papatya ve gülleri çok severim.
2. Pazardan elma ve armut aldım.
3. Dün az, bugün çok eğlendik.

Yukarıdaki cümlelerin hangisinde zıt anlamlı sözcükler bir arada kullanılmıştır?

- A) 1      B) 2      C) 3

2.



Tablodaki sözcükler zıt anlamlılarıyla eşleştirildiğinde hangi sözcük dışarıda kalır?

- A) nazik      B) yaramaz  
C) tam

3.



Zıt anlamlı sözcükleri tahtaya yazan Poyraz Öğretmen, hangi sözcükte hata yapmıştır?

- A) Genç      B) Mağlup  
C) Tutsak

4.

+	17	54
21	A	
32		B

Verilen tabloda A ve B sayılarının onlar basamağının basamak değerleri aşağıdakilerden hangisidir?

	A	B
A)	30	80
B)	70	40
C)	70	60



## 5. HAFTA DEĞERLENDİRME TESTİ

5.



Defne 8 yaşındadır. Umut, Defne'den iki yaş büyüktür.

Yukarıdaki bilgilere göre iki arkadaşın üç yıl sonraki yaşları toplamı kaçtır?

- A) 18      B) 21      C) 24

6.



Fırıncı Mehmet, sabahları 24 ekmek, akşamları ise sabah sattığı ekmeklerden 3 düzine fazla ekmek sattığına göre bir günde kaç ekmek satmıştır?

- A) 27      B) 84      C) 60

7.

Kıskançlık	Bencillik
Saygı	Hoşgörü

Aile içinde olması gereken olumlu duygu ve davranışların olduğu kutuları boyadığımızda hangi görünüş ortaya çıkar?



8. Aşağıdakilerden hangisi toplumdaki nezaket kurallarından biri değildir?

- A) Çevremizdeki insanlara karşı duyarlı ve anlayışlı olmak.  
B) Gerektiğinde özür dilemek.  
C) Ağızımızda yiyecek varken konuşmamak.





## 6. HAFTA DEĞERLENDİRME TESTİ



1. Aşağıdaki cümlelerin hangisinde tırnak işareti kullanılmalıdır?

- A) Kütüphanedeki kitapların çoğu eskimişti.
- B) Annem Ödevlerini yaptın mı? diye seslendi.
- C) Sınıfımızda bayram coşkusu yaşanıyor.

2.

Yemekten önce ve sonra ellerimizi mutlaka  
-----.

Verilen söz grubunun kurallı ve anlamlı bir cümle olabilmesi için noktalı yere aşağıdakilerden hangisi gelmelidir?

- A) sabunla
- B) yıkamalıyız
- C) önce

3.



Yukarıdaki sözcüklerle kurallı ve anlamlı bir cümle oluşturduğunda baştan üçüncü sırada hangi sözcük yer alır?

- A) gittim
- B) geç
- C) okula

4.

Bir çıkarma işleminde; çıkan sayı, 18'den küçük en büyük sayıdır. Eksilen sayı, 28'den büyük en küçük sayıdır.

Terimleri verilen çıkarma işlemi aşağıdakilerden hangisidir?

A)

$$\begin{array}{r} 28 \\ -18 \\ \hline 10 \end{array}$$

B)

$$\begin{array}{r} 29 \\ -17 \\ \hline 12 \end{array}$$

C)

$$\begin{array}{r} 27 \\ -19 \\ \hline 08 \end{array}$$



## 6. HAFTA DEĞERLENDİRME TESTİ

5.

Ada ve annesi 80 lira ile alışverişe çıkmışlardır.



Alışverişte 43 lira annesi, 26 lira Ada harcadığına göre kaç liralari kalmıştır?

- A) 69 lira      B) 37 lira  
C) 11 lira

6.



En yakın onluğu 50 olan en büyük sayıdan, en yakın onluğu 20 olan en küçük sayıyı çıkaralım.

Yasemin Öğretmen'in sorduğu sorunun cevabı aşağıdakilerden hangisidir?

- A) 38      B) 30      C) 25

7.

Aşağıdakilerden hangisi ilkokul 2. sınıfa giden bir öğrencinin görevi ya da sorumluluğu ola-  
maz?

- A) Odasını ve eşyalarını toplamak.  
B) Evcil hayvanlarının yemeğini ve suyunu vermek.  
C) Arızalanan elektronik eşyaları tamir etmek.

8.

Aşağıdakilerden hangisi ülkemizde bulunan doğal güzelliklerden biridir?

A)



Peribacaları  
(Nevşehir)

B)



Nemrut  
Heykelleri  
(Adıyaman)

C)



Galata  
Kulesi  
(İstanbul)



## 7. HAFTA DEĞERLENDİRME TESTİ



1.



Göktürk,  
tatilini köyde  
geçirecekmış.

Yukarıdaki cümlede hangi  
"5N1K" sorusunun yanıtı  
yoktur?

- A) Nasıl?      B) Kim?  
C) Nerede?

2.

Nasıl?

Verilen cümlelerin hangisin-  
de yukarıdaki sorunun cevabı  
vardır?

- A) Erdem, kırtasiyeden kalem  
aldı.  
B) Mina, merdivenlerden ko-  
şarak indi.  
C) Sevgi ile beraber ders ça-  
lıştık.

3. Aşağıdaki cümlelerin hangisinde  
yaşanan olay nedeni ile birlikte  
verilmiştir?

- A) Bere takmadığı için kulakları  
üşümüş.  
B) Kar yağarken dışarıyı sey-  
rediyor.  
C) Kızakla kaymayı çok seviyo-  
rum.

4. Bir kasadaki 61 elmanın önce 18  
tanesi, sonra da 19 tanesi satıl-  
mıştır.

Kasada kaç elma kalmıştır?




- A) 43      B) 24  
C) 23




## 7. HAFTA DEĞERLENDİRME TESTİ

5. Bir spor salonunda 15 kişi voleybol oynamaktadır. Basketbol oynayanların sayısı ise voleybol oynayanlardan 7 kişi eksiktir.

Buna göre voleybol ve basketbol oynayanların toplamı kaçtır?



6.



Yukarıda görselleri ve fiyatları verilen ürünleri alan Hayal, mağazaya tahminî kaç lira öder?

A) 70      B) 80      C) 90

7. Ela'nın yaşadığı yerde çöp kutuları dolu, sokaklar ise kirlidir.

Buna göre Ela, bu sorununun çözülmesi için hangi yönetim birimini aramalıdır?

A) Kaymakamlık

B) Valilik

C) Belediye başkanlığı

8. Mustafa Kemal Atatürk, öğrenim hayatına hangi okulda başlamıştır?

A) Selanik Askerî Rüştiyesi

B) Mahalle Mektebi

C) Şemsi Efendi İlkokulu



## 8. HAFTA DEĞERLENDİRME TESTİ



1.

Atamızın mezarı  
ankara'da, anıtkabir'dedir.

Yukarıdaki cümle yazılırken  
aşağıda verilen hatalardan  
hangisi yapılmıştır?

- A) Cümleye başlarken küçük  
harf kullanılmıştır.  
B) Özel isimlere getirilen ekler  
kesme işaretiyle ayrılma-  
mıştır.  
C) Özel isimlerin ilk harfi küçük  
yazılmıştır.

2.

30( )08( )2025 tarihinde  
geldik.

Eyvah ( ) yine düştü ( )

Nereye gidiyorsun ( )

Yukarıdaki cümlelerde boş bı-  
rakılan noktalama işaretlerinin  
yerine sırasıyla hangileri gel-  
melidir?

- A) (,) – (,) – (!) – (.) – (?)  
B) (.) – (.) – (,) – (!) – (?)  
C) (.) – (.) – (!) – (.) – (?)

3.

- ❁ Oyuncaklarını toplarmısın?  
❁ Bahçedeki çiçekleri gördün  
mü?  
❁ Giderken beni de götürür-  
müsünüz?


Hangi cümlede soru ekinin ya-  
zımıyla ilgili bir hata yoktur?

- A) ❁ B) ❁ C) ❁

4.

$$28 + \triangle = 63$$

$$\triangle + \bigcirc = 81$$

Yukarıdaki toplama işlemlerine  
göre “” sembolünün yeri-  
ne hangi sayı gelmelidir?

- A) 35 B) 46 C) 51



## 8. HAFTA DEĞERLENDİRME TESTİ

5.  $39 + 24 + \text{😊}$

$91$

Yukarıdaki toplama işleminin doğru olabilmesi için "😊" yerine hangi sayı gelmelidir?

- A) 28      B) 63      C) 71

6. **Edi:**  $8 \times 1 =$       **Büdü:**  $8 \times 0 =$

Edi ile Büdü'nün yaptığı işlemlerin sonuçları toplanıyor.

Çıkan sonuç en büyük rakam ile çarpılırsa hangi sayıya ulaşılır?

- A) 8      B) 0      C) 72

7. Aşağıda milli bayramlarımız ve bu bayramların ilan edilmesine neden olan olaylar eşleştirilmiştir.

Hangi eşleşme hatalıdır?

- A) 23 Nisan Ulusal Egemenlik ve Çocuk Bayramı - TBMM'nin açılması  
B) 30 Ağustos Zafer Bayramı - Atatürk'ün Samsun'a çıkması  
C) 29 Ekim Cumhuriyet Bayramı - Cumhuriyetin ilan edilmesi

8. ◆ Evlerde temizlik yapılır.  
◆ Misafirler için baklava ve sarmalar yapılır.  
◆ Akrabalık ve komşuluk ilişkileri güçlenir.

Bilgileri verilen bayram aşağıdakilerden hangisi olabilir?


- A) Cumhuriyet Bayramı  
B) Zafer Bayramı  
C) Kurban Bayramı



## 9. HAFTA DEĞERLENDİRME TESTİ



1.



Yandaki noktalama işaretinin görevi aşağıdakilerin hangisinde yanlış verilmiştir?

- A) Sözcükleri hecelerken her hecenin arasına konulur.
- B) Satır sonuna sığmayan sözcükleri yazarken satır sonuna konur.
- C) Tarihleri yazarken rakamların arasına konur.

2.

İzmir'li

Karabaş'a

TBMM'de

Eda'lar

Semih'in

Van'da

Yukarıdaki kesme işaretlerinden kaç tanesi yanlış kullanılmıştır?

- A) 2
- B) 3
- C) 4

3.

Toplantı saat  
11 ( ) 30'da  
2 ( ) katta mı  
olacak ( )



Yukarıdaki yay ayraç içlerine sırasıyla hangi noktalama işaretleri getirilmelidir?

- A) ( : ) – ( . ) – ( ? )
- B) ( . ) – ( , ) – ( ? )
- C) ( . ) – ( . ) – ( ? )

4.

8 x 5



40

6 x 4



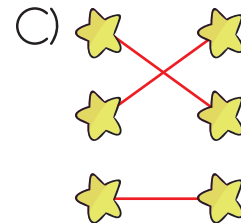
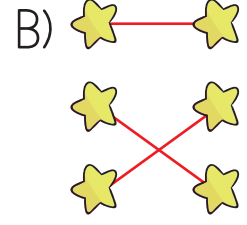
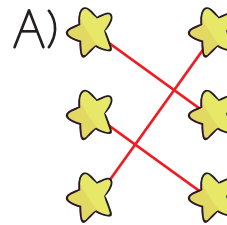
27

9 x 3



24

Yukarıda verilen çarpma işlemleri sonuçları ile eşleştirildiğinde görünüm nasıl olur?





## 9. HAFTA DEĞERLENDİRME TESTİ

5. Sınıfımızda yapılacak proje yarışması için dörder kişilik gruplar oluşturulacaktır.

8 tane dörder kişilik grup oluşturulduktan sonra 3 öğrenci açıkta kaldığına göre sınıf mevcudumuz kaçtır?

- A) 32      B) 34      C) 35

6.

$$20 - 4 = 16$$

$$16 - 4 = 12$$

$$12 - 4 = 8$$

$$8 - 4 = 4$$

$$4 - 4 = 0$$

Yukarıdaki tekrarlı çıkarma işlemi aşağıdaki bölme işlemlerinden hangisini ifade eder?

- A)  $20 \div 4 = 5$   
B)  $20 \div 5 = 4$   
C)  $15 \div 3 = 5$

7.

Bu mevsimde havalar ısınmaya başlar. Yağmur ve dolu şeklinde yağışlar görülebilir. Mart, nisan ve mayıs bu mevsimin aylarıdır.

Yukarıda özellikleri verilen mevsim aşağıdakilerden hangisidir?

- A) İlkbahar      B) Sonbahar  
C) Kış

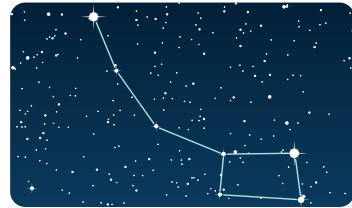
8. Doğada yön bulma yöntemlerinden hangisi farklı bir yönü gösterir?

A)



Karınca yuvalarının ağız

B)



Kutup yıldızı

C)



Ağaçların yosunlu tarafı



## 10. HAFTA DEĞERLENDİRME TESTİ



1.

- 1 Okumaya başlamadan önce ödevimi bitirdim.
- 2 Kitabımı merakla okudum.
- 3 Öğretmenim çok merak ettiğim hikâye kitabını sonunda verdi.

Yukarıdaki cümleler olayların oluş sırasına göre sıralandığında sıralama nasıl olur?

- A) 2 - 3 - 1    B) 3 - 1 - 2  
C) 3 - 2 - 1

2.

- a. Ulusal Egemenlik ve Çocuk Bayramı
- b. Cumhuriyet Bayramı
- c. Atatürk'ü Anma Gençlik ve Spor Bayramı

Eylül ayında okula başlayan Doruk, okulda sırasıyla hangi millî bayramları kutlar?

- A) b - a - c    B) a - b - c  
C) c - a - b

3.

Ali, sabah uyandığında en sevdiği oyuncak ayısını yatağında bulamadı. Çok üzüldü ve her yere baktı. Sonunda ayısının koltuğun arkasına düştüğünü gördü. Ayısını bulduğu için çok mutlu oldu ve ona sıkıca sarıldı.

Yukarıdaki metnin türü aşağıdakilerden hangisidir?

- A) Bilgilendirici metin  
B) Öyküleyici metin  
C) Anlatıcı metin

4.

$$16 \div 4$$

$$18 \div 3$$

$$20 \div 5$$

Hangi işlemin sonucu diğerlerinden farklıdır?


- A)     B)   
C)



## 10. HAFTA DEĞERLENDİRME TESTİ

5.  $63 - 19$   $16 +$  




Yukarıdaki terazi dengede durduğuna göre "" yerine hangi sayı gelmelidir?

- A) 28      B) 34      C) 46

6.  8 tane çeyrek, 2 bütüne eşittir.

 3 bütün, 6 yarıma eşittir.

 3 yarım, 12 çeyreğe eşittir.

Yukarıdaki ifadelerden hangisi yanlıştır?

- A)       B)       C) 

7.

Afet durumunda bulunduğumuz yerde devrilme, kırılma, düşme sonucu yaralanmaya sebep olacak eşyaları belirleriz.

Açıklaması verilen afet öncesi hazırlık aşağıdakilerden hangisidir?

- A) Çök – kapan – tutun  
B) Afet acil durum planı  
C) Tehlike avı

8.  İlk yardım çantası

 Düdük

 El feneri

 Ekmek

Yukarıdakilerden hangileri afet acil durum çantasında bulunur?

- A)  ve       B)  ve   
C) ,  ve 





## 11. HAFTA DEĞERLENDİRME TESTİ



1. Hangi kelimenin kısaltması yanlış yazılmıştır?

- A) Türk Dil Kurumu → TDK
- B) Türkiye Radyo Televizyon Kurumu → TRTK
- C) Devlet Su İşleri → DSİ

2. Aşağıdakilerden hangisi iyi bir dinleyicinin davranışı olamaz?

- A) Dinleme sırasında başka şeylerle uğraşmak.
- B) Dinleme sırasında notlar almak.
- C) Konuşmacıyla göz teması kurmak.

3.



Aşağıdakilerden hangisi verilen sembol ve levhalardan birinin anlamı değildir?

- A) Cümleye ünlem koy
- B) Okul geçidi
- C) Genel izleyici

4.



Hira'nın parasının görseli yukarıda verilmiştir.

Hira, marketten tanesi 6 lira olan gofretten iki tane, tanesi 9 lira olan şekerlemeden üç tane aldığına göre kaç lirası kalmıştır?

- A)
- B)
- C)



## 11. HAFTA DEĞERLENDİRME TESTİ

5. Saatlerden hangisinin dijital saat olarak yazılışı hatalıdır?

A)



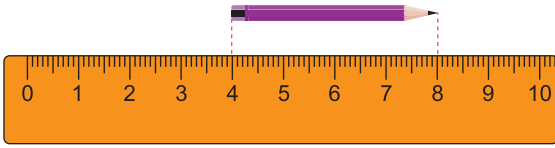
B)



C)



6.



Yukarıdaki görselde kalemin boyu ölçülmüştür.

Buna göre aynı uzunluktaki kalemde altı tanesini hiç boşluk kalmayacak şekilde uç uca eklersek kaç santimetrelük bir uzunluk elde ederiz?

A) 12

B) 48

C) 24

7. Kaynakları özenli kullanan bir kişi aşağıdakilerden hangisini yapmaz?

A) Buzdolabının kapağını uzun süre açık bırakır.

B) Dişlerini fırçalarken ihtiyacı kadar su kullanır.

C) Kalem, defter, kıyafet gibi eşyalarını temiz ve özenli kullanır.

8.

Türkiye'nin ilk yerli uçağı  
..... tarafından yapılmıştır. İlk uçuşunu ise  
İzmir'de gerçekleştirmiştir.

Boş bırakılan yere yazılması gereken bilim insanı aşağıdakilerden hangisidir?

A) Alper Gezeravcı

B) Vecihi Hürkuş

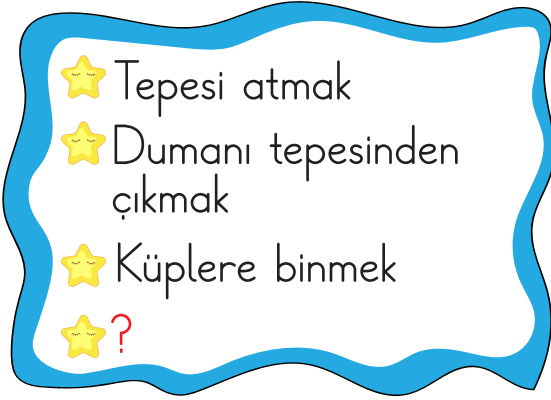
C) Aziz Sançar



## 12. HAFTA DEĞERLENDİRME TESTİ



1.



Yukarıdaki tabloda “öfkelenmek” anlamına gelen deyimler verildiğine göre “?” yerine hangi deyim gelmelidir?

- A) Burnundan solumak
- B) Etekleri zil çalmak
- C) El üstünde tutmak

**Tablo:** En Çok Sevilen Evcil Hayvanlar

Hayvan Adı	Kişi Sayısı
Balık	
Kedi	
Köpek	
Papağan	
Tavşan	
Muhabbet kuşu	

Yukarıdaki tabloda bir okulda 2. sınıf öğrencilerinin en çok sevdiği evcil hayvanlar gösterilmiştir.

2 ve 3. soruları tabloya göre cevaplayalım.

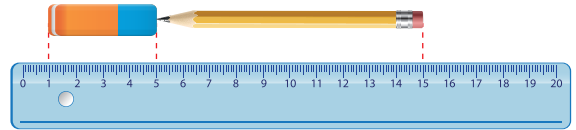
2. Tabloya göre en çok sevilen hayvan hangisidir?

- A) Balık
- B) Kedi
- C) Muhabbet kuşu

3. Tabloya göre bu okulda kaç tane 2. sınıf öğrencisi vardır?

- A) 61
- B) 58
- C) 55

4.



Görsele göre kalem silgiden kaç santimetre uzundur?

- A) 5
- B) 6
- C) 7



