

Deneme Sınavı


2. Deneme

Türkçe
Matematik
Hayat Bilgisi

yeni nesil sorularla



Bu deneme sınavında Türkçe 10, matematik 10 ve hayat bilgisi 10 olmak üzere toplam 30 soru vardır.



TÜRKÇE TESTİ SORULARI

KADIR İLE KEMAL

Kadir ile Kemal, ikiz kardeşlerdir. Kadir basketbol oynamayı çok sever. Kemal' in sesi çok güzeldir ve müzik derslerine çok ilgilidir. Yaz tatilinde kursa gideceklerdir. Ama Kadir basketbol kursuna , Kemal ise müzik kursuna gitmek istediği için bir anlaşmazlık yaşamaktadırlar. Ailesi bu soruna bir çözüm bulmak için düşünmüşler ve bir karara varmışlardır: Annesi Kadir' i , babası ise Kemal' i kursa götürecektir. Kemal ve Kadir bu duruma çok sevinmişlerdir.

1) Yukarıdaki metne göre aşağıdakilerden hangisi söylenebilir ?

- A) Kemal, Kadir'den daha yeteneklidir.
- B) Kadir, müzik dersine ilgi duymaktadır.
- C) İki kardeş farklı şeylerden hoşlanmaktadır.

2) Yukarıdaki metinden çıkarılabilecek sonuç hangisidir ?

- A) Herkesin ilgi ve yetenekleri farklı olabilir.
- B) Hangi kursa gitmek istediğimize ailemizin karar vermesi gerekir.
- C) Kardeşlerin aynı şeylere ilgi duymaları gerekir.

3) Aşağıdaki kelime çiftlerinden hangisi anlam ilişkisi yönünden diğer seçeneklerden farklıdır ?

- A) gökyüzü – sema
- B) kısa – uzun
- C) unutmak - hatırlamak

4) Aşağıdaki kelimelerden hangisinin eş anlamlısı yoktur ?

- A) okul
- B) kırmızı
- C) güzel

Okul bahçesinde sınıfça toplandık ()
Semra () nın okula gelmediğini fark ettim()
Acaba hasta mı olmuştu ()

5) Yukarıdaki metinde boş bırakılan yerlere sırasıyla hangi noktalama işaretleri gelmelidir ?

- A) (.) (') (.) (.)
- B) (.) (') (.) (?)
- C) (,) (') (.) (?)

TÜRKÇE TESTİ SORULARI

Her akşam uyumadan önce kitap okurum.

6) Yukarıda verilen cümleye göre aşağıdakilerden hangisi yanlıştır ?

- A) Hece sayısı 14' tür.
- B) Kelime sayısı 6' dır.
- C) Özel isim olan kelime vardır.

7) Aşağıda verilen kelimelerden hangisinin ilk hecesi "bal" değildir ?

- A) balon
- B) balkon
- C) balkabağı

8) "Musluğu kapatmayı unuttuğum evi su basmış." cümlesinde boş bırakılan yere hangi kelime yazılmalıdır ?

- A) çünkü
- B) ve
- C) için

kulübede

bu

aile

küçük

bir

varmış

yaşayan

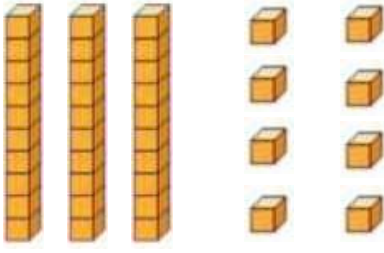
9) Yukarıda verilen kelimelerden anlamlı ve kurallı cümle yazarsak doğru seçenek aşağıdakilerden hangisi olur ?

- A) Bu küçük kulübede varmış yaşayan bir aile.
- B) Bu küçük kulübede yaşayan bir aile varmış.
- C) Bir aile varmış bu küçük kulübede yaşayan.

10) Anlamını bilmediğimiz kelimeleri aşağıdakilerden hangisinden bakarak öğreniriz ?

- A) Türkçe İmla Kılavuzu
- B) Türkçe Sözlük
- C) Deyimler Sözlüğü

MATEMATİK TESTİ SORULARI



1) Yukarıda modellenen sayının 2 düzine fazlası kaçtır ?

- A) 50
- B) 58
- C) 62

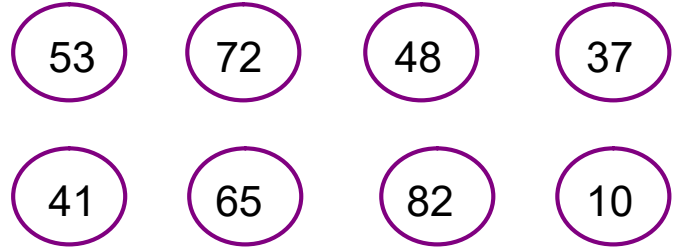
2) Rakamları farklı, iki basamaklı en büyük sayının 19 eksiği kaçtır ?

- A) 79
- B) 80
- C) 83

25	45	83
- 18	- 36	- 27
-----	-----	-----
07	11	56
①	②	③

3) Yukarıdaki çıkarma işlemlerinden kaç numaralı işlemin sonucu hatalıdır ?

- A) 1
- B) 2
- C) 3



4) Yukarıdaki sayılardan kaç tanesi 46' dan büyüktür ?

- A) 3
- B) 4
- C) 5

seksen beş

5) Yukarıdaki okunuşu verilen sayı için aşağıdaki ifadelerden hangisi yanlıştır ?

- A) Önceki onluğu 80, sonraki onluğu 90' dir.
- B) En yakın onluğu 90' dir.
- C) En yakın onluğu 80' dir.

6) 3 deste kalemin, 1 düzine eksiği kaç eder ?

- A) 42
- B) 18
- C) 22

MATEMATİK TESTİ SORULARI

7) Bir çiftlikte 24 koyun, koyunların 17 fazlası kadar da inek vardır. Bu çiftlikte toplam kaç hayvan vardır ?

- A) 65
- B) 41
- C) 38

75

83

68

8) Yukarıda verilen sayılar için aşağıdakilerden hangisi söylenemez ?

- A) En küçük sayı 68' dir.
- B) 75 sayısı 83 sayısından küçüktür.
- C) Sayılar büyükten küçüğe doğru sıralanırsa 2. sıradaki sayı 68 olur.

9) 13'ten başlayarak ileriye doğru üçer ritmik sayma yaptığımızda 6.saymada hangi sayıyı söyleriz ?




- A) 28
- B) 25
- C) 22

 44  40

 75  70

 28  30

10) Yukarıda verilen sayılar en yakın onluklarına yuvarlanmıştır. Hangi sembolle gösterilen sayıda yanlışlık yapılmıştır ?

- A) 
- B) 
- C) 

HAYAT BİLGİSİ TESTİ SORULARI

1) Grup çalışmaları ile ilgili verilen bilgilerden hangisi yanlıştır ?

- A) İhtiyacı olan arkadaşlarımıza yardım etmeliyiz.
- B) İşbirliği içinde çalışmalıyız.
- C) Bir sorun olduğunda haklı olanı değil, yakın arkadaşımızı tutmalıyız.

2) Sınıf kuralları nasıl belirlenmelidir ?

- A) Sınıftaki tüm öğrenciler ve öğretmen birlikte belirlenmelidir.
- B) Öğretmen belirlemelidir.
- C) Okul idaresi belirlemelidir.

3) Aşağıdakilerden hangisi grup çalışmalarında bulunması gereken özelliklerden değildir ?

- A) Yanlı davranış
- B) Sorumluluk bilinci
- C) Dürüstlük

4) Aşağıdakilerden hangisi dinleme kurallarına uygun bir davranış değildir ?

- A) Konuşmak istediğimde söz hakkı alırım.
- B) Konuşurken ya da dinlerken karşımdaki kişiyle göz teması kurmam.
- C) Birisini dinlerken başka şeylerle ilgilenmem.

■ Oyun sonrasında kazanan kişiyi tebrik ederim

▲ Oyun sonrasında kaba, kırıcı söz söylemem.

★ Oyunu daima kazanmak için oynarım.

5) Yukarıda sembollerle ifade edilen cümlelerden hangisi yanlıştır ?

A) ■

B) ▲

C) ★

HAYAT BİLGİSİ TESTİ SORULARI

MARKET

OKUL

DERYA' NIN
EVİ

GÜL SOKAK

KIRTASIYE

6) Yukarıdaki bilgilere göre hangisi yanlıştır ?

- A) Derya' nın evi okulun solundadır
B) Okul Gül Sokak'tadır.
C) Okulun karşısında kırtasiye vardır.

- Sınıf başkanını öğretmen seçer.
 Milli bayramlarda okulu öğretmen süsler.
 Sınıfça yapılacak etkinliklerde birlikte karar verilmelidir.

7) Yukarıdaki ifadelere doğru olanlara "D", yanlış olanlara "Y" yazarsak doğru sıralama nasıl olur ?

- A)

D
Y
Y

 B)

Y
Y
D

 C)

Y
D
D

8) "Berkay' ın pazartesi günü Türkçe, Matematik ve Görsel Sanatlar dersleri vardır."

Buna göre Berkay' ın pazartesi günü hangi araç gereci çantasına koyması beklenmez ?

- A) Türkçe sözlük
B) Boya Kalemleri
C) Spor ayakkabısı

9) "Sibel güzel resim yapar, Ayça ise flüt çalmayı sever."

Buna göre aşağıdakilerden hangisi doğrudur ?

- A) Ayça daha yeteneklidir.
B) İkisinin ilgi alanları farklıdır.
C) İkisinin fiziksel özellikleri farklıdır.

10) Aşağıdakilerden hangisi fiziksel özelliklerimizden değildir ?

- A) Saç rengimiz
B) Boyumuz
C) Ders başarıımız

2.SINIF
DENEME SINAVI – 2
CEVAP ANAHTARI

TÜRKÇE

1)	C
2)	A
3)	A
4)	C
5)	B
6)	C
7)	A
8)	C
9)	B
10)	B

MATEMATİK

1)	C
2)	A
3)	B
4)	C
5)	C
6)	B
7)	A
8)	C
9)	A
10)	B

HAYAT BİLGİSİ

1)	C
2)	A
3)	A
4)	B
5)	C
6)	A
7)	B
8)	C
9)	B
10)	C