

Deneme Sınavı

1. Deneme


Türkçe
Matematik
Hayat Bilgisi

yeni nesil sorularla



2
SINIF

Bu deneme sınavında Türkçe 10, matematik 10 ve hayat bilgisi 10 olmak üzere toplam 30 soru vardır.



TÜRKÇE TESTİ SORULARI

ECE DESTEYİ ÖĞRENIYOR

Ece, okuldan gelmişti. Çantasını bırakırken masanın üzerinde bir hediye kutusu gördü. Doğum gününe daha iki gün vardı. Ece hediye için olduğunu anlayıp hemen kutuyu açtı. Annesi o anda yanına geldi. Ece kutunun içerisinde iki ayrı kurdele ile sarılmış rengarenk kalemler gördü. Buna çok şaşırmişti. Neden kurdele ile bağlanmıştı ki acaba? Ece annesine :

- Hediyen için çok teşekkür ederim anneciğim. Kurdeleleri çözüp kaç tane kalemim olduğunu saymak istiyorum , dedi.

Annesi:

- Hayır yavrum, doğum gününe iki gün kaldı. Biraz beklemelisin. Ama madem sayısını çok merak ettin sana söyleyeyim. Sana iki deste kalem aldım, dedi.

Ece şaşkınlıkla baktı. Çünkü destenin ne demek olduğunu bilmiyordu. Çok merak ediyordu. Ertesi gün okulda öğretmeni, matematik dersinde deste ve düzine konusunu anlatacağını söyleyip, panoya deste on, düzine on iki yazılı olan bir kağıt astı. Ece panoya dikkatle baktı ve bir anda sevinçle bağırdı:

Yaşasın! Sonunda buldum. Benim yirmi tane kalemim var. Hemen anneme bunu söylemeliyim, dedi.

Öğretmeni Ece'nin neden bu kadar sevindiğini anlayamamıştı ama bu sevimli hareket karşısında Ece'ye gülümseyerek baktı.

Banu Öğretmen

1) Ece hediye kutusunu açınca neden şaşırıldı ?

- A) Annesi hediye aldığı için şaşırıldı.
- B) Kurdele ile sarılı, iki ayrı paketlenmiş kalemler olduğu için şaşırıldı.
- C) Annesini evde göremediği için şaşırıldı.

2) Ece kaç tane kalemi olduğunu neden bilemedi ?

- A) Sayı saymayı bilmediği için
- B) Kurdeleyi açmayı beceremediği için
- C) Destenin ne demek olduğunu bilemediği için

3) Bu metnin konusu hangisi olamaz ?

- A) Ece'nin doğum günü hediyesi
- B) Ece'nin desteyi öğrenmesi
- C) Ece'nin arkadaş sevgisi



4) Aşağıdaki cümlelerin hangisinde yazım ve noktalama yanlışlığı yapılmıştır ?

- A) Yaşasın! Ben de geziye gidiyorum.
B) 10 kısımda Anıtkabire gideceğiz.
C) Bütün gece Mert de ders çalışmış.

5) " Dedem gece gündüz çalışmış " Cümlesinde altı çizili kelimeler arasındaki anlam ilişkisi hangi cümlede yoktur ?

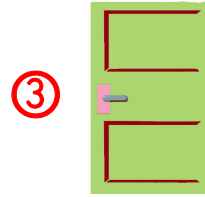
- A) Annem boş bardakları masadan alıp, dolu bardakları getirdi.
B) Öğretmenim verdiğim cevabın doğru yanıt olmadığını söyledi.
C) Dayım ileri geri manevra yaparak arabayı otoparktan çıkardı.

6)

gece	ile	ev	kadar	fakat	kalabalık	için	uysal
------	-----	----	-------	-------	-----------	------	-------

Yukarıdaki kelimelerden kaç tanesinin kendi başına anlamı yoktur ?

- A) 4 B) 5 C) 6



7) Yukarıdaki görselleri verilen kelimelerin alfabetik sıraya doğru sıralanışı hangisidir ?

- A) 2 – 3 – 1 B) 3 – 1 – 2 C) 2 – 1 – 3

8) Satır sonuna sığmayan kelimelerin ayrılışında hangisinde yanlışlık yapılmıştır ?

- A) gecele-
yin B) yara-
sanın C) kateg-
ori

9) " ihtiyar - yaşlı " kelimeleri ile ilgili verilen bilgilerden hangisi yanlıştır ?

- A) Zıt anlamlı kelimelerdir.
B) Eş anlamlı kelimelerdir.
C) Yazılışları farklı, anlamları aynı kelimelerdir.

10) 10 Eylül () de Bursa () Balıkesir ve Mersin ()den akrabalarımız geleceklermiş()

Yukarıdaki cümlede boş bırakılan yerlere sırasıyla hangi noktalama işaretleri gelmelidir ?

- A) (,) (,) (') (?) B) (') (,) (') (.) C) (') (,) (,) (.)

MATEMATİK TESTİ SORULARI

- 1) Rakamları farklı iki basamaklı en büyük sayı ile iki basamaklı en küçük sayının farkı kaçtır ?
- A) 87 B) 99 C) 88
- 2) Kırtasiyeden 1 düzine kalem aldım. Annem de bana 1 deste kalem almış. Toplam kaç kalemim oldu ?
- A) 10 B) 12 C) 22
- 3) " 25 - 13 - 42 - 28 " sayılarının küçükten büyüğe doğru sıralanışı hangisidir ?
- A) 13 - 28 - 25 - 42
B) 13 - 25 - 28 - 42
C) 42 - 28 - 25 - 13
- 4) Aşağıdaki karşılaştırmalardan hangisi yanlıştır ?
- A) 43 küçüktür 47' den
B) 63 büyüktür 54' ten
C) 51 büyüktür 53'ten

12 - 15 - 18 - 21

- 5) Yukarıdaki örüntünün kuralı nedir ?
- A) Sayılar üçer artarak devam ediyor.
B) Sayılar üçer azalarak devam ediyor.
C) Sayılar dörder artarak devam ediyor.

Yetmiş altı

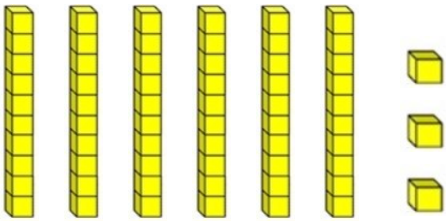
- 6) Yukarıdaki okunuşu verilen sayıdan bir önce ve bir sonra gelen sayılar hangileridir ?
- A) 76 - 78
B) 75 - 77
C) 77 - 79

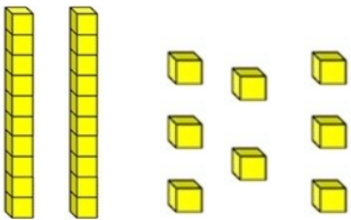
- 7) Onlar basamağının basamak değeri 60 olan iki basamaklı en büyük sayının, 1 deste fazlası kaçtır ?
 A) 69 B) 96 C) 79
- 8) 16' dan başlayarak (16 dahil) ileriye doğru ikişer ritmik sayma yaptığımızda 6. sırada hangi sayıyı söyleriz ?
 A) 28 B) 26 C) 30

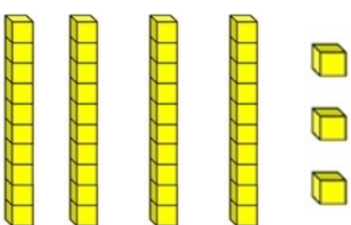
0 , 3 , 6

- 9) Yukarıdaki rakamları birer kez kullanarak yazabileceğimiz iki basamaklı en küçük sayının 2 düzine fazlası kaç eder ?
 A) 54 B) 48 C) 42

- 10) Onluk ve birliklere ayırmada hangisinde yanlışlık yapılmıştır ?

A)  → $63 = 3 \text{ birlik } 6 \text{ onluk}$

B)  → $28 = 2 \text{ onluk } 8 \text{ birlik}$

C)  → $43 = 3 \text{ onluk } 4 \text{ birlik}$

HAYAT BİLGİSİ TESTİ SORULARI

PAZARTESİ	SALI	ÇARŞAMBA	PERSEMBE	CUMA
Hayat Bilgisi	Hayat Bilgisi	İngilizce	Hayat Bilgisi	Hayat Bilgisi
Türkçe	Türkçe	İngilizce	Türkçe	Türkçe
Türkçe	Türkçe	Türkçe	Türkçe	Türkçe
Matematik	Matematik	Matematik	Matematik	Matematik
Serbest Etkinlikler	Görsel Sanatlar	Türkçe	Müzik	Serbest Etkinlikler
Beden Eği. ve Oyun	Beden Eği. ve Oyun	Beden Eği. ve Oyun	Beden Eği. ve Oyun	Beden Eği. ve Oyun


Tablo : Atakan'ın Haftalık Ders Programı

1) Salı günü Atakan'ın ders programına göre hangi araç ve gereci çantasına koyması beklenmez ?

A)



B)



C)



2) Atakan çarşamba günü hangi araç gereci çantasına koymalıdır ?

A) Resim defteri

B) cetvel takımı

C) flüt

3) Aşağıdaki verilen bilgilerden hangisi yanlıştır ?

A) Ders programına göre ders araç ve gereçlerimizi yanımıza almamız gerekir.

B) Çantamızı ders programına göre akşamdan hazırlamamız gerekir.

C) En sevdiğimiz derslerin araç ve gereçlerini çantamıza koymamız yeterlidir.

4) Hangisi fiziksel özelliklerimizden değildir ?

A) Saç rengimiz

B) Boyumuz




C) Çalabildiğimiz müzik aletleri

5) Hangisi okul kurallarımızdan değildir ?

A) Hızlı davranmak için merdivenlerde koşmamız gerekir.

B) Koridorda ıslak zeminde dikkatli yürümeliyiz.

C) Kantinde sıramızı beklemeliyiz.

-  Çöpleri yere atmamalıyız.
-  Söz hakkı alarak konuşmalıyız.
-  Yemekhaneyi temiz tutmalıyız.

6) Yukarıda verilenlerden hangisi sınıf kurallarımızdan değildir ?

- A)  B)  C) 

7) Aşağıdakilerden hangisi ders araç ve gereçleri özensiz kullanım sonuçlarında birisi olamaz ?

- A) Yeni bilgiler öğrenmemiz zorlaşır.
B) Okul başarımız artar.
C) Derse katılmakta zorluk yaşarız.

Kişilerin fiziksel özelliklerinin , ilgi ve yeteneklerinin farklı olmasına farklılık denir.

8) Yukarıdaki cümlede boş bırakılan yere hangisi gelmelidir ?

- A) sınıfsal B) toplumsal C) bireysel



9) Sınıf kurallarının belirlenmesi ile ilgili verilenlerden hangisi doğrudur ?

- A) Sınıf kurallarını öğretmen ve öğrenci birlikte belirler.
B) Sınıf kurallarını seçilen bir grup öğrenci belirler.
C) Sınıf kurallarını öğretmen ve müdür belirler.




- Farklılıklarımızın doğal olduğunu kabul etmeliyiz.
- Sadece aynı şeylerden hoşlandığımız kişilerle arkadaşlık kurmalıyız.
- Herkesin ilgi ve yetenekleri farklı olabilir.
- Arkadaşlarımızı fiziksel özelliklerine göre seçmeliyiz.

10) Yukarıdaki kutulardan doğru olan ifadeler  yazdığımız zaman doğru işaretleme sırasıyla hangisi olur ?



- A)


<input type="checkbox"/>

<input type="checkbox"/>

 B)



<input type="checkbox"/>


 C)

<input type="checkbox"/>

<input type="checkbox"/>


2.SINIF
DENEME SINAVI – 1
CEVAP ANAHTARI

TÜRKÇE

1)	B
2)	C
3)	C
4)	B
5)	B
6)	A
7)	C
8)	C
9)	A
10)	B

MATEMATİK

1)	C
2)	C
3)	B
4)	C
5)	A
6)	B
7)	C
8)	B
9)	A
10)	C

HAYAT BİLGİSİ

1)	C
2)	B
3)	C
4)	C
5)	A
6)	C
7)	B
8)	C
9)	A
10)	A