

# Mevlana İlkokulu 1 /A Sınıfı Deneme Sınavı

## MATEMATİK DERSİ DENEME SINAVI

1) 50 kuruş içinde kaç tane 10 kuruş vardır ?

A) 2            B) 5            C) 10

2) Aşağıdaki varlıkların en hafiften en ağıra doğru sıralanışı hangisidir?

A) koyun , at , horoz    B) Horoz , koyun ,at    C ) At , horoz , koyun

3) 15'ten küçük sayı aşağıdakilerden hangisidir ?

A) 13            B) 16            C) 17

4) Onar onar ileri doğru ritmik saymada beşinci saymada hangi sayıyı söyleriz ?

A) 50            B) 40            C) 60

5) Dokuzuncu diye okunan sıra bildiren sayı hangisidir ?

A) 9            B) 19            C) 9.

6) Bir Yarışta dördüncüden sonra gelen koşucu kaçınıcı olur ?

A) Üçüncü    b) Beşinci            c) Altıncı

7) İki kedinin kaç ayağı vardır ?

A) 8    B) 4            C) 2

8 )14 sayısının onluk ve birlik sayısı hangi seçenekte doğru gösterilmiştir ?

A) 4 onluk 1 birlik            B) 1 onluk 4 birlik            C) 1 onluk 5 birlik

# Mevlana İlkokulu 1 /A Sınıfı Deneme Sınavı

9 ) Bir gün kaç saattir ?

A) 12 B ) 24 C) 36

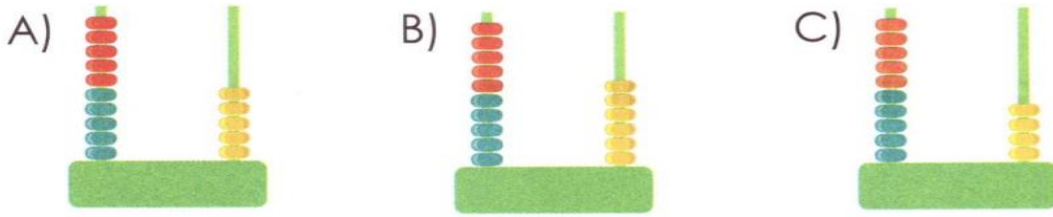
10 ) Saat üzerinde dakikayı gösteren uzun kola ne denir ?

A ) Akrep B) Yelkovan C ) Kadran

11) Aşağıda belirtilen organlarımızdan hangisinin eşi yoktur ?

A) Ayak B) Göz c) Kalp

12) 1 onluk 6 birlikten oluşan sayı aşağıdakilerden hangisidir?



Cemil Kerem Can Cem Deniz

13) Yukarıdaki resimde Atatürk Kır Koşusunda koşan çocukları görüyorsunuz. Can,Cem'i geçerse; Cem kaçınıcı olur?

A) İkinci B) Üçüncü C) Dördüncü

14) Yandaki toplama işleminde  yerine hangi sayı gelmelidir?

A) 5 B) 7 C) 8

$$\begin{array}{r} 7 \\ + \square \\ \hline 15 \end{array}$$

# Mevlana İlkokulu 1 /A Sınıfı Deneme Sınavı



15) Yukarıda verilen meyvelerin kaç tanesi yarımı gösterir?

A) 2

B) 1

C) 3

$$18 - 16 - 14 - \boxed{?} - 10 - 8$$

16) Yukarıdaki sayı örüntüsünde boş bırakılan yere hangi sayı yazılmalıdır?

A) 12

B) 13

C) 11

17) Aşağıdaki toplama işlemlerinden hangisinin sonucu doğrudur?

A)

$$\begin{array}{r} 9 \\ + 11 \\ \hline 19 \end{array}$$

B)

$$\begin{array}{r} 8 \\ + 18 \\ \hline 25 \end{array}$$

C)

$$\begin{array}{r} 17 \\ + 13 \\ \hline 30 \end{array}$$

18) Yandaki çıkarma işleminde eksilen sayı kaçtır?

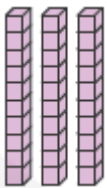
A) 70

B) 40

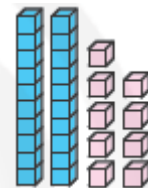
C) 30

$$\begin{array}{r} 70 \\ - 40 \\ \hline \end{array}$$

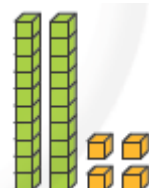
19) Aşağıda modelle gösterilen sayılardan hangisi diğerlerinden büyüktür?



A)



B)



C)

# Mevlana İlkokulu 1 /A Sınıfı Deneme Sınavı



20) Yukarıdaki elmalardan hangileri birleştirilirse bir bütün elma elde edilir?

A



B



C



21) Bir çiçekçide 32 gül,14 karanfil vardır.Bu çiçekçide güller karanfillerden ne kadar fazladır?

A) 16

B) 13

C)18

22) Bahçemizde 18 tane gül vardı . 16 tane de lale diktik. Bu durumda kaç çiçeğimiz oldu?

A) 20

B) 34

C) 18

23 )Yandaki saat kaç göstermektedir?



A) üçü

B) sekiz buçuğu

C) dokuzu

Ayşe 13, Ali 9 yaşındadır.

“Ayşe, Ali'den .....

24) Yukarıda verilenlere göre cümlesi aşağıdakilerden hangisiyle tamamlanmalıdır?

A) küçüktür.

B) büyüktür.

C) azdır.

# Mevlana İlkokulu 1 /A Sınıfı Deneme Sınavı




25) Yukarıdaki örüntüyü oluşturan şekiller hangi seçenekte doğru verilmiştir?

- A) 2 dondurma, 1 top
- B) 4 dondurma, 2 top
- C) 2 dondurma, 2 top

26 )

Aşağıdaki resimde Erinç, Çağrıyı geçerse, Selçuk kaçınıcı olur?



- A) 1. olur
- B) 2. olur
- C) 3. olur



27) Yukarıdaki örüntüyü takip eden üç şekil sırası ile hangisinde verilmiştir?

- A) ★★ ★
- B) ★★ ●
- C) ★ ● ★



28) Yukarıda verilen sayılar hangi seçenekte küçükten büyüğe doğru sıralanmıştır?

- A) 24,11,22,12
- B) 12,11,22,24
- C) 11,12,22,24

# Mevlana İlkokulu 1 /A Sınıfı Deneme Sınavı



29 )

Resimdeki çocuklar uzundan kısaya doğru sıraya giriyorlar. Ortada hangisi olur?

A) Erdoğan

B) Osman

C) Yusuf

30 ) Bir çiftlikte 23 inek ve 19 koyun vardır. Bu çiftlikte toplam kaç hayvan bulunmaktadır?

A) 34

B) 35

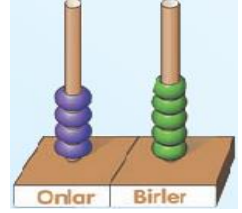
C) 42

31) Yandaki abaküste gösterilen sayı aşağıdakilerden hangisidir?

A) 54

B) 49

C) 45




32) Tabloda gösterilen sayı aşağıdakilerden hangisidir?

Onluk	Birlik

A) 14

B) 40

C) 41



33) Yukarıdaki örüntüde noktalı yere aşağıdakilerden hangisi yazılmalıdır?

A) 1 elma, 1 erik

B) 1 erik, 1 elma

C) 1 elma, 1 elma