

12  
Günlük  
Plan

# KESİF TAKIMI

TATILDE

MÜFREDATA  
TAM UYUMLU

2 ADET 1. DÖNEM  
DEĞERLENDİRME  
TESTİ

ÇÖZÜMLER İÇİN  
KAREKOD DESTEKLİ

YENİ NESİL

SÜREÇ  
DEĞERLENDİRME  
TESTİ

3  
SINIF

 LKOKULLUYUM  
YAYINLARI





## 1. HAFTA DEĞERLENDİRME TESTİ



Bir sabah Melih, pencereden dışarı baktı. Gökyüzü gri bulutlarla kaplıydı, hava oldukça soğuktu. Çatılardan sarkan buzlar sabah ışığında parlıyordu. Melih kar tanelerinin nasıl oluştuğunu merak etti. Okulda öğretmeni suyun hâllerinden bahsetmişti ama aklında hâlâ sorular vardı. Eve gelince bulutlardaki su buharının soğuk hava ile karşılaşınca donduğunu öğrendi. Donan su buharının kristalleri birleşip kar tanelerini oluşturuyordu. Her bir kar tanesi diğerinden farklıydı. Bu bilgi onu çok şaşırttı ve merakını daha da artırdı.

Melih, doğanın içinde ne kadar çok gizem olduğunu düşündü. “Belki başka doğa olaylarının da böyle özel bir hikâyesi vardır.” diye aklından geçirdi.

→ 1, 2 ve 3. soruları metne göre cevaplayınız.

1. Bu metne en uygun başlık aşağıdakilerden hangisidir?

- A) Melih'in Kış Tatili      B) Doğa Ana      C) Karlı Bir Sabah

2. Aşağıdaki olaylardan hangisi metinde gerçekleşmemiştir?

- A) Melih, kar tanelerinin nasıl oluştuğunu araştırmıştır.  
B) Melih, dışarıda yağan karı izlemiştir.  
C) Melih, arkadaşlarıyla kardan adam yapmıştır.

3. Yukarıdaki metinde koyu yazılan sözcük ile ilgili verilen bilgilerden hangisi doğrudur?

- A) 2 heceden oluşmaktadır.  
B) Hecelerinden iki tanesinde üç harf bulunur.  
C) Hecelerinin hepsi 3 harften oluşmaktadır.



## 1. HAFTA DEĞERLENDİRME TESTİ

4.




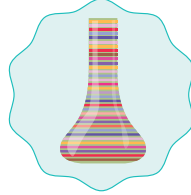
Öğretmenin sorduğu soruya doğru cevap veren öğrenci hangisidir?

A) Ali

B) Meryem

C) Mehmet

5.




Yukarıdaki nesnelerin adları alfabetik olarak sıralandığında 2. sırada hangi nesnenin adı yer alır?

A)



B)



C)




6. Aşağıdaki görsellerden hangisinin ismi satır sonuna sığmadığında hecelerine ayrılmaz?

A)



B)





















C)





7.  güzel  oynadık  
 arkadaşlarımla  çok  
 bugün  oyunlar  
 yemek  seviyorum

Yukarıdaki sözcüklerden bazılarını kullanarak oluşturulabilecek anlamlı ve kurallı cümle hangisidir?

- A)        
B)        
C)      

8. “Yarın okula gelecekmisin?” cümlesindeki yazım yanlışı düzeltildiğinde yazılışı nasıl olur?

- A) Yarın okula gelecek mi sin?  
B) Yarın okula gelecek misin?  
C) Yarın okula gele cek misin?

9. Sabah erkenden uyandım ( ) Pencereden baktığımda gökyüzü turuncuya dönmüş ( ) kuşlar neşeyle ötüyordu ( ) Annem mutfaktan “Kahvaltı hazır( )” diye seslendi ( ) O anda içimi sıcacık bir mutluluk kapladı.

Yukarıdaki paragrafta boş bırakılan yerlere sırasıyla hangi noktalama işaretleri getirilmelidir?

- A) (.) (,) (.) (!) (.)  
B) (.) (,) (!) (.) (.)  
C) (,) (,) (.) (.) (.)

10.

yukarı	uzun	ağır	kısa
uzak	kirli	aşağı	açık
temiz	kapalı	yakın	yaşlı

Tablodaki sözcükler zıt anlamlarıyla eşleştirildiğinde geriye kalan iki sözcük aşağıdakilerden hangisidir?

- A) ağır – yakın  
B) uzak – kısa  
C) yaşlı – ağır

1. 480'den başlayarak geriye doğru onar ritmik sayma yaparken söylenecek ilk üç sayı aşağıdakilerden hangisidir?

- A) 480 – 470 – 460  
B) 470 – 480 – 490  
C) 480 – 475 – 470

2. Öğretmeni, Nergis'e 729 sayısındaki 7 rakamının basamak adı ve basamak değerini sormuştur.

Nergis hangi cevabı verirse doğru cevap vermiş olur?

- A) Yüzler basamağı – 70  
B) Onlar basamağı – 700  
C) Yüzler basamağı – 700

3. Yüzler basamağı 5, onlar basamağı 1, birler basamağı 9 olan sayı ile 345 sayısının toplamı kaçtır?

- A) 864                      B) 936  
C) 854

4. Zeynep, aklından bir sayı tutuyor ve bu sayı ile ilgili şu bilgileri veriyor:

"Sayıyı yüzlüğe yuvarladım, 700 çıktı. Aynı sayıyı onluğa yuvarladım, 720 oldu."












Buna göre Zeynep'in aklında tuttuğu sayı kaç olabilir?

- A) 725      B) 718      C) 772


5. Tarık, tahtadaki sayıları sembol kullanarak karşılaştıracaktır.

900	.....	906
198	.....	100
456	.....	467

Tarık, tahtaya sırasıyla hangi sembolleri yazarsa karşılaştırması doğru olur?

- A)     
B)     
C)   

6. Neslihan'ın okuduğu kitapta sayfa numaraları Romen rakamlarıyla gösterilmektedir.




Buna göre bir sonraki sayfa numarası Romen rakamlarıyla aşağıdakilerden hangisidir?

A) XIV

B) XVI

C) XV

7.



Bu örüntünün kuralı ile aynı yeni bir sayı örüntüsü oluşturmak isteyen Eylül, aşağıdakilerden hangisini oluşturmuş olabilir?

A) 27 – 29 – 31 – 33 – 35

B) 65 – 70 – 75 – 80 – 85

C) 32 – 39 – 46 – 53 – 70

8.

Toplardaki sayılardan tek olanlar mavi sepete, çift olanlar pembe sepete atılacaktır.



Buna göre mavi sepetteki top sayısı pembe sepettekenden kaç fazladır?

A) 1

B) 2

C) 3

9. Azra, annesiyle birlikte oyuncakçıya gitmiştir. Mağaza çalışanı, bazı oyuncakların fiyat etiketlerini yanlışlıkla karıştırmıştır. Karıştırılan etiketler şu şekildedir:

189 TL



458 TL



227 TL



Bu etiketlerden en ucuz olanı topa, en pahalı olanı da gitara ait olduğuna göre roketin fiyatının okunuşu hangisidir?

- A) Yüz seksen dokuz      B) Dört yüz elli sekiz      C) İki yüz yirmi yedi

10. Madagaskar'da görev yapan doğa araştırmacısı Melis, adadaki hayvanları saymaktadır. Gözlemleri sonucunda not defterine şu bilgileri yazar:



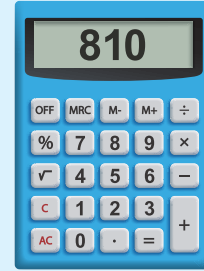
Lemurlar: 328



Bukalemunlar: 328



Aslanlar: 184



Hayvan sayılarını hesap makinesi ile toplayan Melis, hangi hayvan sayısından toplamaya başlarsa başlasın sonucun aynı olduğunu görür.

Bunun sebebi aşağıdakilerin hangisinde doğru verilmiştir?

- A) Toplama işleminde sayıların artıp azalması sonucu değiştirmez.  
B) Toplama işleminde, toplananların yer değiştirmesi sonucu etkilemez.  
C) Toplama işleminde ne kadar çok sayıyı toplarsak sonuç o kadar fazla çıkar.

1. Öğretmen, öğrencilerden şekli Dünya'nın şekline benzeyen bir meyveyi okula getirmelerini istiyor. Öğrencilerin getirdiği meyveler:

Selma'nın Meyvesi:



Akın'ın Meyvesi:



Beyza'nın Meyvesi:



Buna göre öğrencilerden hangisi öğretmenin isteğine uygun bir meyve getirmiştir?

A) Selma

B) Akın

C) Beyza

2.



Yukarıdaki görselde Dünya'nın hangi katmanları bir arada gösterilmiştir?

A) Kara katmanı, su katmanı

B) Hava katmanı, su katmanı, kara katmanı

C) Kara katmanı, hava katmanı

3. Bir sabah Elif, ailesiyle parka gitti. Hava serindi, çimenlerin üzerindeki damlalar saçlarını hafifçe ıslattı. Bankta otururken annesi ona taze pişmiş simit uzattı. Elif, sıcak simitten bir parça yedi ve simidin ne kadar lezzetli olduğunu düşündü. Kafasını kaldırdığında gökyüzünde rengârenk uçan balonları fark etti.

Bu metinde yaşanan durumlara göre Elif hangi duyu organlarını kullanmıştır?

A) Burun, kulak, dil

B) Göz, dil, deri

C) Göz, burun, kulak

4.



1



2



3

Bu görsellerde çocukların davranışlarından hangisi duyu organlarının sağlığı için uygundur?

A) 1

B) 2

C) 3

5. Ali, varlıkların hareketleri ile ilgili sorular içeren bir doğru-yanlış testi çözmektedir.

Bu testte her doğru cevap 5 puan değerindedir.

(D) Fren yapıldığında araba yavaşlama hareketi yapar.

(D) Rüzgâr gülleri dönme hareketi yapar.

(Y) Ağaçlar sürekli yer değiştirir.

(Y) Viraja giren araçlar önce yavaşlama sonra yön değiştirme hareketi yapar.

Sorulara yukarıdaki gibi cevap veren Ali sınavdan kaç puan almıştır?

A) 10

B) 15

C) 20

## 1. HAFTA DEĞERLENDİRME TESTİ



1.



Resim yapmayı çok severim ve duygularımı çizimlerimle anlatırım. Ama eleştiri duyunca hemen üzülürüm.

Ece

Matematikte çok iyiyim, zor soruları bile çözerim. Fakat grup çalışmalarında liderliği almakta zorlanırım.



Arda



Spor derslerinde oldukça başarılıyım, hızlı koşarım. Ancak derslerde uzun süre dikkatimi toplamakta zorlanırım.

Mert

Öğrencilerin açıklamalarına göre güçlü oldukları yönler aşağıdakilerin hangisinde doğru verilmiştir?

Ece

Arda

Mert

A) Resim

Türkçe

Spor

B) Spor

Matematik

Liderlik

C) Resim

Matematik

Spor

2. Aşağıdakilerden hangisi olumsuz bir davranıştır?

A) Başkasının sırasını karıştırmak

B) Öğretmeni dikkatle dinlemek

C) Oyun sırasını beklemek

3.

sebze

poşet

tartı

taze

tezgah

meyve

Verilen anahtar sözcüklerle anlatılmak istenen meslek aşağıdakilerden hangisidir?

A) Manav



B) Fırın

C) Tamirci

4. Aşağıdaki tabloda arkadaşlarımızda olmasını isteyeceğimiz özelliklerin yazılı olduğu kutucuklar boyanacaktır.

cömert	kibirli	öfkeli
inatçı	yalancı	sabırlı
bencil	neşeli	dürüst

Buna göre tablonun boyanmış hâli aşağıdakilerden hangisidir?



5.



Mehmet

Benim sınıfımın karşısında, içerisinde çok fazla kitap olan bir oda vardır.

2/A Sınıfı	2/B Sınıfı	Öğretmenler Odası	Kütüphane	M E R D İ V E N
Koridor				
Müdür Odası	Müdür Yardımcısı Odası	3/A Sınıfı	3/B Sınıfı	

Açıklamasına göre Mehmet'in sınıfı aşağıdakilerden hangisidir?

A) 2/A sınıfı

B) 3/A sınıfı

C) 3/B sınıfı



## 2. HAFTA DEĞERLENDİRME TESTİ



### YARDIMLAŞMA

Bir sonbahar sabahıydı. Orman, sonbaharın sarı rengine bürünmüştü.

Sincap Cevizdiş, uzak bir ormandan bu ormana yeni taşınmıştı. Bu nedenle kış hazırlığı yapmak için geç kalmıştı. Meşe palamudu toplamaya çalışıyordu. Topladığı meşe palamutlarını evine götürmek uzun zamanını alıyordu. Bu gidişle işini bitiremeyecekti. Kışın aç kalacağını düşünmek Cevizdiş'i çok endişelendiriyordu. Oradan geçen fareye durumu anlattı. Fare,

tiz sesiyle tüm arkadaşlarını yardıma çağırırdı. Bir anda ormanın tüm fareleri meşe palamutlarının etrafını sardı.

Meşe palamutları kısa bir sürede Cevizdiş'in evine taşındı. Cevizdiş, fare ve arkadaşlarına teşekkür etti.

Onlar artık sadece arkadaş değil, birbirlerinin gerçek dostlarıydı.

→ 1, 2 ve 3. soruları metne göre cevaplayınız.

1. Sincap Cevizdiş, kış hazırlığı yapmak için neden geç kalmıştır?

- A) Hastalandığı için
- B) Bu ormana yeni taşındığı için
- C) Arkadaşlarının hazırlığına yardım ettiği için

2. Bu metnin konusu aşağıdakilerden hangisidir?

- A) Farenin, Cevizdiş'e yardım etmesi
- B) Farenin ormandaki hayatı
- C) Cevizdiş'in kış tatili

3. Metne göre aşağıdakilerden hangisi Cevizdiş'i endişelendiriyordu?

- A) Hasta olacağını düşünmek
- B) Farenin yardım etmeyeceğini sanmak
- C) Kışın aç kalacağını düşünmek



## 2. HAFTA DEĞERLENDİRME TESTİ

4. Aşağıdaki cümlelerin hangisinde ünlem işaretinin kullanımı ile ilgili bir yanlışlık yapılmıştır?

- A) Aman, dikkat et!
- B) Sevgi her şeyi güzelleştirir mi!
- C) Ey Türk Gençliği!

5. Noktalama işaretleri ile ilgili bilgilerden hangisi doğrudur?

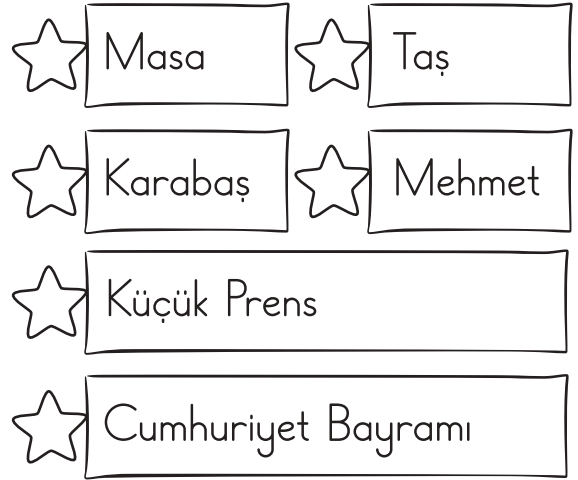
- A) İki nokta (:) kendisinden sonra örnek verilecek cümlelerde kullanılır.
- B) Kısa çizgi (–) alay ve şaşma bildiren cümlelerin sonuna konur.
- C) Tırnak işareti (“ ”) sözcüklerin hecelere ayrılmasında kullanılır.

6. Öğretmen, 1 Defterlerinizi açın 2 3 dedi. Elif, heyecanla 4 5 Yeni konu mu işleyeceğiz 6 7 dedi 8

Yukarıdaki cümlelerde numaralanmış yerlerden hangilerine tırnak işareti getirilmelidir?

- A) 1 – 2 ve 4 – 5
- B) 2 – 3 ve 5 – 6
- C) 1 – 3 ve 5 – 7

7. Sevgi, aşağıdaki sözcüklerden özel adların yıldızını kırmızıya, cins (tür) adların yıldızını maviye boyamıştır.

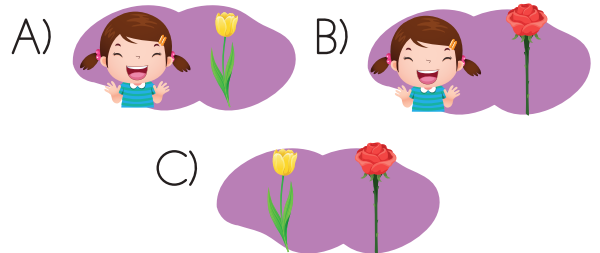


Buna göre Sevgi, kaç kırmızı kaç mavi yıldız boyamıştır?

- A) 4 kırmızı, 2 mavi
- B) 3 kırmızı, 3 mavi
- C) 2 kırmızı, 2 mavi

8. Bahçedeki pembe gül, bu sabah açmıştı. Onu görünce o kadar sevindim ki istemeden güldüm. Annem de bana bakıp “Ne güzel bir gülüş bu!” dedi.

Bu cümlelerde geçen eş sesli sözcüğün farklı anlamlarına ait görseller aşağıdakilerden hangisidir?



## 2. HAFTA DEĞERLENDİRME TESTİ



9. Aşağıda dört öğrencinin yazdığı cümleler verilmiştir.



Nazlı

Her sabah okula giderken içimi tatlı bir heyecan kaplıyor.



Enes

Bence insanlara yardım etmek kalbimizi güzelleştirir.



Asya

Trafikte dikkatli olmak herkesin sorumluluğudur.



İlke

Bilim insanları olmasaydı hayat çok zor olurdu.

Bu cümlelerle ilgili verilen bilgilerden hangisi doğrudur?

- A) Nazlı duygu, diğerleri düşünce cümlesi yazmıştır.
- B) Nazlı ve Enes duygu, Asya ve İlke düşünce cümlesi yazmıştır.
- C) Nazlı, Asya ve İlke düşünce; Enes duygu cümlesi yazmıştır.

10. Uraz ve Ayşen aralarında mesajlaşırken ikisi de birer yazım yanlışı yapmıştır.



Uraz

ayşen, yarın okula beraber gidelim mi?

Olur Uraz ama cumhuriyet mahallesi'nden geçerek gidelim.



Ayşen

Aşağıdakilerden hangisi yapıldığında yazım yanlışı giderilmiş olur?

- A) Cumhuriyet Mahallesi ve Ayşen büyük harfle başlamalıdır.
- B) Uraz sözcüğü küçük, Ayşen sözcüğü büyük harfle yazılmalıdır.
- C) Ayşen sözcüğü küçük, mahallesi sözcüğü büyük harfle yazılmalıdır.

1. Aşağıda bir manavın tezgahında bulunan meyve ve sebzelerin sayıları verilmiştir.



253



178



351

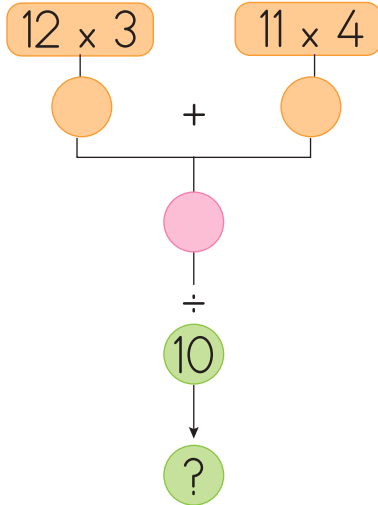


229

Bu manavda bulunan meyvelerin sayılarının toplamı ile sebzelerin sayılarının toplamının farkı kaçtır?

- A) 47      B) 149      C) 197

2.



Verilen işlemler sırayla yapıldığında en alttaki daireye yazılması gereken sayı aşağıdakilerden hangisidir?

- A) 8      B) 80      C) 800

3. Aşağıdaki ilk sayı iki basamaklı rakamları farklı en büyük sayı, ikinci sayı ise iki basamaklı en küçük sayıdır.

$$\text{●} - \text{★} = ?$$

Buna göre yukarıdaki çıkarma işleminin sonucu aşağıdakilerden hangisidir?

- A) 88      B) 89      C) 90

4. Bu yıl bahçemizde yetişen ağaçlardan 84 kilo limon topladık. Bu limonları 3 kiloluk kasalara doldurduk.

Bu işlem için kaç adet kasa kullanılmıştır?

- A) 28      B) 84      C) 252

5.

x	3	7	10
4			▲
8		●	
14	◆		

Verilen çarpım tablosunun sonuçlarına göre  $\text{◆} + \text{●} - \text{▲}$  işleminin sonucu kaçtır?

- A) 54      B) 58      C) 138

## 2. HAFTA DEĞERLENDİRME TESTİ



6. Aşağıdaki bilgilere göre tabloda eksik bırakılan yerler doldurulacaktır.

Tablo Adı: Çiftlikte Bulunan Hayvanlar

Tavuk	Koyun	İnek	At	Ördek

- Koyun sayısı, inek sayısından 2 fazladır.
- At sayısı, koyun sayısından 6 fazladır.
- Ördek sayısı, at sayısından 5 eksiktir.

Buna göre çiftlikte toplam kaç hayvan vardır?

- A) 31                                      B) 45                                      C) 55

7.  $54 \times 10$  ★                                      ★ 670  
 $67 \times 10$  ★                                      ★ 540  
 $9 \times 100$  ★                                      ★ 900

Çarpma işlemleri, sonuçları ile eşleştirilirse aşağıdaki örüntülerden hangisi oluşur?

- A)                                       B)                                       C) 

8. Zeynep'in oyuncak kutusunda 3 farklı renkte top bulunmaktadır. Toplar hakkında şu bilgiler verilmiştir:


- Her kırmızı topun içinde 2 adet küçük oyuncak araba vardır.
- Her mavi topun içinde 3 adet küçük bebek vardır.
- Her yeşil topun içinde 4 adet küçük lego vardır.



Zeynep'in kutusunda toplamda 15 kırmızı top, 12 mavi top ve 20 yeşil top olduğuna göre Zeynep'in toplam kaç oyuncacı vardır?

- A) 47                                      B) 56                                      C) 146

Aşağıdaki grafik bir otoparkta bulunan arabaların sayısını göstermektedir.



**NOT:** Her şekil 2 arabayı göstermektedir.

→ 9 ve 10. soruları grafiğe göre cevaplayınız.

9. Otoparkta toplam kaç tane araba vardır?

A) 20

B) 40

C) 60

10. Yukarıda verilen grafiğin sıklık tablosu aşağıdakilerden hangisidir?

A)

Arabalar	Sayısı
sarı	12
pembe	9
mor	15
mavi	6
yeşil	12

B)

Arabalar	Sayısı
sarı	12
pembe	6
mor	10
mavi	4
yeşil	8

C)

Arabalar	Sayısı
sarı	6
pembe	3
mor	5
mavi	2
yeşil	4

1. Ali, kardeşinin oyuncak arabası ile oynarken önce arkaya doğru hareket ettirip tekerleklerini geriye sardığını, sonra halının üzerinde elini kullanarak ileri doğru hareket ettirdiğini gördü.

Buna göre Ali'nin kardeşi, hangi durumlarda itme ve çekme kuvvetini kullanmıştır?

A) Arabanın tekerleklerini geriye sararken itme, ileri doğru hareket ettirirken çekme

B) Her ikisinde de itme

C) Arabanın tekerleklerini geriye sararken çekme, ileri doğru hareket ettirirken itme

2. Kuvvet ile ilgili verilen ifadelerden hangisi yanlıştır?

A) Bir cisme kuvvet uygulandığında cismin şekli değişebilir.

B) Bir topa ayakla vurmak çekme kuvvetine örnektir.

C) Bir kapıyı açmak için çekme ya da itme kuvveti uygulanabilir

3.




Görselle ilgili ifadelerden hangisi doğrudur?

A) Öğrenci, doğal ışık kaynağı olan lambayı açmaktadır.

B) Öğrenci, yapay ışık kaynağını kesmek için perdeleri kapatmıştır.

C) Öğrenci, doğal ışık kaynağını perdeyle örtüp yapay ışık kaynağını açmaktadır.

4.



Görsellerdeki nesnelere katı olanların sayısı ile sıvı olanların sayısının farkı kaçtır?

A) 1

B) 2

C) 3

5.



Sünger; yumuşak, pürüzlü ve kırılğan bir cisimdir.

Eda'nın süngeri niteleyen özellikler hakkında söyledikleri ile ilgili aşağıdakilerden hangisi doğrudur?

A) Eda, süngerin yumuşak ve pürüzlü olduğunu doğru; kırılğan olduğunu yanlış bilmektedir.

B) Eda, süngerin yumuşak olduğunu doğru; pürüzlü ve kırılğan olduğunu yanlış bilmektedir.

C) Eda'nın sünger hakkındaki tüm söyledikleri doğrudur.

## 2. HAFTA DEĞERLENDİRME TESTİ



1. Aşağıdaki şiirlerin konuları farklı teknolojik ürünlerdir.

Peynir, bal ve reçel  
İçindekiler taze, güzel.  
Saklar, korur sessizce,  
Soğutur her gün neşeyle.

Kokusu dolar mutfağa,  
Kek, börek pişer sırayla.  
Tavuk, nar gibi kızarıncı,  
Herkes koşar masaya.

Tıkır tıkır ses gelir,  
Köpüklerle parıldar.  
Temiz tabaklar sıralı,  
Her şey ıslık ıslık parlar.



Buna göre şekillerle sembollenen şiirlerin doğru teknolojik aletlerle eşleştirilmesi aşağıdakilerden hangisidir?

- |   |   |   |
|---|---|---|
|  |  |  |
| A) fırın  | buzdolabı   | bulaşık makinesi  |
| B) buzdolabı  | fırın   | bulaşık makinesi  |
| C) fırın  | bulaşık makinesi  | buzdolabı   |

2. Evde kullanılmayan odalardaki ışıkların kapatılmasının faydası nedir?

- A) Elektrik tasarrufu yapılmasını sağlar.  
B) Evin daha çok ısınmasını sağlar.  
C) Lambaların daha hızlı yanmasını sağlar.

3. Aşağıdaki meyvelerden hangisini kış mevsiminde tüketmek daha sağlıklıdır?



4. Hasan, Efe ve Zeynep farklı oyunlar oynamaktadır.

Hasan,  
arkadaşlarıyla çelik  
çomak oynarken  
küçük sopayı  
olabildiğince uzağa  
fırlatmaya çalışır.

Efe, boş bulduğu  
her anda topunu  
alıp bahçeye koşar.  
Arkadaşlarıyla  
paslaşmak ve kaleye  
gol atmak en büyük  
eğlencesidir.

Zeynep, tabletinde  
yeni oyunlar  
keşfetmeyi çok sever.  
Ekrandaki karakteri  
ziplatırken ya da  
puan toplarken  
zamanın nasıl  
geçtiğini anlamaz.

Hangi çocuğun oynadığı oyun günümüzde daha az oynanmaktadır?

A) Efe

B) Zeynep

C) Hasan

5. Fahri dede, evinden çıkıp torununu almak için önce okula gitti. Ardından yürüyüş yolundan geçerek torunuyla birlikte parka gittiler. Parkta birlikte oyun oynayarak güzel vakit geçirdiler.



Verilenlere göre Fahri dedenin geçtiği yollar aşağıdakilerin hangisinde sırasıyla doğru olarak yazılmıştır?

A) 154. Sokak – 155. Sokak – 152. Sokak

B) Atatürk Caddesi – 154. Sokak – 155. Sokak

C) 153. Sokak – 152. Sokak – Atatürk Caddesi

# CEVAP ANAHTARI

## 1. HAFTA DEĞERLENDİRME TESTİ

### TÜRKÇE

1. C	2. C	3. B	4. A	5. B	6. A	7. B	8. B	9. A	10. C
------	------	------	------	------	------	------	------	------	-------

### MATEMATİK

1. A	2. C	3. A	4. B	5. B	6. C	7. B	8. B	9. C	10. B
------	------	------	------	------	------	------	------	------	-------

### FEN BİLİMLERİ

1. B	2. C	3. B	4. B	5. B					
------	------	------	------	------	--	--	--	--	--

### HAYAT BİLGİSİ

1. C	2. A	3. A	4. A	5. C					
------	------	------	------	------	--	--	--	--	--

## 2. HAFTA DEĞERLENDİRME TESTİ

### TÜRKÇE

1. B	2. A	3. C	4. B	5. A	6. C	7. A	8. B	9. A	10. A
------	------	------	------	------	------	------	------	------	-------

### MATEMATİK

1. C	2. A	3. A	4. A	5. B	6. B	7. B	8. C	9. B	10. B
------	------	------	------	------	------	------	------	------	-------

### FEN BİLİMLERİ

1. C	2. B	3. C	4. C	5. A					
------	------	------	------	------	--	--	--	--	--

### HAYAT BİLGİSİ

1. B	2. A	3. B	4. C	5. B					
------	------	------	------	------	--	--	--	--	--



## İlkokulluyum'un Dijital Dünyasını Keşfetmeye Hazır Mısınız?

Kitaplarımızın zenginleştirilmiş dijital içeriklerine, konu anlatım videolarına, oyunlarına ve akıllı tahta uygulamalarına [www.ilkokulluyum.com](http://www.ilkokulluyum.com) adresinden ulaşabilirsiniz.



📍 Ostim Osb Mah. 1220. Cad.  
No: 31-33 Yenimahalle/ANKARA  
✉ iletisim@ilkokulluyum.com  
🌐 www.ilkokulluyumyayinlari.com  
📷 @ilkokulluyum  
📺 @ilkokulluyum

[www.ilkokulluyum.com](http://www.ilkokulluyum.com)



(312) 342 42 43