



MATEMATİK TEST

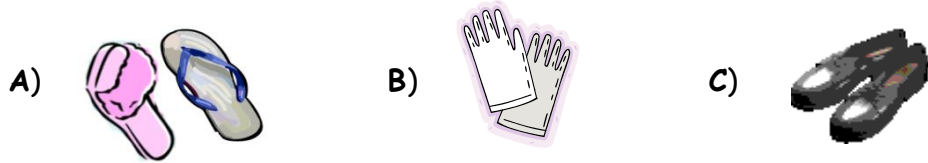
1.  Yukarıdaki modelle gösterilen sayının birlik ve onluk şeklindeki yazılışı hangisidir?
A) 1 onluk, 7 birlik B) 7 onluk, 1 birlik C) 2 onluk, 1 birlik


2.  Yandaki örüntünün kuralı hangisidir?
A) 2 yıldız, 1 güneş B) 2 güneş, 1 yıldız C) 1 güneş, 1 yıldız

3. "17 - 11 = 6" işleminde eksilen hangisidir?

A) 11 B) 17 C) 6

4. Hangisinin eşi yanlış verilmiştir?



5.  Yanda verilen uzunluklar kıtsadan uzuna doğru yerleştirilmek isteniyor. Araya hangi şekil gelmelidir?

A)  B)  C) 

6. Okulun bahçesinin uzunluğunu ölçmek istiyorum. Hangisini kullanmam daha uygun olur?

A) parmak B) karış C) adım

7. Madenî paralarımızın en büyüğü hangisidir?

A) 1 TL B) 5 TL C) 50 Kr

8. 12 kalemin yarısı kaç kalem eder?

A) 8 kalem B) 6 kalem C) 5 kalem

9. 2 hafta kaç gün eder?

A) 30 B) 14 C) 12

10. Hangi grup iki eşit parçaya bölünemez?

A) 11 çocuk B) 6 çocuk C) 14 çocuk

11. Evlerin çatısı hangi şekle benzer?



Erdal ÖZCAN