

ücretsiz

1, 2, 3 VE 4. SINIFLAR



# ONLINE DENEME SINAVI



ÖDÜL:  
2 ADET TABLET



**Başlangıç**  
25 Mart 10.00

**Bitiş**  
28 Mart 22.00



## FARELİ KÖYÜN KAVALCISI



Evvel zaman içinde Hamelin adında bir köy varmış. Hamelin, Almanya'da nehrin kenarında sakin ve sevimli bir köymüş. Fakat köy halkı, bu güzel yerin değerini bilememiş. Hamelin'i kirletmişler. Yollara, evlerinin önüne ve gittikleri her yere çöp atmışlar. Bunun sonucunda köyü fareler basmış.

Köy halkı, köyün yöneticisinin evine giderek yardım istemiş. "Fareleri yok edin! Fareler yok edilmeli!" demişler. Yönetici "Bir çözüm bulmak için toplantı yapacağız. Biraz zaman verin." demiş. Yönetici toplantılar yapmış, çeşitli yöntemler denemiş ama nafile. Fareler için bir türlü çözüm bulunamamış.

Çaresiz ve üzgün bir şekilde düşüncelere dalmışlar.

Meclis çaresizce ne yapacağını düşünürken, aniden kapı çalınmış. İçeri bir adam girmiş. Gördükleri en garip adammış. Kırmızı renkli bir palto giyiyormuş. Zayıf ve uzun boyluymuş. Parmakları kaval çalması gibi durma-dan oynuyormuş. Yönetici "Yoksa sirkten mi kaçtın?" demiş. Adam ise "Bana kavalcı derler, gizemli bir becerim var. Dünyadaki bütün canlıları toplayabilirim. Bu becerimi zararlı hayvanlar için kullanıyorum. Kurbağa, yılan ve fare gibi..." diye cevap vermiş. Yönetici "Fare mi?" diye yerinden fırlamış. "Bizi farelerden kurtarabilir misin?" diye heyecanla sormuş. Kavalcı "Evet kurtarabilirim." demiş. Yönetici "Tamam becerini göster ve bizi o farelerden kurtar." diye sevinçle haykırarak. Kavalcı "Elbette efendim ama bunun için bana istediğim ücreti verecek misiniz?" diye sormuş. Yönetici "Evet tabi ki ne istersen..." demiş. Farelî Köyün Kavalcısı sokağa çıkarak gülümsemiş. Kavalını eline almış. Kavalıyla üç dize ses çıkarmış. Büyülenmişçesine tüm fareler kemirdikleri yiyecekleri bırakıp evlerden, ayakkabılardan, şapkalardan çıkmışlar. Hepsi kavalcıyı takip etmeye başlamışlar. Nehre gelene dek adım adım ilerlemişler. Hamelin halkının ağız açık kalmış. Kavalcı suyun üzerinde bir kaya-ya zıplamış. Orada dikilerek kaval çalmaya devam etmiş. Fareler de onu takip ederlerken nehre düşerek boğulmuşlar. Hamelin köyü farelerden kurtulmuş. Kavalcı ödülünü almak için yöneticiye gitmiş. Ama yönetici sözünü tutmamış. Kavalcı sinirlenerek, "Bu yaptığınız doğru değil! Neler yapabileceğimi size göstereceğim. Köyün bütün çocuklarını peşimden sürükleyeceğim!" demiş. Kavalcı salondan ayrılmış. Sokağa çıkıp yine kavalını çıkarmış ve çalmaya başlamış. Ancak bu kez çaldığı farklı bir melodiymiş. Bir anda tüm çocuklar teker teker kavalcının arkasından yürümeye başlamışlar. Farelî köyün kavalcısı yürürken çocuklar onu takip ediyorlarmış. Melodi anne ve babalarını da büyülemiş. Yerlerinden kıpırdayamamışlar.

Yönetici gözlerine inanamamış. Çocukların gitmekte olduğunu görünce eli ayağına dolaşmış. Pişman olarak sözünü tutmuş. Kavalcının ücretini vermek zorunda kalmış. Kavalcı da kavalı çalmayı bırakmış. Çocuklar evlerine dönmüşler. Fareler yok olmuşlar. Hamelin köyü tertemiz bir köy haline gelmiş.

Hans Christian Andersen (Kısaltılmıştır)

1- Masalın geçtiği köyün adı nedir?

2- Köyü neden fareler basmış?

3- Kavalcının olağan üstü yeteneği neymiş?

4- Fareler neden ölmüşler?

5- Kavalcı neden çocukları peşinden sürüklemiş?

6- Çocukların gittiğini gören yönetici ne yapmış?

## Kısa çizginin kullanımı

- ❖ Aşağıda, kısa çizginin kullanıldığı yerler hakkında bilgiler verilmiştir. Verilen bilgileri okuyunuz. Örneklere göre, boşlukları doldurunuz.

Burada kalıp benimle oyna -  
mak ister misin?

..... -  
.....

“  
Satır sonuna  
sığmayan kelimeleri  
bölmek için kullanılır.  
”

..... -  
.....

..... -  
.....

patates: pa - ta - tes  
koluk : kol - tuk

.....  
.....

“  
Kelimeleri  
heceleme için kısa  
çizgi kullanılır.  
”

.....  
.....

.....  
.....

Bursa - Ankara arası  
1919 - 1920 yılları

.....  
.....

“  
İki kelime veya iki sayı  
arasında; ile, ila, den  
anlamında kullanılır.  
”

.....  
.....

.....  
.....

Öğretmen elinde üç kekle  
- birisi meyveliydi - sınıfa girdi.

.....  
.....

“  
Cümlede, ara  
cümleleri ayırmak  
için , ara cümlelerin  
başına ve sonuna  
konulur.  
”

.....  
.....

.....  
.....

Düzlem ve düzlemsel şekil

❖ Aşağıdaki bilgiye göre, düzlem olan varlıkların altlarına "düzlem" yazınız. Düzlem olmayanların altlarına ise "düzlem değil" yazınız.

Halı



.....



**Bilgi:**

Yüzeyi düz olan ,  
iki boyutlu şekillere  
düzlem denir.

Tahta



.....

Tangram



.....

Top



.....

Şapka



.....

❖ Aşağıdaki bilgiye göre, düzlemsel şekil olan varlıkların altlarına "düzlemsel şekil " yazınız. Düzlemsel şekil olmayanların altlarına ise "düzlemsel şekil değil" yazınız.

Şapka üzerindeki şekiller



.....



**Bilgi:**


Düzlem üzerinde  
yer alan şekillere  
düzlemsel şekil  
denir.

Tangram üzerindeki şekiller



.....

Panoya asılı kâğıtlar



.....

Oyuncağın üzerindeki şekiller



.....

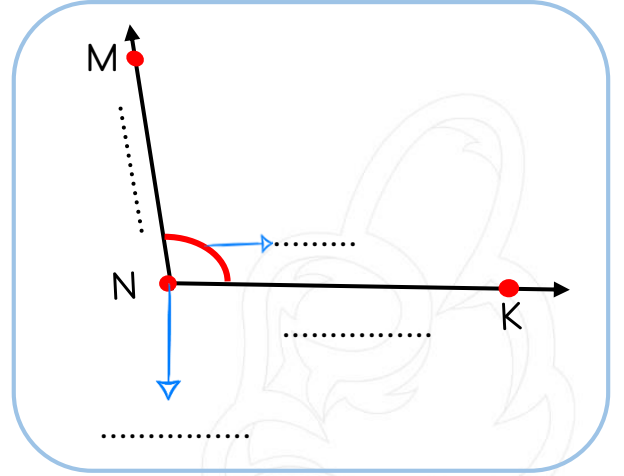
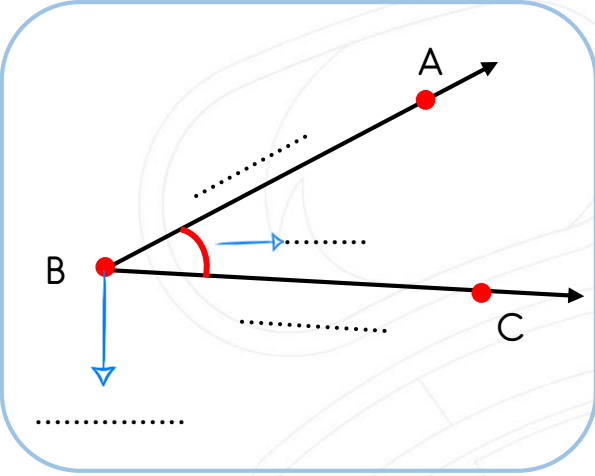
Kilim üzerindeki şekiller



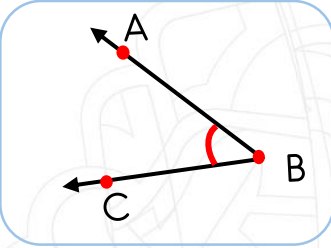
.....

### Açılar

❖ Aşağıdaki açıların ilgili yerlerine "kenar", "köşe" veya "açı" yazınız.



❖ Aşağıdaki açıların isimlerini, örnekteki gibi, numaralarının yanlarına yazınız.



1

$\widehat{ABC}$  açısı

2

..... açısı

3

..... açısı

4

..... açısı

5

..... açısı

6

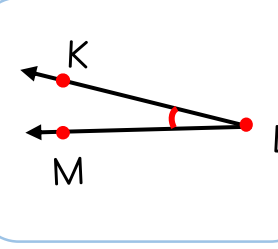
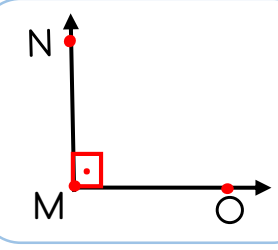
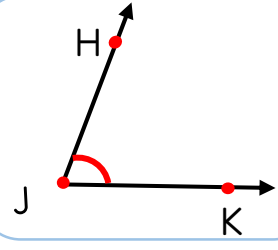
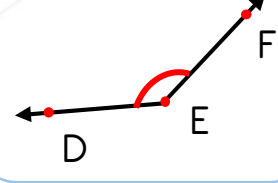
..... açısı

7

..... açısı

8

..... açısı



## Denk bütçe oluşturma


## Ahmet Bey ve ailesinin giderleri

Gider adı	Fiyat
Kira	1500 TL
Elektrik	300 TL
Doğal gaz	300 TL
Telefon	250 TL
İnternet	80 TL
Taksit	1200 TL
Mutfak-market	2000 TL
Eğlence	800 TL
Su	70 TL
<b>TOPLAM</b>	<b>6500 TL</b>



## Ahmet Bey ve ailesinin gelirleri

Gelir adı	Fiyat
Ahmet Bey Maaş	3700 TL
Ahmet Bey ek gelir	1000 TL
Ayşe Hanım ek gelir	800 TL
<b>TOPLAM</b>	<b>5500 TL</b>



Aile bütçesi nedir ?

 Cevap: .....  
 .....

Bütçenin denk olması ne demektir ?

 Cevap: .....  
 .....

Ahmet Bey'in bütçesi denk midir ?

 Cevap: .....  
 .....

Ahmet Bey'in ne yapması gerekir ?

 Cevap: .....  
 .....

Ahmet Bey hangi giderlerini kısabilir ?

 Cevap: .....  
 .....

Siz olsaydınız sorunu nasıl çözerdiniz ?

 Cevap: .....  
 .....

## Işık kirliliği ve gök cisimleri

❖ Aşağıda ışık kirliliği ve zararları ilgili tümceler kurulmuştur. Tümcelerdeki boşlukları uygun ifadeler ile doldurunuz.

 reklam  
tabelaları

 canlıların  
yaşamını

 yanlış ve  
gereksiz

şehir dışına

 ülke  
ekonomisine

 göçmen  
kuşlar

ışık kirliliğinin

 gökyüzü  
alıştırmaları

- ✚ Geceleyin yıldızlar, köy gibi ..... az olduğu yerlerde daha net görünür.
- ✚ Işık kirliliğinin en büyük nedeni ..... aydınlatmalardır.
- ✚ Işıklı ..... ışık kirliliğine sebep olur.
- ✚ Işık kirliliği nedeniyle ..... yönünü bulamaz.
- ✚ Işık kirliliğinin daha az olduğu yerlerde ..... daha kolay yapılır.
- ✚ Gereksiz aydınlatma ve ışık kirliliği ..... olumsuz etkiler.
- ✚ Gereksiz ışık kullanımı ..... çok büyük zarar verir.
- ✚ Gözlem evleri, ışık kirliliği nedeniyle ..... kurulur.

❖ Aşağıdaki soruları cevaplayınız. Boşluklara doğru cevapları yazınız.

Işık kirliliğinin, gökyüzündeki cisimleri görmemizdeki etkisi nedir ?

.....

.....

Gökyüzü gözlem evleri neden yerleşim yeri dışında kurulur?

.....

.....

Işık kirliliğini önlemek için yapabileceklerimizden bir tanesini yazınız.

.....

.....

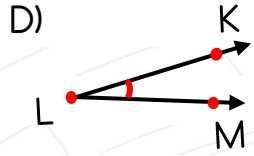
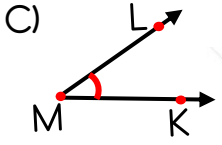
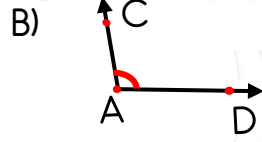
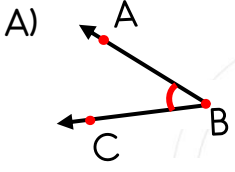
Işık kirliliğinin , canlıların yaşamı üzerindeki olumsuz etkilerine bir örnek veriniz.

.....

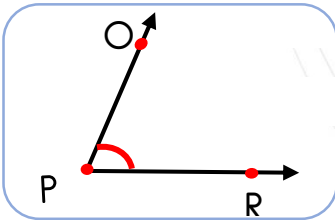
.....

## MINİ TEST

1- Aşağıdakilerden hangisi KLM açısıdır?



2- Aşağıdaki varlıklardan hangisinin yüzeyi düzlem değildir?



3 - Yukarıdaki açının kenarları, aşağıdaki seçeneklerden hangisinde doğru verilmiştir?

- A) HM ve MK ışınları  
B) PO ve PR ışınları  
C) CR ve AB ışınları  
D) JK ve PR ışınları

Bugün yola çıkacağım ( ) Akşam erken ( )  
den uyumalıyım. Bursa ( ) Ankara arası  
üç yüz otuz kilometre.

4- Yay ayraç ile belirtilmiş yerlere sırasıyla hangi noktalama işaretleri gelmelidir?

A) . ? -

B) . - -

C) ! - -

D) . - !

5- Aşağıdakilerden hangisi kısa çizginin kullanıldığı yerler ile ilgili verilen yanlış bir bilgidir?

- A) Kelimeleri hecelerine ayırırken kullanılır.  
B) Satır sonuna sığmayan kelimeleri bölerken kullanılır.  
C) Tarihleri yazarken, rakamların arasına yazılır.  
D) İki kelime arasına "ve" , "veya" anlamı vermek için kullanılır.

kal-em

ek-mek

ma-kas

kil-it

ek-ran

pi-ra-sa

6- Yukarıda, kısa çizgi kullanılarak kelimeler hecelenmiştir. Hecelemlerin kaç tanesi doğru yapılmıştır?

A) İki

B) üç

C) dört

D) beş

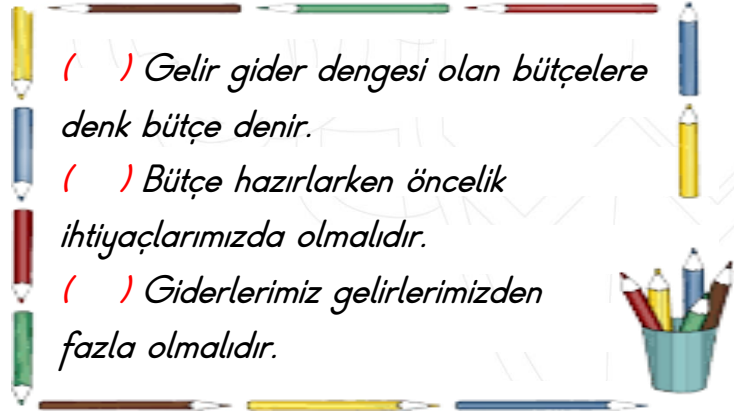


## Elifin haftalık bütçesi

Gider adı	Fiyat
Kantin	25 TL
Kırtasiye	15 TL
Sinema	10 TL
Oyuncak	50 TL

7- Elifin giderleri yukarıda yazıyor. Elif, haftada 70 TL harçlık alıyor. Bu nedenle bazı giderlerini azaltması gerekiyor. Elif nasıl davranmalıdır?

- A) Aynı şekilde devam etmelidir.  
 B) Kırtasiye giderlerinden kısıtlama yapmalıdır.  
 C) Oyuncak giderini azaltıp, bütçesini denk bütçe haline getirmelidir.  
 D) Kantinden alışveriş yapmamalıdır.



( ) Gelir gider dengesi olan bütçelere denk bütçe denir.

( ) Bütçe hazırlarken öncelik ihtiyaçlarımızda olmalıdır.

( ) Giderlerimiz gelirlerimizden fazla olmalıdır.

8- Yukarıdaki tümcelerın doğru olanlarının başına " D " ve yanlış olanlarının başına " Y " koyarsak, sonuç aşağıdaki seçeneklerden hangisi olur?

- A) Y - Y - D                      B) D - D - D  
 C) Y - D - Y                      D) D - D - Y

- I - Gökyüzündeki cisimleri, ışık kirliliğinin az olduğu yerlerden daha rahat görürüz.  
 II- Yanlış aydınlatma ışık kirliliğine neden olur.  
 III- Işık kirliliği canlıların yaşamını etkilemez.  
 IV- Işık kirliliği fazla önemsenecek bir konu değildir.

9- Yukarıdaki tümcelerden hangileri yanlıştır?

- A) I - IV -V                      B) I - II - III  
 C) II - III - IV                      D) III - IV

10- Işık kirliliği, neden gök cisimlerinin görünmesini engeller?

- A) Gök cisimleri ışığı görünce kaybolur.  
 B) Aşırı ışık, gök cisimlerinin görünmesini engeller.  
 C) Işık kirliliği gök cisimlerinin görünmesini engellemez.  
 D) Sadece ışığa baktığımız için gök cisimlerini göremeyiz.

Gözlem evleri, ışık kirliliği nedeniyle ..... kurulur.

11- Yukarıdaki boşluğa ne yazabiliriz?

- A) yerleşim yerlerine                      B) şehir içine  
 C) yerleşim yeri dışına                      D) yüksek yerlere