



ANNELER GÜNÜ

Burak sabah erkenden uyandı çünkü bugün Anneler Günüydü. Annesine güzel bir sürpriz yapmak istiyordu. Önce masaya küçük bir kahvaltı hazırladı. Daha sonra odasına gidip annesi için yaptığı resmi aldı. Resimde annesiyle birlikte el ele yürüdükleri bir park vardı. Burak resmi özenle boyamıştı.



Annesi uyandığında Burak heyecanla yanına koştu. Hazırladığı resmi ve küçük notu annesine verdi. Annesi bu sürpriz karşısında çok duygulandı. Burak'a sarıldı ve ona teşekkür etti. Burak da annesini mutlu ettiği için çok sevindi.

Burak ve annesi birlikte kahvaltı yaptı. Annesi Burak'ın hazırladığı her şeyi çok beğendi. Burak annesine sevgiyle baktı ve onu çok sevdiğini söyledi. O gün ikisi de çok mutlu bir gün geçirdi.

Metni dikkatlice okuyup, soruları cevaplayalım.

1) Burak neden sabah erkenden uyanmıştır?

2) Burak annesi için hangi sürprizleri hazırlamıştır?

3) Burak'ın yaptığı resimde ne vardı?

4) Annesi sürprizi görünce nasıl tepki vermiştir?

5) Aşağıdakilerden hangisi metne göre doğrudur?

- A) Burak annesine oyuncak almıştır.
B) Burak annesiyle kavga etmiştir.
C) Burak annesine sürpriz hazırlamıştır.

T.O.2.3. Okuduklarını çözümleyebilme

Geliştirmeli
(0-1 doğru)

Yeterli
(2 doğru)

İyi
(3 doğru)

Çok İyi
(4-5 doğru)



► “Tebrik kartı yazarken” bölümündeki kurallara dikkat ederek, sınıf başkanı seçilen arkadaşınız için tebrik kartı oluşturalım.

Tebrik kartını yazarken:

- Kime yazdığınızı belirtiniz.
- Neden tebrik ettiğinizi yazınız.
- Verilen ifadeleri kullanarak güzel dileklerinizi tamamlayınız.
- En sona adınızı yazınız.



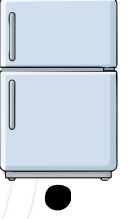


T.Y.2.1. Yazılı anlatım becerilerini Geliştirmeli Yeterli İyi Çok İyi yönetebilme

► Akıl ve zeka oyunları il turnuvasında birinci olan arkadaşınız için tebrik kartı yazalım.



T.Y.2.2. Yazılarında içerik oluşturabilme Geliştirmeli Yeterli İyi Çok İyi

► Aşağıdaki varlıkların kütlelerini tahmin ederek eşleştirelim.



10
gram

4
kilogram



80
kilogram

10
kilogram

200
gram

1
kilogram

► Aşağıdaki varlıkların uzunlukları tahmin ederek eşleştirelim.



5
metre

12
metre

5
santimetre

2
metre

25
santimetre

MAT.2.1.11. Standart uzunluk ve kütle ölçü birimleri cinsinden uzunlukları ve kütleleri tahmin edebilme

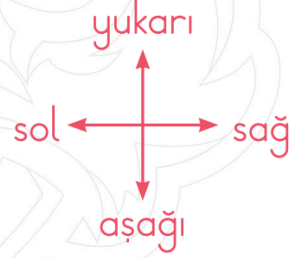
Geliştirmeli
(0-2 doğru)

Yeterli
(3-5 doğru)

İyi
(6-8 doğru)

Çok İyi
(9-11 doğru)

► Aşağıdaki ifadelerde boş bırakılan yerleri verilen krokiye göre dolduralım.



- Okulun oyun parkı vardır.
- Kütüphane ile fırının muhtarlık vardır.
- Fırının muhtarlık vardır.
- Okulun muhtarlık vardır.
- Kütüphanenin muhtarlık vardır.
- Hastanenin okul vardır.
- Muhtarlığın okul vardır.
- Ormanın hastane ve kütüphane vardır.
- Hastane ile oyun parkının okul vardır.
- Hastanenin kütüphane vardır.
- Fırının oyun parkı vardır.

MAT.2.3.6. Mesafe ve yönleri içerecek şekilde hedefe ulaşmak için uygun stratejilere karar verebilim


Geliştirmeli
(0-2 doğru)

Yeterli
(3-5 doğru)

İyi
(6-8 doğru)

Çok İyi
(9-11 doğru)

◆ Aşağıdaki soruları metinlere göre cevaplayalım.



Aziz Sancar bir Türk bilim insanıdır. DNA onarımı üzerine çalışmalar yapmıştır. Bu çalışmalarını sayesinde Nobel Ödülü kazanarak ülkemizi gururlandırmıştır.



Cahit Arf bir matematikçidir. Sayılar ve matematik üzerine çalışmalar yapmıştır. "Arf halkaları" ile tanınır. Türk bilimine önemli katkılar sağlamıştır.



Jale İnan bir bilim insanıdır. Arkeoloji alanında çalışmalar yapmıştır. Eski eserleri incelemiştir. Türkiye'nin ilk kadın arkeologlarından biridir.



İlber Ortaylı bir tarihçidir. Geçmişte yaşanan olayları araştırmıştır. Osmanlı tarihi üzerine çalışmaları vardır. Bilgilerini insanlarla paylaşmıştır.

• İlber Ortaylı hangi alanla ilgilenmiştir?

• Cahit Arf hangi bilim dalında çalışmalar yapmıştır?

• Aziz Sancar ne üzerine çalışmalar yapmıştır?

• Jale İnan hangi alanda çalışmalar yapmıştır?

HB.2.6.1. Bilim insanlarının bilime katkılarını yönelik verilen kaynaklardan bilgi toplayabilme

Geliştirmeli
(0-1 doğru)

Yeterli
(2 doğru)

İyi
(3 doğru)

Çok İyi
(4 doğru)