




MEHMET AKİF ERSOY'UN HAYATI

Mehmet Akif Ersoy 1873'te İstanbul'da doğar. 1893'te Tarım ve Veterinerlik Okulu'nu (Baytar Mektebi) birincilikle bitirir. Çalışma hayatına bugünkü adı Tarım Bakanlığı olan Ziraat Nezaretinde başlar ve 1913 yılına kadar çeşitli görevlerde bulunur. İttihat ve Terakki Cemiyetine üye olur.

Birinci Dünya Savaşı sırasında istihbarat örgütü olan Teşkilat-ı Mahsusa'ya katılarak, çeşitli ülkelerde Osmanlı Devleti'nin yıkılmasını önlemek için çalışır. Ayrıca Anadolu'da işgallere karşı direnen halkla temas kurarak mücadeleye destek verir.

1920'de Ankara'ya gelen Mehmet Akif Ersoy, Burdur milletvekili olarak Büyük Millet Meclisine girer. Bir yıl sonra İstiklal Marş'ını yazar.

Uzun yıllar Kahire'de kalan Mehmet Akif Ersoy, 1936 yılında rahatsızlanarak döndüğü İstanbul'da vefat eder.



İSTİKLAL MARŞ'ININ YAZILMASI

Yeni kurulan devlet için bir "Milli Marş" yazılması hususunda Büyük Millet Meclisi'nin altı ay müddet vererek açtığı "İstiklal Marşı Yarışmasına" çeşitli şairlerin gönderdiği tam 724 şiir gelmişti. Bunlar bir komisyonda incelenmiş ve içlerinden altı tanesi seçilerek Meclis Matbaasında bastırılıp millet vekillerine dağıtılmıştı.



İSTİKLAL MARŞI

Korkma, sönmez bu şafaklarda yüzen al sancak;
Sönmeden yurdumun üstünde tüten en son belak.
O benim milletimin yıldızıdır, parlayacak;
O benimdir, o benim milletimindir ancak.

Maarif Vekili bulunan Hamdullah Suphi Bey, müsabakaya "para ödülü olması yüzünden" katılmamış olan şair Mehmet Akif Bey'e müracaat ederek, yazmasını istemişti. Bunun üzerine Mehmet Akif Bey "Ben millet vekiliyim, yarışmaya katılamam, ayrıca yazarım" diyerek teklifi kabul edip, ikamet etmekte olduğu Taceddin Dergahı'nda, "Kahraman Ordumuza" ithaf ettiği İstiklal Marşı şiirini yazdı.

Nihayet 12 Mart 1337 yani (1921) günü meclisteki oylama sonucu "İstiklal Marşı" olarak kabul edildi ve bütün millet vekilleri ayağa kalkarak Maarif Vekilinin tekrar okuduğu İstiklal Marş'ını, ayakta dinlediler. Bu ayakta dinleyiş aynı zamanda kötü talihini de yenen bir yüce milletin ayağa kalkışıydı.

• Aşağıdaki soruları metne göre cevaplayınız.

1) Mehmet Akif Ersoy nerede ve ne zaman doğdu?

.....
.....

2) Mehmet Akif Ersoy yarışmaya neden katılmak istememiştir?

.....
.....

3) Mehmet Akif Ersoy İstiklal Marş'ını nerede yazmıştır?

.....
.....

4) İstiklal Marş'mız hangi tarihte Milli Marş olarak kabul edilmiştir?

.....
.....



Sebep (Neden) - Sonuç Cümleleri

Bir olay, iş, davranış veya durumun sebepleriyle anlatıldığı cümleler sebep sonuç cümlesi olarak adlandırılır. Cümlelerimizde sebep-sonuç ilişkisi kurarken **"için, çünkü, bunun nedeni, bu yüzden, bunun sonucunda, dolayısıyla"** gibi ifadeler kullanırız. **Bu yüzden** ifadesi olumsuz sonuç bildiren cümleler için kullanılmaz. Sebep - Sonuç bildiren cümleler **"Neden?, Niçin"** sorularına cevap verir.

❖ Aşağıdaki cümlelerden sebep - sonuç ilişkisi olanları işaretleyiniz.

- ★ Bebek uyuduğu için müziğin sesini kapattık.
- ★ Babamla beraber Hacivat ve Karagöz izledik.
- ★ Derya okula geç kaldı çünkü gece geç uyudu.
- ★ Dedem bizi okul bahçesindeki parka götürecektir.
- ★ Çok yağmur yağıyordu bu yüzden yağmurluğumu aldım.

❖ Aşağıda verilen cümlelerin sebep ve sonuçlarını yazınız.

1) Kar topu oynamak için bahçeye çıkmıyorum çünkü çok üşüyorum.

Sebep 

Sonuç 


2) Gece geç saatlere kadar oyun oynadığı için okula geç kaldı.

Sebep 


Sonuç 

3) Seninle kütüphaneye gelemeyeceğim çünkü babama yardım edeceğim.

Sebep 

Sonuç 

4) Buğra koşarken bileğini burktu bu nedenle yarın koşu yarışmasına katılamayacak.

Sebep 

Sonuç 

❖ Aşağıdaki toplama işlemlerini karşılığı olan çarpma işlemleri ile eşleştiriniz

A	$3+3+3+3$
B	$4+4+4+4+4$
C	$8+8+8$
D	$7+7+7+7$
E	$6+6$
F	$1+1+1+1+1$
G	$2+2+2$
H	$9+9+9+9+9$

<input type="radio"/>	2×6
<input type="radio"/>	5×9
<input type="radio"/>	4×3
<input type="radio"/>	3×8
<input type="radio"/>	5×1
<input type="radio"/>	5×4
<input type="radio"/>	4×7
<input type="radio"/>	3×2

❖ Verilen nesne sayılarını toplama ve çarpma işlemi yaparak bulunuz.



Toplama: + + + =

Çarpma: x =



Toplama: + + =

Çarpma: x =



Toplama: + =

Çarpma: x =




Toplama: + + + =

Çarpma: x =



Toplama: + + =

Çarpma: x =



Toplama: + =

Çarpma: x =

❖ Aşağıda alt alta verilen çarpma işlemlerini yapınız.

$$\begin{array}{r} 4 \\ \times 4 \\ \hline \end{array}$$

$$\begin{array}{r} 10 \\ \times 3 \\ \hline \end{array}$$

$$\begin{array}{r} 10 \\ \times 1 \\ \hline \end{array}$$

$$\begin{array}{r} 1 \\ \times 1 \\ \hline \end{array}$$

$$\begin{array}{r} 4 \\ \times 5 \\ \hline \end{array}$$

$$\begin{array}{r} 7 \\ \times 5 \\ \hline \end{array}$$

$$\begin{array}{r} 5 \\ \times 1 \\ \hline \end{array}$$

$$\begin{array}{r} 5 \\ \times 2 \\ \hline \end{array}$$

$$\begin{array}{r} 9 \\ \times 5 \\ \hline \end{array}$$

$$\begin{array}{r} 9 \\ \times 4 \\ \hline \end{array}$$

$$\begin{array}{r} 2 \\ \times 3 \\ \hline \end{array}$$

$$\begin{array}{r} 6 \\ \times 5 \\ \hline \end{array}$$

$$\begin{array}{r} 3 \\ \times 5 \\ \hline \end{array}$$

$$\begin{array}{r} 2 \\ \times 1 \\ \hline \end{array}$$

$$\begin{array}{r} 8 \\ \times 2 \\ \hline \end{array}$$

$$\begin{array}{r} 6 \\ \times 3 \\ \hline \end{array}$$

$$\begin{array}{r} 3 \\ \times 2 \\ \hline \end{array}$$

$$\begin{array}{r} 9 \\ \times 2 \\ \hline \end{array}$$

$$\begin{array}{r} 5 \\ \times 5 \\ \hline \end{array}$$

$$\begin{array}{r} 3 \\ \times 4 \\ \hline \end{array}$$

❖ Aşağıda yan yana verilen çarpma işlemlerini yapınız.

$8 \times 4 =$

$10 \times 4 =$

$3 \times 1 =$

$9 \times 4 =$

$9 \times 3 =$

$6 \times 2 =$

$9 \times 3 =$

$10 \times 3 =$

$1 \times 2 =$

$3 \times 4 =$

$6 \times 3 =$

$8 \times 4 =$

$4 \times 5 =$

$1 \times 1 =$

$2 \times 3 =$

$4 \times 1 =$

$4 \times 3 =$

$7 \times 5 =$

$8 \times 4 =$

$5 \times 4 =$

$4 \times 5 =$

❖ Aşağıdaki cümlelerden doğru olanların başına 'D' yanlış olanların başına 'Y' yazınız.

(.....) Trafik kuralları sadece taşıtlar için geçerlidir.

(.....) Sadece uzun yolculuklarda emniyet kemeri takmalıyız.

(.....) Araçla yolculuk yaparken ayakta durmamalıyız.

(.....) Traktör, kamyon gibi üstü açık araçlarla seyahat etmek güvenlidir.

(.....) Araçlarda şoförü meşgul etmemeliyiz.

(.....) Toplu taşıma araçlarında hamile yaşlı ve gazilere yer vermeliyiz.

(.....) Emniyet kemeri büyükler içindir.

(.....) Çocuklar araçların ön koltuğuna oturmamalıdır.

MİNİ TEST

1) Aşağıdakilerden hangisi hava yolu taşıtı değildir?



2)

tren	kamyon	metro	vapur
------	--------	-------	-------

Yukarıdaki ulaşım araçlarından kaç tanesi raylar üzerinde hareket eder?

A) iki B) üç C) dört

3) Aşağıdakilerden hangisi toplu taşıma araçlarında uymamız gereken kurallardandır?

- A) Araçlara ön kapıdan binmek
- B) Yolculuk sırasında yüksek sesle müzik dinlemek
- C) Pencereden sarkmak

4) Çocuklar, hangi yaşa gelene kadar arka koltukta ve çocuk güvenlik koltuğunda oturmak zorundadır?

A) 11 B) 12 C) 13

5) Aşağıdaki çocuklardan hangisi serviste uyması gereken kurallara uygun hareket etmektedir?



Servis aracında ayakta yolculuk yaparım.



Servis aracında yerimde otururum.



Servis aracında başımı pencereden çıkartırım.

www.ilkokulluyum.com