

AT İLE KURT

Atın biri çayırdaki otlarken, uzaktan bir kurdun geldiğini görmüş.

Kurdun kendisini yiyeceğini anlayınca yalancıkta topallamaya başlamış. Kurt iyice yaklaşmış:

-Ne oldu sana böyle, niçin topallıyorsun? diye sormuş.

At:

-Bir tarladan geçiyordum, ayağıma diken

battı. Beni nasıl olsa yiyeceksin. Bari şu dikenin çıkar da ağzını acıtmasın, demiş.

Kurt, dikenin çıkarmak için atın ayağını kaldırmış. Dikenin aramaya başlamış. Tam o sırada at, kurdun ağzına bir çifte vurmuş. Kurdun dişlerini döküvermiş. At arkasına bakmadan oradan uzaklaşmış.

Ağzı burnu kan içinde atın gidişini seyreden kurt:

-Oh olsun bana. Kasaplık dururken, doktorluk benim neyime, demiş.



❖ Aşağıdaki soruları metne göre cevaplayınız.

1) Hikâyede hangi hayvanlar geçmektedir?

Hikâyede at ve kurt geçmektedir.

2) At çayırdaki ne yapıyordu?

At çayırdaki otlayordu.

3) At niçin topallamış?

Kurdun kendisini yiyeceğini anlayınca yalancıkta topallamaya başlamış.

4) At, kurdun neresine vurmuş?

At, kurdun ağzına vurmuş.

5) Atın kaçışını seyreden kurt ne demiş?

'Oh olsun bana. Kasaplık dururken, doktorluk benim neyime.' demiş.

❖ Aşağıdaki kelimelerin zıt anlamlarını karşılıklarına yazınız.

sıcak

soğuk

gündüz

gece

yakın

uzak

koyu

açık

tok

aç

yoksul

zengin

barış

savaş

geri

ileri


❖ Aşağıdaki ön adları (sıfat) birer cümle içinde kullanınız.

kırmızı kalem	→	Kırtasiyeden kırmızı kalem aldım.
iki kitap	→	Bu hafta iki kitap okudum.
üçgen çadır	→	Kampa gideceğimiz için üçgen çadır aldık.
kırık cam	→	Salondaki kırık cam elimi kesti.
yeni mont	→	Kardeşime aldığımız yeni mont sarı renkte.
yaş pasta	→	Annem doğum günüm için yaş pasta yapmış.
yaramaz çocuk	→	Yaramaz çocuk bütün çiçekleri koparmış.
minik kedi	→	Bahçedeki minik kediye süt verdim.
acı biber	→	Babam acı biber yemeyi çok seviyor.
yarım ekmek	→	Efe kahvaltıda yarım ekmek yedi.

❖ Aşağıdaki sıfatların, isimlerin hangi özelliklerini belirttiğini işaretleyiniz.

	RENK	SAYI	BİÇİM	DURUM
üç kalem		X		
mavi balon	X			
çalışkan çocuk				X
üçgen peynir			X	
hızlı araba				X

❖ 10 kuşu 2 yuvaya eşit paylaşalım.



$$10 - 2 = 8 \quad \textcircled{1}$$

$$\begin{array}{r} 8 \\ - 2 \\ \hline 6 \end{array} \quad \textcircled{2}$$

$$\begin{array}{r} 6 \\ - 2 \\ \hline 4 \end{array} \quad \textcircled{3}$$

$$\begin{array}{r} 4 \\ - 2 \\ \hline 2 \end{array} \quad \textcircled{4}$$


$$\begin{array}{r} 2 \\ - 2 \\ \hline 0 \end{array} \quad \textcircled{5}$$

..... gruba ayrıldı

$$\begin{array}{r} 10 \\ 2 \overline{) 10} \\ \underline{10} \\ 0 \end{array}$$

$$10 \div 2 = \dots\dots 5$$

❖ 9 havucu 3 tavşana eşit paylaşalım.



$$\begin{array}{r} 9 \\ - 3 \\ \hline 6 \end{array} \quad \textcircled{1}$$

$$\begin{array}{r} 6 \\ - 3 \\ \hline 3 \end{array} \quad \textcircled{2}$$


$$\begin{array}{r} 3 \\ - 3 \\ \hline 0 \end{array} \quad \textcircled{3}$$

..... gruba ayrıldı

$$\begin{array}{r} 9 \\ 3 \overline{) 9} \\ \underline{9} \\ 0 \end{array}$$

$$9 \div 3 = \dots\dots 3$$

❖ 12 elmayı 3 tabağa eşit paylaşalım.



$$\begin{array}{r} 12 \\ - 3 \\ \hline 9 \end{array} \quad \textcircled{1}$$

$$\begin{array}{r} 9 \\ - 3 \\ \hline 6 \end{array} \quad \textcircled{2}$$

$$\begin{array}{r} 6 \\ - 3 \\ \hline 3 \end{array} \quad \textcircled{3}$$

$$\begin{array}{r} 3 \\ - 3 \\ \hline 0 \end{array} \quad \textcircled{4}$$

..... gruba ayrıldı

$$\begin{array}{r} 12 \\ 3 \overline{) 12} \\ \underline{12} \\ 0 \end{array}$$

$$12 \div 3 = \dots\dots 4$$

❖ 15 topu 5 çocuğa eşit paylaşalım.



$$\begin{array}{r} 15 \\ - 5 \\ \hline 10 \end{array} \quad \textcircled{1}$$

$$\begin{array}{r} 10 \\ - 5 \\ \hline 5 \end{array} \quad \textcircled{2}$$

$$\begin{array}{r} 5 \\ - 5 \\ \hline 0 \end{array} \quad \textcircled{3}$$

..... gruba ayrıldı

$$\begin{array}{r} 15 \\ 5 \overline{) 15} \\ \underline{15} \\ 0 \end{array}$$

$$15 \div 5 = \dots\dots 3$$

❖ Aşağıdaki bölme işlemlerini yapınız.

$$\begin{array}{r|l} 16 & 4 \\ \hline 16 & 4 \\ \hline 0 & \end{array} \quad \begin{array}{r|l} 25 & 5 \\ \hline 25 & 5 \\ \hline 0 & \end{array} \quad \begin{array}{r|l} 42 & 6 \\ \hline 42 & 7 \\ \hline 0 & \end{array} \quad \begin{array}{r|l} 36 & 6 \\ \hline 36 & 6 \\ \hline 0 & \end{array} \quad \begin{array}{r|l} 32 & 4 \\ \hline 32 & 8 \\ \hline 0 & \end{array} \quad \begin{array}{r|l} 18 & 3 \\ \hline 18 & 6 \\ \hline 0 & \end{array}$$

$$\begin{array}{r|l} 20 & 4 \\ \hline 20 & 5 \\ \hline 0 & \end{array} \quad \begin{array}{r|l} 49 & 7 \\ \hline 49 & 7 \\ \hline 0 & \end{array} \quad \begin{array}{r|l} 72 & 9 \\ \hline 72 & 8 \\ \hline 0 & \end{array} \quad \begin{array}{r|l} 48 & 8 \\ \hline 48 & 6 \\ \hline 0 & \end{array} \quad \begin{array}{r|l} 36 & 4 \\ \hline 36 & 9 \\ \hline 0 & \end{array} \quad \begin{array}{r|l} 21 & 3 \\ \hline 21 & 7 \\ \hline 0 & \end{array}$$

$$\begin{array}{r|l} 28 & 4 \\ \hline 28 & 7 \\ \hline 0 & \end{array} \quad \begin{array}{r|l} 16 & 2 \\ \hline 16 & 8 \\ \hline 0 & \end{array} \quad \begin{array}{r|l} 20 & 5 \\ \hline 20 & 4 \\ \hline 0 & \end{array} \quad \begin{array}{r|l} 54 & 6 \\ \hline 54 & 9 \\ \hline 0 & \end{array} \quad \begin{array}{r|l} 12 & 3 \\ \hline 12 & 4 \\ \hline 0 & \end{array} \quad \begin{array}{r|l} 18 & 2 \\ \hline 18 & 9 \\ \hline 0 & \end{array}$$

❖ Aşağıdaki bölme işlemlerini yapınız.

$9 \div 3 = \dots\dots 3$

$10 \div 5 = \dots\dots 2$

$20 \div 5 = \dots\dots 4$

$35 \div 5 = \dots\dots 7$

$12 \div 2 = \dots\dots 6$

$12 \div 3 = \dots\dots 4$

$28 \div 4 = \dots\dots 7$

$36 \div 4 = \dots\dots 9$

$24 \div 3 = \dots\dots 8$

$30 \div 5 = \dots\dots 6$

$24 \div 4 = \dots\dots 6$

$10 \div 2 = \dots\dots 5$

$15 \div 3 = \dots\dots 5$

$45 \div 5 = \dots\dots 9$

$40 \div 5 = \dots\dots 8$

$50 \div 5 = \dots\dots 10$

$14 \div 2 = \dots\dots 7$

$18 \div 3 = \dots\dots 6$

$20 \div 4 = \dots\dots 5$

$24 \div 3 = \dots\dots 8$

$8 \div 2 = \dots\dots 4$

$16 \div 4 = \dots\dots 4$

$36 \div 6 = \dots\dots 6$

$16 \div 4 = \dots\dots 4$

TÜRKİYE İLLER HARTASI



❖ Haritada numaralandırılmış denizleri isimleri ile eşleştiriniz.

1 KARADENİZ

3 AKDENİZ

2 EGE DENİZİ

❖ Ülkemizin komşularını aşağıdaki boşluklara yazınız.

Yunanistan

Bulgaristan

Suriye

Irak

İran

Nahçıvan

Ermenistan

Gürcistan

❖ Aşağıdaki soruların cevaplarını bulmacada gösterilen yerlere yazınız.

1) Ülkemizin adı nedir?

2) Başkentimizin adı nedir?

3) Ülkemizin topraklarının çoğu hangi kıtada bulunur?

4) Ülkemizin sınırları içinde bulunan denizin adı nedir?

