

12
Günlük
Plan

KESİF TAKIMI

TATILDE

MÜFREDATA
TAM UYUMLU

2 ADET 1. DÖNEM
DEĞERLENDİRME
TESTİ

ÇÖZÜMLER İÇİN
KAREKOD DESTEKLİ

YENİ NESİL

SÜREÇ
DEĞERLENDİRME
TESTİ

4
SINIF

 **LKOKULLUYUM**
YAYINLARI



FOSİLLER



Fosiller, milyonlarca yıl önce yaşamış canlıların taşlaşmış kalıntıları ya da izleridir. Bir zamanlar denizlerde yüzen balıklar, ormanlarda dolaşan dinazorlar veya yapraklarını toprağa bırakan ağaçlar zamanla toprak altında kalır. Bu canlıların kemikleri, kabukları veya ayak izleri yüzyıllar içinde taşlaşarak fosile dönüşür. Bilim insanları, bu fosilleri **özel** kazılar yaparak çıkarır. Fosiller incelendiğinde o canlıların nasıl yaşadıkları,

neyle beslendikleri hatta hangi dönemde yaşadıkları öğrenilir. Böylece insanlar, Dünya'nın **geçmişini** ve canlıların zaman içindeki değişimini anlayabilir. Bazı fosiller çok küçük bir yaprak kadar, bazıları ise dev bir dinazor kemiği kadar **büyüktür**. Fosillerin her biri, geçmişe açılan bir pencere gibidir.

→ Aşağıdaki 1, 2 ve 3. soruları metne göre cevaplayalım.

1. "Fosiller" metninin türü aşağıdakilerden hangisidir?

- A) Hikâye edici metin
- B) Bilgilendirici metin
- C) Şiir
- D) Dramatik metin

2. Metinde kırmızı ile yazılan sözcüklerin zıt (karşıt) anlamlıları aşağıdakilerden hangisidir?

- A) Genel, gelecek, kısa
- B) Genel, görmüş, küçük
- C) Genel, gelecek, küçük
- D) Özgü, gelecek, kısa

3. Metne göre fosillerle ilgili verilen aşağıdaki bilgilerden hangisi yanlıştır?

- A) Fosiller, geçmişte yaşamış canlıların taşlaşmış kalıntılarıdır.
- B) Fosiller, canlıların nasıl yaşadıkları ve neyle beslendikleri hakkında bilgi verir.
- C) Fosillerin incelenmesiyle Dünya'nın geçmişi hakkında bilgiler edinilir.
- D) Fosiller, yalnızca denizlerde yaşayan canlılardan oluşur.



1. HAFTA DEĞERLENDİRME TESTİ

4.



Aşağıdaki cümlelerde altı çizili ifadelerin hangisinin yerine verilen ifade getirildiğinde cümledeki anlam değişmez?

- A) Doğum gününe seni de götüreceğim, umarım gelirsin.
- B) Öğretmenimiz, 23 Nisan gösterisine velileri de çağırdı.
- C) Kardeşimin yıl sonunda tiyatro gösterisi olacak.
- D) Oyuncaklar bir anda yere devrildi.

5. Aşağıdaki cümlelerin hangisinde yazım yanlışı yapılmamıştır?

- A) bu gün parka gittim ve arkadaşlarımla oyun oynadım.
- B) Bugün hava çok güzeldide sonradan yağmur başladı.
- C) Yarın annemle alışverişe çıkıcam, kalemlik alacam.
- D) Bugün, okulda fen dersinde deney yaptık.

6. Aşağıdaki cümlelerden hangisinde noktalama işaretleri yanlış kullanılmıştır?

- A) Yaşasın! Tatile çıkıyoruz.
- B) Atatürk, "En büyük eserim Cumhuriyet'tir." dedi.
- C) Öğretmenim, ödevimi bitirdim?
- D) Ne güzel bir şiir okudun!

7. Cumartesi günü Elif, en sevdiği kırmızı topunu parka götürdü. Oynarken topu çalılıkların arasına kaçtı. Topunu uzun süre aradı ama bulamadı. Ertesi gün parka gittiğinde topunu bir kedinin yanında buldu.

Bu hikâyenin unsurları aşağıdakilerden hangisinde doğru verilmiştir?

- | | | |
|-------------------|--------------|--------------------|
| A) Kahraman: Elif | Yer: Park | Zaman: Hafta sonu |
| B) Kahraman: Kedi | Yer: Ev | Zaman: Akşam |
| C) Kahraman: Top | Yer: Çalılık | Zaman: Sabah |
| D) Kahraman: Elif | Yer: Bahçe | Zaman: Geçen hafta |



8. “Kutunun içi tamamen dolu, artık başka bir şey sığmaz.”

Bu cümlede koyu renkle yazılmış eş sesli sözcüğün diğer anlamıyla kullanıldığı cümle aşağıdakilerden hangisidir?

- A) Otobüsün içi çok dolu olduğu için binemedim.
B) Bu çantan neden böyle dolu?
C) Bugün çok şiddetli dolu yağdı, arabalar bile ıslandı.
D) Peteğin içi arı dolu.

9. Çocuklar, teneffüste oyun oynadılar.

Kuşlar, pencereimin önünde ötüyor.

Güzel çok resim Elif yaptı.

Pazara gidip ekmek almadı süt.

Yukarıdakilerden kaç tanesi anlamlı ve kurallı cümledir?

- A) 1 B) 2 C) 3 D) 4

10. **KÜMES**
Tavuklar haykırıyor,
Gıdak gıdak gıt gıdak.
Nasıl boyun kırıyor,
Şu çapkın horoza bak.

Baba hindi kabarmış,
Ne büyüklük, ne gurur,
Hep kendini yaz ve kış,
Böyle metheder durur.

Yine yalpa vurarak,
Dolaşiyor ördekler.
Su başında durarak,
Karşıya yüzecekler.

Kazların hiç doymayan,
Kursakları ambardır.
Çekilir mi bu hayvan?
Ne çirkin sesi vardır.
Yaşar Nabi NAYIR



“Kümes” şiiri ile ilgili verilen bilgilerden hangisi yanlıştır?

- A) Metnin türü şiidir.
B) Metin, 4 kıta ve 15 mısradan oluşmuştur.
C) Yaşar Nabi Nayır, metnin şairidir.
D) Metnin konusu, kümes hayvanlarının davranışları ve yaşamıdır.

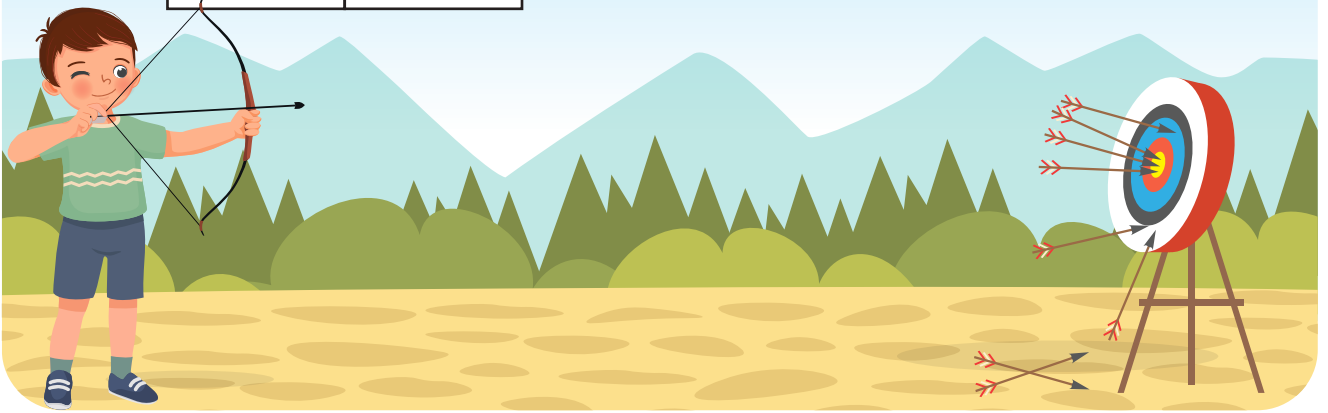


1. HAFTA DEĞERLENDİRME TESTİ

1.

Renk	Puan
Beyaz	-100
Siyah	20
Mavi	50
Kırmızı	100
Sarı	200

Mete, ok atma etkinliğinde hedef tahtasına 7 ok fırlatıyor. Hedefte 5 farklı renkli bölge bulunuyor ve her rengin puan değeri yandaki gibidir.



Mete, sırasıyla mavi – sarı – beyaz – kırmızı – sarı – siyah – mavi renklerini vuruyor.

Mete'nin vurduğu bölgelere göre toplam puanı kaçtır?

- A) 470 B) 490 C) 520 D) 540

2. "Elli dört bin yüz altmış beş" sayısı ile ilgili aşağıdaki ifadelerden hangisi yanlıştır?

- A) On binler basamağındaki rakam 5'tir.
B) Yüzler basamağındaki rakam 6'dır.
C) Binler basamağındaki rakam 4'tür.
D) Sayı, 54 165'tir.

3. $(25 \times 37) \times \text{☀} = 37 \times (10 \times \text{★})$

Yukarıdaki eşitliği sağlayan değerler aşağıdakilerin hangisinde doğru verilmiştir?

- A) ☀ 10 ★ 37
B) ☀ 25 ★ 10
C) ☀ 10 ★ 25
D) ☀ 37 ★ 10

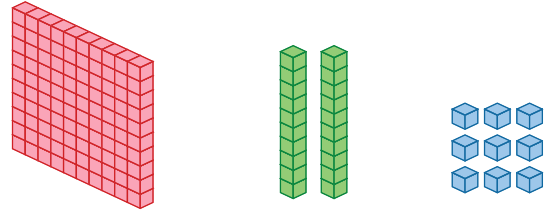
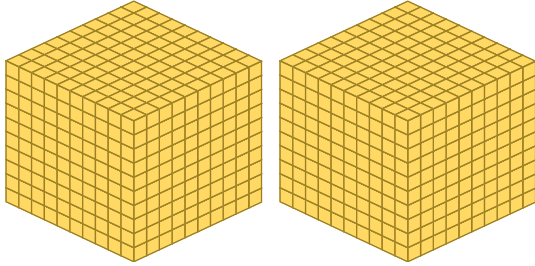


Sayı	Onluğa Yuvarlama	Yüzlüğe Yuvarlama
5284	5280	5300
7851	7860	7900
2436	2440	2400
4345	4340	4300

Tabloda verilen sayılardan hangisi yuvarlanırken yanlışlık yapılmıştır?

- A) 5284 B) 7851
C) 2436 D) 4345

6.



Yukarıda bloklarla modellenen sayının yazılışı aşağıdakilerden hangisidir?

- A) Bin yüz otuz dokuz B) Bin iki yüz on dokuz
C) İki bin yüz yirmi dokuz D) İki bin iki yüz yirmi dokuz

7. Aşağıdaki işlemlerde sayılar en yakın olduğu yüzlüğe yuvarlanıp tahminî sonuçları bulunacaktır.

$$6234 - 2347 = \text{butterfly}$$

$$7516 - 1568 = \text{fish}$$

- işleminin sonucu kaçtır?

- A) 2000 B) 2061 C) 2100 D) 2161



1. HAFTA DEĞERLENDİRME TESTİ

8.

$$\begin{array}{r} 27 \\ \times 36 \\ \hline \end{array}$$

$$\begin{array}{r} 395 \\ \times 41 \\ \hline \end{array}$$

$$\begin{array}{r} 461 \\ \times 20 \\ \hline \end{array}$$

$$\begin{array}{r} 918 \\ \times 9 \\ \hline \end{array}$$

Yukarıdaki çarpma işlemlerinin sonuçları, büyükten küçüğe doğru sıralandığında balonların sıralaması nasıl olur?



9.



Yukarıda verilen şekillere göre sayıları küçükten büyüğe doğru sıralarsak sıralama nasıl olur?



10.

$$\begin{array}{r} 4257 \\ - 1234 \\ \hline \dots\dots\dots \end{array}$$

$$\begin{array}{r} \dots\dots\dots \\ + 2765 \\ \hline \dots\dots\dots \end{array}$$

$$\begin{array}{r} \dots\dots\dots \\ - 3687 \\ \hline \dots\dots\dots \end{array}$$

Yukarıdaki işlemlere göre son işlemin sonucu aşağıdakilerden hangisidir?

A) 961

B) 2101

C) 6413

D) 9475

1.



Görseldeki maden ile ilgili verilen bilgilerden hangisi yanlıştır?

- A) Takı ve süs eşyası yapımında kullanılır.
- B) Elektronik aletlerin bazı parçalarında bulunur.
- C) Yer kabuğunda bol miktarda bulunur.
- D) Değerli bir maden olan altın madenidir.

2.



Yukarıdaki cümlede boş bırakılan yere gelmesi gereken meslek adı aşağıdakilerden hangisidir?

- A) Jeoloğum
- B) Paleontoloğum
- C) Astronomum
- D) Arkeoloğum

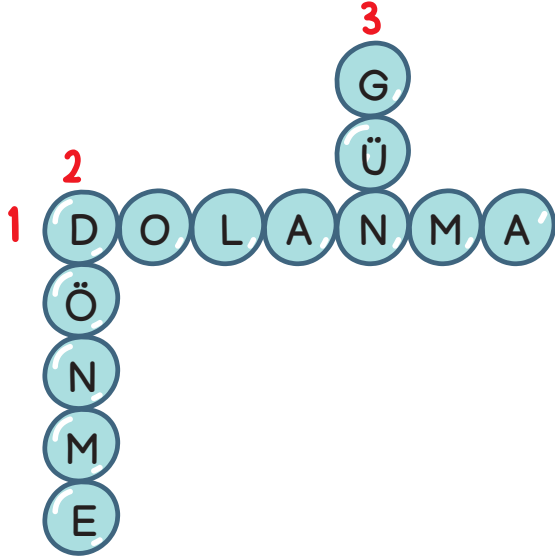
3.



Yukarıda verilen yiyecekler hangi besin ögesi bakımından zengindir?

- A) Yağ
- B) Protein
- C) Karbonhidrat
- D) Su ve mineraller

4. Sıla, fen bilimleri dersinde Dünya'nın hareketleri konusu ile ilgili bir bulmaca hazırlamıştır ancak bulmacayı hazırlarken bir hata yapmıştır.



1. Dünya'nın kendi etrafında yaptığı harekettir.

2. Dünya'nın, Güneş etrafında yaptığı harekettir.

3. Dünya'nın kendi etrafında dönmesi sonucu gerçekleşen bir olaydır.

Sıla'nın yaptığı hata aşağıdakilerden hangisidir?

- A) Bir numaralı kavramı yanlış yazmıştır.
B) İki numaralı kavramı yanlış yazmıştır.
C) Üç numaralı kavramı yanlış yazmıştır.
D) 1 ve 2 numaralı açıklamanın yerini karıştırmıştır.
5. Dünya'mızın hareketleri konusu ile ilgili verilen bilgilerden hangisi doğrudur?
- A) Dünya'nın Güneş etrafında bir tam tur dolanması sonucu gece ve gündüz oluşur.
B) Dünya'nın kendi etrafında yaptığı hareket dolanma hareketidir.
C) Dünya'nın kendi etrafında dönmesi ile geçen süre 24 saattir.
D) Dünya'nın Güneş gören kısımları geceyi yaşar.

1. Aşağıda Millî Mücadele Dönemi ile ilgili üç bilgi verilmiştir:

Anadolu'da halkın direnişini örgütlemek için çeşitli cemiyetler kurulmuştur.

Mustafa Kemal, halkı bilinçlendirmek için Samsun, Havza ve Amasya'da çalışmalar yapmıştır.

Türkiye Büyük Millet Meclisi, ulusal egemenliği sağlamak amacıyla açılmıştır.

Bu bilgilere göre aşağıdaki yorumlardan hangisine ulaşılabilir?

- A) Halk, bağımsızlık mücadelesini yalnızca cephede sürdürmüştür.
 B) Millî Mücadele, sadece askerî alanda değil; siyasî ve toplumsal alanda da yürütülmüştür.
 C) Mustafa Kemal'in tek amacı yeni şehirler kurmaktır.
 D) Cemiyetler, halkın birliğini bozmuş ve karışıklık çıkarmıştır.

2. Aşağıdakilerden hangisi millî kültür öğelerimiz arasında yer almaz?

A)



Selimiye Camii

B)



Topkapı Sarayı

C)



Eyfel Kulesi

D)



Sultanahmet Camii

3. Bir öğrenci, defterine şu notu yazmıştır:

○, Antep'te düşmana karşı kahramanca savaşmış; vatanını savunurken şehit olmuştur. Onun direnişiyle bir şehir "Gazi" ünvanını almıştır.

Bu notta sözü edilen Millî Mücadele kahramanı aşağıdakilerden hangisidir?

A) Şahin Bey

B) Nene Hatun

C) Kara Fatma

D) Halide Edip Adivar

4.

Parmak
izimiz

Kan
grubumuz

Annemizin
adı

Kimlik
numaramız

Yukarıda verilen bilgilerden kaç tanesi kimlik kartımızın üzerinde yazar?

A) 1

B) 2

C) 3

D) 4

5.

Saklambaç

Bilgisayar
oyunu

Mendil
Kapmaca

Seksek

I.

II.

III.

IV.

Yukarıdakilerden hangileri geleneksel Türk çocuk oyunlarından?

A) I ve II

B) I, III ve IV

C) II ve IV

D) III ve IV



2. HAFTA DEĞERLENDİRME TESTİ



Bir sabah, Arda okula giderken güneş pırl pırl parlıyordu. Her zamanki gibi gölgesi arkasından geliyordu. Ama okulun kapısına geldiğinde gölgesinin kaybolduğunu fark etti. Gölgesi yoktu! Arda şaşkınlıkla etrafına baktı. “Bu nasıl olur?” diye mırıldandı. O anda yanına yaşlı bir adam yaklaştı. Adam gülümseyip:

- Gölgen, tembelliği bırakıp senden önce okula gitti galiba! dedi.

Arda bu söze hem güldü hem de utandı. Çünkü son zamanlarda ödevlerini hep erteliyordu. “Demek ki çalışkan olmayanın gölgesi bile kaçır.” diye düşündü. O günden sonra derslerine daha çok çalıştı. Bir hafta sonra sabah okula giderken yere baktı ve gölgesini yeniden gördü. Güneşin altında sanki gölgesi ona gülümsüyordu. Arda içinden, “**Emek olmadan yemek olmaz.**” diye geçirdi.

→ Aşağıdaki 1, 2 ve 3. soruları metne göre cevaplayalım.

1. Metinde geçen ifadelerden hangisi gerçek unsur içermektedir?

- A) “Gölgen, tembelliği bırakıp senden önce okula gitti galiba!”
- B) “O günden sonra derslerine daha çok çalıştı.”
- C) “Ama okulun kapısına geldiğinde birden fark etti: Gölgesi yoktu!”
- D) “Demek ki çalışkan olmayanın gölgesi bile kaçır.”

2. Metinden çıkarılabilecek en doğ-
ru sonuç aşağıdakilerden hangi-
sidir?

- A) Rüzgârlı havalarda gölgeler kaybolabilir.
- B) Çalışkan insanlar emeklerinin karşılığını mutlaka alır.
- C) Gölgesini kaybeden herkes onu aramalıdır.
- D) Yaşlı insanlar her zaman hayalî sözler söyler.

3. Metinde koyu harflerle yazılmış atasözünün anlamı hangisidir?

- A) Değersiz görünen şeyler bile zamanı gelince faydalı olabilir.
- B) Çalışmadan, emek vermeden hiçbir şey elde edilemez.
- C) Küçük yaşta verilen eğitim ve alışkanlıklar kalıcıdır.
- D) Çalışan insan kendini geliştirir, tembel olan geriler.

4. Aşağıdaki cümlelerin hangisinde gerçek, mecaz ve terim anlamlı sözcükler bir arada kullanılmıştır?

- A) Futbolcular sahada terlerken güneş de tepedeydi.
- B) Kalemim yazmıyor, sanki küsmüş gibi duruyor.
- C) Kalbim çok hızlı atıyordu, doktor hemen EKG çekti.
- D) Bilgisayarım dondu, bu yüzden futbol maçını izleyemedim.

5. Aşağıdaki cümlelerde "ki" sözcüğünün ek mi yoksa bağlaç mı olduğu belirtilmiştir.

Buna göre hangisinde verilen bilgi yanlıştır?

- A) Dünkü film çok güzeldi. → Ek.
- B) O kadar yorgundum ki hemen uyudum. → Bağlaç.
- C) Bahçedeki çiçekler çok güzel kokuyor. → Ek.
- D) Annem diyor ki bugün dışarı çıkmayalım. → Ek.

6. Aşağıdaki cümlelerin hangisinde "de-da" bağlacının yazımı ile ilgili bir yanlışlık yapılmıştır?

- A) Okulda çok eğlendik, sen de keşke orada olsaydın.
- B) Eşyalarım sende kalabilir, bende gidiyorum.
- C) Soruları güzelce oku da öyle cevapla.
- D) Hafta sonunu evde geçirdim.

7.

Çok kitap okuduğu için

Elini kesmesin diye

Elektrikler kesildiği için

Verilen neden ifadeleri aşağıdaki hangi sonuç ifadesi ile eşleştiremez?

- A) bıçağı dikkatlice tuttu.
- B) televizyon kapanmış.
- C) sözcük hazinesi gelişti.
- D) içeri soğuk hava girdi.

8. Sabah **alarm** çaldığında Zeynep hemen uyandı. Kahvaltıdan sonra ödevini yapmak için **laptopunu** açtı. Bir süre **internetten** araştırma yaptı.

Bu metinde renkli yazılmış yabancı kökenli kelimelerin Türkçe karşılıkları sırasıyla aşağıdakilerin hangisinde doğru verilmiştir?

- A) çan, masa, bilgisayar
B) uyarı, dizüstü bilgisayar, genel ağ
C) ses, araç, kablo
D) uyarı, ekran, bilgi

9. Bir öğrenci, "Kesme İşareti" kurallarını defterine aşağıdaki cümlelerle yazmıştır.

I. Özel isimlere gelen ekler, kesme işaretiyle ayrılır.

II. Kısaltmalara gelen eklerde kesme işareti kullanılır.

III. Cümle başındaki sözcüklere ek gelirse kesme işareti konur.

IV. Tarihlerde gün ve aya getirilen ekler kesme işaretiyle ayrılır.

Buna göre hangi cümlede kesme işaretinin kullanım kuralı yanlış verilmiştir?

- A) I
B) II
C) III
D) IV

10.

1

Kalemim, senin kalemine göre daha kısa.

2

Çocuk, rüzgâr gibi koşuyordu.

3

Bazı sporlar, mesela futbol ve basketbol, takım ruhunu geliştirir.

Numaralanmış cümlelerle ilgili aşağıdaki bilgilerden hangisi doğrudur?


- A) 1 numaralı cümle karşılaştırma cümlesidir.
B) 2 numaralı cümle örneklendirme cümlesidir.
C) 3 numaralı cümle benzetme cümlesidir.
D) Hepsi karşılaştırma cümlesidir.



2. HAFTA DEĞERLENDİRME TESTİ

1. Okulda düzenlenen kermeste gün boyu satılan ürün sayıları aşağıda verilmiştir.

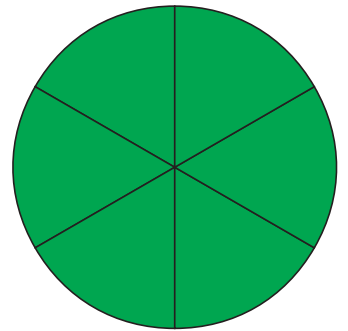
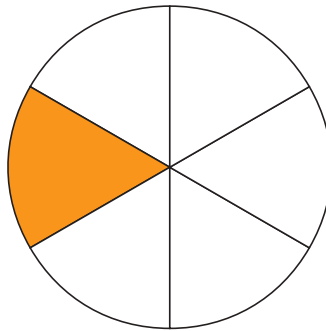
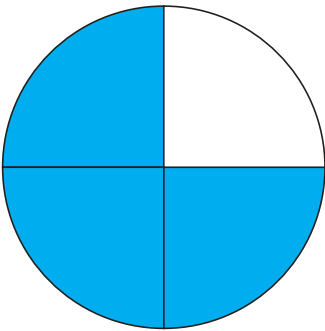
Ürünler	Satılan Adet
Kek	80
Kurabiye	67
Gözleme	137
Meyve suyu	200

	15 TL		12 TL
Kek		Kurabiye	
	14 TL		10 TL
Gözleme		Meyve Suyu	

Tablodaki bilgilere göre aşağıdaki ifadelerden hangisi doğrudur?

- A) En fazla gelir, gözleme satışından elde edilmiştir.
- B) Toplam gelir 5000 TL'nin altındadır.
- C) En fazla satılan ürün, kektir.
- D) En az gelir, kurabiye satışından elde edilmiştir.

2.



Yukarıdaki kesir modellerinde aşağıdaki hangi kesir çeşidi yoktur?

- A) Birim kesir
- B) Basit kesir
- C) Bileşik Kesir
- D) Tam sayılı kesir


2. HAFTA DEĞERLENDİRME TESTİ



3. $\left[\begin{array}{r|l} 482 & 15 \\ - & 32 \\ \hline & 2 \end{array} \right]$ Yanda verilen bölme işleminin elemanları aşağıdaki-
lerin hangisinde doğru verilmiştir?

	<u>Bölen</u>	<u>Bölünen</u>	<u>Kalan</u>	<u>Bölüm</u>
A)	482	15	32	2
B)	15	482	2	40
C)	2	32	15	482
D)	15	482	2	32

4. ✨ Pazartesi günü kantinde toplam 120 adet ayran satılmıştır.
✨ Kantinde satılan sandviç ve ayranlardan toplam 4640 TL gelir elde edilmiştir.



Yukarıdaki bilgilere göre pazartesi günü kantinde kaç adet sandviç satılmıştır?

- A) 80 B) 90 C) 100 D) 110

5. $\left[\begin{array}{r|l} 320 & 4 \\ - & 80 \\ \hline & 0 \end{array} \right]$ $\left[\begin{array}{r|l} 480 & 6 \\ - & 80 \\ \hline & 0 \end{array} \right]$ $\left[\begin{array}{r|l} 5600 & 7 \\ - & 80 \\ \hline & 0 \end{array} \right]$
- I II III

Yukarıdaki bölme işlemlerinden hangilerinin cevabı doğrudur?

- A) I ve II B) II ve III C) I ve III D) I, II ve III



2. HAFTA DEĞERLENDİRME TESTİ

6.

$$\begin{aligned} 372 \div 31 &= \dots\dots \text{ basamaklı} \\ 510 \div 6 &= \dots\dots \text{ basamaklı} \\ 848 \div 53 &= \dots\dots \text{ basamaklı} \\ 448 \div 56 &= \dots\dots \text{ basamaklı} \end{aligned}$$

Yukarıdaki bölme işlemlerinden kaç tanesinin sonucu 2 basamaklıdır?

- A) 1 B) 2 C) 3 D) 4

7.

$$\frac{1}{2} \quad \frac{1}{5} \quad \frac{1}{3} \quad \frac{1}{4}$$

Bu kesirlerin küçükten büyüğe doğru sıralaması aşağıdakilerden hangisidir?

- A) $\frac{1}{2} < \frac{1}{3} < \frac{1}{4} < \frac{1}{5}$
B) $\frac{1}{5} < \frac{1}{3} < \frac{1}{4} < \frac{1}{2}$
C) $\frac{1}{5} < \frac{1}{4} < \frac{1}{3} < \frac{1}{2}$
D) $\frac{1}{3} < \frac{1}{4} < \frac{1}{5} < \frac{1}{2}$

8.

$$25 \times 20 = 5000 \div \star$$

Bu eşitlikte \star yerine aşağıdakilerden hangisi yazılmalıdır?

- A) 10 B) 20 C) 25 D) 50

9.


Bir manav, her kasada 25 elma bulunan 12 kasa satın almıştır.

Manavın toplam kaç elması vardır?

- A) 250 B) 275
C) 300 D) 325

10.


Bir öğrenci, aşağıdaki sayıyı zihinden 10, 100 ve 1000'e bölerek sonuçlarını defterine yazmıştır:



Buna göre öğrenci defterine sırasıyla hangi sayıları yazmıştır?

- A) 4500 – 450 – 45
B) 45 000 – 4500 – 450
C) 4500 – 45 – 450
D) 45 000 – 450 – 45

1. Öğretmen, sınıfa üç farklı nesne getirmiştir:



Öğrencilerinden bu nesnelere kullanarak kuvvetin cisimler üzerindeki etkilerine örnekler vermelerini istemiştir.

Öğrencilerin verdiği örneklerden hangisi yanlıştır?

- A) Top, duvara atıldığında yön değiştirme hareketi yapar.
- B) Süngeri avucumuzda sıktığımızda şekil değiştirir.
- C) Oyuncak arabaya hareket yönünde kuvvet uygulanırsa araba yavaşlar.
- D) Yukarı doğru atılan top, önce hızlanma sonra yavaşlama hareketi yapar.

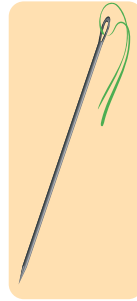
2. Şevket, askıya astığı çamaşırların zamanla kurduğunu görmüştür.



Bu durum hangi olay ve hâl değişimi ile ilgilidir?

- A) Soğuma, buharlaşma
- B) Isınma, buharlaşma
- C) Soğuma, donma
- D) Isınma, erime

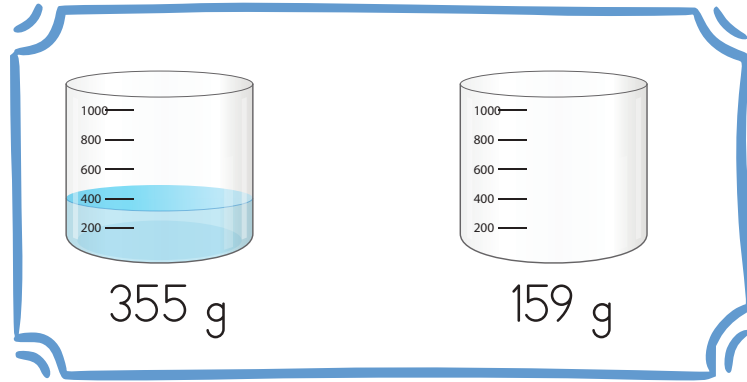
3.



Aşağıdaki bilgilerden hangisi yanda verilen nesnenin temel özelliklerini doğru nitелеlemektedir?

- A) Suyu emer, suda yüzer ve mıknatis çeker.
- B) Suyu emer, suda batar ve mıknatis çekmez.
- C) Suyu emmez, suda batar ve mıknatis çeker.
- D) Suyu emmez, suda batar ve mıknatis çekmez.

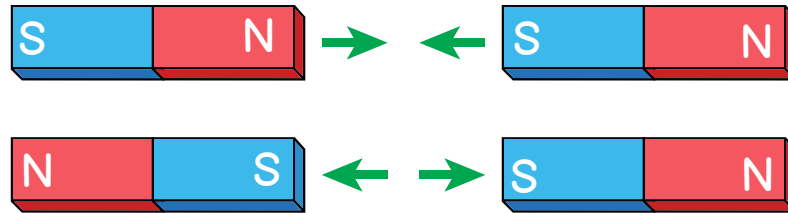
4. Aşağıdaki kabın darası (boş kabın ağırlığı) 159 gramdır.



Kabın sıvı dolu hâli 355 gram ölçüldüğüne göre sıvının kütlesi kaç gramdır?

- A) 196 B) 514 C) 191 D) 204

5.



Mıknatısla ilgili aşağıdaki bilgilerden hangisi yanlıştır?

- A) Mıknatısın kuzey ve güney olmak üzere iki kutbu vardır.
B) Mıknatısın zıt kutupları birbirini çeker, aynı kutupları birbirini iter.
C) Mıknatıslar, günlük yaşamda birçok alanda kullanılır.
D) Mıknatısların uyguladığı çekme kuvveti, temas gerektiren bir kuvvettir.

2. HAFTA DEĞERLENDİRME TESTİ



1. Bir öğrenci, Türkiye'nin fiziki haritasını incelemiş ve aşağıdaki gözlemleri yapmıştır.



- Haritada yeşil renkli alanların daha çok Ege ve Marmara bölgelerinde olduğunu fark etmiştir.
- Kahverengi renkli alanların ise Doğu Anadolu'da geniş yer kapladığını görmüştür.
- Ayrıca bazı bölgelerde dağların kıyıya paralel, bazılarında dik uzandığını not etmiştir.

Öğrencinin bu gözlemlerinden yola çıkarak aşağıdaki çıkarımlardan hangisine ulaşılabilir?

- A) Yeşil renkli yerler, yüksek dağlık alanlardır.
B) Kahverengi yerler, ovaları gösterir.
C) Ülkemizin doğusu, diğer bölgelere göre daha yüksektir.
D) Fiziki haritalar sadece nüfus yoğunluğunu gösterir.
2. Bir deprem sonrasında en az 72 saat idare edebilmek için hazırlanan Acil durum çantasında aşağıdakilerden hangisinin bulunması öncelikli değildir?
- A) Boş bir defter
B) Bir miktar su
C) Düdük ve el feneri
D) İlk yardım malzemeleri
3. Aşağıdaki ürün gruplarından hangisi tamamen eğitim ve bilgiye erişim alanında kullanılan teknolojik ürünlerden oluşur?
- A) Cep telefonu, televizyon, radyo
B) Tablet, akıllı tahta, projeksiyon cihazı
C) Traktör, biçerdöver, tırpan
D) Çatal, bıçak, ocak

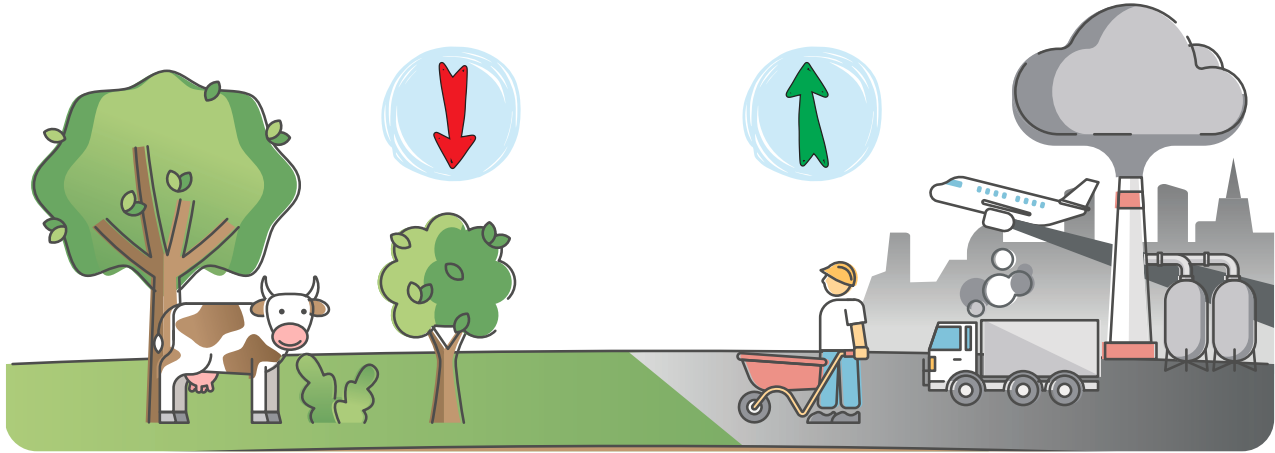
4. Bir öğrenci, bir hafta boyunca hava olaylarını gözlemleyip aşağıdaki tabloyu oluşturmuştur:

Gün	Hava Olayı	Gözlenen Durum
Pazartesi	Yağmurlu	Öğrenciler, okula şemsiye ile geldi.
Salı	Yağmurlu	Trafikte araçlar yavaş ilerledi.
Çarşamba	Güneşli	Bahçede oyun oynayan çocuklar vardı.
Perşembe	Rüzgârlı	Bazı öğrencilerin şapkaları uçtu.
Cuma	Güneşli	Parkta piknik yapan aileler görüldü.

Tabloda bulunan günlerden hangilerinde insanların açık havada etkinlik yaptığı görülmektedir?

- A) Pazartesi ve salı
B) Çarşamba ve cuma
C) Perşembe ve pazartesi
D) Salı ve perşembe

5. Bir bölgede çok sayıda fabrika kurulmuş, ormanlık alanlar azalmıştır.



Bu durum o bölgeyle ilgili aşağıdaki hangi sonucu gösterir?

- A) Beşerî unsurların doğal unsurlar üzerindeki etkisi artmıştır.
B) Doğal unsurlar kendiliğinden çoğalmıştır.
C) Bölge tamamen doğal hâlini korumuştur.
D) İnsanlar doğayı hiç değiştirmemiştir.

CEVAP ANAHTARI

1. HAFTA DEĞERLENDİRME TESTİ

TÜRKÇE

1. B	2. C	3. D	4. B	5. D	6. C	7. A	8. C	9. B	10. B
------	------	------	------	------	------	------	------	------	-------

MATEMATİK

1. C	2. B	3. C	4. D	5. B	6. C	7. A	8. C	9. B	10. B
------	------	------	------	------	------	------	------	------	-------

FEN BİLİMLERİ

1. C	2. B	3. C	4. D	5. C					
------	------	------	------	------	--	--	--	--	--

SOSYAL BİLGİLER

1. B	2. C	3. A	4. B	5. B					
------	------	------	------	------	--	--	--	--	--

2. HAFTA DEĞERLENDİRME TESTİ

TÜRKÇE

1. B	2. B	3. B	4. D	5. D	6. B	7. D	8. B	9. C	10. A
------	------	------	------	------	------	------	------	------	-------

MATEMATİK

1. D	2. D	3. D	4. C	5. A	6. C	7. C	8. A	9. C	10. A
------	------	------	------	------	------	------	------	------	-------

FEN BİLİMLERİ

1. C	2. B	3. C	4. A	5. D					
------	------	------	------	------	--	--	--	--	--

SOSYAL BİLGİLER

1. C	2. A	3. B	4. B	5. A					
------	------	------	------	------	--	--	--	--	--



İlkokulluyum'un Dijital Dünyasını Keşfetmeye Hazır Mısınız?

Kitaplarımızın zenginleştirilmiş dijital içeriklerine, konu anlatım videolarına, oyunlarına ve akıllı tahta uygulamalarına www.ilkokulluyum.com adresinden ulaşabilirsiniz.



İLKOKULLUYUM
YAYINLARI



📍 Ostim Osb Mah. 1220. Cad.
No: 31-33 Yenimahalle/ANKARA
✉ iletisim@ilkokulluyum.com
🌐 www.ilkokulluyumyayinjari.com
📷 @ilkokulluyum
📺 @ilkokulluyum

www.ilkokulluyum.com

ALO
KİTAP

(312) 342 42 43