



### ESKİCİ

Babadan yetim kalan küçük Hasan, anası da ölünce uzak akrabaları ve konu komşunun yardımıyla halasının yanına, Filistin'in ücra bir kasabasına gönderildi. (Hasan, İstanbul'dan dilini bilmediği bambaşka diyarlara göç etmiş bir çocuktur. Konuşulanları anlamadığı için aylardır konuşmayan Hasan'ın canı çok sıkılıyordu.)



Bir gün halası sokaktan bağırarak geçen bir eskiciyi çağırdı. Evin avlusuna sırtında çuval kaplı bir yayvan torba, elinde bir ufacık iskemle ve uzun bir demir parçası, dağınık kıyafetli bir adam girdi. Konuştular, sonra önüne bir sürü patlak, sökük, parça parça ayakkabı dizdiler. Eskici iskemlesine oturdu. Hasan da merakla karşısına geçti. Şaşarak eğlenerek seyrediyordu. Susuyor ve bakıyordu. Bir aralık nerede ve kimlerle olduğunu keyfinden unuttu, dalgınlığından ana diliyle sordu: "Çiviler ağzına batmaz mı senin?" dedi. Eskici başını hayretle işinden kaldırdı. Uzun uzun Hasan'ın yüzüne baktı: "Türk çocuğu musun be?" diye sordu. Hasan "İstanbul'dan geldim." dedi. Eskici "Ben de o taraftan... İzmit'ten!" dedi. Dışsizlikten peltek çıkan bir sesle "Ne diye düştün buraya sen?" diye sordu. Hasan anlattığı kadarıyla anlatı. Sonra Kanlıca'daki evlerini tarif etti; komşusunun oğlu Mahmut'la balık tuttuklarını, anası doktora giderken tünele bindiklerini, bir kere de kapıya beyaz boyalı hasta otomobili geldiğini, içinde yataklar serili olduğunu söyledi. Bir aralık da kendisi "Sen niye buradasın?" diye sordu. Öteki başını ve elini şöyle sallayarak uzun iş manasında mırıldandı ve "Bir kabahat işledik de kaçtık!" dedi. Asıl konuşan Hasan'dı, altı aydan beri susan Hasan... Durmadan, dinlenmeden, nefes almadan, yanakları sevincinden pembe pembe, dudakları taze, gevrek, billur sesiyle biteviye konuşuyordu. Eskici hem çalışıyor, hem de dinliyordu. Daha çok dinlemek için de elini ağır tutuyordu. Fakat, nihayet bütün ayakkabılar tamir edilmiş, iş bitmişti. Hasan, yüreği burkularak "Gidiyor musun?" dedi. Eskici, "Gidiyorum ya, işimi tükettim." diye cevap verdi. O zaman gördü ki küçük çocuk, memleketlisi minik yavru ağlıyor... "Ağlama be! Ağlama be!" dedi.

Eskici başka söz bulamamıştır. Bunu işiten çocuk hıçkırma hıçkırma, katıla katıla ağlamaktadır; bir daha Türkçe konuşacak adam bulamayacağına ağlamaktadır. "Ağlama diyorum sana! Ağlama." dedi. Bunları derken onun da katı, nasırlaşmış yüreği yumuşamış, şişmişti. Önüne geçmeye çalıştı ama yapamadı, kendini tutamadı; gözlerinin dolduğunu ve sakallarından kayan yaşların, Arabistan sığağıyla yanan kızgın göğsüne, pınar sızıntısı kadar serin, döküldüğünü duydu.

Refik Halit KARAY - Memleket Hikâyeleri (Kısaltılmıştır)

1- Hasan neden Filistin'e halasının yanına gitmiştir?

2- Eskici nereliymiş?

3- Altı aydan beri konuşmayan Hasan, eskiciyi görünce ne yapmış?

4- Hasan neden ağlamaya başlamış?

5- Hasan'ın ağladığını gören eskici ne söylemiş?

6- Parçada geçen "biteviye" kelimesinin anlamı nedir? Araştırınız.

### Pekiştirme (tekrar)

❖ Aşağıda verilen kelimeleri pekiştirilmiş sözcük haline getirerek yan taraflarındaki boşluklara yazınız.

mavi	→	masmavi
büyük	→	.....
karışık	→	.....
karanlık	→	.....



sağlam	→	.....
sarı	→	.....
perişan	→	.....
yalnız	→	.....

kuru	→	.....
çıplak	→	.....
ıslak	→	.....
açık	→	.....

acı	→	.....
kırmızı	→	.....
çirkin	→	.....
kalmak	→	.....

❖ Aşağıda verilen sözcükleri , pekiştirilmiş sözcük haline getiriniz. Daha sonra pekiştirilmiş sözcüğü cümlede kullanınız.

yeşil	Tümce
.....	Ne güzel bir yer. Her yer yemyeşil.
yemyeşil	.....

kara	Tümce
.....	.....
.....	.....

koyu	Tümce
.....	.....
.....	.....





düz	Tümce
.....	.....
.....	.....

karışık	Tümce
.....	.....
.....	.....

çevre	Tümce
.....	.....
.....	.....

## Uzunlukları tahmin etme

- ❖ Orta bölümde uzunluk ölçü birimleri verilmiştir. Her uzunluk ölçü birimine bir numara verilmiştir. Yan bölümlerde bulunan varlıkların boylarının hangi uzunluk ölçü birimi ile ölçülebileceğini tahmin ederek numaralarını yanlarındaki kutulara yazınız.

<input type="text"/>	Kedinin boyu		<input type="text"/>	Kapının boyu
<input type="text"/>	Zürafanın boyu	Kilometre	<input type="text"/>	İnsan boyu
<input type="text"/>	Şehirler arası mesafe		<input type="text"/>	Sineğin boyu
<input type="text"/>	Kanepenin boyu	Metre	<input type="text"/>	Yolun uzunluğu
<input type="text"/>	Uğur böceğinin boyu		<input type="text"/>	Filin boyu
<input type="text"/>	Defterin boyu	Santimetre	<input type="text"/>	Kumandanın boyu
<input type="text"/>	Tabletin boyu		<input type="text"/>	İzmir-İstanbul arası
		Milimetre		

- ❖ Aşağıdaki varlıkların uzunluklarını ve hangi uzunluk ölçü birimiyle ölçülebileceklerini tahmin ediniz. Gerçek uzunluklarını ölçünüz. Aradaki farkı bulunuz. Sonuçları ilgili birimlere yazınız.

	Hangi birimle?	Tahmini uzunluk	Gerçek uzunluk	Aradaki fark
Defterimizin uzunluğu	<input type="text"/>	<input type="text"/>	<input type="text"/>	<input type="text"/>
Kapımızın uzunluğu	<input type="text"/>	<input type="text"/>	<input type="text"/>	<input type="text"/>
Kumandadaki tuşun uzunluğu	<input type="text"/>	<input type="text"/>	<input type="text"/>	<input type="text"/>
Koltuğumuzun uzunluğu	<input type="text"/>	<input type="text"/>	<input type="text"/>	<input type="text"/>
Diş fırçamızın uzunluğu	<input type="text"/>	<input type="text"/>	<input type="text"/>	<input type="text"/>



## Uzunluk ölçüleri problemleri

265 cm olan ipin önce 1 m 21 cm'sini kestim. Daha sonra 45 cm 9 mm ekledim. Şu an ipim kaç cm ve kaç mm'dir?

Cevap:

- A) 18 cm 99 mm
- B) 1899 mm
- C) 189cm 9 mm
- D) 1781 mm

6 m 30 cm borunun önce beşte ikisini sonra beşte birini kullandım. Kalan borunun yarısını sattım. Elimde kaç cm boru kaldı?

Cevap:

- A) 136 cm
- B) 126 cm
- C) 116 cm
- D) 106 cm

Ali'nin boyu 1 m 78 cm. Mine Ali'den 25 cm daha kısadır. Veysel ise Mine'den 38 cm daha uzundur. Üçünün boylarının toplamı kaç mm'dir?

Cevap:

- A) 5 m 22 cm
- B) 4 m 23 cm
- C) 5220 mm
- D) 522 cm

Bahçeye diktiğim ağacın boyu 1 m 55 cm'dir. Ağaç bir ayda 4 cm 5 mm büyüyor. Ağacın boyu 8 ay sonra kaç cm olur ?

Cevap:

- A) 161 cm
- B) 171 cm
- C) 181 cm
- D) 191 cm

Metresi 35 TL olan kumaştan sırasıyla 2 m 25 cm , 6 m 85 cm ve 3 m 90 cm alıyorum. 500 TL veririm kaç TL para üstü alırım?

Cevap:

- A) 45 TL
- B) 55TL
- C) 455 TL
- D) 465 TL

Bir marangoz elindeki 455 cm 8 mm olan tahtanın önce 124 cm'sini sonra 212 cm 5 mm'sini kesti. Kaç mm tahtası kaldı?

Cevap:

- A) 2193 mm
- B) 1193 mm
- C) 1157 mm
- D) 119 mm

Bir günde 7520 adım atıyorum. Bir adımım 45 cm olduğuna göre, günde kaç m yürürüm?

Cevap:

- A) 3384 m
- B) 3527 m
- C) 6657 m
- D) 33 840 m

Ankara-Bursa arası 334 km'dir. Ankara-Çorum arası ise 225 km'dir. Bursa'dan Ankara'ya daha sonra da Ankara'dan Çoruma giden bir araç kaç m yol gider?

Cevap:

- A) 559 m
- B) 559 km
- C) 559 000 m
- D) 559 000 km

## Kaynakların tasarruflu kullanımı

❖ Aşağıda verilen şemayı inceleyiniz. Şemadaki boşlukları uygun örnekler ile doldurunuz.



- 1-.....
- 2-.....
- 3-.....

- 1-.....
- 2-.....
- 3-.....

- 1-.....
- 2-.....
- 3-.....

❖ Aşağıdaki cümlelerin doğru olanlarının başına "D" , yanlış olanlarının başına ise "Y" koyunuz.

..... İhtiyacımız kadar ekmek alırsak, ekmek israfı yapmayız.

..... Bahçelerimizde damla sulama kullanırsak sudan tasarruf ederiz.

..... Enerji verimliliği E sınıfı olan elektrikli aletleri satın almalıyız.

..... Yeteri kadar besin olduğundan az miktarda israf yapılabilir.

..... Aydınlatmada yapılan tasarruf , ülke ekonomisine büyük katkı sağlar.

..... Fotoselli lambalar sayesinde elektrikten tasarruf ederiz.

..... Bayat ekmeklerden farklı yemekler yaparak besin tasarrufu yapabiliriz.

..... Dişimizi fırçalarken suyu açık bırakabiliriz.

### Sosyal Faaliyetler

❖ Aşağıda bazı sosyal kulüplerin isimleri yazmaktadır. Aşağıda yazan sosyal kulüplerin ne tür etkinliklerde bulduklarını altlarına yazınız.



Spor Kulübü:



Müzik Kulübü:



Tiyatro Kulübü:



Satranç Kulübü:



Kütüphanecilik Kulübü:



Gezi Kulübü:



Görsel Sanatlar Kulübü:



Sosyal Yardımlaşma Kulübü:



## MİNİ TEST

1- Aşağıdaki varlıklardan hangisinin boyu milimetre ile ölçülebilir?

A)



B)



C)



D)



2- Silgimin boyu 9 cm 8 mm'dir. Arkadaşım silgisini getirmeyi unutmuş. Silgimin bir bölümünü kesip arkadaşıma verdim. Eve gelip silgimin boyunu ölçtüğümde 5 cm 9 mm olduğunu gördüm. Arkadaşıma verdiğim silginin boyu kaç mm'dir?

A) 3cm ve 9 mm

B) 49 mm

C) 39 mm

D) 4 cm ve 9 mm



3- Yukarıdaki zürafanın boyu aşağıdaki seçeneklerden hangisi olamaz?

A) 4m ve 55 cm

B) 3 m 85 cm

C) 5m 10 cm

D) 8 cm ve 6 mm

4- Aşağıdaki cümlelerin hangisinde pekiştirme yapılan bir sözcük yoktur?

A) Bugün her şey bambaşka olacak.

B) Su yok mu? Ağzım kupkuru oldu.

C) Yüreğim paramparça oldu.

D) Bu soruları çözmek deveye hendek atlatmaktan zor.

Suratın kapkara olmuş. Hemen banyoya gir tertemiz ol. Bir daha seni böyle perişan bir şekilde görmeyeyim!

5- Yukarıdaki cümlelerde pekiştirme yapılan kaç sözcük vardır?

A) bir

B) iki

C) üç

D) dört

I

Bugün şanslıyım, ekmek taptaze.

II

Eve giderken süt ve gazete al.

III

Çiçekler evi çepeçevre sarmıştı.

IV

Soğuktan kaskatı oldum.

6- Tümcelerin hangilerinde pekiştirme yapılmıştır?

A) I - II - III

B) I - II

C) I - III - IV

D) II - III - IV

Elektronik alet alırken .....  
olmasına dikkat etmeliyiz.

7- Yukarıda verilen tümcedeki boşluğa,  
aşağıdakilerden hangisini yazarsak doğru olur?

- A) A enerji sınıfı                      B) B enerji sınıfı  
C) C enerji sınıfı                      D) D enerji sınıfı

- Bayat ekmeklerimizden yeni yemekler yapabiliriz.  
 Doğru aydınlatma, elektrik tasarrufu için önemlidir.  
 Su tasarrufu için bulaşklarımızı elimizde yıkamalıyız.

8- Yukarıdaki tümcelerin doğru olanlarının başına " D " ve yanlış olanlarının başına " Y " koyarsak, sonuç aşağıdaki seçeneklerden hangisi olur?

- A) D - D - D                      B) D - Y - Y  
C) Y - D - Y                      D) D - D - Y

9- Aşağıdaki cümlelerden hangisi yanlıştır?

- A) Kaynaklarımız sınırlı olduğundan, onları tasarruflu kullanmalıyız.  
B) Elektrik ve su tasarrufu kadar besin tasarrufu da önemlidir.  
C) A enerji sınıfındaki elektrikli aletleri kullanmalıyız.  
D) Su diğer kaynaklara göre daha fazla bulunduğu için, su tasarrufuna gerek yoktur.

Okuldaki spor faaliyetlerini Spor Kulübü düzenler.

Okuldaki tiyatro ve piyes gösterileri Tiyatro Kulübü tarafından düzenlenir.

Görsel Sanatlar Kulübü bilgi yarışmaları düzenler.

10- Cümlelerin doğru olanlarının başına " D " ve yanlış olanlarının başına " Y " koyarsak, sonuç aşağıdaki seçeneklerden hangisi olur?

- A) D - Y - D  
B) D - Y - Y  
C) Y - Y - Y  
D) D - D - Y

11- Aşağıdaki görsellerden hangisi tiyatro kulübünü temsil eden bir görsel olabilir?

A)



B)



C)



D)

