

Ad Soyad:.....  
Sınıfı:.....  
Numarası:.....



## ORMANLARIMIZ

Ormanlar, yurdumuzun en önemli zenginlik kaynaklarından. Ormanların pek çok yararı vardır. Ağaçlık ve ormanlık yerlere yağmur yağar. Yağmur, bereket demektir. Bitkileri besler, büyütür. Ağaçlar, soluduğumuz havayı temizler. Kirlili havayı alıp, temiz hava verir. Ayrıca, kökleriyle toprağı sıkıca tutar. Yağmur sularının toprağı sürüklemesini önler. Masa, sıra, dolap, kapı, pencere gibi şeyler de ağaçtan yapılır. Kâğıdın ham maddesi ise yine ağaçtır. Ormanlardaki yaşlı ve kuru ağaçlardan kışlık odunumuzu sağlarız. Ormanlarda kuş, sincap, tavşan, tilki, yaban keçisi gibi pek çok hayvan barınır. Bu yüzden, ormanlarımızı gözümüz gibi korumalıyız.

- Aşağıdaki soruları metne göre cevaplayınız.

1) Orman hangi canlılara ev sahipliğı yapar?

Ormanlarda kuş, sincap, tavşan, tilki, yaban keçisi gibi pek çok hayvan barınır.

2) Metnin içeriğine uygun yeni bir başlık bulunuz.

3) Okuduğunuz metnin türü nedir?

Metnin türü Bilgilendirici Metindir.

4) Metnin konusunu ve ana fikrini belirtiniz.

Metnin konusu: Ormanların faydaları.

Metnin ana fikri: Ormanları korumalıyız.

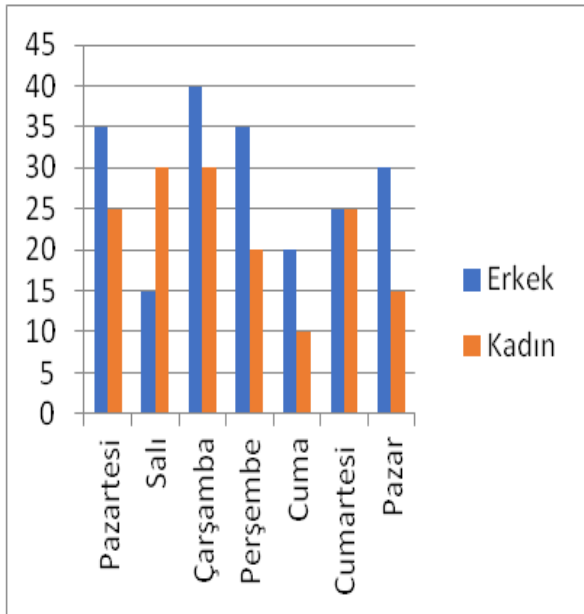
❖ Aşağıdaki cümlelerin hangilerinde virgül (,) yanlış kullanılmıştır, işaretleyiniz.

- Salı günü Türkçe, Matematik, İngilizce ve Müzik dersimiz var.
- Atatürk 19, Mayıs 1919'da Samsun'a çıktı.
- İhtiyar, adamı maskesiz dolaştığı için uyardı.
- Polisten kaçan hırsızlar, kısa süre sonra yakalandılar.
- Kaya ve Ömer ufak, tefek şeylerden dolayı sürekli tartışıyorlar.
- Arkadaşımın düğününe gittim, onlara mutluluklar diledim.
- Kutlamalar için Almanya, Fransa, ve İtalya'dan gösteri ekipleri geldi.



❖ Aşağıdaki cümleleri okuyalım. Gerçek ifade olanların başına "G", hayal ürünü olanların başına "H" yazalım.

- Eski sandalye, artık işe yaramadığını düşündüğü için çok üzüldü.
- Şoför direksiyonu aniden kırınca büyük bir kazayı önledi.
- Peri kızı Pinokyo'ya, eğer iyi bir çocuk olursa ileride insan olabileceğini söyledi.
- Nasreddin Hoca uzun yıllar önce Konya'da yaşamış.
- Keloğlan kötü kalpli devin elinden canını zor kurtarmış.
- Prensesin sarayını üç başlı ejderha koruyormuş.
- Kahraman Mehmetçik Kurtuluş Savaşı'nda düşmanla amansızca mücadele etti.



Sinemaya gelen kişi sayısı grafiği

❖ Aşağıdaki soruları yandaki grafiğe göre cevaplayınız.

1) Sinemaya en fazla erkek müşterinin geldiği gün hangisidir?

En fazla erkek müşterinin geldiği gün Çarşamba günüdür.

2) Sinemaya en az müşteri geldiği gün hangisidir?

En az müşteri geldiği gün Cuma günüdür.

3) Sinemaya hafta sonu kaç müşteri gelmiştir?

Hafta sonu 95 müşteri gelmiştir.

4) Salı ve Cuma günü sinemaya kaç kişi gelmiştir?

Salı ve Cuma günü 75 müşteri gelmiştir.

❖ Aşağıdaki sayı doğrusunda harflerle gösterilen sayıları en yakın onluğa yuvarlayınız.



A = 2180   B = 2180   C = 2190   D = 2190   E = 2200   F = 2200



H = 7390   I = 7400   J = 7400   K = 7400   L = 7410   M = 7410



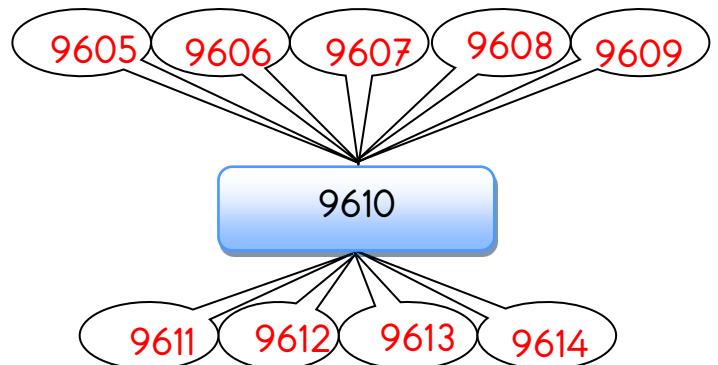
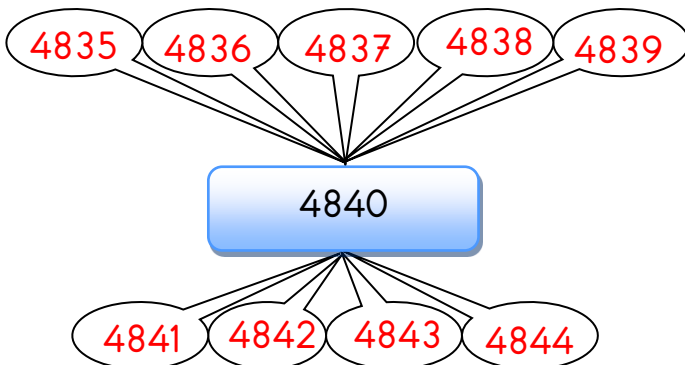
N = 5600   O = 5600   P = 5610   R = 5610   S = 5610   T = 5620

❖ Aşağıdaki onluklara yuvarlanabilen en küçük ve en büyük sayıları yazınız.

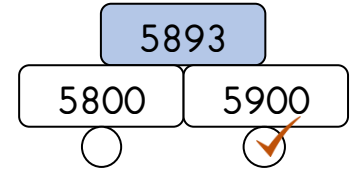
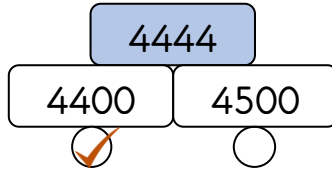
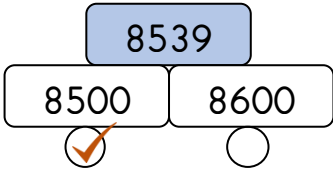
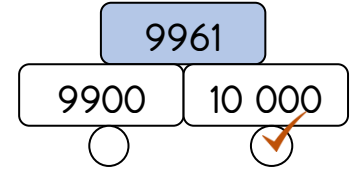
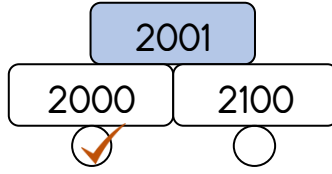
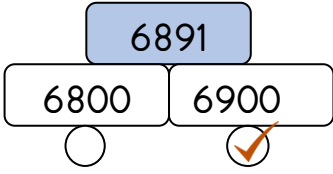
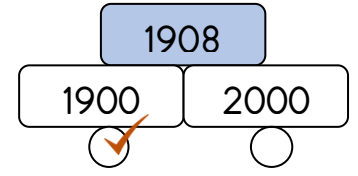
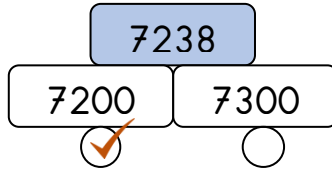
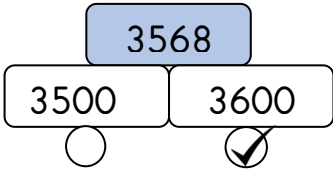
En Küçük	ONLUK	En Büyük
2955	2960	2964
8145	8150	8154
7525	7530	7534
1585	1590	1594
2575	2580	2584

En Küçük	ONLUK	En Büyük
7815	7820	7824
3685	3690	3694
1925	1930	1934
8705	8710	8714
5435	5480	5484

❖ Aşağıdaki onluklara yuvarlanabilecek sayıları yazınız.



❖ Aşağıdaki sayılar ile yuvarlandığı yüzlükleri örnekteki gibi işaretleyiniz.

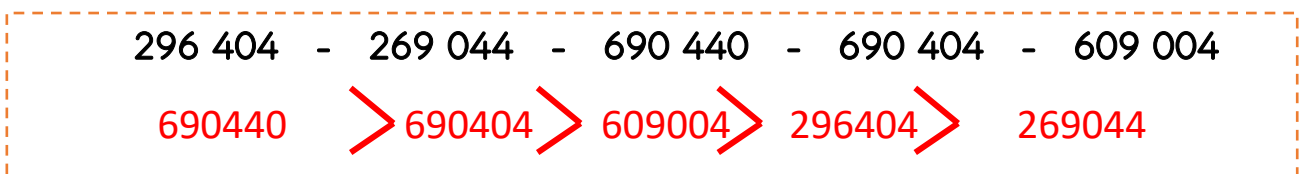


❖ Aşağıdaki yüzlüklere yuvarlanabilen en küçük ve en büyük sayıları yazınız.

En Küçük	YÜZLÜK	En Büyük
7150	7200	7249
8550	8600	8649
1850	1900	1949
3750	3800	3849
2450	2500	2549

En Küçük	YÜZLÜK	En Büyük
6850	6900	6949
8950	9000	9049
5250	5300	5349
4150	4200	4249
8050	8100	8149

❖ Aşağıda verilen sayıları sembollere göre sıralayınız.



❖ Aşağıdaki cümleleri okuyalım. Doğru olanlara "D", yanlış olanlara "Y" yazalım.

( D ) Dünya'nın kendi etrafında dönmesiyle gece gündüz oluşur.

( D ) Dünya'nın kendi etrafında bir tur dönüşü bir gün olarak kabul edilir.

( Y ) Dünya kendi etrafında dönmeseydi mevsimler oluşmazdı.

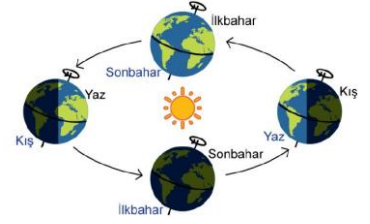
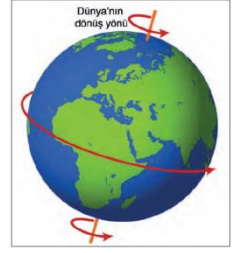
( D ) Dünya kendi etrafında dönerken aynı zamanda Güneş etrafında dolanma hareketi yapar.

( D ) Bir yıl üç yüz altmış beş gün altı saattir.

( D ) Dünya Güneş etrafındaki dolanımını bir günde tamamlar.

( Y ) Güneş ışınları Dünya'nın her yerine aynı anda ulaşır.

( Y ) Dünya'nın kendi etrafında dönme yönü doğudan batıya doğrudur.



❖ Aşağıdaki boşluklara uygun kelimeleri yazalım.



- Dünya'nın Güneş etrafında bir tam tur atmasına **bir yıl** denir.
- Şubat ayının 29 gün olduğu yıla **artık yıl** denir.
- Mevsimler Dünya'nın **dolanma** hareketi sonucu oluşur.
- Dünya kendi etrafındaki dönüşünü **24 saatte** tamamlar.
- Dünya'nın Güneş ışınları görmeyen tarafında **gece** yaşanır.
- Bir yılda dört **mevsim** vardır.
- Dünya **Güneş** adı verilen yıldızın etrafında dolanma hareketi yapar.
- **Ay** Dünya'nın etrafında dönen ve onun uydusu olan gök cisimidir.

❖ Aşağıda belirtilen durumlarla ilgili ilgi ve yetenekleri işaretleyiniz.

DURUMLAR	İLGİ	YETENEK
Müzik dinlemeyi sevmek.	X	
Güzel resim yapmak.		X
Futbol maçı izlemekten hoşlanmak.	X	
Keman çalabilmek.		X
Kaykay ile akrobatik hareketler yapabilmek.		X
Koleksiyon yapmak için para, pul vb. toplamak.	X	
Evcil hayvan beslemek.	X	

❖ Aşağıdaki cümleleri okuyalım. Doğru olanlara "D", yanlış olanlara "Y" yazalım.

- ( D ) İnsanlar farklı alanlara ilgi duyabilirler.
- ( D ) Büyüdükçe ilgi alanlarımız değişebilir.
- ( Y ) Televizyon izlemek yetenektir.
- ( Y ) İlgi ve yeteneklerimiz fiziksel özelliklerimizdir.
- ( D ) Yeteneklerimizi çalışarak geliştirebiliriz.
- ( Y ) Başkalarıyla farklı ilgi ve yeteneklerimizin olması arkadaş olmamızı engeller.
- ( D ) İnsanlar arasındaki farklılıklar birer zenginliktir.



❖ Aşağıdaki tabloyu kendi özelliklerinize göre doldurunuz.

İlgi duyduğum alanlar	----- -----
Yeteneklerim	----- -----