



ADI SOYADI:.....

SINIFI:.....

NUMARASI:.....

UZUNLUKLARI ÖLÇELİM

A) Aşağıdaki görselleri isimleri ile eşleştirelim.



KARIŞ



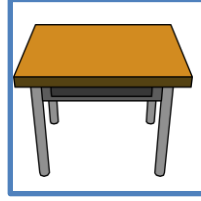
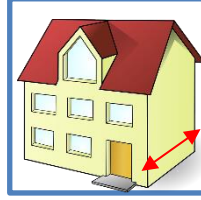
PARMAK

KULAÇ

AYAK

ADIM

B) Hangisi ile ölçeriz. Eşleştirelim



C) Aşağıdaki soruları cevaplandıralım.



7 karış 12 karış 13 karış 6 karış

(EFE) (ANNE) (BABA) (ECE)

Ailenin en kısa boylusu kimdir?

Efe ile Ece'nin boyları toplamı kaç karıştır?

Baba ile Ece'nin boyları farkı kaç karıştır?

Anne ile Efe'nin boyları toplamı kaç karıştır?