



Bir yaz günü Noyan, Emir ve Çınar ile birlikteydik. Yaşadığımız şehir dağ kenarına kurulmuştu. Biz de ara sıra dağın yamacına çıkıp şehri seyrederdik. Bugün de arkadaşım Noyan: "Annem yiyecek bir şeyler hazırladı. İsterseniz gezintiye çıkalım. Mola verdiğimizde de yeriz." dedi. Biz de bu teklifi hemen kabul ettik. Gerekli malzemeleri aldıktan sonra yola çıktık.

1 ve 2. soruları şiiire göre cevaplayınız.

1. Çocukların yaşadığı şehir neredeymiş?

- A) Bir dağ kenarında
- B) Bir dağın tepesinde
- C) İki dağın arasında

2. Yiyecekleri kimin annesi hazırlamış?

- A) Emir'in annesi hazırlamış.
- B) Noyan'ın annesi hazırlamış.
- C) Çınar'ın annesi hazırlamış.

3. Aşağıda verilen görsellerden hangisinin isminde bulunan tüm heceler üç harflidir?



1

A) 1



2

B) 2



3

C) 3

patlıcan

bir

alinazik

yemeğidir

4. Yukarıda verilen kelimelerle kurulabilecek, kurallı ve anlamlı cümle hangisidir?

- A) Bir patlıcan yemeğidir alinazik.
- B) Alinazik, bir yemeğidir patlıcan.
- C) Alinazik, bir patlıcan yemeğidir.



Sağlıklı beslenmelisin.



Kırmızı ışıkta durmalısın.



Ödevlerini yapmalısın.

5. Yukarıdakilerden hangisi mesleği ile ilgili uyarıda bulunmamıştır?

A)



B)



C)



www.ilkokulluyum.com

Mustafa ile kemal körebe oynuyorlar.



6. Mert'in söylediği cümlede yazım yanlışı yapılan kelime hangisidir?

A) Mustafa

B) kemal

C) körebe

7. Aşağıda verilen kelimelerden hangisi sözlükte diğerlerinden sonra gelir?


A)



B)



C)



Kamil, Nalan ve Cem geldiler.

Sana kazak, çorap ayakkabı aldım.

Umay, görevlerini aksatmaz.

8. Yukardaki cümlelerin hangisinde virgül eksik kullanılmıştır?

A)



B)



C)



9. Aşağıda verilen cümlelerin hangisinde zıt anlamlı kelimeler bir arada kullanılmamıştır?

- A) Eskiye getir, yeniye götür kampanyası başladı.
- B) Bahçemizin önü, arkası kadar yeşil değil.
- C) Hakan hem zayıf hem uzun boyludur.

11. Aşağıdaki kelimelerden hangisine gelen "-e" eki kesme işareti ile ayrılmaz?

- A) Öğretmen
- B) Ahmet
- C) Mardin

12. Aşağıdaki cümlelerden hangisinde yazım kurallarına uyulmamıştır?

- A) Voleybol kursuna kayıt yaptır-  
tık.
- B) Babam, anneme hediye o-  
larak telefon aldı.
- C) Dedemin arkadaşları ile ta-  
nıştım.

Okuldan geldiğimde ilk  
işim kıyafetlerimi değiştirmektir.  
Sonra yemeğimi yerim. ....  
ödevlerimi yaparım.

10. Yukarıda verilen paragrafta noktalı yere hangisi yazılmalıdır?

- A) hemen
- B) şimdi
- C) daha sonra



Türkçe testi bitti!  
Matematik testine geçebilirsiniz.

$$14 + 5 = 19$$

toplanan



1. Yukarıda verilen toplama işleminde yeşil ve mavi kutulara hangi ifadeler yazılmalıdır?

- A) toplanan  
B) toplam  
C) toplanan

- toplanan  
toplanan  
toplam

1	$9+6$	7	a
2	$12-5$	12	b
3	$19-7$	15	c

2. Yukarıdaki işlemler ile sonuçları eşleştirilecektir. Buna göre doğru eşleştirme nasıl olmalıdır?

- |        |        |        |
|--------|--------|--------|
| A) 1-a | B) 1-c | C) 1-a |
| 2-b    | 2-a    | 2-c    |
| 3-c    | 3-b    | 3-b    |

$$18 - 9 = ?$$

3. Yukarıda verilen işlem için hangisi söylenemez?

- A) Fark 10'dan büyüktür.  
B) Fark 10'dan küçüktür.  
C) Fark 9'a eşittir.

$$\begin{aligned} \triangle + 5 &= 16 \\ 6 + \bullet &= 14 \end{aligned}$$

4. Yukarıda verilen işlemlere göre  $\triangle$  ve  $\bullet$  yerine gelecek sayıların toplamı kaçtır?

- A) 19      B) 18      C) 17



ÜRÜN	FİYAT
	
	
	
	

İkinci sırada oturan Aybike'nin önünde Murat, arkasında Kübra oturuyor.

7. Çocukların oturdukları yerlerle ilgili hangisi söylenemez?

- A) Kübra 3. sırada oturuyor.  
B) Aybike 2. sırada oturuyor.  
C) Murat 4. Sırada oturuyor.

• 5 ve 6. Soruları yukarıdaki tabloya göre cevaplayınız.

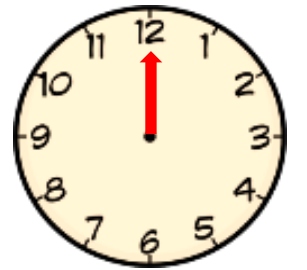
5. Bir kek ve bir dondurma alan Burak kaç lira öder?

- A) 10      B) 9      C) 8

6. Topun fiyatı ekmeğin fiyatından kaç lira fazladır?

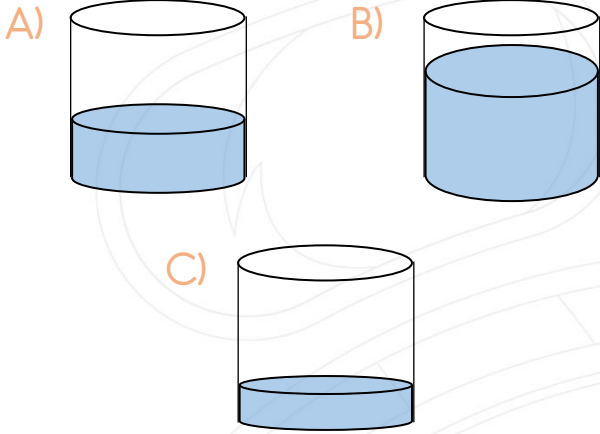
- A) 10      B) 9      C) 8

8. Yanda verilen saatte yelkovan 12'yi göstermektedir. Akrep hangi rakamı gösterirse saat 12 olarak okunur?



- A) 12      B) 10      C) 6

9. Aşağıdaki kaplardan hangisinin yarısından fazlası doludur?



Canan



Can

Hakan: Benim boyum Can'dan uzun, Canan'dan kısadır.

10. Hakan'ın söylediklerine göre çocukların boylarının kısdan uzuna doğru sıralaması nasıl olur?

- A) Hakan / Can / Canan
- B) Canan / Hakan / Can
- C) Can / Hakan / Canan

11. Bekir'in dedesinin çiftliğinde 3 inek, 1 koyun ve 2 tavuk vardır. Buna göre çiftlikteki hayvanların ayaklarının sayısı kaçtır?

- A) 20
- B) 12
- C) 6

A B C A B C ... B ...

12. Yukarıdaki örüntünün eksik adımları hangileri ile tamamlanır?

- A) A / C
- B) B / C
- C) A / B



Matematik testi bitti!  
Hayat Bilgisi testine geçebilirsiniz.

Arkadaşlarımızla .....  
özelliklerimiz olması ..... bir  
durumdur.

1. Yukarıda verilen cümlede noktalı yerlere sırasıyla hangi sözcükler getirilebilir?

- A) farklı / doğal  
B) benzer / ilginç  
C) değişik / zor



Merve

Geçen hafta ailece uçakla amcamlara gittik. Amcam ve kuzenlerim ile birlikte şehri gezmeye çıktık. Bu gezide en çok Anıtkabir ilgimi çekti.

2. Anlatıma göre Merve'nin amcası hangi şehirde yaşıyordu?

- A) İstanbul B) Ankara C) İzmir

Bu bayramda Atatürk'ün Samsun'a çıkışını ve Kurtuluş Savaşı'nın başlangıcını milletçe kutlarız.

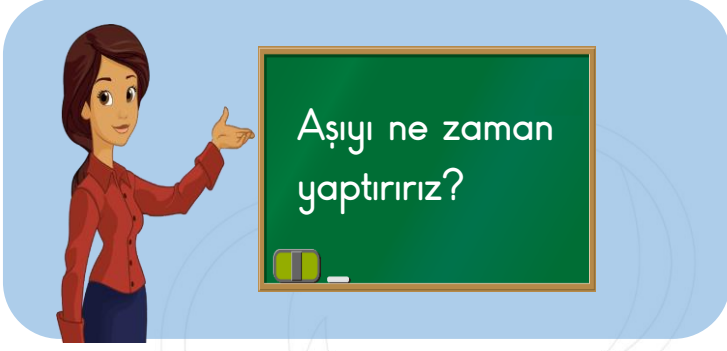
3. Yukarıda ifade edilen milli bayram hangisidir?

- A) Zafer Bayramı  
B) Cumhuriyet Bayramı  
C) Atatürk'ü Anma Gençlik ve Spor Bayramı

- Zamanında uyanabilmek için erken yatmalıyız.
- Günlük planımızda sadece ders çalışmaya yer vermeliyiz
- İletişim araçlarını uzun süre kullanmamalıyız.

4. Yukarıda verilenlerden kaç tanesi doğrudur?




- A) 1 B) 2 C) 3



5. Öğretmenin tahtaya yazdığı soruya doğru cevabı hangi öğrenci vermiştir?

- A)  Hasta olduktan sonra
- B)  Hasta olmadan önce
- C)  Canımız istediğinde

6. Aşağıdakilerden hangisi kahvaltılarda tüketmemiz gereken hayvansal bir besindir?

- A) 
- B) 
- C) 

- Havalar ısınır.
- Sık sık yağmur yağar.
- Ağaçlar yapraklarını döker.

7. Hangi renkle yazılan cümle ilkbahar mevsiminin özelliklerinden değildir?

- A) Kırmızı B) Mavi C) Yeşil

8) Evde güvenlik kurallarına uyan bir öğrenciden hangi davranış be-  
lenmez?

- A) Balkondan sarkarak dışarıyı izlemesi
- B) Elektrikli araçların kablo ve düğmeleri ile oynamaması
- C) Temizlik malzemeleri ile oynamaması



Deneme Sınavı bitti!  
Cevaplarınızı kontrol ediniz.