

Ad Soyad:.....
Sınıfı:.....
Numarası:.....






❖ Aşağıdaki soruları cevaplayalım.

- Takı takılır
- Pasta kesilir
- Fotoğraf çektirilir

1. Yukarıdakilerden hangileri düğünlerde karşılaştığımız durumlardandır?

- a - b
- b - c
- a - b - c

2. Aşağıdakilerden hangisi doğal unsur değildir?

- 
- 
- 

3. Aşağıdaki hayvanlardan hangisinin beslenme şekli diğerlerinden farklıdır?

- Ayı
- Aslan
- Zebra

4. Hangi hayvanın yaşam alanı diğerlerinden farklıdır?

- Balina
- Tilki
- Fil

❖ Doğru olanlara (D) yanlış olanlara (Y) koyalım.

(.....) Dini bayramlarla, milli bayramların kutlanması farklıdır.

(.....) Düğünler genellikle tiyatro salonlarında yapılmaktadır.

(.....) Her yıl 29 Ekim'de Zafer Bayramı kutlanır.

(.....) Yurdumuzun her bölgesinde farklı yöresel halk oyunları oynanır.

(.....) Fabrika bacalarından çıkan gazlar havayı kirletir.

(.....) İstiklâl Marşı'mız ve bayrağımız yurdumuzun bağımsızlık sembolleridir.

(.....) Düğüne gelen misafirlere ikramlarda bulunulur.

(.....) Rize'de insanların çoğunluğu geçimini çay üretiminden sağlar

❖ Aşağıdaki kelimeleri boşluklara uygun olarak yerleştirelim.

Ulaşım

Yaşam

Balıkçılık

1. Doğa olayları insanlarınbiçimlerini etkiler.

2. Deniz kıyısında olan yerleşim yerlerinde yapılması doğaldır.

3. Dağlık bölgelerde oldukça zordur.

❖ Aşağıdaki tedbirleri deprem öncesinde, deprem sırasında ve deprem sonrasında olarak gruplandıralım.

- Hızla dışarı çıkmalıyız.
- Tatbikatlar yapılmalıdır.
- Depreme dayanıklı evler yapılmalıdır.
- Pencerelerden uzak durmalıyız.
- Yaşam üçgeni oluşturmalıyız.
- Evler sert zemin üzerine yapılmalıdır.
- Açık bir alanda beklemeliyiz.
- Sağlam olmayan binalar güçlendirilmelidir.
- Deprem çantası hazırlanmalıdır.
- Sakin olunmalıdır.

DEPREM ÖNCESİNDE

DEPREM SIRASINDA

DEPREM SONRASINDA

.....

.....

.....

.....

.....

.....

.....

.....

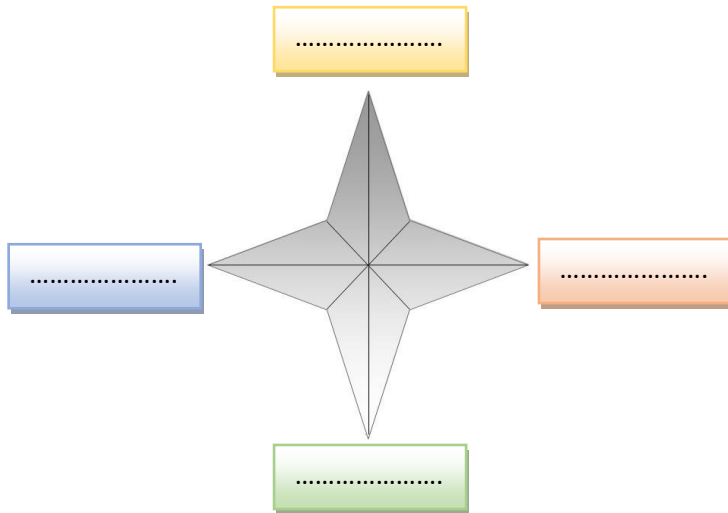
.....

.....

.....

.....

❖ Aşağıdaki boşluklara yönleri doğru olarak yazalım. Cümlelerdeki boşlukları uygun şekilde dolduralım.



- Güneş'in doğduğu yöne denir.
- Güneş'in battığı yöne denir.
- Kuzey'in tersi olan yönedenir.
- Sırtımız güneyi gösterirken önümüz gösterir.

❖ Aşağıdaki boşlukları uygun kelimelerle dolduralım.

365

yuvarlak

dönme

24

gece-gündüz

bir

kendi

mevsimler

güneş

portakala

- Dünya iki şekilde hareketi yapar.
- Dünya etrafında döner.
- Dünya kendi etrafında günde döner.
- Dünyanın kendi etrafında dönmesi sonucu oluşur.
- Dünyanın güneş etrafında dönmesiyle oluşur.
- Dünya kendi etrafında dönüşünü saatte tamamlar.
- Dünya güneş etrafında dönüşünü günde tamamlar.
- Dünya etrafında döner.
- Dünyamızın şekli benzer.
- Dünyamızın şekli dır.

❖ Aşağıdaki cümlelerden doğru olana (D) ,yanlış olana (Y) koyalım.

(.....) Doğa olaylarını önceden hava durumu izleyerek öğrenebiliriz.

(.....) Dünya'mız küre şeklindedir.

(.....) Dolu yağışı sebze ve meyvelere zarar verir.

(.....) Rüzgârlı havalarda mecbur kalmadıkça dışarı çıkmamalıyız.

(.....) Doğa olaylarının zararlarından önlem alarak kurtulamayız.

(.....) Dünya'mızın şekli yuvarlaktır.

(.....) Yağmurlu havalarda dışarı çıkarken şemsiyeyi evde bırakmalıyız.

(.....) Dünya'mız üçgen şeklindedir.

(.....) Dünya'mızın yarısı yuvarlak, yarısı düzdür.

(.....) Sisli havalarda görüş mesafesi azalır.

