



CUMHURİYET

Kurtuluş Savaşı, milletimiz için büyük bir kahramanlık öyküsüdür. Türk milletinin çıkış yolu aradığı karanlık günlerde, milletin bir evladı çıkıp meşale gibi yolu aydınlatmıştı. Bu meşale, Türk milletine önderlik eden Mustafa Kemal'di.

Yıllar süren savaşıardan yorgun düşen bir millet, imkânsızlıklar içerisinde vatanını savunmuş, Atatürk önderliğinde ülkesini işgalden kurtarmıştı. Fakat asıl iş şimdi başlıyordu. Artık yepyeni bir ülke kurulmalıydı. Tarih boyunca esaret altında yaşamamış bu fedakâr millet, yeni ülkesine kavuşmalıydı.

Atatürk'e göre yeni ülkenin yönetiminde millet söz sahibi olmalı, milli irade hâkim kılınmalıydı. Yani millet, kendisini yönetecek kişiyi kendisi seçmeliydi. Bu düşünceye en uygun yönetim şekli ise cumhuriyetti. Atatürk zaman kaybetmeden aklındaki düşünceyi gerçekleştirdi. 29 Ekim 1923 günü cumhuriyet kuruldu. Bu genç ve yeni ülkenin adı Türkiye Cumhuriyeti oldu. Yeni cumhuriyet, kazanılan büyük zaferin eseriydi.

İşte biz, o günlerde zorluklarla kurulan cumhuriyetin çocuklarıyız. Cumhuriyetimiz için şehitler verdik. Bu nedenle cumhuriyetimize sahip çıkmalıyız. Bayramımız kutlu olsun.

❖ Aşağıdaki soruları cevaplayınız.

1- Kurtuluş Savaşı bitip vatan kurtarıldıktan sonra ne yapılmış?

.....

2- Cumhuriyet nasıl bir sistemmiş?

.....

3- Cumhuriyet ne zaman kurulmuş?

.....

4- Neden cumhuriyetimize sahip çıkmalıyız?

.....

❖ Sözcüklerin anlamlarını öğrenerek, bu sözcükleri birer tümcede kullanınız.

Vatan:

Anlamı:

Cümle :

Cumhuriyet:

Anlamı:

Cümle :

Meşale:

Anlamı:

Cümle :



Tırnak İşareti

❖ Aşağıdaki bilgileri güzelce okuyalım. Bilgilerin yan tarafında yazılı olan tümcelere, örneklerdeki gibi tırnak işaretlerini yerleştirelim.

Başka bir kişiden alınan, alıntı sözler tırnak işareti içerisine alınır.

- Atatürk, düşman gemilerini görünce “ Geldikleri gibi giderler.” dedi.
- Mevlana Ne olursan ol, yine gel. demiştir.
- Aile doktorumuz Her şeyin başı sağlık. dedi.
- Hz. Ali Bana bir harf öğretenin bin yıl kölesi olurum. demiş.
- Annem Çabuk buraya gel! diye bağırdı.

Bir eserden bahsederken, eser adı tırnak işareti içerisine alınır.

- Balzac'ın “ Vadideki Zambak ” adlı romanını okudun mu?
- Gustave Flaubert'in Madame Bovary adlı eseri, bir klasiktir.
- Atatürk'ün en önemli eseri Nutuk adlı eseridir.
- Ömer Seyfettin'in Perili Köşk adlı romanı beni çok etkiledi.
- Öğretmenimiz bana Ezop Masalları adlı kitabı verdi.

Vurgulanmak istenen sözcükler tırnak işareti içerisine alınır.

- Bugün okulda “ nota öğretimi ” üzerinde duracağız.
- Yarın ileri düzeyde sürüş teknikleri semineri var.
- Bu hafta dört basamaklı sayılar konusunu işleyeceğiz.
- Bu ödevimizin konusu tırnak işareti olacak.
- Konuşmacı bugün çağımızda teknoloji teması üzerinde konuşacak.

❖ Aşağıdaki cümlelerdeki, yay ayraçla belirtilen yerlere uygun noktalama işaretlerini koyunuz.

Öğretmen () Geç kaldın yine.() dedi.

Aşık Veysel bir eserinde () Benim sadık yârim kara topraktır. () demiştir.

Orhan Veli Kanık()ın () İstanbul'u Dinliyorum () şiirini okudun mu ()

Okul müdürü () Çocuklar bağımsızlığımızın en önemli sembolü bayrağımızdır. () şeklinde konuştu()

Atatürk () ün () Hayatta en hakiki mürşit ilimdir.() sözü sizce ne anlama geliyor()

1- $2156 > \dots\dots > 2150$ ifadesinde iki sayı arasında kalan tek sayıların toplamları kaçtır?

Çözüm :

| | | | | | | | | | |
|--|--|--|--|--|--|--|--|--|--|
| | | | | | | | | | |
| | | | | | | | | | |
| | | | | | | | | | |
| | | | | | | | | | |
| | | | | | | | | | |
| | | | | | | | | | |

- A) 6459
B) 6542
C) 2145
D) 3369

2- Bir toplama işleminde toplam 4528. Toplananlardan birine 325 ekleyip diğerinden 48 çıkarırsak yeni toplam kaç olur?

Çözüm :

| | | | | | | | | | |
|--|--|--|--|--|--|--|--|--|--|
| | | | | | | | | | |
| | | | | | | | | | |
| | | | | | | | | | |
| | | | | | | | | | |
| | | | | | | | | | |
| | | | | | | | | | |

- A) 6021
B) 5526
C) 1125
D) 4805

3- 5-8-7-0-2-1 sayılarıyla yazılabilecek rakamları farklı 4 basamaklı en küçük ve en büyük sayının toplamları kaç olabilir?

Çözüm :

| | | | | | | | | | |
|--|--|--|--|--|--|--|--|--|--|
| | | | | | | | | | |
| | | | | | | | | | |
| | | | | | | | | | |
| | | | | | | | | | |
| | | | | | | | | | |
| | | | | | | | | | |

- A) 1565
B) 5215
C) 9002
D) 9777

4- $M < 2460$ ve $K < 3256$ ise M ve K sayılarının yerlerine yazılabilecek en büyük çift sayıların toplamları kaçtır?

Çözüm :

| | | | | | | | | | |
|--|--|--|--|--|--|--|--|--|--|
| | | | | | | | | | |
| | | | | | | | | | |
| | | | | | | | | | |
| | | | | | | | | | |
| | | | | | | | | | |
| | | | | | | | | | |

- A)5714
B)5712
C)3356
D)1243

5- 1254 ile 1260 arasındaki çift sayıları topluyorum. Çıkan sonucun üzerine dört basamaklı en küçük çift sayıyı ekliyorum. Sonuç kaç olabilir?

Çözüm :

| | | | | | | | | | |
|--|--|--|--|--|--|--|--|--|--|
| | | | | | | | | | |
| | | | | | | | | | |
| | | | | | | | | | |
| | | | | | | | | | |
| | | | | | | | | | |
| | | | | | | | | | |

- A)1236
B)4758
C)1245
D)3514

6- Bir toplama işleminde ilk toplanan 1325'tir. İkinci toplanan ise ilk toplanandan 1547 fazladır. Bu toplama işleminin sonucu kaç olabilir?

Çözüm :

| | | | | | | | | | |
|--|--|--|--|--|--|--|--|--|--|
| | | | | | | | | | |
| | | | | | | | | | |
| | | | | | | | | | |
| | | | | | | | | | |
| | | | | | | | | | |
| | | | | | | | | | |

- A)2872
B)4197
C)4187
D)6653

2458 - 1245

| | | | |
|---|---|---|---|
| 7 | 8 | 9 | ÷ |
| 4 | 5 | 6 | x |
| 1 | 2 | 3 | - |
| 0 | . | + | = |

SONUÇ
.....

5892 - 3512

| | | | |
|---|---|---|---|
| 7 | 8 | 9 | ÷ |
| 4 | 5 | 6 | x |
| 1 | 2 | 3 | - |
| 0 | . | + | = |

SONUÇ:
.....

6852 - 1001

| | | | |
|---|---|---|---|
| 7 | 8 | 9 | ÷ |
| 4 | 5 | 6 | x |
| 1 | 2 | 3 | - |
| 0 | . | + | = |

SONUÇ:
.....

9057 - 1243

| | | | |
|---|---|---|---|
| 7 | 8 | 9 | ÷ |
| 4 | 5 | 6 | x |
| 1 | 2 | 3 | - |
| 0 | . | + | = |

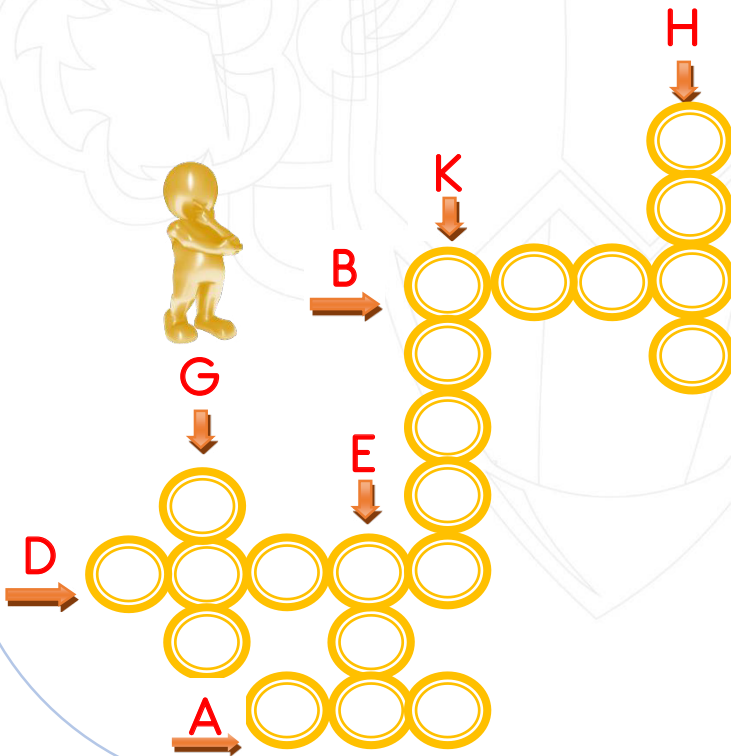
SONUÇ:
.....

BULMACA

$$\begin{array}{r} 6A27 \\ - 343B \\ \hline 2693 \end{array}$$

$$\begin{array}{r} DE83 \\ - 2943 \\ \hline 5340 \end{array}$$

$$\begin{array}{r} 9G99 \\ - 2903 \\ \hline H6K6 \end{array}$$



Yukarıdaki çıkarma işlemlerindeki bilinmeyen rakamları bulalım. Rakamları bulmacaya yazıyla yazalım.



Mevsiminde
ve yerinde

Konserve

Dondurarak

Koruyucular

Son kullanma
tarihi

❖ Yukarıda kelimeler ile aşağıdaki boşlukları doldurunuz.

- Besinleri ve yemeliyiz.
- Hazır gıdalardaki sağlığımıza zarar verir.
- Besinlerin en son ne zaman tüketilebileceğini belirten tarihe denir.
- Besinleri kaynatıp, cam kavanozlara koyarak saklama yöntemine denir.
- Besinleri mevsimi dışında da taze yiyecek için saklarız.

❖ Doğru olanların başına "D", yanlış olanların başına "Y" koyunuz.



- () Tuz , bal gibi gıdalar çabuk bozular.
- () Yazın portakal yemeliyiz.
- () Sürekli karbonhidrat ağırlıklı beslenmek obeziteye yol açar .
- () Besinleri saklama yöntemlerinden biriside kurutmadır.
- () Hormonlu gıdalar sağlıksızdır.
- () Mevsiminde yenilen besinler ekonomiktir.

❖ Aşağıdaki şemalarda, sorulara doğru ya da yanlış olarak cevap vererek ilerleyiniz. Ulaştığınız besinin altına koyunuz.

Besinleri tazeysen tüketmeliyiz.

D

Y

Süt çabuk bozulmaz.

Kiraz kış meyvesidir.

D

Y

D

Y



En sağlıklı gıdalar hormonlu olanlardır.

D

Y

Protein sütte bulunur.



Su her besinde bulunur.

D

Y

D

Y



Yağlar vitamin deposudur.

D

Y

Vitamin düzenleyicidir.

Mineraller onarıcıdır.

D

Y

D

Y



❖ Aşağıdaki soruları cevaplayınız.

? Besinleri uzun süre saklamak için birçok yöntem kullanılır. Besinleri saklama yöntemlerinden iki tanesini yazınız.



.....
.....

? Son kullanma tarihi nedir? Neden çok önemlidir?

.....
.....

? TSE kısaltmasının açılımı nedir?



.....

? Proteinlerin görevleri nelerdir? Hangi besinlerde bulunurlar?



.....
.....

? Aşırı karbonhidrat tüketiminin ne gibi zararları olabilir?



.....
.....

? Kemik gelişimimiz ve boyumuzun uzaması için hangi besinleri tüketmeliyiz?



.....
.....

? Vitaminlerin görevleri nelerdir?



.....
.....

? Su ve mineraller hangi besinlerde bulunur?

.....
.....

❖ Aşağıdaki soruları cevaplayınız.

? Aşağıda verilen bilgilerden hangisi yanlıştır?

- A) Besinleri yerinde ve zamanında yemeliyiz.
- B) Son kullanma tarihi son derece önemlidir.
- C) Ambalajlı gıdaları alırken, renklerine ve şekillerine bakmalıyız.
- D) Mevsiminde yenen besinler daha sağlıklıdır.

Enerji verici

Proteinler


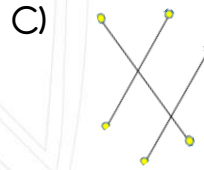
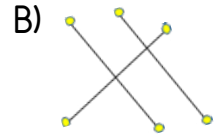
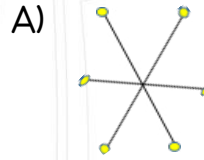
Düzenleyici

Vitaminler



Yapıcı-onarıcı

Karbonhidratlar

? Yukarıdaki besin gruplarıyla görevleri eşleştirilirse , nasıl bir eşleşme olur ?



? Hayvansal besinler protein bakımından zengindirler. Bu nedenle yapıcı ve onarıcıdır. Aşağıda verilen besinlerden hangisi hayvansal bir besindir ?





❖ Bazı besinler çok çabuk bozuldukları için hemen tüketilmesi gerekir. Bazı besinler ise uzun süre raflarda bozulmadan kalabilirler. Aşağıdaki besinlerden, hemen tüketilmesi gerekenleri işaretleyiniz.



Salça



Süt



Ekmek



Balık



Reçel



Yumurta



Zeytin



Bal



Peynir



Et

❖ Doğru olanların başına "D", yanlış olanların başına "Y" koyalım.

- () Bazı besinleri , bayat da olsa yiyebiliriz.
- () Süt, et ve balık çabuk bozulan besinlerdir.
- () İşlenen besinler, doğallıklarını yitirmezler.
- () Hormonlu gıdalar doğal gıdalar kadar faydalıdır.
- () Tüm besinlerin son kullanma tarihleri üzerlerinde yazar.
- () Ambalajlı ürünlerin güzel renkli ve gösterişli olanlarını tercih etmeliyiz.
- () GDO' lu besinler çok faydalıdır.
- () Turşu, tuzlama yöntemiyle yapılır

❖ Soruları cevaplayalım.

- 1- Hormon kullanılmamış , ilaçlanmamış , yerinde ve zamanında yediğimiz besinlere ne ad verilir?
 - A) Hormonlu besinler
 - B) Taze ve doğal besinler
 - C) Dondurulmuş besinler
 - D) Genetiğiyle oynanmış besinler
- 2- Bazı yöntemler , besinlerimizi uzun süre saklamamızı sağlar. Aşağıdakilerden hangisi bu yöntemlerden değildir?
 - A) Dondurma
 - B) Kurutma
 - C) Konserve yapma
 - D) Yıkama



❖ Yukarıda kültürümüze ait eski oyunların isimleri yazılıdır. Boşluklara oyunların isimlerini yazınız.

✚ Konya benzer bir tahtaya ip sıkıca sarılır. Daha sonra ip hızlıca çekilir ve oyuncak dönmeye başlar. Bu oyuncuğa..... denir.

✚ At üzerinde , uzun ve sivri çubuklar ile oynanan geleneksel oyunumuzadenir.

✚ Çocuklar kambur şeklini alarak eğilirler. Daha sonra sırayla birbirlerinin üzerlerinden atlarlar. Oyunun adına denir.

✚ Çocukların iki gruba ayrılarak , kalın bir ipi kuvvetlice çekmeleriyle oynanan oyunun adı dir.

✚ Biri uzun biri kısa iki sopayla oynan oyunun adına denir.

❖ Siz de eskiden olmayıp günümüzde oynanan dört tane oyun yazınız.

1-.....

2-.....

3-.....

4-.....

ARAŞTIRALIM

"Dalya" oyunu nasıl oynanır?

.....

.....

.....

.....

.....

.....

.....

"Aşık" oyunu, ne ile oynanır?

.....

.....

.....

.....

.....

.....

.....

"Saklambaç" oyunu nasıl oynanır?

.....

.....

.....

.....

.....

.....

.....

Büyüklerinizin oynadığı oyunlardan, iki tanesini yazınız.

.....

.....

.....

.....

.....

.....

.....

- ❖ Aşağıdaki bulmacanın içerisinde bazı oyunlar saklı. Bulmacanın yanında yazan bu oyunları, bulmacanın içerisinden bulunuz.

| | | | | | | | | | | | | | | |
|-----------------|---|---|---|---|---|---|---|---|---|---|---|---|---|---|
| AŞIK OYUNU | A | A | J | F | Ç | E | L | İ | K | Ç | O | M | A | K |
| ÇELİK ÇOMAK | Ş | V | İ | P | A | T | L | A | M | A | Ş | K | S | U |
| KÖREBE | I | L | T | G | B | A | L | Z | L | J | C | C | A | T |
| SAKLAMBAÇ | K | V | O | P | İ | Ç | J | İ | B | İ | S | U | K | U |
| İP ATLAMA | O | G | P | P | R | M | Y | O | L | B | M | Ç | L | K |
| TOPAÇ ÇEVİRME | Y | Z | A | G | D | J | Y | L | Ö | S | J | Ç | A | U |
| BİRDİR BİR | U | H | Ç | H | İ | Z | V | A | S | Ğ | C | Z | M | T |
| EBE SOBE | N | K | Ç | Ş | R | Z | O | Ç | T | S | F | T | B | U |
| KUTU KUTU PENSE | U | U | E | G | B | Z | V | B | P | K | C | H | A | P |
| | R | N | V | Ş | İ | E | B | E | S | O | B | E | Ç | E |
| | T | R | İ | S | R | S | V | K | Ç | K | M | Ş | K | N |
| | İ | A | R | O | T | L | M | V | S | E | A | C | N | S |
| | A | K | M | B | M | E | M | G | N | E | D | H | A | E |
| | L | R | E | B | K | Ö | R | E | B | E | O | Ş | O | L |

- ❖ Aşağıdaki oyunları eskiden oynananlar, günümüzde oynananlar ve hem eskiden hem günümüzde oynananlar olarak gruplayalım. Her grubu kendi sepetine yazalım.

Günümüzde oynananlar



Play stadion

Yakan top

Cirit oyunu

PubG

Aşık oyunu

Topaç çevirme

Eskiden oynananlar



Bilgisayar oyunları

Yerden yüksek

İp atlama

Mine craft

Matrak

Futbol

Hem günümüzde hem
eskiden oynananlar

MİNİ TEST

Dostoyevski'nin () Suç ve Ceza ()
adlı eseri, en ünlü eseridir.

1- Yukarıdaki tümcede , yay ayraç ile belirtilen yerlere hangi noktalama işareti gelmelidir?

- A) Kesme işareti ve ünlem işareti gelmeli.
- B) İki tane virgöl gelmeli.
- C) Konuşma çizgisi ve tırnak işareti gelmeli.
- D) İki tane tırnak işareti gelmeli.

2- Hangi tümcede noktalama işaretlerinin kullanımında hata yapılmıştır?

- A) Bugün "canlılarda hareket " konusunu işleyeceğiz.
- B) Karacaoğlan'ın " Seçmeler " adlı eserini tavsiye ederim.
- C) Atatürk, muhtaç olduğun kudret damarlarındaki asil kanda mevcuttur, demiştir.
- D) Neşet Ertaş'ın " Neredesin Sen " adlı eserini sever misin?

Ateş püskürmek

3 - Yukarıda yazan deyim, hangi anlamda kullanılır?

- A) Yorulmak
- B) Çok zorlanmak
- C) Sinirlenmek
- D) Hasta olmak

4- Hangi deyim " çok sevinmek, aşırı sevinmek " anlamında kullanılır?

- A) İçi içine sığmamak
- B) Ağzı açık kalmak
- C) Akli karışmak
- D) Göbeği çatlamak

$$4250 + 500 = A$$

$$3480 + 300 = B$$

5- Eşğin gösterdiği tabeladaki toplama işlemlerini gördünüz. Bu işlemlere göre A + B işleminin sonucu kaç eder?

- A) 4750
- B) 3780
- C) 8530
- D) 2000

6- $2165 < \dots < 2172$ ifadesinde noktalı yere yazılabilecek tek sayıların toplamı kaçtır?

- A) 6507
- B) 6508
- C) 6509
- D) 6510

$$(5214+100) + (2114 +300) =$$

7- Tahtada yazan işlemin sonucu kaçtır?

- A) 7278
- B) 6547
- C) 7728
- D) 7729

8- Koniye benzeyen bir tahta parçasına ip sarılarak oynanan ve amacın oyuncuğu döndürmek olduğu oyunun adı nedir?

- A) Yakan top
- B) Topaç çevirme
- C) Çember çevirme
- D) Saklambaç



9- Çocukların kambur şeklinde eğilerek birbirlerinin üzerinden atladıkları oyunun adı nedir?

- A) Birdirbir
- B) Uzun atlama
- C) Aşık oyunu
- D) Yağ satarım



10- Her köşede bir çocuğun olduğu ve çocukların sürekli köşelerini değiştirdiği bir oyundur. Ebeinin görevi, çocuklar köşelerini değiştirenken, boş köşeleri kapıp ebelikten kurtulmaktır. Bu oyunun adı nedir?

- A) Yerden yüksek
- B) Konsol oyunu
- C) Evcilik
- D) Köşe kapmaca



11- Yukarıdaki çocuğun oynadığı oyunun adı sizce nedir?

- A) Halka toplama
- B) Çember çevirme
- C) Yuvarlak oluşturma
- D) Dönme dolap

12- Hangi besinleri kışın tüketirsek, zamanında ve taze besin tüketmiş olmayız?

- A) Havuç ve ıspanak
- B) Mandalina ve elma
- C) Pırasa ve karnabahar
- D) Vişne ve kiraz

13- Besinleri mevsiminin dışında yiyebilmek için, dondurarak saklayabiliriz. Aşağıdaki besinlerden hangisini yazın dondurup, kışın yiyebiliriz?

- A) Yeşil fasulye
- B) Pırasa
- C) Ispanak
- D) Havuç

14- Aşağıdaki besinlerden hangisi hayvansal bir gıda değildir?

- A) Hamsi
- B) Yumurta
- C) Kuru fasulye
- D) Tereyağı

15- Ahmet sporcu bir öğrenci. Her gün ağır antrenmanlar yapıyor ve enerjiye ihtiyaç duyuyor. Ahmet, enerji ihtiyacını gidermek için hangi besini daha fazla yemeli?

- A) Tavuk
- B) Gözleme
- C) Brokoli
- D) Marul

