

TATİLLE İLGİLİ SORULAR



1. Tatilde gezmeye nereye gittin?

.....
.....

2. Hangi oyunları oynadın?

.....
.....

3. Oyunları kimlerle oynadın?

.....
.....

4. Okulu özledin mi? En çok ne yapmayı özledin?

.....
.....

5. Nasıl bir tatil hayal ederdin?

.....
.....
.....
.....
.....
.....
.....
.....
.....
.....

YARIYIL TATİL KİTABIMIZ



SORULARI CEVAPLAYALIM

1. Dünyamızın katmanlarını içten dışa doğru sıralayarak yazalım.

.....
.....
.....

2. Duyu organlarımız nelerdir?

.....
.....
.....

3. Hareket türlerini yazalım.

.....
.....
.....

4. Kuvvet nedir? İtme ve çekme kuvvetlerine birer örnek verelim.

.....
.....
.....

5. Doğada varlıklar maddenin hangi hallerinde bulunurlar?

.....
.....
.....

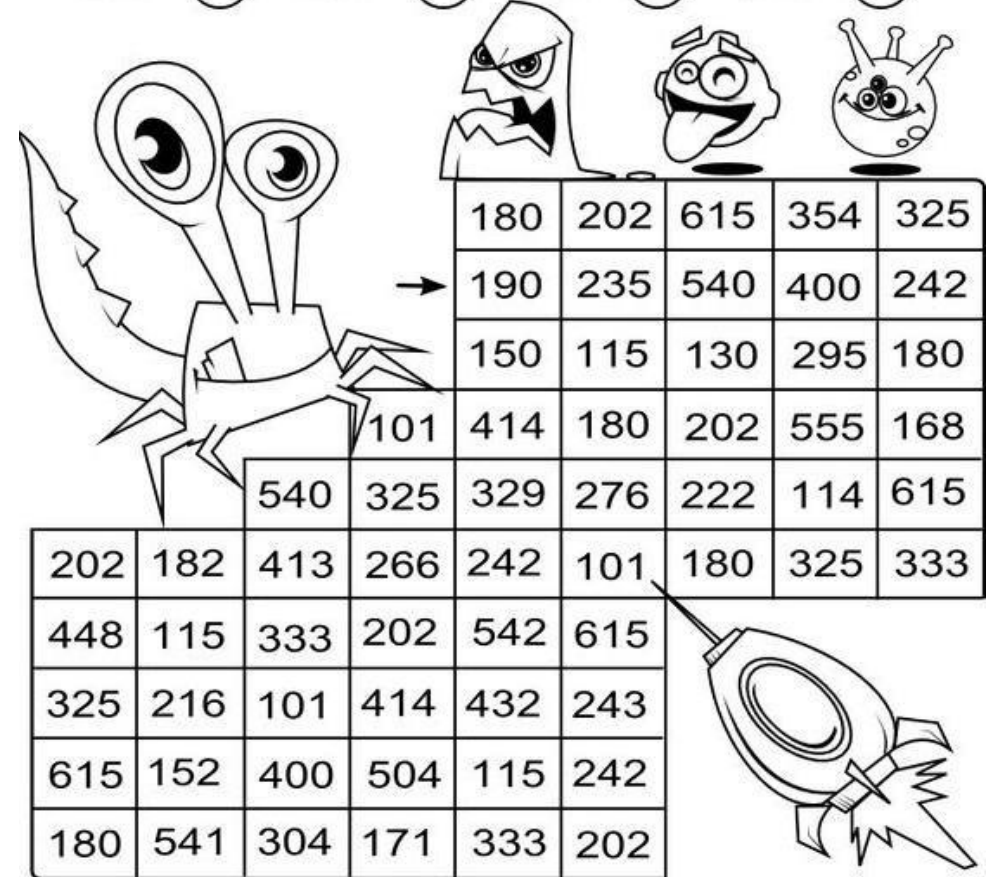
6. Karanlıkta neden göremeyiz? Açıklayalım.

.....
.....
.....

ÇARP- BUL- BOYA

Sonuçlara göre yengecin yolunu boyayalım.

$38 \times 5 =$ ○	$47 \times 5 =$ ○	$26 \times 5 =$ ○	$59 \times 5 =$ ○
$28 \times 6 =$ ○	$19 \times 6 =$ ○	$37 \times 6 =$ ○	$46 \times 6 =$ ○
$47 \times 7 =$ ○	$38 \times 7 =$ ○	$59 \times 7 =$ ○	$26 \times 7 =$ ○
$56 \times 8 =$ ○	$27 \times 8 =$ ○	$19 \times 8 =$ ○	$38 \times 8 =$ ○
$19 \times 9 =$ ○	$56 \times 9 =$ ○	$48 \times 9 =$ ○	$27 \times 9 =$ ○



180	202	615	354	325				
190	235	540	400	242				
150	115	130	295	180				
101	414	180	202	555	168			
540	325	329	276	222	114	615		
202	182	413	266	242	101	180	325	333
448	115	333	202	542	615			
325	216	101	414	432	243			
615	152	400	504	115	242			
180	541	304	171	333	202			

ŞİİR ZAMANI



TATİL OLUNCA

Okullar tatil olunca,
Özlerim okulumu.
Arkadaşımdan ayrılınca,
Yalnız oynarım oyunu.

Arkadaşlarım, öğretmenlerim,
Her birini çok severim.
Tatilde ailemleken bile
Ben onları özlerim.

Bilirim tatil bir ihtiyaç,
İnsan dinlenmeye de muhtaç.
Yine de okulum eğlenceli,
Bekle beni, kapılarını aç.

Funda Menekşe

- 1- Şair ne zaman okulunu özlemiş?
.....
- 2- Şiirde insanın neye muhtaç olduğundan bahsediliyor?
.....
- 3- Şaire göre okul nasıl bir yermiş?
.....
- 4- Şiirin ana duygusu ve teması nedir?
.....
.....
.....

DİLBİLGİSİ ÇALIŞMALARI I

Verilen kelimeleri hecelerine ayırarak yazalım.

Battaniye

.....

Oduncuların

.....

kurtlarla

.....

Verilen kelimeleri sözlük sırasına göre sıralayalım.

Gül- çam- sümbül- gürgen- karanfil- sedir- salkımsöğüt- çınar

Aşağıdaki kelimelerden somut anlamlı olanların altındaki kutuyu kırmızı, soyut olanların altındaki kutuyu yeşil boyayalım.

MASA



SANDALYE



RÜYA



YORGAN



MUTLULUK



HÜZÜN



BEŞİK



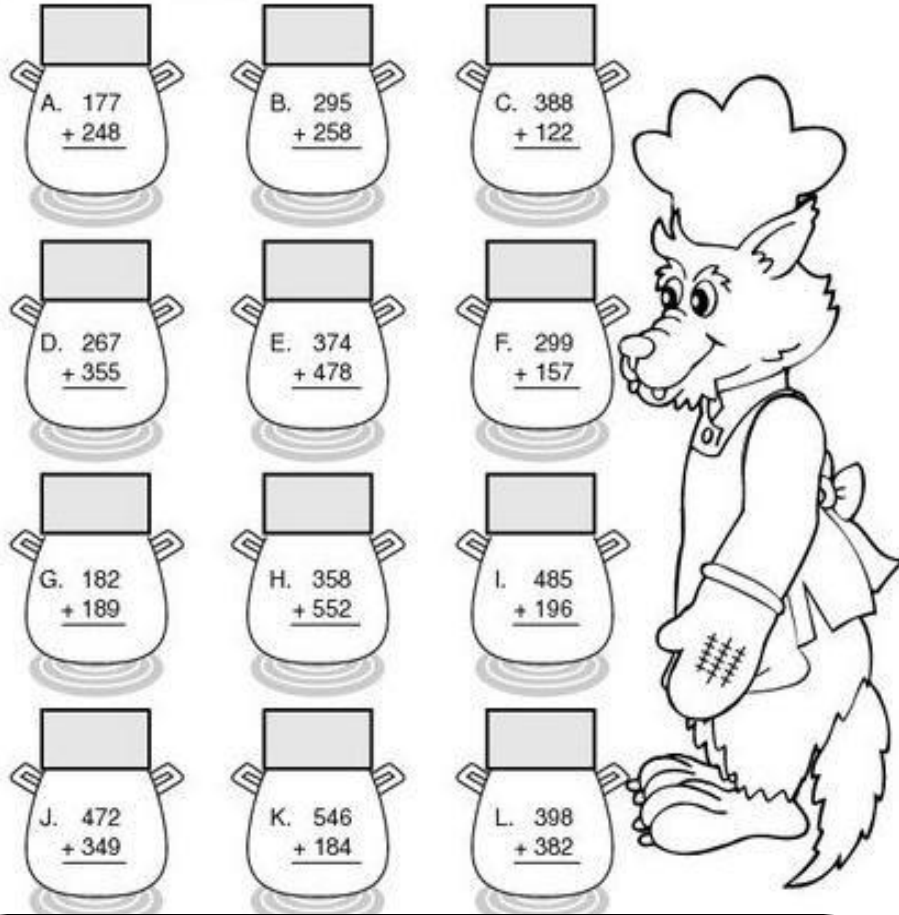
RADYO



Karışık verilen kelimelerle anlamlı cümleler yazalım.

- geldiğinde- tatil- özlerim- okulumu
-
- bize- tatilde- dayımlar- geleceklerdi- bu
-
- katmanı- nefes- olmasaydı- hava- alamazdık
-

TOPLAMA ZAMANI



A. $177 + 248$

B. $295 + 258$

C. $388 + 122$

D. $267 + 355$

E. $374 + 478$

F. $299 + 157$

G. $182 + 189$

H. $358 + 552$

I. $485 + 196$

J. $472 + 349$

K. $546 + 184$


L. $398 + 382$

Her sırada bulduğumuz sonuçları büyükten küçüğe sıralayalım.

1.
2.
3.
4.

HIZIMIZI ÖLÇELİM

Çarpma işlemlerini yaparken süre tutalım. Kaç dakikada bittiğini yazalım.



28 x 6

26 x 5

32 x 3

134 x 4

16 x 8

19 x 9

14 x 2

32 x 7

46 x 8

53 x 5

58 x 5

96 x 6

48 x 5

46 x 10

59 x 10

29 x 7

32 x 8

31 x 10

37 x 5

36 x 7

45 x 5

36 x 9

51 x 7

46 x 3

36 x 5

49 x 6

36 x 7

42 x 8

56 x 7

35 x 8

Kaç dakikada bitirdin? dakika.

DİLBİLGİSİ ÇALIŞMALARI 2

Kelimelerin eş anlamlılarını yanına yazalım.



Vatan =	Konuk=.....
Anı=.....	Konut=.....
Hekim=.....	Pabuç=.....
Sürat=.....	Surat=.....
Fakir=.....	Sene=.....
İsim=.....	Merasim=.....

Kelimelerin zıt anlamlılarını yazalım

sert x	ince x
düzenli x	yakın x
tümsek x	karanlık x
cimri x	ödül x
kirli x	tenha x
çalışkan x	evli x
ilk x	önce x



GÜZEL HEDİYE

Elif ve İbrahim birbirleriyle çok iyanlaşan iki kardeşti. Birlikte oynamaktan çok hoşlanırlardı.

Okullar tatil olduğunda dayıları ailesiyle birlikte onlara misafirlige geldi. Çocuklar kuzenleri olan Kenan'ı çok seviyorlardı. Dayıları onlara çok güzel bir hediye getirmişti. Çocuklar hediyeyi görünce mutluluktan çığlık attılar.

Ertesi gün hep birlikte bir buz pistine gittiler. Hediyeleri çok işe yaramıştı. Tüm gün zevkle kayarak, eğlendiler.

Funda Menekşe

1- Metinde geçen olay ne zaman yaşanmıştır?

.....

2- Elif ve İbrahim'e ne hediye gelmiş olabilir?

.....

.....

3- Çocuklar hediyeyi görünce nasıl tepki verdiler?

.....

.....

4- Siz hiç buz pateni yaptınız mı ya da kızakla kaydınız mı?

.....

.....

.....

HAYATIN İÇİNDEN BİLGİLER

Tatilde gittiğin bir yeri bize kroki çizerek tarif edebilir misin?

- Aşağıdaki meslek sahipleri ile çalışma alanlarını eşleştirelim.



iletişim

sağlık

Hizmet
sektörü

Eğitim

güvenlik

Siz ileride hangi mesleği yapmak istiyorsunuz? Neden?

.....
.....

MATEMATİK ZAMANI

- Verilen sayıların okunuşunu yazalım.

154:

360:

108:

927:

- Sayıları büyükten küçüğe doğru > işareti kullanarak sıralayalım.

545, 531, 290, 648 :

207, 287, 770, 537:

- Verilen sayılardan bir önce ve bir sonra gelen sayıları yazalım.

..... 278 352 760

- Sayıları onluk ve birliklerine ayırarak yazalım.

667: yüzlük + birlik + onluk

952: + +

Sayılar tek ise başına T, çift ise başına Ç harfini yazalım.

(.....) 263 (.....) 627 (.....) 506 (.....) 201 (.....) 155

(.....) 380 (.....) 114 (.....) 597 (.....) 728 (.....) 342

- Sayıları en yakın yüzlüğe yuvarlayalım.

168 ←

551 ←

289 ←

150 ←

329 ←

781 ←



Beyin Fırtınası



Uzayda bir yaşam merkezi kuracak olsan nasıl bir yer olurdu?

.....

.....

.....

.....

.....

.....

.....

Bir oyuncak icat edecek olsan nasıl bir oyuncak olurdu?

.....

.....

.....

.....

Okula akşamları geliyor olsaydık nasıl olurdu?

.....

.....


.....

.....

.....

.....

.....



Bu gezegenleri hayaline göre boya ve isim ver.




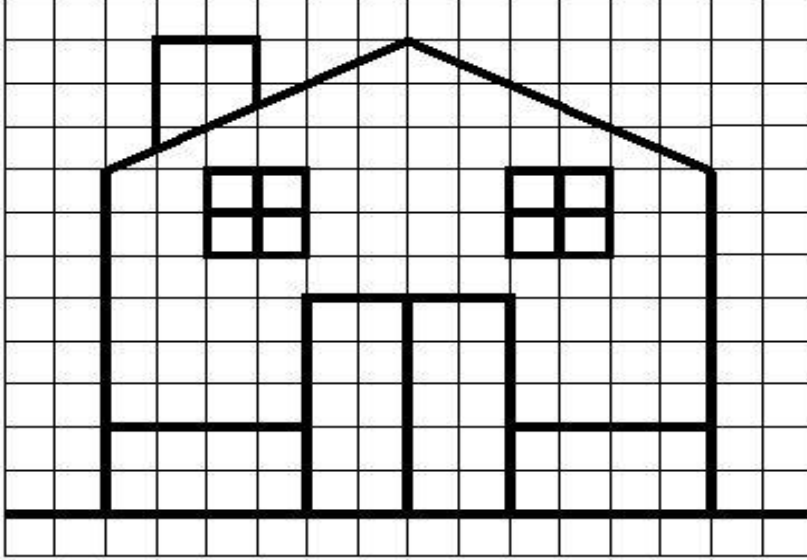
Problemler

1- Bir otel 24 katlıdır. Otelin her katında 16 oda vardır. Odalardan 145'i dolu ise boş oda sayısı kaçtır?

2- Üç basamaklı en büyük çift sayının 249 eksigi nedir?

3- Ayla 15 yaşındadır. Annesinin yaşı Ayla'nın yaşının 3 katından 9 fazladır. Ayla ile annesinin yaşları toplamı kaçtır?

AYNISINI ÇİZEBİLİRİM

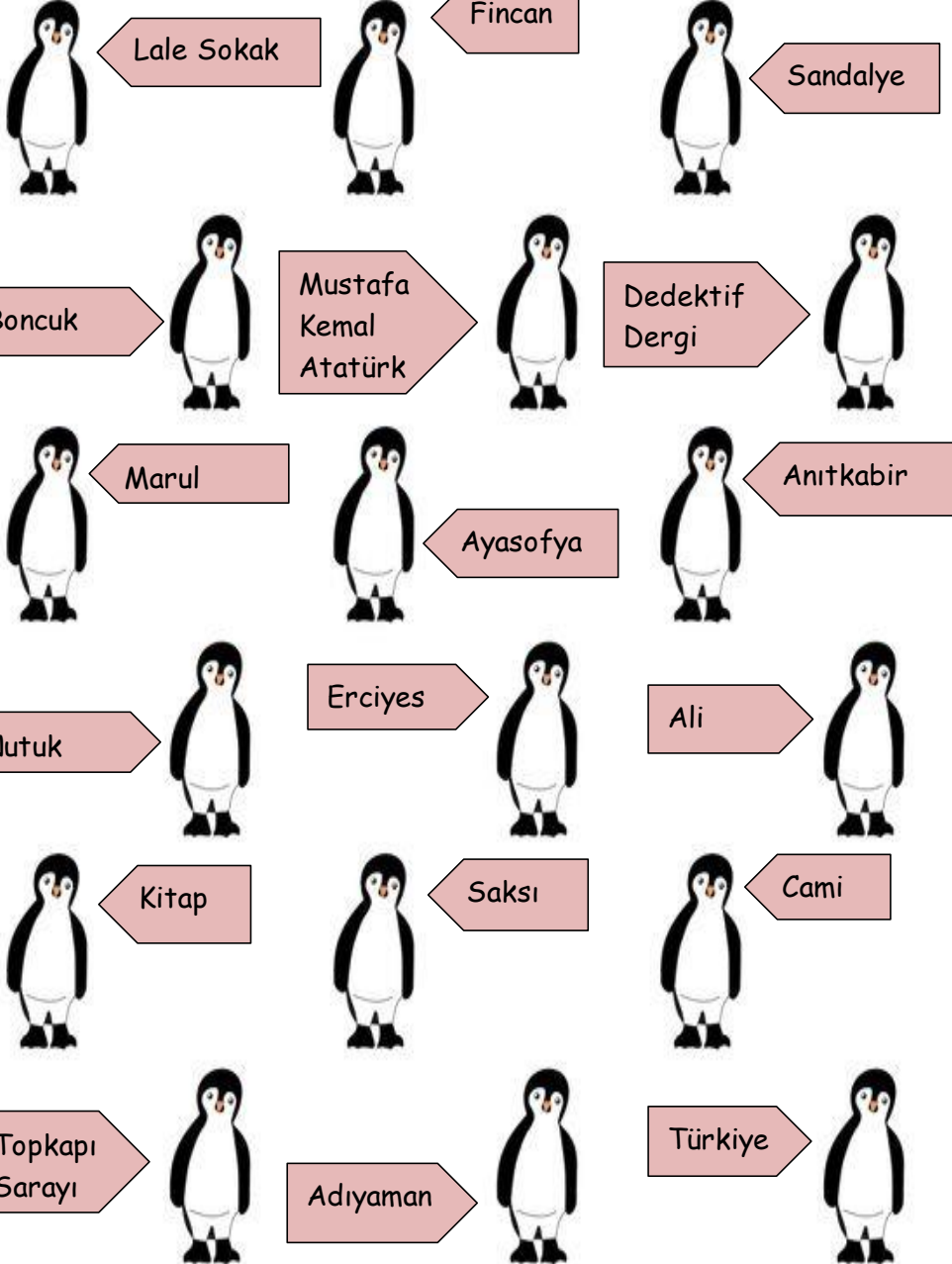


Problemleri defterimizde çözüp sonuçları buraya yazalım.

- 1- Her koliye 35 kutu meyve suyu konuldu. 21 koli hazırlanacağına göre kaç kutu meyve suyu kolilenmiştir? ()
- 2- Aysun'un 135 lirası var. Ablasının kumbarasında ise Aysun'un parasının 7 katı para birikmiş. Ablasının kaç lirası vardır? ()
- 3- Bir çiftlikte 12 koyun, 27 tavuk var. Bu hayvanların ayaksayıları toplamı kaçtır?()
- 4- Selim 16 yaşında ve Yaşar'ın yaşı Selim'in yaşının 5 katından 4 eksiktir. Selim ve Yaşar'ın yaşları toplamı kaçtır?()
- 5- Bir trende 9 adet vagon bulunmaktadır. Her bir vagona ise 47 yolcu vardır. Bu trene 65 yolcu daha binmiştir. Trende son durumda kaç yolcu olmuştur?()
- 6- 23 sayısının 9 katının 51 eksiği kaçtır? ()
- 7- Bir fırıncı 650 tane ekmek yaptı. Sabah 150 tane ve akşam ise sabah sattığının 2 katı kadar ekmek sattı. Bu fırıncının kaç tane ekmeği kalmıştır? ()
- 8- Her gün 150 soru çözen Ali, bir haftada kaç soru çözmüş olur? ()
- 9- 600 koyunun 329 tanesi satıldı. Geriye kalan koyunların 123 tanesini de hayır kurumlarına verdiler. Geriye kaç koyun kaldı? ()
- 10- 85 deste gülün 15 düzinesi kurudu. Geriye kaç adet gülkaldı? ()

TÜR ADI MI, ÖZEL AD MI?

Aşağıdaki kelimelerden tür adı olanların yanındaki penguenlerin karınlarını sarı boyayalım.



DOĞRU- YANLIŞ

- Aşağıda verilen bilgilerden doğru olanların başındaki kutuya D, yanlış olanların başındaki kutuya Y yazalım.

	Konuşan arkadaşımın yüzüne bakmam gerekmez.
	Aşırı şeker tüketimi sonucunda diyabet hastalığına yakalanabiliriz.
	Evde bütün işleri annelerin yapması gerekir.
	Kumbarasında para biriktiren Soner tutumlu davranmıştır.
	Bilinçli bir tüketici dondurulmuş gıdaları tercih etmez.
	Kaykay ve paten ana caddelerde kullanılabilir.
	Yangın olduğunda önce 155'i aramalıyız.
	Naim Süleymanoğlu, Cep Herkülü lakabıyla tanınmıştır.
	Zeytin en çok İç Anadolu Bölgesi'nde yetişir.
	Atatürk Selanik'te vefat etmiştir.

- BOŞLUKLARI DOLDURALIM**
- Oyunlarda davranmaya çalışırım.
- Bulduğumuz yerin krokisini çizerken yakınlardaki yerleri belirtiriz.
- Okulda katıldığımız sosyal ve kültürel etkinlikler sahibi olmamızı sağlar.
- Kurtuluş Savaşı toplumsal ve örnektir.
- Sosyal faaliyetler arkadaşlıkları
- Bir yerin kuşbakışı görünüşünü çizerken

yardımlaşmaya

tarafsız


kroki

geliştirir

dayanışmaya

öz güven

GİZLENEN NESNELERİ BUL - RESMİ BOYA



ÇIKARMA İŞLEMİNİ HATIRLAYALIM

İşlemleri yapmaya başlamadan önce süre tutmaya ne dersiniz? On dakikada hepsini doğru yapabilenler kendilerine bir yıldız boyayabilirler.



	$\begin{array}{r} +245 \\ 382 \end{array}$	$\begin{array}{r} +369 \\ 324 \end{array}$	$\begin{array}{r} +489 \\ 105 \end{array}$	$\begin{array}{r} +381 \\ 309 \end{array}$	$\begin{array}{r} +150 \\ 612 \end{array}$	$\begin{array}{r} +387 \\ 109 \end{array}$
1	$\begin{array}{r} -401 \\ 247 \end{array}$	$\begin{array}{r} -912 \\ 329 \end{array}$	$\begin{array}{r} -833 \\ 288 \end{array}$	$\begin{array}{r} -701 \\ 466 \end{array}$	$\begin{array}{r} -660 \\ 109 \end{array}$	$\begin{array}{r} -500 \\ 257 \end{array}$
2	$\begin{array}{r} +464 \\ 379 \end{array}$	$\begin{array}{r} +284 \\ 324 \end{array}$	$\begin{array}{r} +195 \\ 505 \end{array}$	$\begin{array}{r} +371 \\ 173 \end{array}$	$\begin{array}{r} +398 \\ 602 \end{array}$	$\begin{array}{r} +295 \\ 327 \end{array}$
	$\begin{array}{r} -501 \\ 247 \end{array}$	$\begin{array}{r} -708 \\ 349 \end{array}$	$\begin{array}{r} -878 \\ 298 \end{array}$	$\begin{array}{r} -904 \\ 456 \end{array}$	$\begin{array}{r} -800 \\ 109 \end{array}$	$\begin{array}{r} -702 \\ 249 \end{array}$
3	$\begin{array}{r} +395 \\ 368 \end{array}$	$\begin{array}{r} +276 \\ 437 \end{array}$	$\begin{array}{r} +164 \\ 736 \end{array}$	$\begin{array}{r} +387 \\ 413 \end{array}$	$\begin{array}{r} +368 \\ 245 \end{array}$	$\begin{array}{r} +405 \\ 398 \end{array}$
	$\begin{array}{r} -901 \\ 137 \end{array}$	$\begin{array}{r} -804 \\ 319 \end{array}$	$\begin{array}{r} -778 \\ 288 \end{array}$	$\begin{array}{r} -601 \\ 436 \end{array}$	$\begin{array}{r} -900 \\ 224 \end{array}$	$\begin{array}{r} -818 \\ 188 \end{array}$
4	$\begin{array}{r} +205 \\ 409 \end{array}$	$\begin{array}{r} +594 \\ 27 \end{array}$	$\begin{array}{r} +166 \\ 209 \end{array}$	$\begin{array}{r} +286 \\ 529 \end{array}$	$\begin{array}{r} +208 \\ 299 \end{array}$	$\begin{array}{r} +369 \\ 272 \end{array}$
	$\begin{array}{r} -801 \\ 247 \end{array}$	$\begin{array}{r} -868 \\ 332 \end{array}$	$\begin{array}{r} -608 \\ 309 \end{array}$	$\begin{array}{r} -501 \\ 436 \end{array}$	$\begin{array}{r} -610 \\ 137 \end{array}$	$\begin{array}{r} -621 \\ 476 \end{array}$