

Ad Soyad:.....  
Sınıfı:.....  
Numarası:.....

## ÇİTA

Çita, hızlı koşmasıyla tanınan, benekli kürkü olan, yırtıcı bir hayvandır. Zaten adını da benekli anlamına gelen "çitraka" sözcüğünden alır.



Aslanlar gibi grup halinde avlanmazlar. Yüksek hızlarının avantajını kullanarak, tek başlarına avlanırlar. Saatte yüz kilometrelik hıza, üç saniyede ulaşırlar. Yani bir yarış arabasından daha hızlıdırlar. Fakat bu hızda en fazla dört yüz atmış metre koşabilirler. Çünkü vücut ısıları artar. Aşırı ısı, beyinlerine zarar verir.

❖ İlk üç soruyu metne göre cevaplayınız.

1- Çitalar isimlerini nereden almışlardır ?

- A) Uzun kulaklarından dolayı bu ismi almışlardır.  
**B) Benekli anlamına gelen "çitraka" sözcüğünden dolayı bu ismi almışlardır.**  
C) İyi koku aldıkları için bu ismi almışlardır.  
D) Hızlı koştukları için bu ismi almışlardır.



2- Çitalar neden grup halinde avlanmazlar?

- A) Hızlı oldukları için grup halinde avlanmazlar.**  
B) Çünkü çok cesurlardır.  
C) Çok acıkmadıkları için grupta avlanmazlar.  
D) Tek dolaşmayı sevdiikleri için, tek avlanırlar.

3- Çitalar, neden uzun süre hızlı koşamazlar?

- A) Çünkü çabuk yorulurlar.  
B) Çünkü üşengeç hayvanlardır.  
C) Çünkü kasları müsaade etmez.  
**D) Çünkü vücut ısıları yükselir ve aşırı ısı beyinlerine zarar verir.**



Düşündüren Soru



Yan tarafta yazan "Çita" isimli metni, sizin gibi Ahmet de okudu. Çitalar ile ilgili bilgiler çok hoşuna gitti. Hemen bilgisayar başına oturdu. İlginç olan başka bilgiler bulmak istiyordu.



Arama motoruna "ilginç bilgiler" yazdı. Ama istediği kadar sonuç bulamadı. Arama motorundan, "ilginç" sözcüğünün eş anlamlısı ile arama yaptırmaya karar verdi.



Arama motoruna ..... yazdı. İsteddiği sonuçlara ulaştı.

4- Ahmet, son olarak arama motoruna hangi sözcükleri yazmıştır?

- A) Faydalı bilgiler  
B) Gizli bilgiler  
**C) Enteresan bilgiler**  
D) Saçma bilgiler



5- Aşağıdaki seçeneklerden hangisinde "-ki" eki yanlış yazılmıştır?

- A) Benimki bugün çok yorulmuş.  
 B) Baktımki olmuyor, bende bıraktım.  
 C) Bendeki bu zeka kimde var?  
 D) Ondaki paraları sen al.



Enes

Oya Teyzenin evi bu mu acaba?



Aras

TBMM'nin açılışı 23 Nisan 1920'dir.



Ecrin

Ayşe Çorum'lu olduğunu söylemiş?



Kerim

Buldum! Elifler ile okula gidelim.

6- Yukarıdaki çocuklardan her biri , birer tümce söylemiş. Ama bazı çocukların tümcelerinde kesme işaretinin kullanımı ile ilgili yanlışlıklar var. Hangi çocukların tümcelerinde yanlışlık yoktur ?

- A) Enes ve Ecrin      B) Aras ve Ecrin  
 C) Kerim ve Ecrin       D) Aras ve Kerim

7- Aşağıdaki tümcelerin hangisinde " uzay " sözcüğünün eş anlamlısı kullanılmıştır?

- A) Ahali, olan biteni görünce çok şaşırmıştı.  
 B) Yıldızlar bu gece çok parlak.  
 C) Güneş sandığımdan daha büyükmüş.  
 D) Feza , sonu olmayan bir boşluktur.

- Bu işe bende çok üzüldüm.
- Anladım ki boşa uğraşmışım.
- Berat da gelecekmış bizimle.
- Oraya sen de gelecek misin?
- Akşam Arif de oradaymış.
- Çantadaki paraları sen al.



8- Yukarıdaki tümcelerin bazılarında "-de" ve "-ki" ekinin yazılışıyla ilgili hatalar yapılmıştır. Bu tümcelerin kaç tanesinde yazım yanlışı vardır ?

- A) Bir      B) İki      C) Üç      D) Dört

1. çocuk

Çok soğuk gıdalar bizi hasta eder.

2. çocuk

Arkadaşlarım bana çok soğuk davrandı.

3. çocuk

Hava öyle soğuk ki , soğuktan tir tir titredim.

9- Yukarıda "soğuk" sözcüğünün kullanıldığı tümceler yazılıdır. Çocukların "soğuk" kelimesini hangi anlamıyla kullandığı , hangi seçenekte doğru olarak verilmiştir?

1. çocuk

2. çocuk

3. çocuk

- |                                     |        |        |        |
|-------------------------------------|--------|--------|--------|
| A)                                  | Mecaz  | Mecaz  | Gerçek |
| B)                                  | Gerçek | Gerçek | Gerçek |
| <input checked="" type="radio"/> C) | Gerçek | Mecaz  | Gerçek |
| D)                                  | Mecaz  | Gerçek | Mecaz  |



10- Yukarıdaki sözcüklerin kaç tanesi es sesli kelimedir ?

- A) Bir B) İki C) Üç **(D) Dört**

11- Hangi tümcenin sonuna farklı bir noktalama işareti konulmalıdır ?

- A) Biraz ekmek verir misin  
B) Sana da makarna vereyim mi  
**(C) Çabuk buraya gel dedim sana**  
D) Biraz daha alsam mı acaba



12- " Avucunu yalamak " deyimi hangi anlamda kullanılır?

- A) Çok temiz olmak  
**(B) Umduğunu bulamamak**  
C) Çok acıkmak  
D) Canı çok sıkılmak



Ben çiçeklerden en çok gülü severim. Bu güzel kokulu çiçeği , yüzüme sürerim.




13- Yukarıdaki tümcelerde kaç tane eş sesli kelime vardır ?

- A) Bir B) İki **(C) Üç** D) Dört

14- " El üstünde tutmak " deyimi hangi anlamda kullanılır?

- A) Oyun oynatmak  
B) Boş yere uğraşmak  
C) Hiç sevmemek  
**(D) Çok değer vermek**



15- I. Bugün " Don Kışot" adlı eseri okudum.

II. Sen " hemen gelmelisin " buraya.

III. Atatürk " Geldikleri gibi giderler. " dedi.

IV. Onun gelmeyeceğini " Ayşe " söyledi.

Tırnak işaretinin doğru kullanıldığı tümceler hangileridir?

- A) I ve II B) III ve IV C) I ve IV **(D) I ve III**



makas  
çirkin  
mutlu  
kapalı  
penguen  
futbol

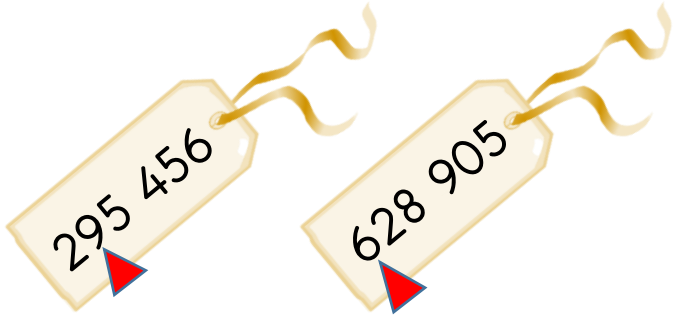
16- Yukarıdaki kelimelerin kaç tanesinin zıt anlamlısı yoktur ?

- (A) Üç** B) Dört C) Beş D) Altı



Türkçe dersi sınavı bitti.

Matematiğe geçiniz.



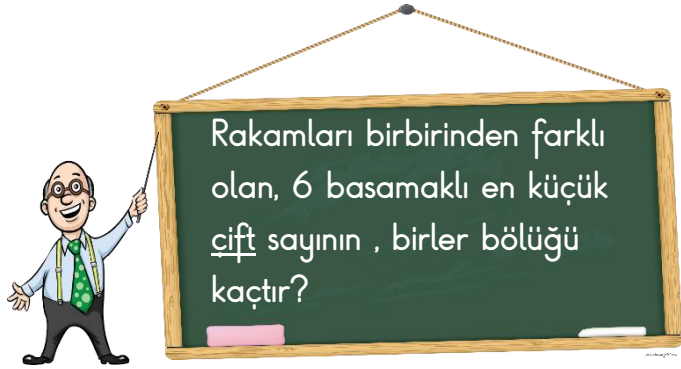
1- Yukarıdaki doğal sayılarda , bazı basamaklar işaret ile gösterilmiştir. İşaret ile gösterilen basamaklardaki sayıların, basamak değerlerinin toplamı kaçtır?

- A) 15    B) 96    C) 96 000    **D) 690 000**

Üç yüz iki bin iki

2- Yukarıda okunuşu verilen doğal sayının , rakamlar ile yazılışı hangisidir?

- A) 32 002    B) 3022  
**C) 302 002**    D) 690 000

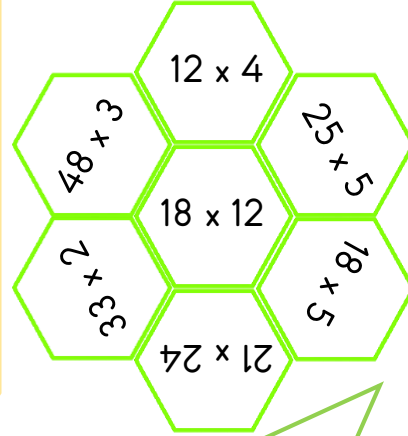


3- Öğretmenin tahtaya yazdığı sorunun cevabı nedir ?

- A) 354    B) 345    **C) 346**    D) 102



Düşündüren Soru



ÇARPMACI ARI

Çarpmaları tek tek yapıyorum. Sonuçları 100 'den büyük olan işlemlerin sonuçlarını, toplamacı arıya götürüyorum.




TOPLAMACI ARI

Çarpmacı arının getirdiği , çarpımları (yani 100 'den büyük olan çarpımları ) kovanın içine koyuyorum.


4- Toplamacı arının kovanındaki sayıların toplamı kaçtır ?

- A) 485  
 B) 504  
 C) 216  
**D) 989**





5- Çiçeğin yapraklarında yazan sayılardan , en yakın onluğa yuvarlandığında " 7900 " eden sayıları bulalım. Bu sayıların olduğu yaprakları turuncu renge boyayalım. Sonuç , aşağıdaki seçeneklerdeki çiçeklerden hangisi olur?



A < 12 548

B < 6547

6- A sayısının yerine yazılabilecek en büyük çift sayı ile B sayısının yerine yazılabilecek en büyük sayının toplamı kaçtır ?

- A) 19 093 B) 19 092 C) 12 546 D) 6546


2154 + 3564 =

1588 + 2142 =

7- Yukarıdaki toplama işlemlerinin en yakın onluğa yuvarlanarak , tahmini sonuçları bulunuyor. Bulunan tahmini sonuçların toplamı kaç olur ?

- A) 9440 B) 9441 C) 9442 D) 9443

8- Yan taraftaki uçaklarda, beş ve altı basamaklı sayılar yazılıdır. Bu sayıları küçükten büyüğe doğru sıralarsak, sıralama nasıl olur?



1. sayı

2. sayı

3. sayı

4. sayı

- A) 125 215 100 210 75 987 35 123  
 B) 125 215 75 987 100 210 35 123  
 C) 35 123 75 987 100 210 125 215  
 D) 75 987 35 123 100 210 125 215

$$\begin{array}{r} 265 \\ \times 24 \\ \hline \end{array}$$

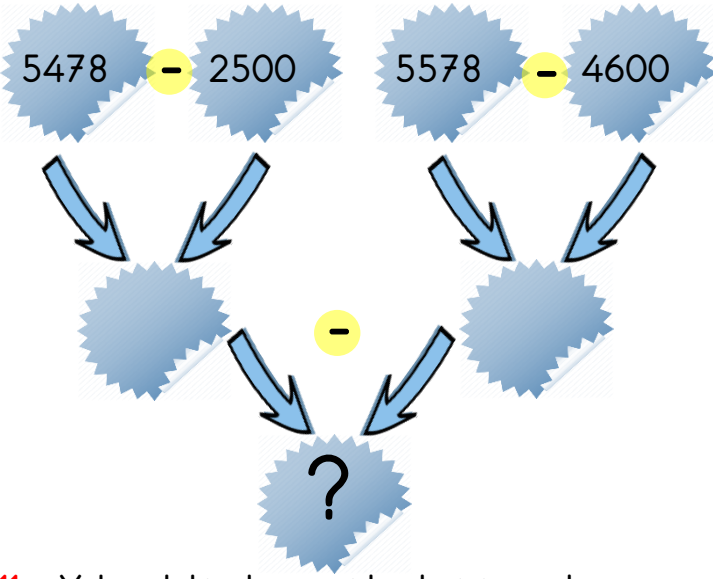
$$\begin{array}{r} 225 \\ \times 36 \\ \hline \end{array}$$

9- Yukarıdaki çarpma işlemlerinin sonuçlarının , farkı kaçtır?

- A) 1770 B) 1740 C) 6330 D) 8100

10- Aşağıdaki işlemlerden hangisinin sonucu en küçüktür?


- A) 980 - 50 B) 790 - 60  
 C) 756 - 100 D) 654 - 200



11- Yukarıdaki çıkarma işlemlerini sırayla çözersek , "soru işareti " olan bölümü kaç buluruz?

- A) 2156 (B) 2000 C) 3000 D) 978

$$\begin{array}{r} 564 \\ \times 45 \\ \hline \square\square\square\square \\ - \square\square\square\square \\ \hline \square\square\square\square \end{array}$$



12- Çarpma işlemini yaparsak,  $\square + \square = ?$  işleminin sonucu kaç olur?

- A) 8 B) 9 (C) 10 D) 11

13- "  $4526 - 2592 =$  işleminin , en yakın yüzlüğe yuvarlanarak, tahmini sonucu kaçtır?

- A) 1940  
(B) 1900  
C) 1500  
D) 2360



$$\begin{array}{r} 14\ 868 \\ - 3\ 786 \\ \hline 11\ 082 \end{array}$$



14- Yukarıdaki tahtada bir problemin çözümü yapılmış. Çözümü yapılan bu problem aşağıdaki seçeneklerden hangisinde verilmiştir?

- A) Osman'ın 14868 TL parası var. 3786 TL daha kazanırsa kaç TL parası olur ?  
B) Tanesi 3876 liradan 12 tane bilgisayar sattım. Kaç liram oldu?  
(C) 14868 tane elmanın 3786 tanesi çürüdü. Geriye kaç elmam kaldı?  
D) Çuvalda 3786 cevizim var. Bu cevizlerin iki katı kaç eder?

15- Yan taraftaki çarpma işleminin sonucunu bulalım. Çıkan sonucun binler bölüğü kaç olur?

$$\begin{array}{r} 862 \\ \times 35 \\ \hline \square\square\square\square \\ - \square\square\square\square \\ \hline \square\square\square\square \end{array}$$

- (A) 30 B) 31 C) 170 D) 180

16- Yan taraftaki çıkarma işleminin sonucunu bulalım.  $K + M + N = ?$  işleminin sonucu kaç olur?

$$\begin{array}{r} 5N60 \\ - K4M5 \\ \hline 3905 \end{array}$$

- A) 6 B) 7 C) 8 (D) 9

Matematik dersi sınavı bitti.

Fen Bilimlerine geçiniz.





- I - Dünya'nın en sıcak katmanı dış çekirdektir.
- II - Yanar dağlardan püsküren lavlar , manto katmanından gelir.
- III - Çekirdeğin diğer adı ağır küredir.
- IV - Çekirdek katmanının üzerinde yerkabuğu bulunur.

1- Bilmiş kurbağanın vermiş olduğu bilgilerden hangileri yanlıştır ?

- A) I ve II B) II ve III **C) I ve IV** D) III ve IV

2- Hangisi sigaranın sağlığa olan zararlı etkilerinden birisi değildir ?

- A) Kansere yakalanma riskini artırır.  
 B) Kalp krizi riskini artırır.  
**C) İşitme kaybına neden olabilir.**  
 D) Akciğerlere zarar verir.



Binlerce yıl öncesinde yaşamış canlıların , kayalar arasında kalarak , taşlaşmış kalıntılarıdır.

3- Meraklı kaşif kağıdında yazan bilgiyi okuyor. Ama bahsedilen varlığın ne olduğunu bulamıyor. Kağıtta bahsedilen varlığın adı nedir?

- A) Kayaç B) Maden **C) Fosil** D) Çakıl



Düşündüren Soru

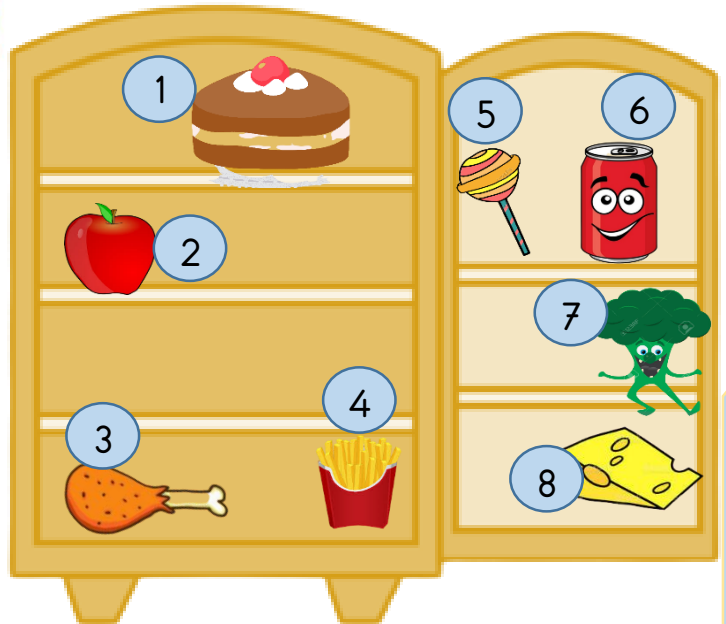


Dengeli beslenmediğin için çok kilo almışsın Gürbüz . Kilo vermek için karbonhidrat tüketimini azaltmalısın. Vitamin içeren ve protein içeren gıdaları daha fazla tüketmelisin.

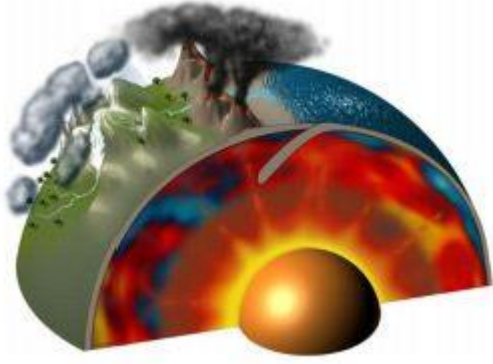


4-

Doktorun Gürbüz'e söylediklerini okudunuz. Gürbüz , aşağıdaki buzdolabından, kaç numaralı besinleri tüketebilir?



- A) 1-2-3-4 B) 1-4-5-6  
**C) 2-3-7-8** D) 3-4-7-8



5- Yanar dağ patlamaları nasıl oluşur ?

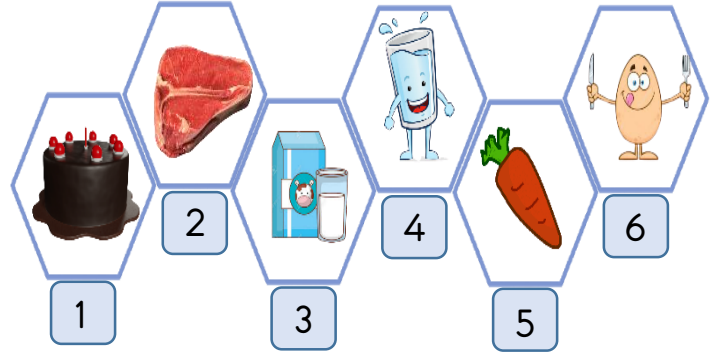
- A) Atmosferi geçen gök taşlarının , yeryüzüne çarpması ile oluşur.
- B) Manto tabakasındaki sıcak ve sıvı lavların, yerkabuğunda bulunduğu çatlaklardan, yeryüzüne çıkmalarıyla oluşur.**
- C) Dış çekirdekten gelen sıcak lavların yeryüzüne çıkmalarıyla oluşur.
- D) Yerkabuğundaki çatlakların kırılmasıyla oluşur.

6- Aşağıdaki seçeneklerde verilen besinlerden , hangisi daha uzun ömürlüdür ?




7- Hangisi alkol, uyuşturucu ve sigarayla mücadele etmek için kurulan bir kuruluştur ?

- A) AKUT B) LÖSEV
- C) KIZILAY **D) YEŞİLAY**



8- Kaç numaralı besinler yapıcı ve onarıcı içeriğe sahiptirler ?

- A) 1-3-5 **B) 2-3-6** C) 1-2-5 D) 2-3-5



9- Dünya'nın dönme ve dolanma olarak iki hareketi vardır. Aşağıdakilerden hangisi Dünya'nın dolanma hareketinin bir sonucudur ?

- A) Gece ve gündüzün oluşması.
- B) Günlük sıcaklık farklarının oluşması.
- C) Dünya'nın farklı yerlerinde farklı gece-gündüz saatlerinin yaşanması.
- D) Mevsimsel sıcaklık farklarının oluşması.**

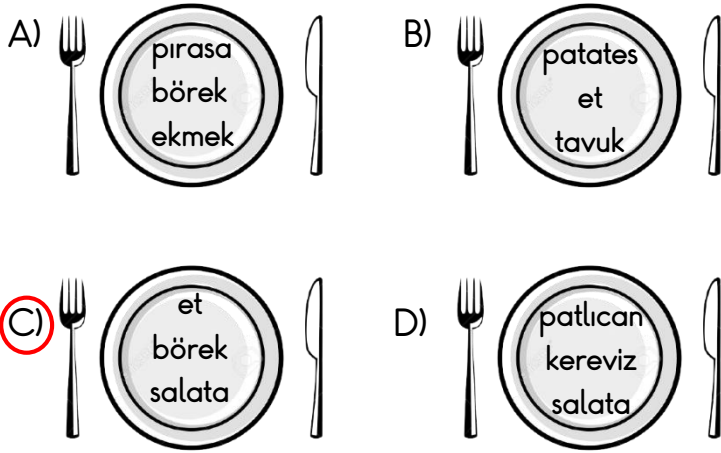
10- Besin gruplarından hangilerinin içeriğinde , daha fazla vitamin vardır?

- A) Sebze** B) Baklagiller
- C) Et D) Su



**BİLGİ:** Her besin , farklı bir besin içeriğine sahiptir. Bu nedenle, tabağımızdaki besinler, farklı besin içeriklerine sahip yiyeceklerden oluşmalıdır.

11- Yukarıda verilen bilgiye göre , aşağıdaki tabaklardan hangisi , dengeli beslenen birisinin tabağıdır ?



12- Hangi besini kışın tüketirsek , mevsimindeki kadar sağlıklı olmaz ?

- A) Mandalina  
B) Portakal  
C) Ayva  
D) Karpuz



- Kayaçlar farklı renkte ve sertlikte olabilir.
- Ekonomik değeri olan kayaçlara maden denir.
- Kayaçlar ve madenler manto tabakasında bulunur.
- Çakıllar parçalanıp toprağa dönüşürler.
- Kayalardan kopan küçük parçalara çakıl denir.

13- Yukarıda verilen bilgilerin doğru olanlarının yanına "D" , yanlış olanlarının yanına "Y" yazarsak , sıralama nasıl olur ?

- A)  Y  Y  D  D  Y
- B)  D  D  Y  D  D
- C)  Y  D  Y  D  D
- D)  D  Y  Y  Y  D

14- Madenlerin işlenmemiş haline ne denir ?

- A) Çakıl B) Kaya  
C) Ham madde D) Ham çakıl

Fen Bilimleri sınavı bitti.



Sosyal Bilgiler dersine geçiniz.

1- Aşağıdaki oyunlardan hangisi , hem geçmişte hem günümüzde oynanan oyunlardan değildir ?

A)



B)



**C)**



D)



2- Aşağıdakilerden hangisi kimlik belgesi olarak kullanılamaz ?

A) Pasaport

**B)** Karne

C) Nüfus cüzdanı

D) Sürücü belgesi



3- Milli Mücadele'de yaşanan olayları kronolojik sıraya koyarsak , hangisi ilk sıraya yazılmalıdır ?

A) Erzurum Kongresi'nin yapılması.

B) Sakarya Meydan Savaşı'nın kazanılması.

C) Mudanya Barış Antlaşması'nın imzalanması.

**D)** Atatürk'ün Amasya'ya gitmesi.



Düşündüren Soru



Öğretmeni Mine'den "kültürümüze ait yemekler" konulu bir araştırma yapmasını istiyor.

Mine, annesinden yardım alarak bu ödevi yapıyor. Türkiye haritası üzerinde , yörelerimize ait yemekleri göstermeye karar veriyorlar.



4-

Mine haritada belirtilen şehirlerin meşhur yemeklerini ödevine yazmış. Hangi şehre hangi yemeği yazabilir ?

İnegöl



Adana

Kayseri

G. Antep

- A) Köfte Baklava Manti Kebap  
 B) Manti Baklava Kebap Köfte  
**C)** Köfte Kebap Manti Baklava  
 D) Kebap Manti Baklava Köfte

5- Aşağıdaki görsellerden hangisi bizim kültürümüze ait bir sporu yansıtır?



6- Hayatımızı kronolojik bir sıraya koyarsak , hangisi en sonda yer alır ?

- A) Dişimizin çıktığı ilk gün  
B) Okula başladığımız ilk gün  
C) Okumaya başladığımız ilk gün  
D) Uzaktan eğitim yaptığımız ilk gün



- I. Atatürk'e "Mareşallik" rütbesi ve "Gazi" unvanı, Sakarya Meydan Savaşı'ndan sonra verilmiştir.  
II. Batı Cephesi'nin komutanı Kazım Karabekir'dir.  
III. Doğu Cephesi'nde Ermeniler ile savaşıldı.  
IV. Milli cemiyetler Sivas Kongresi ile tek çatı altında toplandı.

7- Yukarıda verilen ifadelerden hangileri doğrudur ?

- A) I - II ve III  
B) I - III ve IV  
C) II - III ve IV  
D) I ve III

Olaylara başkalarının gözüyle bakmaya empati denir.

Sadece güçlü olduğumuz yönlerimizi geliştirmeliyiz.

Diğer insanların farklılıklarına saygı duymak zorunda değiliz.

Diğer insanları olduğu gibi kabul etmeli , onlara saygı duymalıyız.


8- Kutularda yazan bilgilerden hangileri doğrudur ?

- A) ve   
B) ve   
C) ve   
D) ve



9- Milli Mücadele ile ilgili verilenlerden hangisi doğrudur ?

- A) Antalya ve Konya civarı İngilizler tarafından işgal edilmiştir.  
B) Batı Cephesi'nin ilk savaşı 2. İnönü Savaşı'dır.  
C) Milli Mücadele 19 Mayıs 1919'da Atatürk'ün Samsun'a çıkmasıyla başladı.  
D) Güney Cephesi'nde Ruslar ile savaştık.



Yere çizilen kutuların içerisine rakamlar yazılır. Çocuklar ellerindeki küçük taşı kutuların içerisine atmaya çalışırlar. Eğer başarabilirler ise tek ayaklarıyla sıçrayarak oyuna başlarlar. Çizgiye basan ve dengesini kaybeden yanar.

10- Yukarıda bahsedilen oyunun adı nedir?

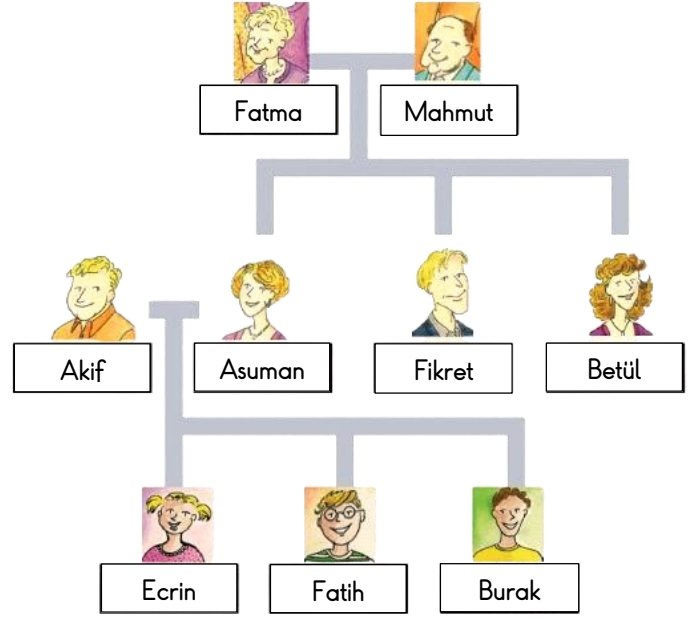
- A) Yerden yüksek      B) Topaç çevirme  
C) Saklambaç      **D) Sek sek**

11- Atatürk, Samsun'a çıktktan sonra bazı illerimizde toplantılar yapmıştır. Atatürk'ün toplantılar yaptığı bu illerimizi, Atatürk'ün o illere gidiş sırasına göre yazınız ?

- A) Amasya, Erzurum, Sivas, Ankara**  
B) Sivas, Amasya, Erzurum, Ankara  
C) Amasya, Ankara, Erzurum, Sivas  
D) Erzurum, Amasya, Ankara, Sivas

12- Milli Mücadele, isimsiz birçok kahraman sayesinde kazanıldı. Kastamonu yöresinde, İnebolu'dan Kastamonu'ya kağınyla cephan taşıyan ve donarak şehit olan kahramanımızın adı nedir ?

- A) Şahin Bey  
B) Nene Hatun  
**C) Şerife Bacı**  
D) Hasan Tahsin



13- Yukarıdaki soy ağacına göre, hangi bilgi yanlış verilmiştir?

- A) Fatih'in dedesi Mahmut'tür.  
B) Akif Fikret'in eniştesidir.  
C) Betül Burak'ın teyzesidir.  
**D) Fikret Ecrin'in amcasıdır.**

14- Mahmut, Akif'in neyi olur?

- A) Babası      B) Abisi  
**C) Kayın babası**      D) Dayısı

Sosyal Bilgiler sınavı bitti.

İngilizce dersine geçiniz.



Fatma:

- Ceren, ..... you like chocolate ?

Ceren :

- Yes .... do. I ..... eating chocolate.

1- Boşluklara hangi sözcükleri yazmalıyız ?

A) You are - I - am B) She is - the - you

C) Do - I - like D) Like - you - do




2- Çocuğun söylediği tümce ,aşağıdakilerden hangisi olabilir ?

- A) My name is Ahmet  
B) I don't like doing puzzles  
 C) I can do this puzzle  
D) I can play football

3- " Ben İngiltereliyim." tümcesinin İngilizce söylenişi, aşağıdakilerden hangisidir ?

- A) I am a teacher .  
B) My name is Meltem  
C) Good night  
 D) I am from England.



4- Yukarıdaki çocuğun söylediği tümce , aşağıdakilerden hangisi olabilir ?

- A) I am Bilal.  
 B) I like flying a kite.  
C) Do you like eating apple?  
D) How are you ?



5- Yukarıdaki bayraklar hangi ülkelere aittir ?

- A) Germany - Spain - Brazil  
B) USA - England - Russia  
C) China - Pakistan - Netherlands  
D) Turkey - Bulgaria - Libya

İngilizce sınavı bitmiştir.  
Din Kültürü dersine  
geçiniz.

سُبْحَانَكَ اللَّهُمَّ وَبِحَمْدِكَ ۞ وَتَبَارَكَ اسْمُكَ ۞ وَتَعَالَى جَدُّكَ  
(وَجَلَّ ثَنَاؤُكَ) \* وَلَا إِلَهَ غَيْرُكَ ۞

Sübhâneke Duası	Anlamı
Sübhâneke Allahümme ve bihamdik.	Allah'ım! Sen bütün eksikliklerden, noksanlıklardan ve kusurlardan uzaksın, seni daima böyle tenzih eder ve överim.
Ve tebarakesmük.	Senin adın mübarektir.
Ve teâlâ ceddük.	Varlığın her şeyden üstündür.
(Ve celle senâük.)*	Senin övgün yücedir.
Ve lâ ilâhe ğayrük.	Senden başka ilah yoktur.

1- Sübhanek duasında okunan bölümlerden birisi, sadece cenaze namazlarında okunur. Bu bölüm hangisidir ?

- A) Ve tebarakesmük  
B) Ve la ilahe ğayrük  
C) Sübhanek Allahümme ve bihamdik  
D) Ve celle senâük

( ... ) Sübhanek bir ayet değil , duadır.

( ... ) İslam'ın beş şartı vardır.

( ... ) Kelime-i Şahadet getirmek İslam'ın şartlarından birisi değildir.

( ... ) Namaz sadece ekonomik durumu iyi olan müminlere farzdır.

2- Bu bilgilerin doğru olanlarına "D", yanlış olanlarına ise "Y" koyarsak , cevap hangisi olur?

- A) 

D
D
Y
D

 B) 

D
Y
Y
D

 C) 

Y
D
Y
D

 D) 

D
D
Y
Y

3- Sınava girecek bir öğrenciye aşağıdakilerden hangisi söylenebilir ?

- A) Allah kavuştursun.  
B) Allah mesut etsin.  
C) Allah bildiği gibi yapсын.  
D) Allah zihin açıklığı versin.



4- Aşağıda , İslam'ın beş şartından dördü verilmiştir. Hangisi diğer ibadetlerden daha sık yapılmalıdır ?

- A) Hacca gitmek  
B) Zekat vermek  
C) Namaz kılmak  
D) Oruç tutmak



5- Sübhanek duası ile ilgili , aşağıdakilerden hangisi söylenemez?

- A) Peygamberimizin( s.a.v ) duasıdır.  
B) Namazlarda okunur.  
C) Cenaze namazlarında okunur.  
D) Kuran-ı Kerim'de bulunan ayetlerden birisidir.

SINAV BİTMİŞTİR



Cevaplarınızı kontrol ediniz.