



ADI SOYADI:.....

SINIFI:.....

NUMARASI:.....

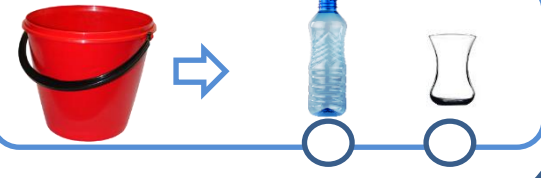
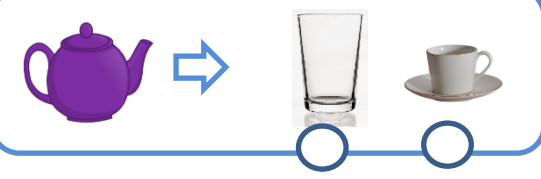
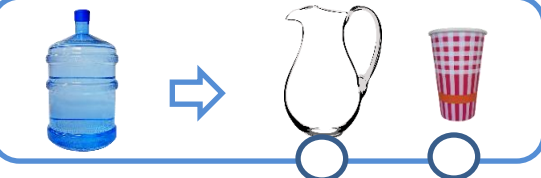
SIVILARI ÖLÇME 1



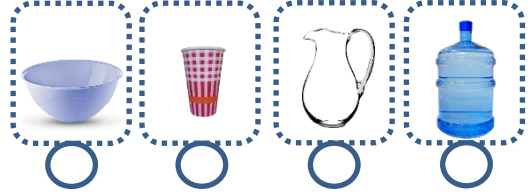
Aşağıdaki cümleleri "az" ve "çok" kelimeleri ile tamamlayalım.

- * Bardak fincandan daha sıvı alır.
- * Fincan bardaktan daha sıvı alır.
- * Fincan sürahididen daha sıvı alır.
- * Sürahi bardaktan daha sıvı alır.

Aşağıda verilen kaplar hangisi ile daha çabuk dolar işaretleyelim.



Aşağıdaki resimlerde verilen kapları, en çok sıvı alandan ez az sıvı alana doğru numaralandıralım.



Aşağıdaki resimlerde verilen kapları, en az sıvı alandan en çok sıvı alana doğru numaralandıralım.



Aşağıdaki bulutlarda ismi yazılı olan maddelerden sıvı olanları boyyalım.

