



HOŞ GELDİN RAMAZAN



HACİVAT - Aman Karagöz'üm, beni bazen kızdırsan da seni görünce rahatlıyorum, Nasılsın?

KARAGÖZ - Teşekkür ederim, iyiyim Hacı Cavcav!

HACİVAT - Hayrola, kendi kendine niye gülüp duruyorsun?

KARAGÖZ - Başıma gelenleri hatırladıkça gülmeden edemiyorum. Hah hah hah!

HACİVAT - Hah hah hah! Demek seni bu kadar çok güldürecek kadar tuhaf şeyler oldu.

KARAGÖZ - Pataklarım ha, sen gülme!

HACİVAT - Canım nasıl gülmeyeyim, baksana çok komikmiş...

KARAGÖZ - Köftehor, daha beni dinlemeye başlamadan neye gülüyorsun?

HACİVAT - Tamam efendim, gülmüyorum. Haydi anlat?

KARAGÖZ - Biliyorsun, Ramazan gelince benim dededen kalma davulu köşesinden çıkarıyorum.

HACİVAT - İyi yapıyorsun Karagöz'üm! Davulsuz Ramazan tuzsuz yemeğe benziyor.

KARAGÖZ - İyi ya, ben de ilk günden davulumu gümbürdettim ki Ramazan şenlenir oldu.

HACİVAT - Aferin, eline koluna sağlık! Sonra?

KARAGÖZ - Dinleyeceksen çenenı kapat Hacı Cavcav!

HACİVAT - Kapattım!

KARAGÖZ - Dün de davulumu sırtlayıp düştüm yollara... Komşu mahallede kapı numarası ile başlayıp salladım tokmağı...

HACİVAT - Aman çal davulu Karagöz'üm, çal ki şu güzel Ramazan âdetimiz unutulmasın!

KARAGÖZ - Pataklarım ha, yine çenen açıldı!

HACİVAT - Canım efendim, verdiğin bilgilere senin adına seviniyorum da konuşmadan edemiyorum.

KARAGÖZ - Davulun sesi bir güzel çıkıyor ki Hacı Cavcav, keyfime değme gitsin!

❖ *Aşağıdaki soruları metne göre cevaplayalım.*

1. Karagöz'ün davulu ona kimden kalmıştır?

.....
.....

2. Hacivat, Karagöz'ün davulu çalmasını neden çok istiyor?

.....
.....

3. Hacivat davulsuz Ramazan'ı neye benzetiyor?

.....
.....

❖ *Aşağıdaki kelimelerin anlamlarını bulup cümle içinde kullanalım.*

adet

Anlamı:

Cümle:

tuhaf

Anlamı:

Cümle:

❖ Aşağıda karışık olarak verilen kelimelerden anlamlı ve kurallı cümleler oluşturalım.

inanıyorum günlerin yakında güzel olduğuna

açtı kırlar gelişyle baharın çiçek

dolar içim ayında huzurla Ramazan

❖ Aşağıdaki kelimelerden sözlük sırasına doğru konmuş olanları altına ✓ işareti koyalım.

4 kutu
1 kulak
3 kutlu
2 kuruluk

2 tarak
1 tarla
4 terlik
3 tekerlek

3 eski
2 eksi
1 eksik
4 esmer

3 bulut
1 bulanık
2 bulmaca
4 demlik

❖ Aşağıdaki cümlelerdeki altı çizili kelimelerin eş anlamlılarını kullanarak cümleleri tekrar yazalım.

➤ Dün akşamki vaka gözümüzün önünde oldu.

.....

➤ Bu düğünü yapacak başka mekan yok muydu?

.....

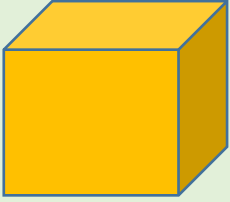
➤ Olaya karışan kişileri hemen teşhis ettim.

.....

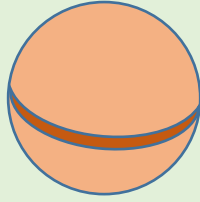
➤ Söylediklerimin senin için hiç mi kıymeti yok?

.....


❖ Aşağıda geometrik cisimlerle ilgili verilen bilgilerden doğru olana (D) yanlış olana (Y) yazalım.



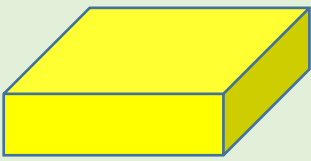
- (.....) Cismin adı küptür.
- (.....) 8 köşesi vardır.
- (.....) Ayrıt sayısı 8'dir.
- (.....) 6 Yüzü vardır.
- (.....) Her bir yüzü karedir.



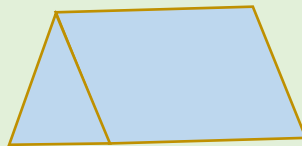
- (.....) Cismin adı küredir.
- (.....) 2 köşesi vardır.
- (.....) Ayrıt yoktur.
- (.....) 1 Yüzü vardır.
- (.....) Her bir yüzü dairedir.




- (.....) Cismin adı silindirdir.
- (.....) 4 köşesi vardır.
- (.....) Ayrıt sayısı 5'dir.
- (.....) 3 Yüzü vardır.
- (.....) İki yüzü daire, bir yüzü dikdörtgendir.



- (.....) Cismin adı dikdörtgen prizmadır.
- (.....) 8 köşesi vardır.
- (.....) Ayrıt sayısı 12'dir.
- (.....) 8 Yüzü vardır.
- (.....) Her bir yüzü karedir.

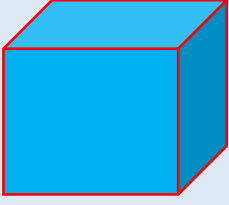


- (.....) Cismin adı üçgendir.
- (.....) 6 köşesi vardır.
- (.....) Ayrıt sayısı 9'dur.
- (.....) 5 Yüzü vardır.
- (.....) Yüzlerinden 2'si üçgen, 3'ü dikdörtgendir.




- (.....) Cismin adı konidir.
- (.....) 1 köşesi vardır.
- (.....) Ayrıt yoktur.
- (.....) 2 Yüzü vardır.
- (.....) Yüzlerinden biri daire, biri eğridir.


❖ Aşağıdaki boşlukları uygun şekilde dolduralım.



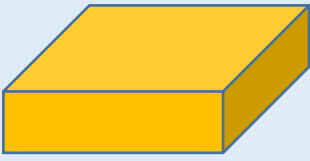
Köşe sayısı →
 Ayrit sayısı →
 Yüz sayısı →



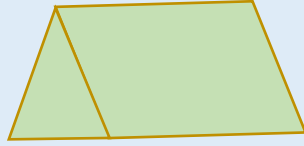
Köşe sayısı →
 Ayrit sayısı →
 Yüz sayısı →



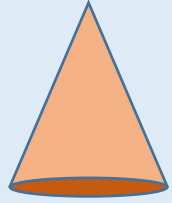
Köşe sayısı →
 Ayrit sayısı →
 Yüz sayısı →



Köşe sayısı →
 Ayrit sayısı →
 Yüz sayısı →



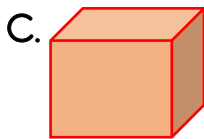
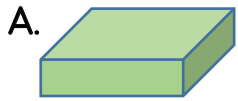
Köşe sayısı →
 Ayrit sayısı →
 Yüz sayısı →



Köşe sayısı →
 Ayrit sayısı →
 Yüz sayısı →

❖ Aşağıdaki soruları cevaplayalım.

1. Aşağıdaki geometrik şekillerden hangisini kullanarak dikdörtgen çizemeyiz?



2. Hangi geometrik cismin eğri bir yüzü yoktur?

A. Silindir

B. Koni

C. Küre



3. Yukarıdaki geometrik şekil aşağıdakilerden hangisinin bir yüzü olabilir.

A. Koni

B. Küre

C. Üçgen prizma

4. Hangi geometrik cismin dikdörtgen bir yüzü yoktur?

A. Silindir

B. Üçgen prizma

C. Küp

❖ *Aşağıdaki boşlukları uygun kelimelerle dolduralım.*



- Çevremizle uyum içinde ve sağlıklı bir şekilde yaşamamızın şartı çevremizi tutmaktır.
- Beslenme ve barınma gibi ihtiyaçlarımızı giderdiğimiz yer evimizdir.
- İnsanlar tarafından yapılan çocuk parkları çevreyi oluşturur.
- Çevremizin yaşanabilir kalması için kullandığımız atıkları dönüştürebilmeliyiz.
- Yakın çevremizde en fazla vakit geçirdiğimiz yerlerden birisi de dur.
- Su, hava ve kirliliği yaşadığımız çevreyi en çok etkileyen durumlardır.
- Yaşadığımız çevreyi bir çok ortak olarak kullanırız.

❖ *Aşağıdaki bilgilerden doğru olanlara (D), yanlış olanlara (Y) yazalım.*

- (...) Kâğıtları geri dönüştürmek aynı zamanda ormanları korumaktır.
- (...) Çevre temizliği insanları kendi temizliğine dikkat etmesiyle başlar.
- (...) Yedi Göller ülkemizdeki doğal anıtlardan biridir.
- (...) Doğal anıt ve milli parklar doğal çevreye örnek verilebilir.
- (...) Kaz Dağları ülkemizin bilinen milli parklarındanıdır.

❖ *Aşağıdaki atıkların gitmeleri gereken kutu numaralarını altlarına yazalım.*



❖ *Aşağıdaki boşlukları uygun kelimelerle dolduralım.*

seçimlerde

en iyi

bilimsel

vatanımıza

askere

kendimize

vergi

- Atatürk "Vatanını en çok seven işini yapandır." Demıştır.
- Türkiye Cumhuriyeti vatandaşı olan her erkek giderek vatani görevini yapar.
- İyi bir eğitim alarak çalışmalarda bulunmak ülkemize karşı sorumluluğumuzdur.
- Her Türk vatandaşı vererek ülkesine karşı sorumluluğunu yerine getirir.
- On sekiz yaşını doldurmuş her Türk vatandaşı oy kullanır.
- Görev ve sorumluluklarımızı yerine getirmek hem hem de fayda sağlar.

❖ *Aşağıdaki bilgilerden doğru olanlara (D), yanlış olanlara (Y) yazalım.*

- (...) Ortak kullanım alanlarının temizliği bizi ilgilendiren bir durum değildir.
- (...) Okul ve hastane gibi ortak kullanım alanlarına kendi evlerimize gösterdiğimiz özeni göstermeliyiz.
- (...) Evimizdeki mutfak, banyo ve tuvalet gibi bölümler vatandaşların ortak kullanım alanıdır.
- (...) Ortak kullanım alanlarından faydalanırken başkalarının haklarına saygı göstermeliyiz.

❖ *Aşağıdaki soruları cevaplayalım.*

1. Aşağıdaki mekânlardan hangisi çocukların daha az kullandığı ortak kullanım alanıdır?

A. Cami

B. Park


C. Okul

2. Ortak kullanım alanlarıyla ilgili verilen ifadelerden hangisi hatalıdır?

A. Okul tuvaletlerini kirli bırakmak arkadaşlarımızımıza karşı haksızlıktır.

B. Parkta salınacağı ilk kapan istediği kadar biner.

C. Otobüslere binerken sıramızı beklemeliyiz.



3. Yukarıdaki görselde yer alan ortak kullanım alanını insanlar hangi amaçla kullanır?

A. Sağlık

B. Spor

C. İbadet

4. Aşağıdakilerden hangisi spor amaçlı kullandığımız bir mekân değildir?

A. Otogar

B. Stadyum

C. Spor salonu